

第一部分 言语理解与表达

本部分包括表达与理解两方面的内容。请根据题目要求，在四个选项中选出一个最恰当的答案。

请开始答题：

1. 在中国古代的哲学思想里，人该与自然节奏和天地韵律沆瀣一气，追求与宇宙合一；既然“节”是天地时气的交合之处，是“天”、“地”的节奏，自然也该是“人”的节奏，是连通自然节奏与人生命运的“节点”。

“自然也该是‘人’的节奏”这句话中的“自然”意为（ ）。

- A. 当然
B. 那么
C. 天地自然
D. 都可能

2. 真诚永远都像镜子一样，当你真诚面对公众时，公众肯定会读到你的真诚；即便你存在错误和自己没有发现的过失，那可能是智力问题，或者是现有的行为模式和智力结构所无法避免的，公众也会原谅。

本句的主旨是（ ）。

- A. 无论正确错误都应该真诚面对公众
B. 公众能读懂你的真诚
C. 真诚面对公众，公众会原谅你的错误
D. 真诚是镜子

3. 利己和利他相结合的集体主义，是利益主体处理各种利益关系的道德基础，也是培养青年利他行为必须坚持的道德原则，因为集体主义本身就会有利他性的自主意愿、行为方式和客观结果。

与这句话所述原则不相悖的观念是（ ）。

- A. 拔一毛利天下不为也
B. 死生有命，富贵在天
C. 人不独亲其亲，不独子其子
D. 将欲取之，必先予之

4. 荷兰作家布鲁马指出：“德国人理解二战的关键不是在斯大林格勒战役或柏林之战，而是在发现奥斯威辛集中营的那一刻；日本人的理解则不在珍珠港或中途岛之战，而是广岛原子弹。”对这句话理解不正确的一项是（ ）。

- A. 德国能够反思二战给别国人民带来的灾难
B. 日本能够认识到二战给本国人民带来的灾难
C. 日本认识到二战中美国人给自己带来的灾难
D. 日本在回避二战给别国人民造成的深重灾难

5. “人造太阳”的原理，就是在这台装置的真空室内加入少量的氢同位素氘或氚，通过类似变压器的原理使其产生等离子，然后提高其密度、温度使其发生聚变反应，产生巨大的能量。

“人造太阳”指（ ）。

- A. 由氢的同位素氘或氚组成的物质
B. 一间真空室
C. 一台装置
D. 会产生巨大能量的物质

6. 可燃冰是天然气水合物的俗称，它是一种天然气和水在低温、高压条件下结合形成的冰状白色固体物质，点火即可燃烧，主要成分是甲烷。科学家普遍认为，作为一种新型环保能源，可燃冰可能成为石油等传统能源的替代品，成为未来世界的主要能源。

对这个句子理解不正确的是（ ）。

- A. 可燃冰是点火即可燃烧的白色固体物质
B. 可燃冰外貌极似冰块，内含甲烷
C. 可燃冰是一种新型环保能源
D. 可燃冰是未来世界的主要能源

7. 无神论个人主义的时代也就是感觉的时代。但是，感觉最终不能证明自己，感觉必须通过外部刺激才能实现。正是在这里，消费的意义体现出来：消费能提供感觉所需要的外部刺激。通过消费，感觉得以证明自己，实现自己。而且，越是消费，人的感觉越是得以实现，于是，消费成为生命的主宰。其结果是，在消费这一万神之神的统领下，向自身家园展开全面而无限制的消费、消耗、浪费、透支、掠夺、猎杀、污染……

这段文字表达的观点是（ ）。

- A. 无神论个人主义的时代将社会消费引入歧途
B. 消费能为追求感觉者提供所需要的外部刺激
C. 感觉的时代引发大众消费社会的深层危机
D. 无限制的消费正在引发欲望和能量的膨胀
8. 经济学家试图从多方面来改进国民收入或国民财富的计量，近来在两个方面取得巨大进展，值得高度重视。首先是在国民财富的计算中考虑贫富差距，1998年获诺贝尔奖的印度经济学家阿马迪亚·森对贫穷问题研究最为深入，并设计了考虑贫富差距的社会经济发展指数，为联合国所采用。另一个重要发展以诺德豪斯为主要代表，充分考虑环境对国民财富的影响以及家务活动对国民财富的贡献。
- 在国民财富计量上的两项巨大进展是（ ）。
- A. 阿马迪亚·森和诺德豪斯
B. 考虑贫富差距和环境因素、家务活动
C. 考虑贫富差距和环境因素
D. 考虑环境因素和家务活动
9. 投资开放式基金不但会取得较高收益，还能达到合法避税的效果，由于基金获得的股息、红利及企业债的利息收入，由上市公司在基金派发时代扣代缴20%的个人所得税，因此，基金向个人投资者分配时不再代扣代缴个人所得税。目前，居民可以投资的开放式基金主要有股票型基金、债券型基金和货币型基金。以货币基金为例，目前货币基金的年收益虽然降到了2%左右，但考虑不纳税因素，仍然比一年期的税后储蓄收益高0.2个百分点。

这段文字主要说明的是（ ）。

- A. 居民投资开放式基金的种类
B. 投资开放式基金收益较高
C. 货币基金应考虑不纳税因素
D. 上市公司代扣代缴个人所得税
10. 近期，随着中国电力、煤炭等传统能源短缺问题的缓解，石油对中国经济增长的制约趋于减弱。据国际能源署今年5月份的估计，2005年中国石油进口需求增长预期由原来的15.4%下降到7.1%。这表明中国经济增长并不必定在任何时期都导致油价上涨。但从长期看，中国石油的进口需求将振荡上升，而国内的供给能力将缓慢下滑，2030年中国石油的进口需求可能高达75%以上。

从这段文字中不能得到的结论是（ ）。

- A. 中国政府的宏观调控成效显著
B. 石油对中国经济增长的压力趋于减弱
C. 中国经济增长并不必定在任何时期都导致油价上涨
D. 从长期看，中国石油的进口需求将振荡上升

美国国防部高级研究计划局正在实行名为“高级语音编解码”的计划，目的是利用非声响传感器来取代麦克风。通过探测说话者的神经和肌肉活动将其所说的话“翻译”出来，而不再将声波转换为电波然后还原成声音。目前两套类似的系统正在研制中。

其中一套由马萨诸塞州伍斯特工学院的布朗开发，所使用的传感器被称为“调谐电磁共鸣项圈”。说话人将其戴在脖子上，利用核磁共振成像技术，传感器可以探测到说话时声带的波动变化。即使背景环境很嘈杂，也能将所说的“话”清晰地传送到对方的耳朵里。

另一套系统由美国航空航天局艾姆斯实验室研发。同样是将作为肌电传感器的电极戴在颈部，来探测说话过程中电阻的变化。探测到的数据经处理后确定为相应的单词模式，然后再将单词模式发送至计算机声音合成仪。即使说话人不出声地默诵，系统也能够看穿其心中所想，充当一个理想的（“传声筒”）。

据悉，布朗已经研制出“调谐电磁共鸣项圈”原型。肌电传感器的原型也将于 2008 年面世。如果测试成功，这一技术对于执行秘密任务的士兵，处于嘈杂环境中的机组成员或船员或水下工作者来说意义非凡。也许有一天，这些军用技术转为民用后，我们再也不用在闹市或者公共汽车上对着手机不顾形象地大喊大叫，在图书馆或者电影院也能够“无声”交谈而不至于招来白眼了。不过惟一的缺憾是，听筒里传来的将是计算机合成的模拟声音。

11. “高级语音编解码”传递话语通过（ ）。
 - A. 调谐电磁共鸣项圈和肌电传感器
 - B. 麦克风
 - C. 神经活动
 - D. 肌肉活动
12. “高级语音编解码”传感器感知话语的方式是（ ）。
 - A. 说话时声带的波动变化
 - B. 说话过程中电阻的变化
 - C. 单词模式背景环境
 - D. 说话中的声波变化或电阻变化
13. 文中括号部分中的“传声筒”为何用引号（ ）。
 - A. 名实不符，非“传声”
 - B. “传声筒”是焦点
 - C. 表示引用
 - D. 表示强调
14. “高级语音编解码”的关键技术是（ ）。
 - A. 传递话语不再依赖声波
 - B. 交谈可以只想不说
 - C. 用计算机模拟声音
 - D. 传递话语不需要传感器
15. “高级语音编解码”目前使用情况是（ ）。
 - A. 美国军用
 - B. 美国军民都用
 - C. 发达国家者都用
 - D. 尚未使用

第二部分 数量关系

在这部分试题中，每道题呈现一段表述数字关系的文字，要求你迅速、准确地计算出答案。

请开始答题：

16. -1, 2, 11, 38, ()
A. 119
B. 133
C. 121
D. 117
17. 4, 11, 30, 67, ()
A. 121
B. 128
C. 130
D. 135
18. -2, 14, 6, 10, 8, ()
A. 4
B. 7
C. 9
D. 10
19. 1, 2, 7, 13, 49, 24, 343, ()
A. 35
B. 69
C. 114
D. 238
20. $1/16, 2/13, 2/5, 8/7, 4, ()$
A. $19/3$
B. 8
C. 16
D. 32
21. $-2^2 \times 2^{-1} + \frac{\sqrt{2}}{(\tan 30^\circ + \cos 45^\circ)^0} = ()$ 。
A. -2
B. $-2 + \frac{\sqrt{6}}{3}$
C. $1 + \frac{\sqrt{6}}{4}$
D. $-2 + \sqrt{2}$
22. $231 \times 597 + 403 \times 769 + 597 \times 769 + 231 \times 403 = ()$ 。
A. 45597
B. 1×10^5
C. 1×10^6
D. 95769
23. $\frac{962543 - 620127}{843678 - 672470} \times \frac{125}{\sqrt[3]{5 \times (3^2 + 4^2)}} = ()$ 。
A. 27.5
B. 36
C. 41.25
D. 50
24. $\frac{1}{2 \times 3} + \frac{1}{3 \times 4} + \frac{1}{4 \times 5} + \dots + \frac{1}{99 \times 100}$ 的值为 ()。
A. $1/2$
B. $99/100$
C. $49/100$
D. $51/100$
25. 某商品原价 100 元，3 月价格下降了 10%，4 月价格又开始上涨，5 月价格上涨到了 108.9 元，4、5 两个月该商品的价格平均每月上涨了多少个百分点？ ()
A. 5
B. 10
C. 11
D. 15
26. 盒中有 4 个白球 6 个红球，无放回地每次抽取 1 个，则第二次取到白球的概率是 ()。

第三部分 判断推理

一、类比推理。每道题先给出一组相关的词，要求你在备选答案中找出一组与之在逻辑关系上最为贴近、相似或匹配的词。

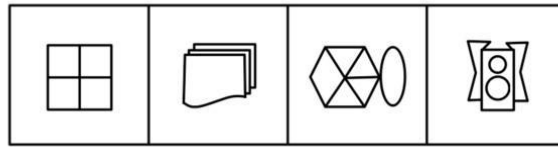
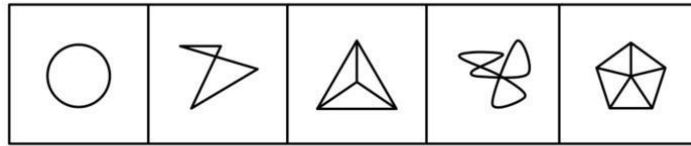
请开始答题：

36. 狗：尾巴
A. 山：山脚
B. 木头：窗户
C. 蓝天：白云
D. 鞋子：脚
37. 动物：鸟
A. 森林：树
B. 植物：水稻
C. 床：木头
D. 江苏：南京
38. 小篆：隶书
A. 魏碑：法帖
B. 诗经：豳风
C. 唐诗：宋词
D. 四书：尚书
39. 红灯：绿灯
A. 整数：非整数
B. 高尚：伟大
C. 算术：算盘
D. 民主：暴政
40. 鞭挞：抨击
A. 架空：排挤
B. 斧正：修改
C. 数落：列举
D. 水印：胶印
41. 雪泥鸿爪：大雁
A. 虾兵蟹将：老鳖
B. 丧家之犬：猫
C. 劳燕分飞：老鹰
D. 狼奔豕突：猪
42. 有氧运动：燃烧脂肪
A. 网络文学：文化入侵
B. 光速飞行：钟慢尺缩
C. 克隆技术：基因重组
D. 行业垄断：通货膨胀
43. 《平凡的世界》：路遥
A. 《京华烟云》：梁实秋
B. 《射雕英雄传》：金庸
C. 《编辑部的故事》：李冬宝
D. 《围城》：杨绛
44. 成功：水到渠成
A. 喜悦：一帆风顺
B. 焦虑：愁眉苦脸
C. 政治：大政方针
D. 谨慎：反复研究
45. 五台山：普陀山
A. 骆宾王：刘禹锡
B. 《红楼梦》：《桃花扇》
C. 程砚秋：盖叫天
D. 指南针：火药

二、图形推理。请按每道题的答题要求作答。

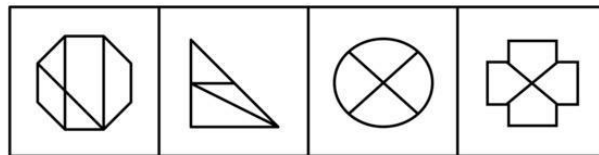
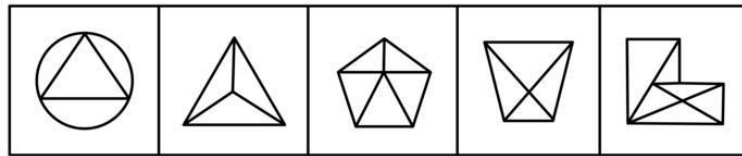
请开始答题：

46. 从所给的四个选项中，选择最合适的一个填入问号处，使之呈现一定的规律性（ ）。



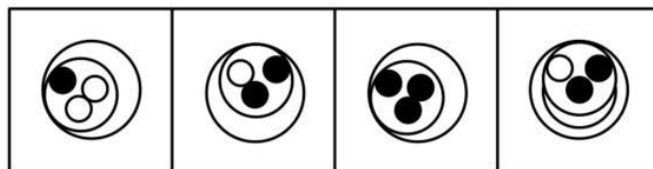
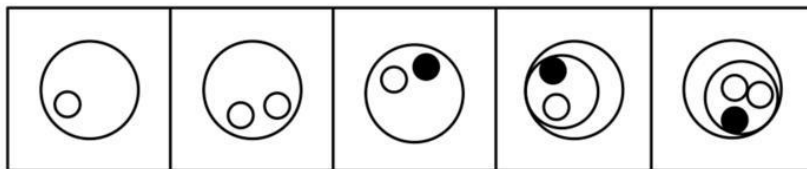
A B C D

47. 从所给的四个选项中，选择最合适的一个填入问号处，使之呈现一定的规律性（ ）。



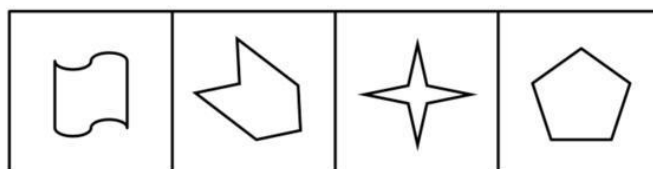
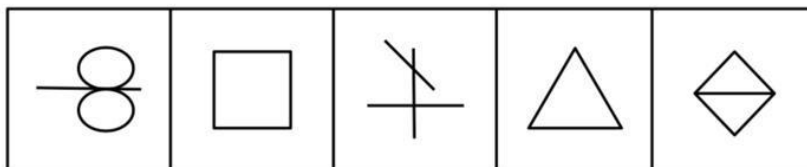
A B C D

48. 从所给的四个选项中，选择最合适的一个填入问号处，使之呈现一定的规律性（ ）。



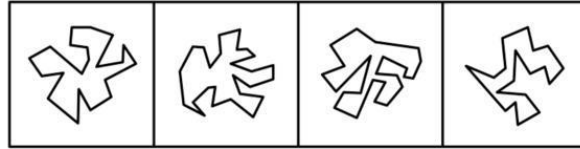
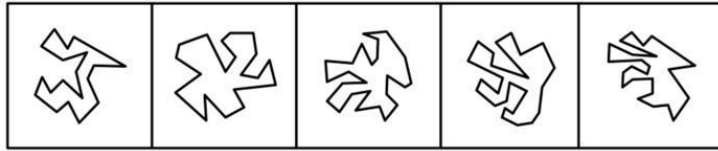
A B C D

49. 从所给的四个选项中，选择最合适的一个填入问号处，使之呈现一定的规律性（ ）。



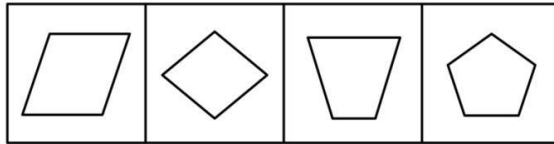
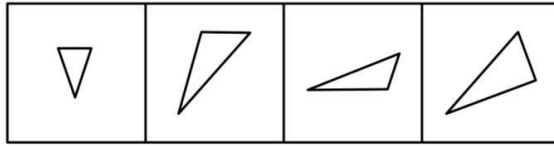
A B C D

50. 从所给的四个选项中，选择最合适的一个填入问号处，使之呈现一定的规律性（ ）。



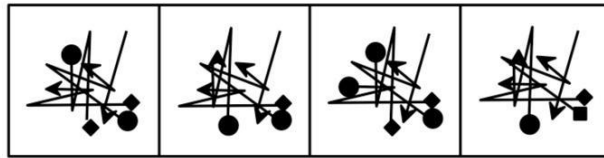
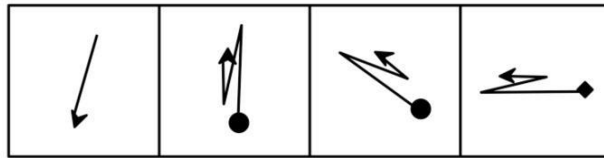
A B C D

51. A、B、C、D 四个选项中哪个可由上图拼接而成? ()



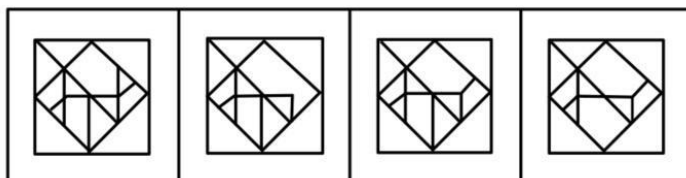
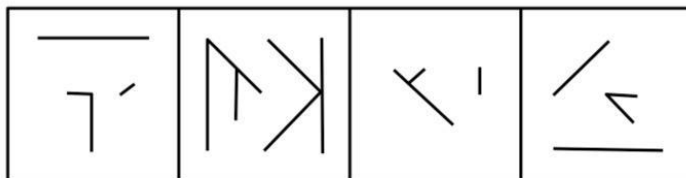
A B C D

52. 下面四个选项中, 哪个可由第一行的图形拼合而成? ()



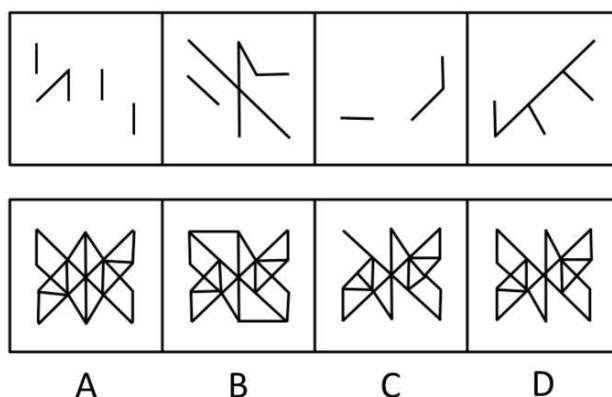
A B C D

53. 下面四个选项中, 哪个可由第一行的图形拼合而成? ()

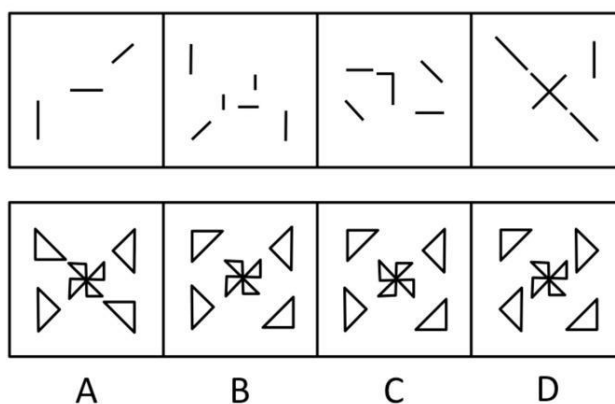


A B C D

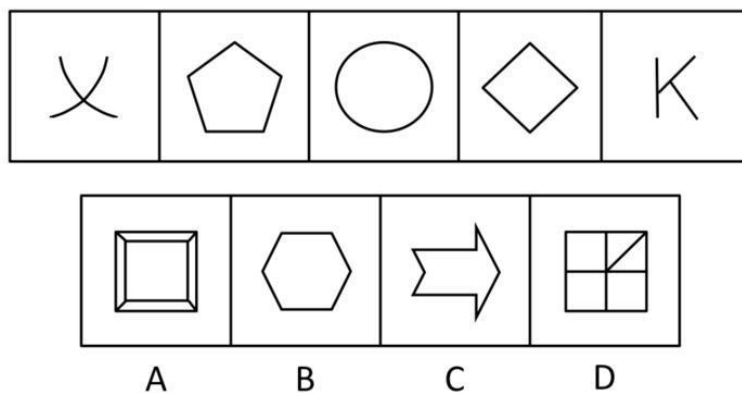
54. 下面四个选项中，哪个可由第一行的图形拼合而成？（ ）



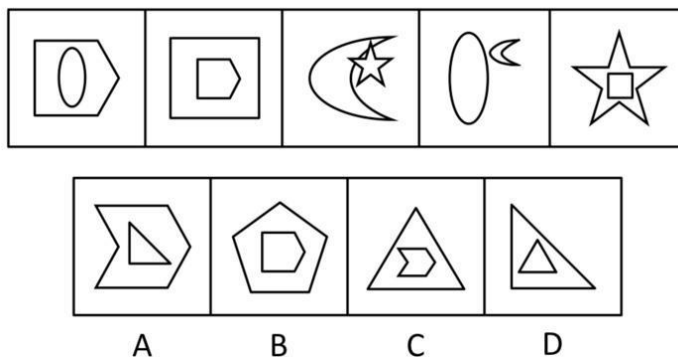
55. 下面四个选项中，哪个可由第一行的图形拼合而成？（ ）



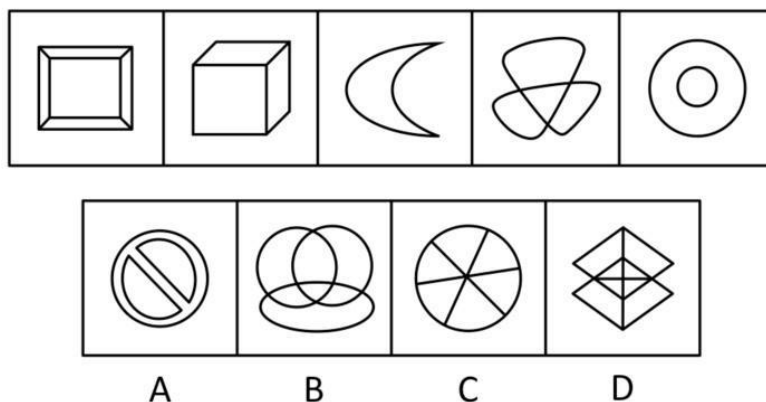
56. 从四个选项中选出一个不符合给定图形规律的一项（ ）。



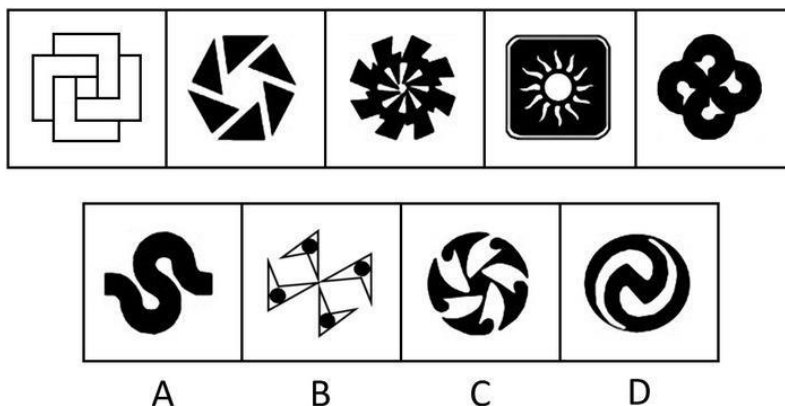
57. A、B、C、D四个选项中哪个不符合上边图形所呈现的规律（ ）。



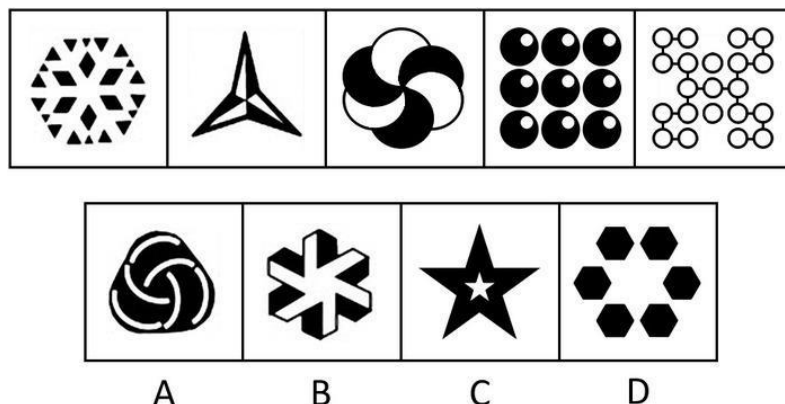
58. A、B、C、D 四个选项中哪个不符合上边图形所呈现的规律 ()。



59. A、B、C、D 四个选项中哪个不符合上边图形所呈现的规律 ()。



60. A、B、C、D 四个选项中哪个不符合上边图形所呈现的规律 ()。



三、逻辑判断。每道题给出一段陈述，这段陈述被假设是正确的，不容置疑的。要求你根据这段陈述，选择一个答案。注意：正确的答案应与所给的陈述相符合，不需要任何附加说明即可以从陈述中直接推出。

请开始答题：

61. 某公司领导根据员工小张、小李和小王的工作业绩，提出选派他们出国培训的两个相容的选择方案：

- (1) 小张和小李都不派出；
- (2) 派出小王。

综合考虑这两个方案，其意思可以表达为 ()。

A. 如果小王被派出，则小张和小李都要派出

进一步调查得知：他们四人的陈述如果是关于受害者的就是假的，如果是对其他人的就是真的。

由此可见，受害者是（ ）。

- A. 孝
B. 诚
C. 敢
D. 义

67. 在一项实验中，第一组被试验者摄入了大量的人造糖，第二组则没有吃糖。结果发现，吃糖的人比没有吃糖的人认知能力低。两组被试验者的认知能力在试验前是相当的。

这一实验说明（ ）。

- A. 人造糖肯定损害人的认知能力
B. 人造糖中所含的该种成分也存在于大多数日常食物中
C. 第一组被试验者摄入的糖的数量没有超出卫生部门规定的安全范围
D. 人造糖中所含的某种成分可能会影响人的认知能力

68. 某记者在某村委会看到理财小组正在理财。村支书告诉记者：“在我们村，凡没有盖‘三段章’的票据都不能看做合理的，凡合理的票据都不能再提出质疑。人们已经对某些票据提出了质疑。凡提出质疑的票据都要审核。有的合理的票据已经存档。”

从村支书的话中，我们可以推出（ ）。

- A. 盖“三段章”的票据都要存档
B. 有的需要审核的票据是不合理的
C. “三段章”民主理财制度密切了党群关系
D. 有的需要审核的票据是合理的

69. 湘君、国风 and 蒹葭是符合伦理规范的一个和谐家庭的三个成员。他们三人中，有湘君的父亲、国风惟一的女儿和蒹葭的同胞手足。蒹葭的同胞手足既不是湘君的父亲也不是国风的女儿。

由此可见（ ）。

- A. 湘君是男性，国风是女性，蒹葭是女性
B. 湘君是女性，国风是男性，蒹葭是男性
C. 湘君是女性，国风是女性，蒹葭是男性
D. 湘君是男性，国风是男性，蒹葭是女性

70. 有一段对话。

甲：“有的鱼类资源枯竭的地方正是环境遭到破坏的地方。”

乙：“如果某地领导不重视环境保护的话，该地环境就遭到破坏。”

丙：“不存在鱼类资源枯竭的地方，也不存在环境遭到破坏的地方。”

丁：“凡鱼类资源枯竭的地方都不是环境遭到破坏的地方。”

如果甲、乙、丙、丁四人中只有一人说错了，那么下面哪句话是真的？（ ）

- A. 有的地方的鱼类资源枯竭了
B. 某地环境遭到破坏
C. 某地领导不重视环境保护
D. 某地领导重视环境保护

71. 张三到某店买巧克力，店主领他看四个箱子，每个箱子上都写了句话。第一个箱子：“所有箱子中都有荔枝。”第二个箱子：“本箱中有苹果。”第三个箱子：“本箱中没有巧克力。”第四个箱子：“有些箱子中没有荔枝。”店主对张三说：“四句话中只有一句真话，您看巧克力在哪个箱子里？”

请替张三选择一个正确答案（ ）。

- A. 巧克力在第一个箱子里
B. 巧克力在第二个箱子里
C. 巧克力在第三个箱子里
D. 巧克力在第四个箱子里

72. 在一些地方，村民委员会组织法的相关规定没有得到真正落实，尤其是该法的一项重要精神——管理过程中采用监督和评议等手段制约村官滥用权力，远远没有落实到位。在这一背景下，一些村官疯狂贪污，村民维权困难，仅靠行政渠道的调查组或司法渠道的“两院”，可能不能解决问题。

下面哪句话最能削弱上述相关内容？（ ）

- A. 有的地方的村民委员会组织法的相关规定得到了真正落实
- B. 依靠行政渠道的调查组或司法渠道的“两院”必然不能解决村官贪污问题
- C. 我国村民委员会组织法的相关规定得到了真正落实
- D. 依靠行政渠道的调查组或司法渠道的“两院”有可能解决村官贪污问题

73. 有些理论很抽象，因此，有些抽象的理论不好懂。

为了使这个推理正确，必须补充以下哪项作为前提？（ ）

- A. 有些理论不好懂
- B. 所有不好懂的都是理论
- C. 所有理论都不好懂
- D. 所有理论都很好懂

74. 公司某科室四人聚餐。其中有两位女士：阿灵和谢礼；有两位男士：波桐和梨棠。他们都是公司职员：销售、会计、主管、联络。而且主管与联络是夫妻。他们围着方桌而坐：

- (1) 坐在波桐对面的是销售。
- (2) 坐在梨棠对面的不是主管。
- (3) 坐在阿灵左侧的是会计。
- (4) 坐在谢礼左侧的不是联络。

由此可见，联络是（ ）。

- A. 阿灵
- B. 谢礼
- C. 波桐
- D. 梨棠

75. 某商务公司中，晓华、光子和龙生担任着经理、副董事长和会计的职务（但不一定是上述顺序）：已知副董事长是个独生子，钱挣得最少；龙生与光子的姐姐结了婚，钱挣得比经理多。由此可见（ ）。

- A. 晓华是经理，光子是副董事长
- B. 光子是经理，龙生是副董事长
- C. 龙生是会计，晓华是经理
- D. 晓华是副董事长，龙生是会计

四、定义判断。每道题先给出定义，然后列出四种情况，要求你严格依据定义，从中选出一个最符合或最不符合该定义的答案。注意：假设这个定义是正确的，不容置疑的。

请开始答题：

76. 救助型社会保障制度：指国家通过建立健全社会保障的有关规章制度，保证每个社会成员在遇到各种不测事故时，能得到救助而不至于陷入贫困。对于已经处于贫困境遇的人们，则发给社会保障津贴，以维持其基本生活。

下列属于此种保障制度特征的一项是（ ）。

- A. 南京市政府决定提高最低生活保障金
- B. 所有适龄儿童都可以享受九年制义务教育
- C. 设立公积金，为退休人士提供社会保障
- D. 在各个社区设立老人保健中心，以便老人能在住所附近获得医疗照顾

77. 亚健康：指处于健康和疾病之间的一种临界状态，是介于健康和疾病之间的一个特殊阶段。

以下属于亚健康的一项是（ ）。

- A. 老张的父亲患有严重的老年痴呆症，在患病期间卧床不起，不能行走和说话
- B. 记者小王在“十运会”期间，由于采访任务繁重，身体的主要器官处于入不敷出的非正常负荷状态，过度疲劳，造成精力、体力透支
- C. 运动员在进行短跑或足球等无氧运动时，体内的血糖进行无氧分解提供能量，运动后肌肉里累积大量乳酸，引起肌肉痛

D. 桑兰是我国的一名体操运动员，她参加第四届世界友好运动会时，不幸失手严重摔伤，导致胸部以下完全瘫痪

78. 法律援助：指为维护公民的合法权益不受侵犯，对那些无经济能力聘请律师不能承担诉讼费用，但又需要法律帮助的公民给予资助或是无偿提供法律服务的一项制度。法律规定，公民在赡养、工伤、刑事诉讼、请求国家赔偿和请求依法发给抚恤金等方面需要获得律师帮助，但是无力支付律师费用的，可以按照国家规定获得法律援助。

下列不属于法律援助范畴的一项是（ ）。

A. 老费刷墙时由于脚手架不牢从高处摔伤，向包工头讨要医药治疗费未果，要将包工头告上法庭，但又无力承担律师费用

B. 青年小张由于 5 年前的杀人案件被错误判刑关进监狱，现在他被改判无罪释放。他出狱后一贫如洗，想请求国家赔偿

C. 60 岁的孙大妈没有任何收入，一儿一女从不给她生活费，她衣食没有着落，想把两子女告上法庭

D. 小车疲劳驾驶与一卡车追尾，脑部受伤，所有的钱都用于治疗且丧失了工作，他认为是卡车的责任，想要诉诸法律

79. 权利质押：指债务人或者第三人将其权利如债权、股权、著作权等作为债权的担保。

下列属于权利质押的一项是（ ）。

A. 王某欠张某 10 万元，将自己的汽车抵押给张某

B. 张某由于欠债，将自己的专利权作为清偿债务的担保

C. 老王将自己在公司的股份转让给儿子

D. 李某欠人 2 万元，将一张 2 万元的支票当作还款交给债权人

80. 灵感：指在文学、艺术、科学、技术等活动中，由于艰苦学习、长期实践，不断积累经验和知识而突然出现的富有创造力的思路。

下列诗句可以形象说明灵感的一项是（ ）。

A. 山重水复疑无路，柳暗花明又一村

B. 三顾频频天下计，两朝开济老臣心

C. 洛阳亲友如相问，一片冰心在玉壶

D. 千呼万唤始出来，犹抱琵琶半遮面

81. 定义：

①国家赔偿：是国家对公民、法人和其他组织因国家机关和国家机关工作人员违法行使职权行为致使其合法权益受到损害而给予赔偿的法律救济制度。

②行政补偿：是国家对公民、法人和其他组织因行政机关和行政机关工作人员合法行使职权行为或因公共利益需要致其合法权益受到损害而给予补偿的法律救济制度。

③精神损害赔偿：公民因其人身权利受到不法侵害，使其人格利益或身份利益受到损害而遭受精神痛苦的，可以通过法律程序，要求侵权人赔偿精神损害抚慰金。

典型例证：

(1) 王某因患淋病去某医院就医，该医院的张医生治愈了王某的病，并且以此作为案例在社区的卫生讲座上多次宣讲，造成王某家属亲戚对其的猜疑，王某感到精神压力很大，要求张医生停止宣讲并赔偿精神损失 10000 元

(2) 村民孙某入狱 11 年，后经法官调查查实，此属冤假错案，市人民检察院、中级人民法院承诺付孙某赔偿金人民币 222489.54 元，两机关各自负担 1/2。同时还决定：孙无罪释放，两赔偿机关应当在侵权影响范围内，为受害人消除影响，恢复名誉，赔礼道歉

(3) 湖北某市对该市禽流感疑似地区的家禽进行了捕杀，事后对饲养家禽的家庭实行鸡每只补偿 15 元，鸭每只补偿 18 元，鹅每只补偿 20 元，鸽子每只补偿 5 元的政策

上述典型例证与定义存在对应关系的数目有（ ）。

- A. 0个
- B. 1个
- C. 2个
- D. 3个

82. 定义：

①促进就业：国家为保障公民实现劳动权所采取的创造就业条件，扩大就业机会的各种措施的总称。

②安置就业：国家对谋求职业者进行统包统配，有政府强制性，求职者和用人单位必须服从。

③劳动就业：是指具有劳动能力和就业愿望的公民在法定劳动年龄内从事有一定劳动报酬或经营收入的社会劳动。

典型例证：

- (1)王先生是80年代的大学生，毕业后被分到东北工作
- (2)南京市有关部门多次举办军属和用人单位见面会，促进军属的就业
- (3)小刘从大学毕业后，一直没有工作，目前在家复习准备参加研究生考试

上述典型例证与定义存在对应关系的数目有（ ）。

- A. 0个
- B. 1个
- C. 2个
- D. 3个

83. 定义：

①义务：是指一定主体对社会及他人应尽的任务和责任。在现代社会中，义务更多的是表示一种现实的规范。

②良心：是指主体对他人和社会的道德责任感和自我评价，对是非的内心的正确认识。

③权利：法律保障公民应享有的权利和利益。

典型例证：

- (1)成年子女赡养父母
- (2)完成老师布置的作业
- (3)交警处罚违章机动车

上述典型例证与定义存在对应关系的数目有（ ）。

- A. 0个
- B. 1个
- C. 2个
- D. 3个

84. 定义：

①形象记忆：指以感知过的事物形象为内容的记忆。通常以表象形式存在，所以又称“表象记忆”。它是直接对客观事物的形状、大小、体积、颜色、声音等具体形象和外貌的记忆，直观形象性是其显著的特点。

②逻辑记忆：指以词语为中介、以逻辑思维成果为内容的记忆。概念、定理、公式、观点等都是事物的意义和特点、事物的内在规律和事物之间关系为内容，通过思维活动和借助于词语的作用，才能产生高度的概括和抽象，并在脑中留下印象。

③情绪记忆：指以个人体验过的某种情绪或情感为内容的记忆。情绪记忆往往保持终生不忘，如对人生有重大意义或体验深刻的事的记忆都属于情绪记忆。

典型例证：

(1)唐代才女张红红，记忆力特强，师从著名音乐家韦青。某乐工自编乐曲奏给韦青听，张在屏风后偷听。乐工奏毕，张即唱了出来，乐工越听越惊奇，赞叹不已

(2)托尔斯泰的小女儿回忆，有一次父亲指着一块地方说，这是他经常和兄弟们玩耍的地方，他希望死后能埋在这里。他只讲过一次，我记住了。他去世后，我就把他埋在了那里

第五部分 资料分析

针对下列图、表或文字回答问题。你应根据资料提供的信息进行分析、比较、计算、处理。你可以在题本上运算。

请开始答题：

一、根据以下资料，回答问题。

我国财政支农的比重一直偏低，进入 20 世纪 90 年代以来，呈下降趋势，1991~1997 年分别为 10.3%、10.0%、9.5%、9.2%、8.4%、8.8%、8.3%。农业财政支出占国家财政总支出的比例，仅为农业在国民生产总值中的比例的 1/3 至 1/2。这一定程度地削弱了农业发展的后劲，导致农民增收乏力，贫富差距逐渐增大。据统计，2002 年农民人均纯收入为 2476 元，城镇居民人均可支配收入为 7703 元。

在城乡居民收入差距扩大的同时，东西部农民收入差距也在扩大。20 多年来，在东部经济取得重大发展的同时，广大中西部地区的发展迟缓，与东部地区的差距越来越大。2002 年，西部地区农村贫困人口共 1742 万人，占全国农村贫困人口的 61.8%。从人均 GDP 看，1999 年东部、中部和西部分别为 10089 元、5407 元和 4217 元，最高的上海市是最低的贵州省的 11 倍。中西部地区与东部的差距，根源于中西部工业化和城市化的落后，因而实质上还是一个城乡差距和“三农”问题。

为缩小城乡差距，解决“三农”问题，中央出台了一系列政策，社会主义新农村建设正式启动。在农业税方面，中央原来决定，从 2004 年开始，用 5 年时间在全国范围内全面取消农业税，但实际上，到 2005 年底，全国已基本取消了农业税（个别省份降至不超过 2%）。农业年人均纯收入，在 2004 年打破长期徘徊并增长 6.8% 的基础上，2005 年又在粮食价格较低而农用生产资料价格大幅上涨的情况下，增长近 6%，这是 1997 年以来仅有的两个高增长年份。在医疗方面，继续推进农村新型合作医疗制度试点，在合作医疗保费平均每个农民 30 元（中央财政、地方财政、个人分别承担 10 元）的基础上，中央又增加 10 元直接补助。在教育方面，完善农村义务教育制度，扩大对农村困难家庭子女教育费补贴。

86. 下列说法错误的是（ ）。

- A. 1999 年，中部、西部地区的人均 GDP 分别大约相当于东部的 50%、40%
- B. 我国的贫困人口主要集中在中西部地区，尤其是西部地区
- C. 多年来，我国农业年人均纯收入增速在 6% 左右徘徊
- D. 到 2005 年底，我国已基本取消了农业税

87. 2002 年，我国农村贫困人口约有多少万人？（ ）

- A. 2800
- B. 3100
- C. 3200
- D. 3300

88. 下列说法不正确的是（ ）。

- A. 我国农业财政支出占国家财政总支出的比例远远低于农业在国民生产总值中的比例
- B. 我国财政支农比重偏低，一定程度地削弱了农业发展的后劲，导致了贫富差距的增大
- C. 中西部地区与东部的差距，实质上还是城乡差距和“三农”问题
- D. 1999 年，江苏的人均 GDP 大约是甘肃的 12 倍

89. 2002 年我国农民人均纯收入约为城镇居民人均可支配收入的百分之几？（ ）

- A. 21.6
- B. 32.1
- C. 39.3
- D. 42.6

90. 进入 20 世纪 90 年代以来，我国财政支农的比重（ ）。

- A. 逐年下降
 B. 基本没有变化
 C. 呈上升趋势
 D. 下降趋势明显

二、根据以下资料，回答问题。

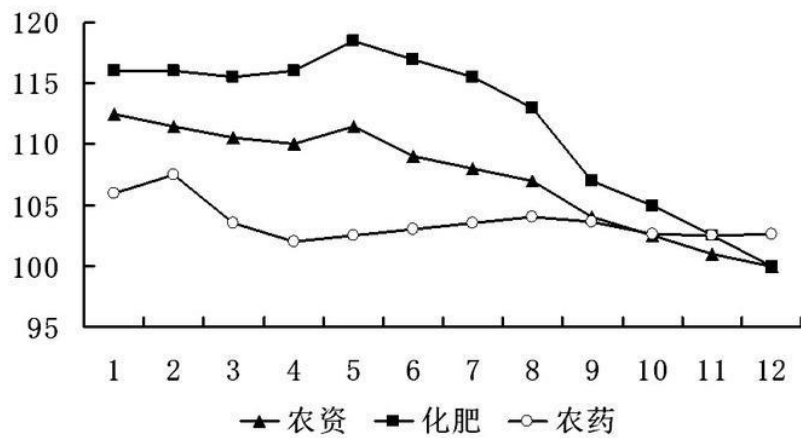
一个国家或地区的国际竞争力排名，是通过其经济绩效、政府效率、企业效率和基础设施四个要素的排名综合而成的。根据瑞士洛桑管理学院的《全球竞争力年鉴》（2003年、2004年），选择六个国家与我国的国际竞争力进行比较，如下表：

我国与其它六国国际竞争力及其四要素排名比较

	中国		印度		意大利		俄罗斯		美国		日本		韩国	
	2003	2004	2003	2004	2003	2004	2003	2004	2003	2004	2003	2004	2003	2004
国际竞争力	29	24	50	34	41	51	54	50	1	1	25	23	37	35
经济绩效	3	2	22	12	39	39	52	54	1	1	28	17	40	49
政府效率	22	21	43	33	53	56	52	40	10	10	39	37	37	36
企业效率	46	35	51	22	39	54	56	52	1	1	41	37	45	29
基础设施	41	41	58	57	34	37	47	43	1	1	3	2	30	27

91. 上表中，哪个国家的企业效率排名在 2004 年发生了下滑？（ ）
- A. 中国
 B. 意大利
 C. 俄罗斯
 D. 日本
92. 下列说法错误的是（ ）。
- A. 尽管 2004 年俄罗斯的经济绩效排名下降，其国际竞争力排名仍有所上升
 B. 2004 年美国的国际竞争力仍然保持上年的地位，处于强势状态
 C. 尽管印度的国际竞争力在 2004 年得到了较大的提升，但其基础设施依然落后
 D. 韩国四大要素的排名在 2004 年均有所提升，因此其国际竞争力也得到了增强
93. 我国国际竞争力强于印、意、俄、韩，最主要源于下列哪个要素？（ ）
- A. 经济绩效
 B. 政府效率
 C. 企业效率
 D. 基础设施
94. 2004 年，哪个国家的企业效率排名得到很大的提升，并一举超过韩国？（ ）
- A. 日本
 B. 俄罗斯
 C. 印度
 D. 意大利
95. 要继续提升我国的国际竞争力排名，下列哪个方面起作用的潜力最小？（ ）
- A. 提高经济绩效
 B. 提高政府效率
 C. 提高企业效率
 D. 加强基础设施建设

三、根据以下资料，回答问题。



101. 江苏 2005 年底农资的价格约等于 ()。
- A. 2004 年底化肥的价格 B. 2004 年初化肥的价格
 C. 2004 年底农资的价格 D. 2004 年初农资的价格
102. 对 2005 年江苏农资价格走势影响最大的是 ()。
- A. 化肥 B. 农药
 C. 种子 D. 种子与农药
103. 下列说法正确的是 ()。
- A. 2005 年江苏化肥价格走势与农资价格变化趋势大致相同
 B. 2005 年江苏农药价格与上一年年末基本持平
 C. 总体来看, 2005 年 1~12 月份江苏化肥价格的变化幅度比农药小
 D. 2005 年年底江苏农药价格比农资价格高
104. 2005 年江苏农药价格下降最大的月份是 ()。
- A. 2 月 B. 3 月
 C. 9 月 D. 12 月
105. 2005 年江苏化肥价格最高的月份是 ()。
- A. 2 月 B. 12 月
 C. 9 月 D. 5 月