

## 第一部分 言语理解与表达

本部分包括表达与理解两方面的内容。请根据题目要求，在四个选项中选出一个最恰当的答案。

请开始答题：

1. 他担心孩子从小受西方的教育，日后会徒有中国人的面孔。当然，他也很欣赏西方的教育，孩子上学很轻松，课程涉及却十分广泛，像环保、人文科学、自然科学，连张华自己也感到新鲜。课余活动很丰富，冰球、棒球、野营……但孩子毕竟是黄皮肤，他必须认识自己的文化，自己的家。  
这段话的主要意思是（ ）。  
A. 张华认为自己的孩子必须接受中国文化教育 B. 张华也欣赏西方的教育  
C. 张华认为孩子必须认识自己的家 D. 张华担心孩子有中国人的面孔
2. 相吸式磁悬浮列车是把电磁铁安装在车体上，通电后产生电磁力与轨道相吸引而使列车悬浮，再用直线电动机牵引列车前进。相斥式则是在列车上安装超导磁体，轨道上安装悬浮线圈，超导磁体与地面线圈之间感应产生强大磁力使列车悬浮，再用直线电动机牵引列车前进。  
相吸式和相斥磁悬浮列车的运行动力是（ ）。  
A. 相吸式是电磁石，相斥式则是超导磁体 B. 悬浮线圈  
C. 直线电动机 D. 电磁力
3. 保健食品的支柱科学为医学、食品营养学和人体生理、生物化学。现代化的具有中国传统特色的保健食品是这三者的有机结合，保健食品不以治疗为目的，但经常食用却又能维持新陈代谢和生理机能的正常运转，能弥补生长发育消耗所需的营养，能保持组织器官不受损伤，能及时修补损伤，从而把疾病消灭在萌芽中，使人能健康长寿。  
这段话的中心意思是（ ）。  
A. 保健食品的科学基础和功用 B. 保健食品不以治疗为目的  
C. 保健食品能使人健康长寿 D. 中国传统特色的保健食品的功用
4. 2004年上半年，中国国家汉语战略浮出水面。这不仅被舆论视为对全球范围内日渐升温的“汉语热”的回应，更被理解为中国政府推进汉语言文化的主动性、系统性动作。被世界上最多数量的人口使用，但由于政治、文化原因而处于弱势地位的汉语，似乎正在谋求一次崛起。  
舆论对中国国家汉语战略的评价（ ）。  
A. 汉语正在世界范围内崛起 B. 为“汉语热”推波助澜  
C. 能彻底改变汉语的弱势地位 D. 能迅速有效地将汉语言文化推向全世界
5. 据了解，这部“金纸书”是用一个手工工艺的紫檀木盒子包装着，内页全部由99.99%以上的黄金采用高科技铸成，耗费黄金量约112克；据有关工作人员介绍，这部拥有“中华第一金书”、“国礼金书”等众多头衔的奇书，甫一出世，便获得了众多收藏家、专家学者的高度评价。该书将在全球限量发行5000套，堪称国礼极品。同时，由于制作材料品质特殊，对市民来讲也极具收藏和投资价值。  
概括这段文字最恰当的语句是（ ）。  
A. 国礼极品“金纸书”极具收藏投资价值 B. 专家学者高度评价国礼金书  
C. 中华第一金书耗金112克 D. 中华第一金书限量发行5000套
6. 通往知识宝库的门户很多，大学只是其中之一。这扇门一时进不去，可以从其他的门入内，甚至可以跳窗而入。不要躺在门旁叹大气，流眼泪，以至于当饿殍。  
这段话在劝哪些人？（ ）。

- A. 唉声叹气者  
B. 没有上大学的人  
C. 一切失意之人  
D. 高考落榜生
7. 现代都市快节奏的生活频率和人际交往的复杂化倾向越来越明显，人们面临的突发事件和信息爆炸情况越来越多，这很容易给人们的心理带来不适应感和挫折感，从而产生各种人际交往问题。在这些问题当中，自我封闭是相对突出的，并且是对人们的身心健康危害较大的交往障碍之一。  
这段文字的讨论重点是（ ）。
- A. 人的心理  
B. 都市生活  
C. 自我封闭  
D. 身心健康
8. 据消息人士透露，二手房备案系统主要是控制二手房的成交情况。在办理正式的产权过户前，买卖双方可以在交易中心查询该房源是否有抵押等权利限制，交易中心还将通过网上系统接受市民的委托向外发布房源信息，并可接受市民委托承担购房房款的托付监管等业务；同时，备案系统将金融、估价、担保等中介服务机构进入交易平台进行信息查询服务提供标准接口。  
该段文字议论的主体（ ）。
- A. 买卖房屋过程  
B. 交易中心  
C. 二手房的成交过程  
D. 二手房备案系统
9. 改革开放以来，中国农村发展进入了新阶段，基本标志是农产品由短缺转成了总量基本平衡，丰年有余，并在一定程度上阶段性过剩，农产品物美价廉为社会稳定做出了贡献：中国以世界百分之七的耕地养活了百分之二十二的人口，绝对贫困人口控制在三千万以内；实施退耕还林还草，更多地注意生态保护，再造壮丽秀美的山川；农业结构调整取得成效等等。  
“百分之二十二的人口”指（ ）。
- A. 中国农村人口  
B. 中国的总人口  
C. 中国的贫困人口  
D. 不清楚
10. 人类要谦虚一些、慎重一些、节制一些……而倡导生态文明的关键是我们要尊重历史，尊重自然，尊重现实，摆正“人”在大自然中的正确位置，“人”字原本多大就写多大。现在是写得太大了，应该写小些，小些，更小些，把“人”写在原来应有的位置上。  
“‘人’字现在是写得太大了”的意思是（ ）。
- A. 面对现实人类太自大  
B. 面对历史人类太自大  
C. 面对大自然人类太自大  
D. 面对同类人人都很自大

耗资 5000 多万元的中国首个湿地公园——肇庆星湖湿地公园，日前在广东肇庆星湖风景名胜区内建成。肇庆星湖风景名胜区是中国第一个自然保护区和中国第一批世界生物圈保护区，也是中国风景名胜区 ISO14000 国家示范区和国家首批 4A 级景区。（这）里既有众多湖泊纵横，又有宽阔的滩涂湿地，大面积茂密森林，鱼虾丰富，水生动植物兴旺，湖水水质达到国家地表水二级标准。良好的生态环境，丰富的鸟类食物，使这里成了候鸟迁徙的重要停歇地、繁殖地和越冬地。区内七里岩景区湖面达 6.04 平方公里，还有 20 多个小岛，湿地资源丰富，生态环境优美，形成了动、植物多样性的生态系统，为各种湿地的动植物生存和发展提供了十分理想的条件。肇庆市委、市政府从 2003 年初开始对星湖景区丰富的湿地资源进行规划、提升、开发、整合。据统计，景区内目前共有鸟类 188 种，其中国家一级保护鸟类 2 种，国家二级保护鸟类 11 种，各种鹭鸟近万只。同时，星湖的水体生长着包括水鳖科、眼水菜科等 13 科和密齿苦草、黑藻等 16 个种类的水生植物，生长着鲩、鲢、鲤、鳊等 20 多类水生动物。据介绍，湿地是地球上一种重要的、

独特的多功能的生态系统，被誉为生命的摇篮、自然之“肾”，对保护环境、保护生物的多样性有着十分重要的意义。

11. 以下哪项与本文不符（ ）。
- A. 肇庆星湖湿地公园是我国第一个国家自然保护公园和我国第一批世界生物圈保护公园
  - B. 肇庆星湖湿地湖水水质达到国家地表水二级标准
  - C. 景区内共有鸟类 188 种
  - D. 区内各种鹭鸟近万只
12. 文中括号内的“这”指的是（ ）。
- A. 肇庆星湖湿地公园
  - B. 肇庆星湖风景名胜区
  - C. 国家首批 4A 级景区
  - D. 世界生物圈保护区
13. 根据该文判断，“水鳖科”是（ ）。
- A. 水生植物
  - B. 水生动物
  - C. 水生植物的类别
  - D. 水生动物的类别
14. 以下哪项与本文不符（ ）。
- A. 肇庆星湖湿地公园有 6.04 平方公里
  - B. 肇庆星湖湿地 2003 年开始开发
  - C. 星湖风景区有 20 多个小岛
  - D. 星湖风景区有 20 多类水生动物
15. 根据该文判断，以下不属于肇庆星湖风景名胜区的风景是（ ）。
- A. 湖泊
  - B. 湿地
  - C. 森林
  - D. 溶石

## 第二部分 数量关系

在这部分试题中，每道题呈现一段表述数字关系的文字，要求你迅速、准确地计算出答案。

请开始答题：

16.  $1/5, 1, 4, ( ), 24, 24$   
A. 4  
B. 8  
C. 12  
D. 18
17.  $1, 2, 1+\sqrt{2}, ( ), 3$   
A.  $3+\sqrt{2}$   
B. 3.5  
C.  $1+\sqrt{3}$   
D.  $4\cdot\frac{\sqrt{3}}{2}$
18.  $12, 20, 32, 52, ( ), 136$   
A. 65  
B. 75  
C. 80  
D. 84
19.  $2\frac{13}{17}, ( ), 6\frac{25}{31}, 8\frac{31}{38}, 10\frac{37}{45}$   
A.  $3\frac{18}{23}$   
B.  $4\frac{19}{24}$   
C.  $4\frac{20}{25}$   
D.  $5\frac{21}{26}$
20.  $1, 8, ( ), 64, 125, 216$   
A. 16  
B. 24  
C. 27  
D. 32
21.  $1, 3, 4, 6, 9, 12, ( ), ( ), 25, 48$   
A. 12, 24  
B. 14, 36  
C. 16, 24  
D. 14, 24
22.  $145, ( ), 111, 94, 77, 60$   
A. 130  
B. 128  
C. 116  
D. 124
23.  $8, 9, 10, 12, 14, ( )$   
A. 15  
B. 16  
C. 17  
D. 18
24.  $48/121, ( ), 70/169, 81/196, 92/225$   
A.  $58/144$   
B.  $51/126$   
C.  $65/131$   
D.  $59/144$
25.  $1\frac{1}{8}, ( ), 1\frac{3}{4}, 2\frac{1}{4}$   
A.  $1\frac{1}{4}$   
B.  $1\frac{3}{8}$   
C.  $1\frac{5}{8}$   
D.  $1\frac{5}{6}$

26.  $\frac{25}{36}$ 、 $\frac{17}{24}$ 、 $\frac{23}{28}$  和  $\frac{35}{42}$ ，哪个最大？（ ）
- A.  $\frac{25}{36}$     B.  $\frac{17}{24}$   
C.  $\frac{23}{28}$     D.  $\frac{35}{42}$
27.  $400 \times 0.491 + 856.672 + 400 \times 0.146 + 143.328 + 400 \times 0.363 = ( )$ 。
- A. 1398.379    B. 1399.39  
C. 1400    D. 1401.562
28. 在全县上下的共同努力下，某县户均税费负担逐年下降，2001 年比 2000 年下降了 3%，2002 年比 2001 年下降了 4%，2003 年比 2002 年下降了 5%，问 2003 年该县的户均税费负担比 2000 年下降了百分之几？（ ）
- A. 11.536    B. 12  
C. 18.358    D. 15.329
29. 修建一条长 300 米的混凝土大坝，横断面为等腰梯形，上下底和腰长分别为 6 米、18 米、10 米，共需多少方混凝土？（ ）
- A. 480    B. 4800  
C. 19200    D. 28800
30. 某农户去年 10、11、12 月份的月平均收入为 662 元，月增长率为 10%，问去年 12 月份该农户的收入为多少元？（ ）
- A. 760    B. 723  
C. 734    D. 726
31. 将一车 6300 斤重的蔬菜按 6: 5: 4: 3: 2: 1 的比例分成 6 份，最少的一份重量是多少斤？（ ）
- A. 100    B. 300  
C. 480    D. 600
32. 在其他条件适宜情况下，某作物的亩产量  $y$ （单位：公斤）与灌水次数  $x$ （单位：次）之间的关系为  $y = -x^2 + 8x + 500$ ，问选择适宜灌水次数可得到的该作物的最大亩产量是多少公斤？（ ）
- A. 516    B. 508  
C. 504    D. 500
33. 某奶场有 6 个送奶工小组，各个小组单独完成一天的全部送奶工作的时间分别是 6 小时、10 小时、7 小时、12 小时、8 小时、9 小时，若分由 6 个小组各完成全部送奶工作量的六分之一，多长时间可完成一天的全部送奶工作？（ ）
- A. 1.5 小时    B. 2 小时  
C.  $2\frac{1}{4}$  小时    D.  $2\frac{3}{4}$  小时
34. 某年甲企业的利润比乙企业少 200 万元，甲、乙、丙三企业的利润之比为 5: 6: 7，问该年丙企业的利润为多少万元？（ ）
- A. 14000    B. 7000  
C. 700    D. 1400
35. 某行政村 2004 年冬季的农田水利基本建设工作计划 36 天完成，实际工作中，前 15 天完成了全部工作的  $\frac{3}{5}$ ，接下来的 10 天又完成了剩余工作的  $\frac{3}{5}$ ，后来的工作效率与刚开始 15 天相同，问一共提前几天完成？（ ）

A. 7  
C. 9

B. 8  
D. 10

## 第四部分 判断推理

一、事件排序。每道题给出五个事件，每个事件是以简短语句表述的，接着给出事件的四种假定发生顺序，请你选择其中最符合逻辑的一种排列顺序。

请开始答题：

36. ①新民主主义理论  
②列宁主义  
③剩余价值理论  
④农村包围城市理论  
⑤科学发展观  
A. ②①③④⑤  
B. ③②④①⑤  
C. ③①④②⑤  
D. ②①④③⑤
37. ①防病喂养  
②蓄水放苗  
③排水清淤  
④秋冬起塘  
⑤消毒晒塘  
A. ③⑤②①④  
B. ①②③⑤④  
C. ④①③②⑤  
D. ②①④③⑤
38. ①绿肥红瘦  
②滴水成冰  
③春寒料峭  
④落叶黄花  
⑤春意盎然  
A. ③⑤④①②  
B. ①②③⑤④  
C. ③①④②⑤  
D. ③⑤①④②
39. ①父母疏通关系  
②侥幸上岗  
③从小娇生惯养  
④无法适应，被迫下岗  
⑤平时不学无术  
A. ②①③④⑤  
B. ①②③⑤④  
C. ③①④②⑤  
D. ③⑤①②④
40. ①年逾花甲  
②豆蔻年华  
③而立之年  
④两小无猜  
⑤知命之年  
A. ④②③⑤①  
B. ④②③①⑤  
C. ③①④②⑤  
D. ②①④③⑤
41. ①安全事故频繁  
②责任人认真负责

- ③管理存在漏洞  
④事故明显减少  
⑤实行问责管理  
A. ②①③④⑤  
B. ①②③⑤④  
C. ③①⑤②④  
D. ②①④③⑤
42. ①小满  
②白露  
③立春  
④秋分  
⑤清明  
A. ③⑤②①④  
B. ③⑤①②④  
C. ③⑤①④②  
D. ③⑤④①②
43. ①面露喜色  
②笑逐颜开  
③莞尔而笑  
④谈笑自若  
⑤捧腹大笑  
A. ②①③④⑤  
B. ①②③⑤④  
C. ④①③②⑤  
D. ②①④③⑤
44. ①索取酬金  
②失主报警  
③捡到别人信用卡  
④受到批评教育  
⑤失主索要  
A. ③⑤①②④  
B. ②③①⑤④  
C. ③④①②⑤  
D. ②①④③⑤
45. ①魏碑  
②颜书  
③小篆  
④大篆  
⑤隶书  
A. ②①③④⑤  
B. ①②③⑤④  
C. ④③⑤①②  
D. ③④⑤①②

二、类比推理。每道题先给出一组相关的词，要求你在备选答案中找出一组与之在逻辑关系上最为贴近、相似或匹配的词。

请开始答题：

46. 蜡烛：教师  
A. 明月：思念  
B. 桃李：学生  
C. 长寿：松柏  
D. 高尚：巍峨
47. 烈日：蝉鸣  
A. 飞雪：梅花  
B. 秋月：蛇眠  
C. 春风：稻谷  
D. 山洪：海啸

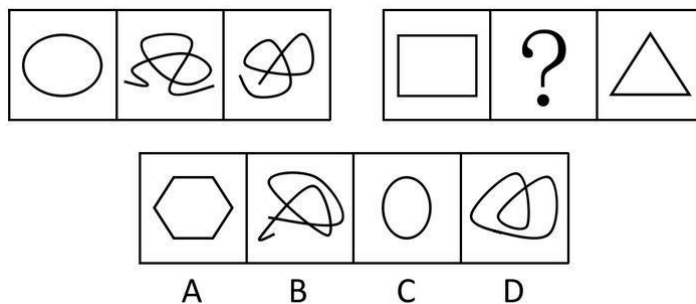


48. 镰刀：收割机  
 A. 轮船：飞机  
 B. 算盘：计算器  
 C. 山泉：矿泉  
 D. 勤劳：安逸
49. 李香君：《桃花扇》  
 A. 蒲松龄：《聊斋志异》  
 B. 石头记：《红楼梦》  
 C. 秦始皇：《后汉书》  
 D. 杨玉环：《长生殿》
50. 减免税款：农民增收  
 A. 压力过大：精神紧张  
 B. 小心谨慎：处处碰壁  
 C. 装腔作势：人人自危  
 D. 五谷丰登：风调雨顺
51. (多选题) 阿胶：山东  
 A. 天山雪莲：新疆  
 B. 菊花：河南  
 C. 宣纸：安徽  
 D. 南京：桂花
52. (多选题) 树叶：树木  
 A. 山脉：泰山  
 B. 长江：黄河  
 C. 指针：挂钟  
 D. 政府：国家
53. (多选题) 芦苇：河滩  
 A. 白鹭：崖壁  
 B. 石耳：山崖  
 C. 蜗牛：滩涂  
 D. 黑熊：山林
54. (多选题) 月圆：团聚  
 A. 农民：勤劳  
 B. 绿色：环保  
 C. 太阳：炎热  
 D. 朝露：短暂
55. (多选题) 辞典：书籍  
 A. 长城：建筑物  
 B. 金字塔：自然景观  
 C. 江苏：平原  
 D. 春分：节气

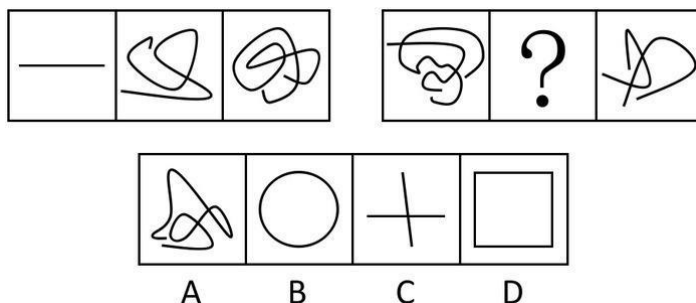
**三、图形推理。请按每道题的答题要求作答。**

**请开始答题：**

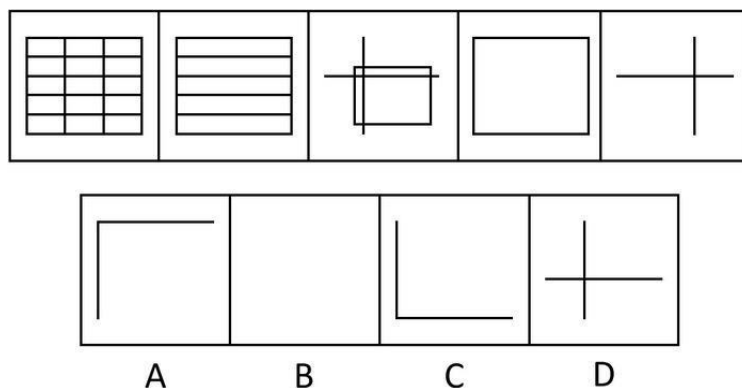
56. 从所给的四个选项中，选择最合适的一个填入问号处，使之呈现一定的规律性（ ）。



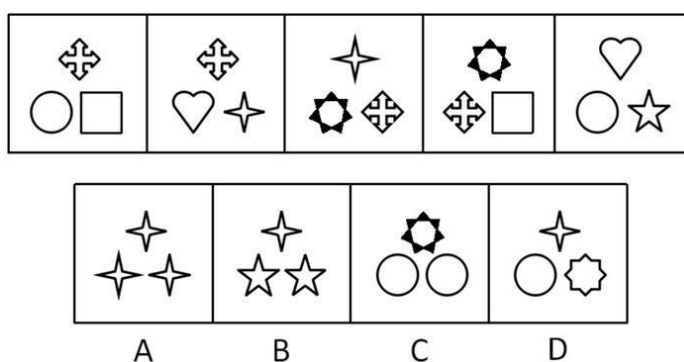
57. 从所给的四个选项中，选择最合适的一个填入问号处，使之呈现一定的规律性（ ）。



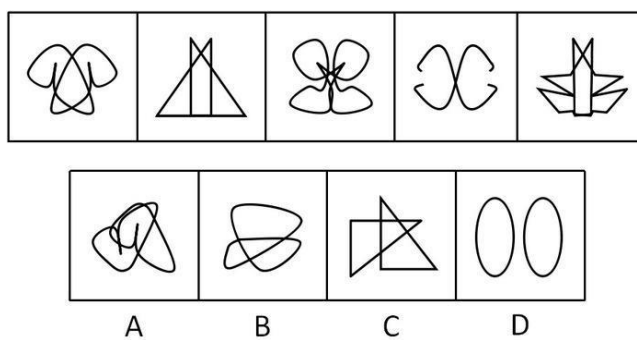
58. 从 A、B、C、D 四个选项中选出最合适的一个，使得它保持第一行图形所呈现的规律性 ( )。



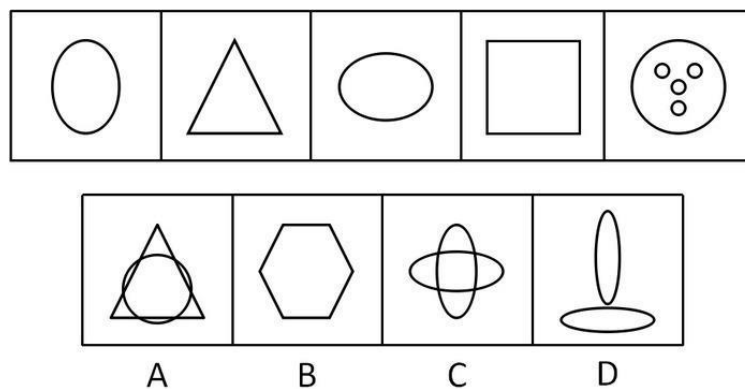
59. 从 A、B、C、D 四个选项中选出最合适的一个，使得它保持第一行图形所呈现的规律性 ( )。



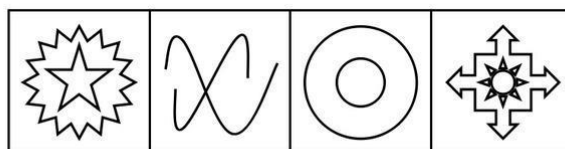
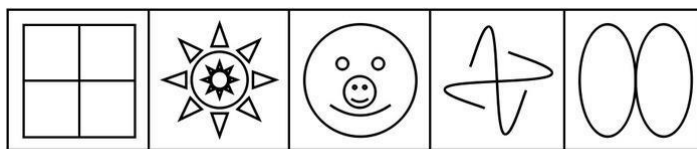
60. 从 A、B、C、D 四个选项中选出最合适的一个，使得它保持第一行图形所呈现的规律性 ( )。



61. 从 A、B、C、D 四个选项中选出最合适的一个，使得它保持第一行图形所呈现的规律性 ( )。

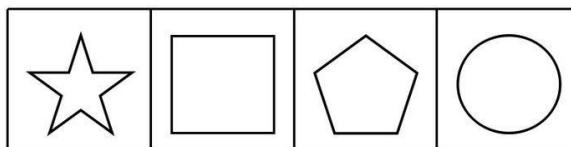
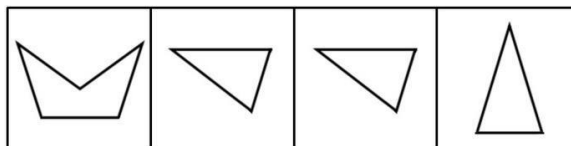


62. 从 A、B、C、D 四个选项中选出最合适的一个，使得它保持第一行图形所呈现的规律性 ( )。



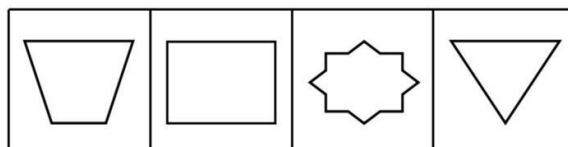
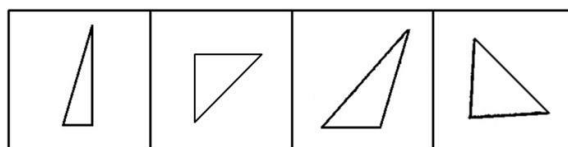
A B C D

63. 下面四个选项中，哪个可由上面的图形拼合而成? ( )



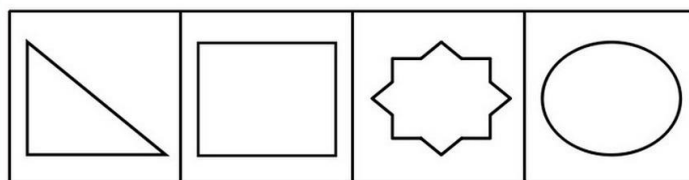
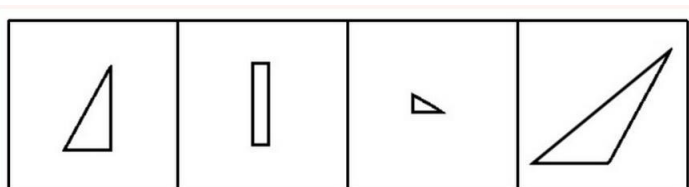
A B C D

64. 下面四个选项中，哪个可由上面的图形拼合而成? ( )



A B C D

65. 下面四个选项中，哪个可由上面的图形拼合而成? ( )



A B C D

三、逻辑判断。每道题给出一段陈述，这段陈述被假设是正确的，不容置疑的。要求你根据这段陈述，选择一个答案。注意：正确的答案应与所给的陈述相符合，不需要任何附加说明即可以从陈述中直接推出。

请开始答题：

66. 只要做到依法治国并且真正以人为本，就能彻底解决拖欠民工工资问题。根据 2004 年春节期间的一项调查显示，有些地方拖欠民工工资现象仍旧存在。  
由此可见（ ）。
- A. 有些地方没有以人为本  
B. 有些地方以人为本  
C. 有些地方既没有依法治国，也没有以人为本  
D. 有些地方或者没有依法治国，或者没有以人为本
67. 唐诗宋词不是一年半载能读完的，唐代诗人王维的主要作品是诗歌，《王右丞集》是王维的作品。  
由此可见（ ）。
- A. 《王右丞集》不是一年半载能读完的      B. 王维的作品不是一年半载能读完的  
C. 唐诗宋词中包括王维的作品      D. 王维的主要作品是《王右丞集》
68. 在心泉乡发展研讨会上，王书记认为：“或者发展养蚕业，或者发展畜牧业。”周乡长认为：“心泉乡人多地少，应加强劳动力培训，大力开发对外劳务输出。”李书记认为：“只有发展特殊作物种植，才是山乡心泉的唯一出路。”张乡长认为：“充分发挥心泉优势，发展旅游业，别无选择。”  
经过专家论证，上述四位的意见有两位被认为是可行的，那么意见可行的两位是（ ）。
- A. 王书记和周乡长      B. 王书记和李书记  
C. 李书记和周乡长      D. 李书记和张乡长
69. 只有坚持科学发展观，才能实现可持续发展。为了子孙后代，我们必须实现可持续发展。  
由此可见（ ）。
- A. 我们必须加大宣传，重视环境保护  
B. 实现可持续发展必须和科学管理相结合  
C. 为了子孙后代，我们必须坚持科学发展观  
D. 只要坚持科学发展观，就一定能实现可持续发展
70. 赵科长和钱科长的能力比孙处长强，李处长的能力不如孙处长，而孙处长的能力又不如周处长。  
请问哪位能力最差？（ ）
- A. 赵科长      B. 李处长  
C. 周处长      D. 孙处长
71. 不可能所有的人都成为公务员。  
由此可见（ ）。
- A. 有的人必定成为公务员      B. 只有少部分人将成为公务员  
C. 必定有些人不能成为公务员      D. 所有的人都不能成为公务员
72. 在一次研讨会上，经过统计参加会议的 12 人，有 1 人认识所有的人，有 2 人认识 6 人，有 3 人认识 5 人，有 5 人认识 3 人。  
由此可见（ ）。
- A. 参加会议的都相互认识      B. 会长认识所有的人

- C. 有些人认识对方，但对方不认识他                      D. 有些人是通过别人介绍认识的
73. 如果巴西或者日本成为常任理事国，那么印度和德国都将成为常任理事国。  
由此可见（ ）。
- A. 如果印度成为常任理事国，那么德国也将成为常任理事国  
B. 如果印度成为常任理事国，那么日本也将成为常任理事国  
C. 如果印度没有成为常任理事国，那么德国也没有成为常任理事国  
D. 如果印度没有成为常任理事国，那么日本也没有成为常任理事国
74. 《冷山》《海底总动员》和《十面埋伏》不可能都获得奥斯卡奖。  
由此可见（ ）。
- A. 如果《冷山》得奖，那么《十面埋伏》就没有得奖  
B. 如果《海底总动员》和《十面埋伏》没有得奖，那么《冷山》就得奖  
C. 如果《冷山》没得奖，那么《海底总动员》《十面埋伏》至少有一个得奖  
D. 如果《冷山》《十面埋伏》得奖，那么《海底总动员》就没得奖
75. 根据统计，有些干部有见义勇为行为，有些干部廉洁自律，有些干部既生活简朴又工作热情。  
由此可见（ ）。
- A. 有些干部既有见义勇为行为又工作热情              B. 有些干部既有见义勇为行为又廉洁自律  
C. 有些干部既廉洁自律又生活简朴                      D. 有些干部生活简朴并且工作热情

**四、定义判断。每道题先给出定义，然后列出四种情况，要求你严格依据定义，从中选出一个最符合或最不符合该定义的答案。注意：假设这个定义是正确的，不容置疑的。**

**请开始答题：**

76. 商圈：能有效吸引顾客来店的商业地理区域，可分为核心商圈、次级商圈、边缘商圈三个层次。  
下列符合本概念的是（ ）。
- A. 北京王府井    B. 上海第一百货公司  
C. 肯德基    D. 南京苏果连锁店
77. 背景音乐：选择跟环境、气氛协调的轻柔、优雅的轻音乐或抒情乐曲来播放，使人感到温馨、和谐、融洽。  
下列与定义相合的是（ ）。
- A. 电影片头曲    B. 电视剧主题歌  
C. 听众点播歌曲    D. 书店里的李斯特钢琴曲
78. 显学：著名的学说、学派。  
下列不属于中国“三大地方显学”的是（ ）。
- A. 徽学：以徽州文书档案、籍典文献、文物遗存为基本资料，以徽州历史文化为对象，进而研究中国传统文化的一门综合性学科  
B. 藏学：以藏族文化为主要研究对象，涉及人文社会与自然科学，其中以人文社会科学为重点研究对象的一门新兴的综合性现代学科  
C. 晋学：以山西古代历史文化为研究核心，从文明演进、社会变迁、民族交融、思想文化、文物遗存、民俗风尚等诸方面进行梳理与研究，是一门综合性学科  
D. 敦煌学：研究敦煌石窟、敦煌遗书、敦煌地区遗存的古代文物与文献的学科
79. 网络：指由许多互相交错的分支组成的系统。  
下列与定义不合的是（ ）。

- A. 公路、铁路、航空联运                      B. 因特网  
C. 网罗人才    D. 江南水系
80. 非学历民办学校：指国家机构以外的社会组织和个人利用非国家财政性经费，面向社会举办不具备颁发学历文凭资格的培训、进修、专修学院（学校、中心）。  
根据上述定义，下列不属于非学历民办学校的一项是（  ）。
- A. 某四星级普通高级中学的分校                  B. 几位退休教师办的高考复习班  
C. 企业老总出资办了计算机培训中心          D. 某市工商联办的技能培训班
81. 劣币：靠投机或贪污受贿等不良途径获得的财富。  
下列与定义相合的是（  ）。
- A. 卖假药发财                                      B. 中奖所得  
C. 炒股所得    D. 百万富翁的财产
82. 逃税：指理性纳税人通过采取违反税法的行为不报或进行虚假申报以便不缴或少缴应纳税款的行为。  
下列不属于逃税行为的是（  ）。
- A. 汪某开了一个水果超市，地税局核定其每月交 600 元税款，每当税务员来收税时汪都如数缴纳，去年 11 月，汪把超市转让给朋友，12 月一税务员来收税时被汪某拒绝  
B. 某施工企业将其剩余材料销售收入、工业性作业收入、自制工程用半成品的销售收入、租赁收入、财产转让收入等不入账，形成账外资金，用于职工福利、奖励  
C. 某房出租人谎称承租人是其亲戚，私自进行交易，暗收月租金 1800 元  
D. 某公司将合同外工程变更收入，挂其他应付款，少计应税所得
83. 沉溺：陷入不良的境地（多指生活习惯方面），不能自拔。  
下列与定义不合的是（  ）。
- A. 小蒋每天泡舞厅                                  B. 小李每天泡酒吧  
C. 老张每天通宵打麻将                              D. 版主小王每天上网
84. 体鸣乐器：以一定形状的发声物质为声源体，在自由状态下（不予变形或附加张力等）受激发声，无其他媒介振动体。  
以下属体鸣乐器的是（  ）。
- A. 竖笛    B. 古代编钟  
C. 马头琴    D. 箫
85. 农业资源：可供农业利用的一切物质与能量的总称。  
下列不属于农业资源的是（  ）。
- A. 重庆市植物资源有 4000 多种，自然植被有阔叶林、针叶林、竹林、灌丛、稀树草丛等五种主要植被类型，其中亚热带绿阔叶林是主要植被类型  
B. 烟叶是河南省仅次于棉花的第二大类经济作物，总产量一直居全国首位，是全国规模最大的烟叶生产基地  
C. 杭州市西湖区著名的特色产品有西湖龙井茶、九曲红梅、西湖莼菜三大传统拳头产品  
D. 广西柳州利用地方资源优势发展起日用化工、造纸、制糖、卷烟、纺织、制药等产业

## 第五部分 资料分析

针对下列图、表或文字回答问题。你应根据资料提供的信息进行分析、比较、计算、处理。你可以在题本上运算。

请开始答题：

一、根据以下资料，回答问题。

2002年我国粮食出口1483.7万吨，比上年增长69.2%；进口285.1万吨，比上年下降17.2%；粮食净出口1198.6万吨，比上年增长125%。2002年我国粮食出口值为17.2亿美元，比上年增长56%；进口值为5亿美元，比上年下降22%，粮食贸易顺差12.3亿美元，增长162%，其中：

大米，2002年出口量199万吨，比上年增长6.4%；进口量23.8万吨，比上年下降18.9%；净出口175.2万吨，比上年增长11%。

玉米，2002年出口量1167.5万吨，比上年增长94.6%；进口量由上年的3.9万吨减少到0.8万吨，下降79.79%；净出口1166.7万吨，比上年增长95.7%。

小麦，2002年出口量97.7万吨，比上年增长37%；进口量63.2万吨，比上年下降14.5%；净出口由上年的2.6万吨增加到34.5万吨。

大麦，2002年进口量190.7万吨，比上年下降19.5%。

86. 2002年我国出口粮食与进口粮食平均单价之比是多少？（ ）
- A. 1.51:1  
B. 0.66:1  
C. 1.23:1  
D. 0.96:1
87. 与2001年相比，2002年我国进、出口粮食的平均单价（ ）。
- A. 都上涨了  
B. 都下降了  
C. 前者上涨了，后者下降了  
D. 前者下降了，后者上涨了
88. 2001年我国粮食的净出口值约为（单位：亿美元）（ ）。
- A. 7  
B. 10  
C. 6  
D. 5
89. 2002年进口大米、玉米、小麦、大麦外的其他粮食多少万吨？（ ）
- A. 6.6  
B. 8.2  
C. 9.6  
D. 10.2
90. 在大米、玉米、小麦、大麦四种粮食中，与2001年相比，2002年进口量下降百分比最大的是（ ）。
- A. 大米  
B. 玉米  
C. 小麦  
D. 大麦

二、根据以下资料，回答问题。

2002年我国主要农产品总产量、单产与世界比较

品种	中国		世界	
	总产量(亿吨)	单产(吨/公顷)	总产量(亿吨)	单产(吨/公顷)
谷物	4.05	0.3200	20.49	0.3427
油料	0.27	0.0213	0.80	0.0134
水果	0.62	0.0490	4.75	0.0794
肉类	0.61	0.0482	2.33	0.0390
鸡蛋	0.22	0.0174	0.51	0.0085
水产品	0.41	0.0324	1.26	0.0211

91. 表中所列农产品中, 2002年我国总产量占世界总产量的比重最大的是 ( )。
- A. 油料                                      B. 肉类  
C. 水产品                                     D. 鸡蛋
92. 下列说法正确的是 ( )。
- A. 表中计算中国谷物单产和世界谷物单产所用的土地面积是谷物的实际种植面积  
B. 表中计算中国水产品和世界水产品单产所用的面积是水产品的实际养殖水面面积  
C. 表中计算中国水果单产所用的面积是水果的实际种植面积  
D. 表中计算我国主要农产品单产所用的面积是一个统一的属于我国的土地和水域的总面积
93. 表中所列农产品中, 我国单产在 2002 年少于世界单产的占几分之几? ( )
- A. 1/3    B. 2/3  
C. 1/6    D. 1/2
94. 2002年我国鸡蛋的总产量占世界总产量的比重是多少? ( )
- A. 26.73%                                    B. 23.22%  
C. 43.14%                                    D. 19.3%
95. 假设一种农产品只产于我国, 在 2002 年的总产量为 0.03 亿吨, 若将该作物的总产量和单产情况列入表中, 其在中国的总产量、单产和在世界的总产量、单产数据分别约为 ( )。
- A. 0.03, 0.0056; 0.03, 0.0009                                      B. 0.03, 0.0024; 0.03, 0.0005  
C. 0.03, 0.0121; 0.15, 0.0057                                     D. 不能计算

三、根据以下资料, 回答问题。

2003年江苏乡镇工业基本情况

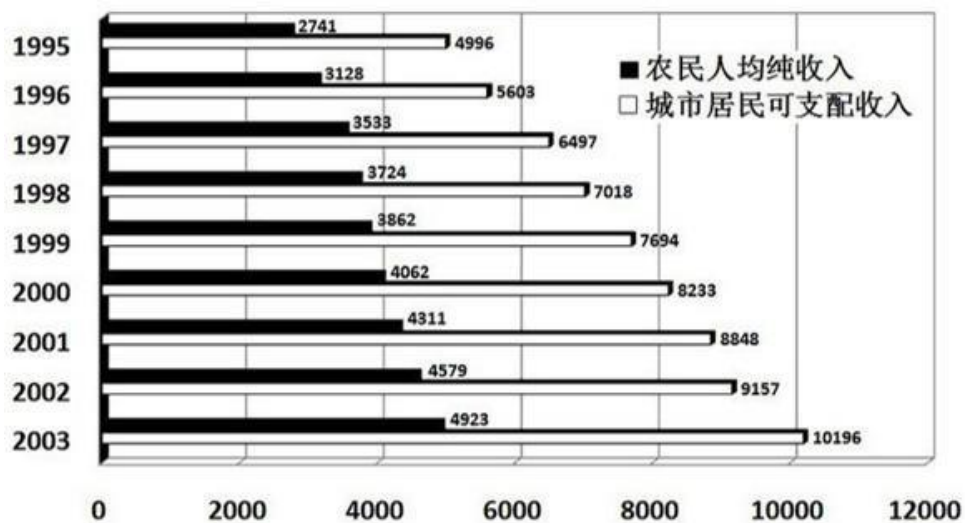
项目	总计		集体及集体控股企业		私营及私营控股企业		个体企业	
	绝对数	占乡镇企业比重 (%)	绝对数	占集体企业比重 (%)	绝对数	占私营企业比重 (%)	绝对数	占个体企业比重 (%)
企业家 (万家)	107.98	47.02	60.95	9.22	13.19	72.83	33.84	40.82
从业人员 (万人)	850.82	77.18	75.95	92.87	569.50	85.79	205.37	57.56
增加值 (亿元)	3630.57	84.73	563.49	95.13	2435.90	88.37	631.19	67.42
营业收入 (亿元)	15568.77	86.61	2435.1	95.31	10297.3	89.35	2836.37	73.04
利税总额 (亿元)	1085.05	84.86	184.05	95.92	742.87	89.86	158.13	60.80

96. 2003年江苏乡镇工业中的个体企业的营业收入为多少亿元? ( )
- A. 2836.37                                    B. 2048.16



- C. 631.19  
D. 830.28
97. 2003年江苏乡镇工业利税总额中集体及集体控股企业利税总额的比重为百分之几？（ ）  
A. 10.91  
B. 16.96  
C. 30.62  
D. 95.92
98. 2003年江苏乡镇工业中增加值最大的企业类型是（ ）。  
A. 集体及集体控股企业  
B. 私营及私营控股企业  
C. 个体企业  
D. 由表中资料看不出来
99. 2003年江苏乡镇工业企业数中，集体及集体控股企业的比重比个体企业多多少个百分点？（ ）  
A. 14.62  
B. 14.85  
C. 25.11  
D. 36.00
100. 2003年江苏乡镇企业从业人员数约为多少万人？（ ）  
A. 1203  
B. 1183  
C. 851  
D. 1102

四、根据以下资料，回答问题。



1995~2003年城乡居民收入情况(单位:元/人)

101. 1995~2003年，城市居民可支配收入的年平均增长速度比农民人均纯收入的年平均增长速度（ ）。  
A. 略小  
B. 小的多  
C. 略大  
D. 大近1倍
102. 1995~2003年，城市居民可支配收入的年平均增长额是多少元/人？（ ）  
A. 360.5  
B. 306.5  
C. 686.3  
D. 650
103. 1996~2003年，农民人均纯收入年增长率最大的是哪一年？（ ）  
A. 1996  
B. 1997  
C. 2002  
D. 2003
104. 1996~2003年，城市居民可支配收入年增长额最大的是哪一年？（ ）  
A. 1996  
B. 1999  
C. 2001  
D. 2003
105. 下列说法正确的是（ ）。

- A. 1996~2003 年，城市居民可支配收入的年增长率逐年上升
- B. 1996~2003 年，农民人均纯收入的年增长率逐年上升
- C. 1996~2003 年，城市居民可支配收入的年增长额逐年上升
- D. 1996~2003 年，农民人均纯收入与城市居民可支配收入之间的差距逐年扩大