

## 第一部分 常识判断

根据题目要求，在四个选项中选出一个最恰当的答案。

请开始答题：

1. 马克思主义哲学认为，认识一旦形成，就会反作用于实践指导实践的全过程，这是因为（ ）。  
①实践是检验认识正确与否的唯一标准  
②实践目标的确立，需要认识的指导  
③对实践手段、方法、道路、步骤的取舍，需要认识的指导  
④对实践结果的评价，需要认识的指导  
⑤认识在不断发展过程中需要实践提供动力  
A. ①③⑤  
B. ②③④  
C. ①②③④  
D. ②③④⑤
2. 辛亥革命后屡遭挫折的孙中山先生，把中国共产党人当成亲密朋友，毅然改组国民党，实行（ ）三大政策。  
A. 联美、溶共、扶助农工  
B. 联俄、联共、扶助农工  
C. 民族、民权、民生  
D. 民族、民主、民生
3. 在毛泽东思想形成的过程中，毛泽东同志发表过很多著名的文章，以下四篇文章中发表最早的是（ ）。  
A. 《矛盾论》  
B. 《论持久战》  
C. 《中国社会各阶层的分析》  
D. 《星星之火，可以燎原》
4. 1992年初，邓小平在南方谈话中提出了判断改革和各方面工作是非得失的“三个有利于”标准，是指是否有利于发展社会主义社会的生产力和（ ）。  
A. 是否有利于增强社会主义国家的综合国力，是否有利于提高人民的生活水平  
B. 是否有利于提高人民的生活水平，是否有利于巩固中国共产党的执政地位  
C. 是否有利于增强社会主义国家的国际影响力，是否有利于提高人民的生活水平  
D. 是否有利于发展社会主义社会民主政治，是否有利于发展社会主义先进文化
5. “金砖四国”（BRIC）引用了巴西、俄罗斯、印度和中国的首字母。由于该词与英语单词的砖（Brick）类似，因此被称为“金砖四国”。后来（ ）国家加入，“金砖四国”的英语单词变为“BRICS”，并改称为金砖国家。  
A. 沙特阿拉伯  
B. 苏丹  
C. 南非  
D. 西班牙
6. 2011年12月举行的中央经济工作会议认为，推动2012年经济社会发展，要突出把握好（ ）的工作总基调。  
A. 调整结构  
B. 加速转型  
C. 稳中求进  
D. 平稳较快发展
7. 以下哪项最不可能是政府实施最低价控制的原因（ ）。  
A. 避免价格上的恶性竞争  
B. 保护某行业的收入  
C. 避免某些商品出现短缺  
D. 防止垄断行业索取高额利润
8. （ ）指出，在一个家庭或在一个国家中，食物支出在收入中所占的比例随着收入的增加而减少。  
A. 恩格尔定律  
B. 科斯定律  
C. 凯恩斯主义  
D. 相对收入消费理论

9. 根据我国宪法规定，下列哪项权利属于公民基本权利中的政治权利和自由（ ）。
- A. 平等权  
B. 言论自由  
C. 宗教信仰自由  
D. 批评、建议和检举权
10. 下列选项中，哪一行为构成正当防卫（ ）。
- A. 甲到商场购物时将自己的汽车停在商场门口，买完东西时发现乙打碎车窗玻璃，在偷车内的东西，于是上前将乙抓住，并趁乙不注意将其打晕，送往派出所
- B. 甲持枪闯进某单位的财务室，逼着财务室工作人员乙打开保险柜，在甲让乙往口袋装钱时，乙的同事进来趁甲不注意将其砸成重伤
- C. 甲对乙心存怨恨，故意辱骂乙，乙气急要动手打甲，甲拿起准备好的棍子将乙手臂打伤
- D. 甲在大街上打电话，被乙抢走了手机，甲追赶乙未果。第二天在大街上发现了乙，于是偷偷在其背后将其打倒抢走了乙身上的财物
11. 行政诉讼的一审程序由起诉、受理、审理和裁判四个相互衔接的阶段构成，以下关于该四个阶段的相关表述中，不正确的一项是（ ）。
- A. 原告起诉，应当有明确的被告和具体的诉讼请求
- B. 人民法院对起诉做审查后，认为符合行政诉讼的受理条件的，应在7日内立案受理
- C. 行政诉讼一审审理的方式为书面审理
- D. 经审理，人民法院认为行政处罚显失公正的，可以判决变更
12. 根据我国公务员制度的相关规定，录用担任（ ）及其他相当职务层次的非领导职务公务员，采取公开考试、严格考查、平等竞争、择优录取的办法。
- A. 科员以上  
B. 主任科员以上  
C. 科员以下  
D. 主任科员以下
13. 以下是中国一位帝王改革的内容：（1）推行均田制（2）迁都洛阳（3）革除鲜卑旧俗，接受汉族先进文化（4）改革官制，严惩贪污。问这位皇帝是（ ）。
- A. 北魏孝文帝拓跋宏  
B. 辽太祖耶律阿保机  
C. 元太祖铁木真  
D. 金太祖完颜阿骨打
14. 下列哪一战役是第二次世界大战的转折点，使德国法西斯军队被迫转入战略防御（ ）。
- A. 不列颠之战  
B. 莫斯科保卫战  
C. 斯大林格勒保卫战  
D. 空袭珍珠港
15. 下列关于我国国情的表述中，不正确的一项是（ ）。
- A. 计划生育是我国的基本国策
- B. 民兵是我国武装力量的组成部分
- C. 我国耕地面积不足陆地总面积的5%
- D. 根据全国第六次人口普查，我国人口已达13.7亿
16. 人类科技发展的历程中，先后出现了下列科技词语：（1）电子计算机（2）量子力学（3）航天器（4）转基因水稻，按时间先后顺序排列正确的是（ ）。
- A. （1）（2）（3）（4）  
B. （2）（1）（3）（4）  
C. （2）（3）（4）（1）  
D. （3）（1）（2）（4）
17. 下列关于公文知识的表述中，不正确的一项是（ ）。
- A. 附件即附注，是公文正文的重要组成部分
- B. 请示应当一文一事，一般只写一个主送机关
- C. 不相隶属机关之间相互商洽工作、询问和答复问题可以用函
- D. 保密公文的密级分为绝密、机密和秘密三种

18. 下列四个节日中，杭州市白昼最长的是（ ）。
- A. 元旦  
B. 劳动节  
C. 儿童节  
D. 国庆节
19. 下列名言与作者的对应关系不正确的一项是（ ）。
- A. “朝闻道，夕死可矣”——孔子  
B. “生于忧患，死于安乐”——孟子  
C. “天行有常，不以尧存，不以桀亡”——荀子  
D. “兼相爱，交相利”——老子
20. 下列有关书画知识的说法中，不正确的是（ ）。
- A. “书圣”指王羲之，其代表作《兰亭序》被称为“天下第一行书”
- B. “颜筋柳骨”指的两位楷书家是颜真卿和柳公权，而“颠张醉素”指的两位草书家是张旭和怀素
- C. 中国古代绘画常以朱红色和青色为主色调，故称绘画为“丹青”
- D. 黄公望是明代著名画家，与沈周、仇英、文征明并称“明四家”，著名的《富春山居图》为其代表作

## 第二部分 言语理解与表达

本部分包括表达与理解两方面的内容。请根据题目要求，在四个选项中选出一个最恰当的答案。

请开始答题：

21. 房产税并非能直接降低房价，但是对房价预测起作用，\_\_\_\_\_在于建立合理的长效税收机制，对于促进商品房市场机制的形成必不可少。今后应征收存量房的房产税，以逐步\_\_\_\_\_土地出让金，这一步应及早进行。  
依次填入划横线部分最恰当的一项是（ ）。
- A. 目的 废除  
B. 意义 取代  
C. 影响 废止  
D. 价值 取消
22. 收藏家从来不是将艺术品作为商品来对待的人，对他们而言，收藏\_\_\_\_\_是一种暂时性的投资，\_\_\_\_\_是一种激情，艺术的激情，物质的激情，历史的激情，占有的激情。正是这种激情重新改写了艺术品的意义。  
填入划横线部分最恰当的一项是（ ）。
- A. 与其说 不如说  
B. 不仅 而且  
C. 尽管 然而  
D. 哪怕 也
23. 一个人拥有包容心态，在为人处事时就不会\_\_\_\_，也不会卑躬屈膝，他会平心静气，拒绝浮华，兼收并蓄，包容万物。  
填入划横线部分最恰当的一项是（ ）。
- A. 目空一切  
B. 盛气凌人  
C. 狂妄自大  
D. 仗势欺人
24. 关于兰州拉面用“食用胶”使面条筋道的报道，再一次\_\_\_\_\_了公众对于“食品添加剂”敏感的神经，“吃一碗面等于吃掉一只塑料袋”的恐怖，成功煽起了公众的\_\_\_\_\_——这再次凸显我们的记者急需提升基本的科学素养。  
填入划横线部分最恰当的一项是（ ）。
- A. 震动 惊慌  
B. 触动 慌乱  
C. 拨动 恐慌  
D. 惊动 恐惧
25. 似曾相识的故事，只要你静心观察，就在我们生活周遭日复一日\_\_\_\_\_地演出，人生旅途看起来纷繁纷沓，置身其中才知那是独来独往的终身体验-----沿途的浮光掠影，何尝不是为了成就我们或丰饶或\_\_\_\_\_的内在。  
填入划横线部分最恰当的一项是（ ）。
- A. 单一式 单薄  
B. 木偶式 贫穷  
C. 平面化 骨感  
D. 机械化 贫瘠
26. 在深刻变化的社会转型期，思想观念多样多元多变，一些领域道德\_\_\_\_，一些社会成员人生观、价值观扭曲，这是文艺工作者必须面对的时代\_\_\_\_。如何实现文艺的社会价值，净化心灵，烛照前行，这是文艺工作者必须回答的时代\_\_\_\_\_。  
填入划横线部分最恰当的一项是（ ）。
- A. 失当 背景 主题  
B. 缺失 环境 命题  
C. 失范 场景 命题  
D. 缺乏 境况 问题
27. 这首\_\_\_\_\_的山西民歌，将男女至爱，离别情绪与人生的苦情一并抒发，以凄婉的歌声，揭开了移民史上\_\_\_\_\_的一页，饱含着时代的沧桑。

填入划横线部分最恰当的一项是（ ）。

- A. 脍炙人口 波澜壮阔  
B. 脍炙人口 气势磅礴  
C. 喜闻乐见 浩浩荡荡  
D. 喜闻乐见 沧海桑田

28. 领导人下台只是欧债危机的一个后果，并非医治危机的良药，欧洲依然在艰难\_\_\_\_\_，并试图寻求外界的援助，但是大西洋对岸的美国盟友已经\_\_\_\_\_，唯一有实力施以援手的是欧亚大陆另一端的中国。

填入划横线部分最恰当的一项是（ ）。

- A. 挣扎 形影相吊  
B. 踟蹰 焦头烂额  
C. 突围 自顾不暇  
D. 徘徊 分身乏术

29. 亚当·斯密认为，人们只有享有参与到市场经济进程的\_\_\_\_\_，才会增加财富。只有在这样的背景下，人们才能寻找到他的比较优势，才能\_\_\_\_\_每个人身上的企业家禀赋。因此有人说，其实每个人都是企业家，每个人都在创新，\_\_\_\_\_是我们的制度设计是否给每个人这样的机会。

填入划横线部分最恰当的一项是（ ）。

- A. 自由 激活 关键  
B. 保障 引发 前提  
C. 权利 驱动 主要  
D. 保证 释放 条件

30. 革命免不了使用暴力，免不了造成社会一定的破坏和震荡，这是\_\_\_\_\_的客观事实。有人据此否定革命，认为革命的代价太大，不如采取和平渐进的改良方式为好，这种观点貌似有理，但它脱离具体情况抽象地议论改良和革命孰优孰劣，实则毫无意义。

填入划横线部分最恰当的一项是（ ）。

- A. 不可否认  
B. 毋庸置疑  
C. 不言而喻  
D. 无可争辩

31. 有的人藐视一切他们弄不懂的事物，以\_\_\_\_\_来掩盖自己的\_\_\_\_\_。

填入画横线部分最恰当的一项是（ ）。

- A. 无畏 平庸  
B. 愚昧 自负  
C. 轻蔑 无知  
D. 不屑 自卑

32. 我国传统法律文化中确实存在大量与现代法治\_\_\_\_\_的消极因素，它们严重阻碍了法律文化传统的自我更新。但同时，我们不能因此就简单否定其全部价值，毕竟，“传统是历史和文化的积淀，只能更新，不能铲除，失去传统就失去了民族文化的特点，就失去了前进的历史与文化的基礎”。

填入画横线部分最恰当的一项是（ ）。

- A. 大相径庭  
B. 扞格不入  
C. 背道而驰  
D. 截然不同

33. 有人总是把工作当成一种负担，得过且过，搪塞敷衍，这是很可怕的，因为慢慢地你的理想就会被\_\_\_\_\_，志气就会被蚕食，最终难免迷失方向，沦为平庸之辈。

填入画横线部分最恰当的一项是（ ）。

- A. 磨灭  
B. 摧毁  
C. 丢弃  
D. 消磨

34. 扬善必须抑恶，扶正自应祛邪，一个健康、文明的社会当然不应让横行一方、为非作歹的黑恶势力逍遥法外，不应为毒害健康、\_\_\_\_\_暴利的无良企业庇护，不应对权钱勾结、贪婪攫取的腐败现象\_\_\_\_\_，不应让\_\_\_\_\_侵夺他人权益的缺德行为无所制约。

填入画横线部分最恰当的一项是（ ）。

- A. 获取 漠然置之 随意  
B. 获取 不闻不问 恣意  
C. 牟取 置之不理 任意  
D. 牟取 麻木不仁 肆意
35. 下列词语中，加点字读音不正确的一项是（ ）。
- A. 湍 (tuān) 急  
B. 谰 (jué) 诈  
C. 木讷 (nè)  
D. 牛虻 (máng)
36. 下列词语中，没有错别字的一项是（ ）。
- A. 范筹 抉择 棉里藏针 望风披靡  
B. 妨害 亟待 徇私枉法 挺而走险  
C. 枯燥 脉络 投鼠忌器 因噎费食  
D. 怂恿 羁绊 阴谋诡计 同仇敌忾
37. 下列句子中，带括号的成语使用不恰当的一项是（ ）。
- A. 不到实际中去调查，光靠少数人(苦心孤诣)，是解决不了问题的。  
B. 假如每个人都能(见贤思齐)，以人之长补己之短，那么我们的生活将变得愈加美好。  
C. 永远不要对他人的苦难(无动于衷)，因为谁也无法保证下一个不是你。  
D. 顶尖人才大多不是培养出来的，这是一个(耳顺之年)的老教师最爱讲的话。
38. 下列句子中，句意明确，没有语病的一项是（ ）。
- A. 王教授仔细分析了那两套应急方案，反复斟酌后说：“要是如果让我选择的话，我选第一套方案。”  
B. 郭美美事件引发了社会对红十字会如何化解危机、信息透明化的重要性以及商界的社会责任等各方面问题的广泛讨论。  
C. 要是一个共产党员的理想信念不坚定，那么他即使工作能力很强，也不应该被委以重任，因为他迟早会出大问题。  
D. 不同民族对“龙”的认识和联想各不相同，在很大程度上是受地理环境、民情风俗和宗教信仰等因素的影响造成的。
39. 判断下列句子中使用的修辞手法，不正确的一项是（ ）。
- A. 墙上芦苇，头重脚轻根底浅；山间竹笋，嘴尖皮厚腹中空。(对偶)  
B. 雷锋说：“大嫂，别问了，我叫解放军，就住在中国。”(借代)  
C. 古老的神州是一头沉睡未醒的睡狮，一旦觉醒，定会横空出世。(比拟)  
D. 燕子去了，有再来的时候；杨柳枯了，有再青的时候；桃花谢了，有再开的时候。(排比)
40. ①我的食物基本都不是我自己做的，衣服更是一件都没做过。  
②用我们的专长来表达是唯一的方式——因为我们不会写鲍勃·迪伦的歌或汤姆·斯托帕德的戏剧。  
③我想大多数创造者都想为我们得以利用前人取得的成就表达感激。  
④我并没有发明我用的语言或数学。  
⑤我们很多人都想回馈社会，在这股洪流中再添上一笔。  
⑥我所做的每一件事都有赖于我们人类的其他成员，以及他们的贡献和成就。  
将以上 6 个句子重新排列，语序正确的是（ ）。
- A. ③⑥①④⑤②  
B. ⑥④③①②⑤  
C. ③④①⑥⑤②  
D. ⑥⑤②①④③
41. ①这其中一脉相承地贯穿了中国传统山水文化的精神和理念，体现了天人合一的历史文化的延续性  
②主要原因在于历史上的杭州人将传统山水文化的理念和西湖的治理融合在一起，并将这种融合延续下来，两者缺一不可

③中国拥有湖泊的城市很多，但为什么城市发展与景观和谐并存的鲜而有之，而尤以杭州与西湖这一例凸显了出来

④这种天人合一的延续性，是中国其他城市普遍缺失的

⑤我们翻阅西湖的历史，那就是一部保护与治理的历史，就是城市建设与景观建设相辅相成的历史

将以上 5 个句子重新排列，语序正确的是（ ）。

- A. ①④③⑤②  
B. ③⑤④①②  
C. ⑤①④③②  
D. ③②④①⑤

42. ①他们保存历史的唯一办法是将历史当作传说讲述，由讲述人一代接一代将史实描述为传奇故事口传下来。

②但是，没有人能把他们当时做的事情记载下来。

③这些传说是很有用的，因为它们能告诉我们以往人们迁居的情况。

④我们从书籍中可以读到 5000 年前近东发生的事情，那里的人最早学会了写字。

⑤但直到现在，世界上仍然有些地方，人们还不会书写。

将以上 5 个句子重新排列，语序正确的是（ ）。

- A. ①③②④⑤  
B. ④①③②⑤  
C. ④⑤①③②  
D. ①②③④⑤

43.①虽然在诸多布衣之士那里，把功成身退视为理想的结局，但无可否认，在他们的内心深处，亦有渴望乃至留恋荣华富贵的虚荣感和现实享受的功利观念。

②因为在他们的思想中，出而为仕的主要目的是为了推行他们理想中的道，而荣华富贵是附着于上的次生品。

③渴望遇合，达则兼济天下，救国难，解民忧，建不朽之功，永世之业，这是布衣之士共同的理想目标。

④乐道安贫是布衣之士在长时期的历史过程中形成的可贵的精神气节。

⑤然而，在荣华富贵与道之间，布衣之士首先选择的还是道。

⑥当其与道不违时，他们可以而且也乐于接受；反之，就会毫不犹豫地舍弃它。

将以上 6 个句子重新排列，语序正确的是（ ）。

- A. ③①④②⑥⑤  
B. ③②⑤④⑥①  
C. ④①⑤⑥②③  
D. ④③①⑤②⑥

44. 政府的信息发布在定位上应当有所不同，重在体现政务微博的“公共性”。“卷心菜”事件中，“上海发布”的“公共性”体现为善意搭建城市供应与需求之间的关联：要让一个特大城市巨量的市民得到稳定的日常供应保障，不容易；而要让供应市民的蔬菜种植者，在“看天吃饭”生产状态还无法改变的情况下，利益得到保障，从而维持种菜积极性和稳定性，更不容易——  
\_\_\_\_\_，而不是仅仅关心吃菜市民的便宜、方便，正是“卷心菜”信息发布时的公共定位。填入划横线部分最恰当的一句是（ ）。

- A. 切实维护好广大种菜农民的利益  
B. 同时着眼生产和消费两方面  
C. 建立起吃菜市民和种菜农民的情感关联  
D. 全面考虑“卷心菜”信息发布的作用

45. 科学是认识客观世界的动态过程。科学活动特别是现代科学活动，可以根据社会需要、已有知识的指导、前人的经验和学科的预测而设定目标，安排计划。然而，与按既定规程动作的物质生产过程不同，\_\_\_\_\_，因而难以完全按预定的目的和计划进行，有其不确定性和强烈的探索性。

填入划横线部分最恰当的一句是（ ）。

- A. 科学活动面对的是未知的或知之较少的世界 B. 科学活动是社会的一种精神生产  
C. 科学活动的具体形式多种多样 D. 科学活动需要不断创新
46. 在现代民主制国家中，法律至少在形式上追求六个方面的价值目标，即平等、民主、秩序、自由和效率以及程序的正义，为了实现上述的价值或协调上述价值以充分发挥其调整社会关系的功能和效率，法律必须首先确立其社会成员中的权威，使人们自愿接受它所确立的行为规范，而要促成这种结果，就一定要依靠民主制度自身的建设，民主愈发达，就能够有效地控制权力的滥用和特权的滋生。这将会为法律的适用和遵守提供良好的政治环境和社会环境，法律也因此而更加具有权威性和有效性。  
这段文字意在说明（ ）。
- A. 民主是现代法最核心的价值目标 B. 民主是实现现代法价值的前提和基础  
C. 民主决定现代法的发展方向 D. 民主是现代法的权威与作用的保障
47. 文化“必定有异”，文明“难免有异”；文化“必须存异”，文明“可以存异”。这就是文化与文明的区别。所以，文化可以交流，甚至融合，但最终“存异”。文明的趋向，却是“求同”。因为文明的背后，是核心价值；而只有人类的共同价值，才最有价值。由此可见，只要把握了全人类的共同价值，又能兼收并蓄各民族的不同文化，那就能打造出自己的“文化航母”。  
根据这段文字，不能得出的观点是（ ）。
- A. “求同”是打造文化航母的根本 B. 文化对“异”的包容程度要宽于文明  
C. 世界文明存在着不同价值取向 D. 文化即使融合也难以消除差异
48. 在信仰崩溃的时代，那些佯癫装疯的狂人倒是一些太严肃地对待其信仰的人。鲁迅深知此中之理，说嵇康、阮籍表面上毁坏礼教，实则倒是太相信礼教，因为不满意当权者利用和亵渎礼教，才以反礼教的过激行为发泄内心的愤想。其实，在任何信仰体制之下，多数人并非真有信仰，只是做出相信的样子罢了。于是，过分认真的人就起而论究是非，阐释信仰之真谛，结果被视为异端。  
对这段文字的主要意思概括最恰当的一项是（ ）。
- A. 真正有信仰的人并不多 B. 真正信仰者往往是那些被视为异端的人  
C. 把信仰太当回事会使人行为不正常 D. 很多自称有信仰的人只是徒有其表
49. 纵然有一百个理由为职业“光环”褪色而辩解，更有一万个理由要求这个职业不能踩踏底线。弃守底线，不管是搬出为了生存的经济理由，还是将良知的缺失归咎为体制的束缚，将一切推责给外在的环境，都是对职业伦理的戕害。  
这段文字意在说明（ ）。
- A. 体制的束缚是职业伦理受损的主因 B. 体制伦理受损一般源自职业“光环”的褪色  
C. 任何时候都不能突破职业道德底线 D. 弃守底线者总会替自己找借口
50. 在几千年的历史中，我们始终没有断过敌人，东西南北，四面都有。虽然有的当年的敌人今天可能已融入中华民族之中；但是在当年，他们只能算是敌人。我们决不能把古代史现代化，否则苏武、岳飞、文天祥等等一大批著名的爱国者，就都被剥去了爱国的光环，成为内战的牺牲者。  
这段文字的主旨是（ ）。
- A. 民族英雄都是爱国者 B. 内战和统一交替是历史发展的规律  
C. 不同时期的爱国主义都具有狭隘性 D. 不能因历史变迁而否定民族英雄事迹
51. 现在的学术发言环境比过去好多了，可知识分子中存在一种奇怪的犬儒主义，不敢把自己的思想讲出来，唯恐得罪什么人。之所以存在这种情况，有些是过去搞怕了，有些是胆小。但你在学术界，不把真正的问题讲出来，看别人的脸色行事，是做不成学问、搞不成研究的。



对这段文字的主要意思概括最恰当的一项是（ ）。

- A. 做学问要敢于挑战权威
- B. 没有骨气的人成不了学术大家
- C. 敢于表达自己的思想才能做好学问
- D. 学术环境是影响学术成就的重要因素

52. 第二次世界大战后，多数先行国家的行政重心逐渐向社会福利管理转移，它们的人口基础管理，普遍形成了一种以“人口服务”为主的新体制。这种体制并没有放弃人口的管控，只是这种管控的核心目标是人口服务，基本手段是人口服务，表现形式也是人口服务。它将管控寓于服务之中，而不是相反，我国社会转型下的人口管理，显然也面临着类似的调整。

以下表述与这段文字意思不相符的是（ ）。

- A. 我国的人口管理应确立人口服务的管理宗旨
- B. 人口管控与人口服务是完全不同的两种模式
- C. 先行国家的人口管理转型是行政重心转移的结果
- D. 人口管理的新体制通过人口服务实现人口管控

53. 世界是由无数具体事物及其联系构成的有机整体。按照认识的顺序，人们的认识从具体的、个别的、有限的事物开始。然而人的思维本性总是不满足于对具体事物的个别方面或局部的支离破碎的认识，不愿意停留在“管中窥豹，只见一斑”的状态，人们孜孜不倦地探索诸多看似孤立的事物背后的内在联系。这种形而上的思考就是哲学思考，自古至今，从未中断。

对这段文字的主要意思概括最恰当的一项是（ ）。

- A. 哲学思考追求整体性
- B. 哲学思考意在揭示事物的本质
- C. 哲学思考具有连续性
- D. 哲学思考以抽象思维为主导

54. 在中国文化的剧烈冲击下，佛教如果不能适应现实情况，必然不能在中国立定脚跟，于是佛教只能做出某一些伪装，以求得生存。早前佛典中有些地方特别强调“孝”字，就是歪曲原文含义以适应中国具有浓厚纲纪色彩文化的要求。

对这段文字的主要意思概括最恰当的一项是（ ）。

- A. 佛教是一个适应性很强的宗教
- B. “孝”是佛典发展过程中衍生出来的要义之一
- C. 佛学在中国传统文化传承中的影响较深
- D. 传统文化的力量迫使佛教在传播中采取了变通策略

55. 君子所见无不善，小人所见无不恶。拾荒的陈阿姨并不像一些人那样，将帮助别人的这种再简单不过的事情也想象得那样复杂、可怕。作为一个真正富有正义感的人，不会在助人为乐之前就考虑自己做了好事是不是会被冤枉，为自己寻找一个不作为的借口。举手之劳怎么却变得如此艰难，要不要扶起来倒地的弱者似乎成了今天一个重要的社会问题。

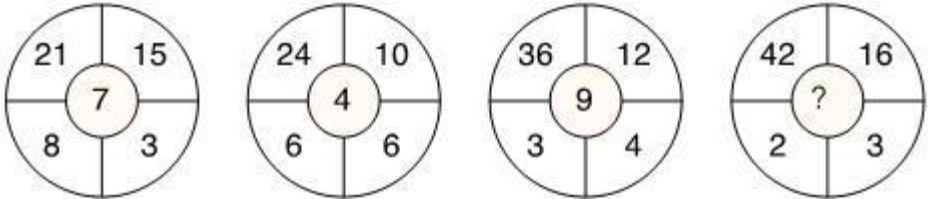
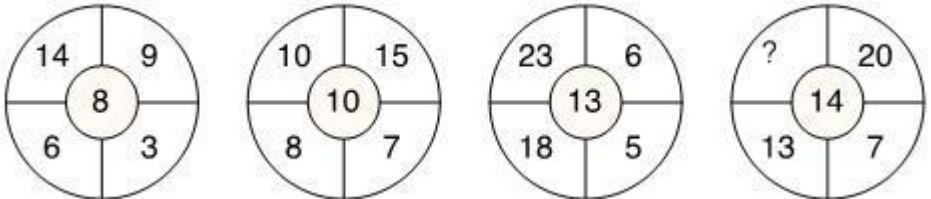
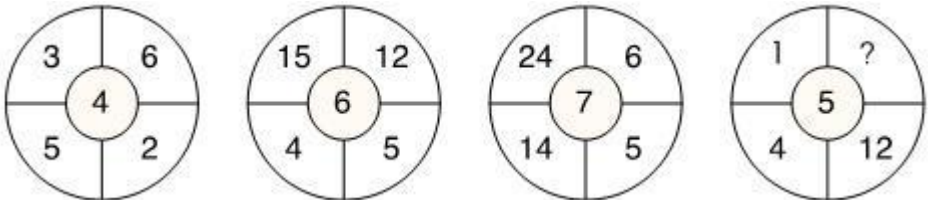
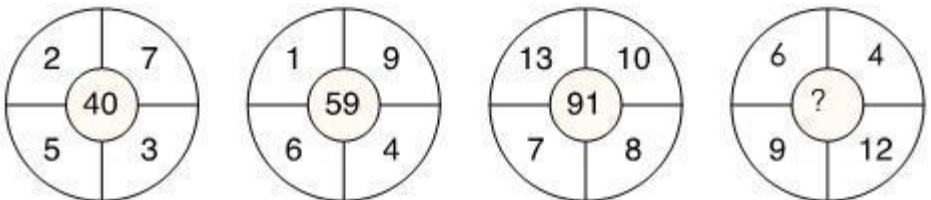
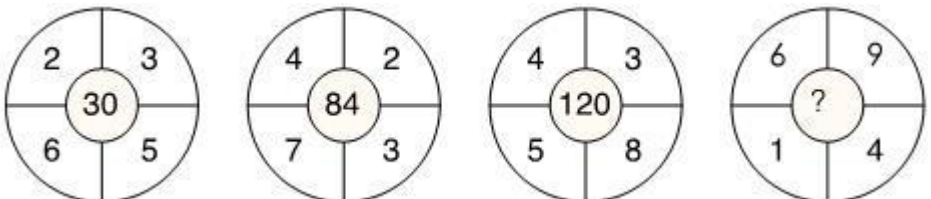
这段文字意在说明（ ）。

- A. 要积极营造助人为乐的社会环境
- B. 有正义感的人做好事时不会考虑得失
- C. 遇到弱者需要帮助时，我们应伸出援助之手
- D. 当今社会缺乏正义感，出现了道德危机

### 第三部分 数量关系

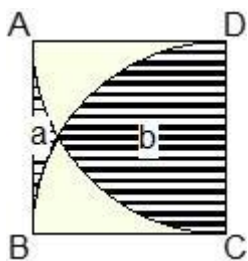
在这部分试题中，每道题呈现一段表述数字关系的文字，要求你迅速、准确地计算出答案。

请开始答题：

56. 
- A. 14  
B. 15  
C. 16  
D. 17
57. 
- A. 6  
B. 12  
C. 16  
D. 24
58. 
- A. 6  
B. 8  
C. 10  
D. 12
59. 
- A. 54  
B. 63  
C. 85  
D. 108
60. 
- A. 24  
B. 36  
C. 54  
D. 108
61. 2、4、3、7、16、107、( )
- A. 1594  
B. 1684  
C. 1707  
D. 1856

62.  $1/4$ 、 $3/4$ 、 $1$ 、 $7/6$ 、 $31/24$ 、 $167/120$ 、( )  
 A.  $59/40$  B.  $271/180$   
 C.  $1087/720$  D.  $1337/960$
63.  $243$ 、 $162$ 、 $108$ 、 $72$ 、 $48$ 、( )  
 A.  $26$  B.  $28$   
 C.  $30$  D.  $32$
64.  $3$ 、 $-2$ 、 $1$ 、 $3$ 、 $8$ 、 $61$ 、( )  
 A.  $3692$  B.  $3713$   
 C.  $3764$  D.  $3816$
65.  $1$ 、 $6$ 、 $5$ 、 $7$ 、 $2$ 、 $8$ 、 $6$ 、 $9$ 、( )  
 A.  $1$  B.  $2$   
 C.  $3$  D.  $4$
66.  $1/3$ 、 $4/13$ 、 $14/39$ 、 $12/41$ ，以上这四个数中，最大的数为最小的数的几倍？( )  
 A.  $7/6$  倍 B.  $14/13$  倍  
 C.  $41/36$  倍 D.  $287/234$  倍
67. 已知  $x = \frac{1}{\frac{1}{2002} + \frac{1}{2003} + \dots + \frac{1}{2012}}$ ，问 X 的整数部分是多少？( )  
 A.  $182$  B.  $186$   
 C.  $194$  D.  $196$
68. 如果方程  $2x^3 + ax^2 - 5x - 2 = 0$  有一个根为  $1$ ，则  $a$  等于多少？( )  
 A.  $3$  B.  $4$   
 C.  $5$  D.  $6$
69. 四个连续奇数的和为  $32$ ，则他们的积为多少？( )  
 A.  $945$  B.  $1875$   
 C.  $2745$  D.  $3465$
70. 某班级去超市采购体育用品时发现买  $4$  个篮球和  $2$  个排球共需  $560$  元，而买  $2$  个排球和  $4$  个足球则共需  $500$  元。问如果篮球、排球和足球各买  $1$  个，共需多少元？( )  
 A.  $250$  元 B.  $255$  元  
 C.  $260$  元 D.  $265$  元
71. 有一个长方形容器，长  $40$  厘米，宽  $30$  厘米，高  $10$  厘米，里面水深  $6$  厘米（最大面为底面）。如果把容器盖紧，再竖起来（最小面为底面），里面的水深是多少厘米？( )  
 A.  $15$  厘米 B.  $18$  厘米  
 C.  $24$  厘米 D.  $30$  厘米
72. 一容器内有浓度为  $30\%$  的糖水，若再加入  $30$  千克水与  $6$  千克糖，则糖水的浓度变为  $25\%$ 。问原来糖水中含糖多少千克？( )  
 A.  $15$  千克 B.  $18$  千克  
 C.  $21$  千克 D.  $24$  千克
73. A、B 两地间有条公路，甲乙两人分别从 A、B 两地出发相向而行，甲先走半小时后，乙才出发，一小时后两人相遇，甲的速度是乙的  $2/3$ 。问甲、乙所走的路程之比是多少？( )  
 A.  $5:6$  B.  $1:1$   
 C.  $6:5$  D.  $4:3$

74. 南阳中学有语文教师 8 名、数学教师 7 名、英语教师 5 名和体育教师 2 名。现要从以上四科教师中各选出 1 名教师去参加培训，问共有几种不同的选法？（ ）
- A. 96  
B. 124  
C. 382  
D. 560
75. 有一个上世纪 80 年代出生的人，如果他能活到 80 岁，那么有一年他的年龄的平方数正好等于那一年的年份。问此人生于那一年？（ ）
- A. 1980 年  
B. 1983 年  
C. 1986 年  
D. 1989 年
76. 有编号为 1~13 的卡片，每个编号有 4 张，共 52 张卡片。问至少摸出多少张，就可保证一定有 3 张卡片编号相连？（ ）
- A. 27 张  
B. 29 张  
C. 33 张  
D. 37 张
77. 某演唱会检票前若干分钟就有观众开始排队等候入场，而每分钟来的观众人数一样多。从开始检票到等候队伍消失，若同时开 4 个入场口需 50 分钟，若同时开 6 个入场口则需 30 分钟。问如果同时开 7 个入场口需几分钟？（ ）
- A. 18 分钟  
B. 20 分钟  
C. 22 分钟  
D. 25 分钟
78. 一个班里有 30 名学生，有 12 人会跳拉丁舞，有 8 人会跳肚皮舞，有 10 人会跳芭蕾舞。问至多有几人会跳两种舞蹈？（ ）
- A. 12 人  
B. 14 人  
C. 15 人  
D. 16 人
79. 有一架天平，只有 5 克和 30 克的砝码各一个。现在要用这架天平把 300 克味精平均分成 3 份，那么至少需要称多少次？（ ）
- A. 3 次  
B. 4 次  
C. 5 次  
D. 6 次
80. 如下图所示，正方形 ABCD 的边长 5cm，AC、BD 分别为以点 D 和点 C 为圆心、5cm 为半径的圆弧，问阴影部分 a 的面积比阴影部分 b 的小多少？（ $\pi$  为 3.14）（ ）



- A. 13.75 平方厘米  
B. 14.25 平方厘米  
C. 14.75 平方厘米  
D. 15.25 平方厘米

## 第四部分 判断推理

一、类比推理。每道题先给出一组相关的词，要求你在备选答案中找出一组与之在逻辑关系上最为贴近、相似或匹配的词。

请开始答题：

81. 眼睛：虹膜  
A. 骨头：关节  
C. 衣服：丝绸  
B. 乔木：白桦  
D. 手表：表带
82. 蝴蝶：蟋蟀  
A. 桑椹：鲜花  
C. 鹦鹉：海鸥  
B. 海棠：海参  
D. 恒星：太阳
83. 土地：农民  
A. 资本：商人  
C. 晚会：歌手  
B. 药方：医生  
D. 课本：教师
84. 创造：历史  
A. 发展：经济  
C. 发扬：光大  
B. 和谐：社会  
D. 生产：积累
85. 票友：业余  
A. 专家：肤浅  
C. 教师：慈祥  
B. 运动员：瘦弱  
D. 艺术大师：著名
86. 出人头地：苏轼  
A. 东山再起：谢安  
C. 投笔从戎：班固  
B. 多多益善：项羽  
D. 指鹿为马：李林甫
87. 百发百中：百步穿杨  
A. 门可罗雀：班门弄斧  
C. 不求甚解：囫囵吞枣  
B. 深思熟虑：优柔寡断  
D. 白日做梦：梦想成真
88. 道德：行为：约束  
A. 权力：人民：服务  
C. 教师：教育：学生  
B. 信仰：图腾：崇拜  
D. 法律：犯罪：惩治
89. 煤气灶：主妇：做饭  
A. 车间：工程师：生产  
C. 剪刀：理发师：美发  
B. 炼丹：道士：修行  
D. 马路：清洁工：打扫
90. 微博：媒体：消息  
A. 股票：有价证券：金融  
C. 长城：景点：北京  
B. 护照：证件：身份  
D. 债权：权利：债务

二、定义判断。每道题先给出定义，然后列出四种情况，要求你严格依据定义，从中选出一个最符合或最不符合该定义的答案。注意：假设这个定义是正确的，不容置疑的。

请开始答题：

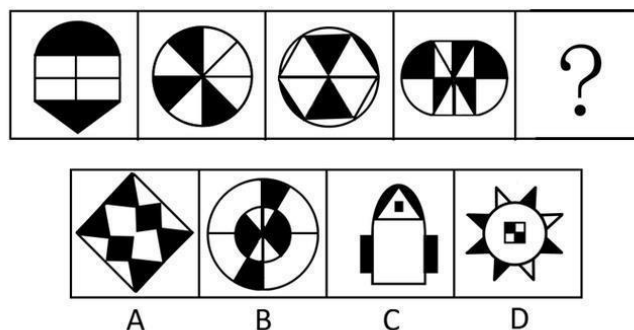
91. 附条件的民事法律行为：在意思表示当中附有决定该行为效力发生或者消灭条件的民事法律行为。  
下列那一项属于附条件的民事法律行为（ ）。

- A. 甲、乙订立房屋租赁合同，约定出租人甲的儿子一旦结婚需要布置新房时，就终止合同  
 B. 甲对乙说：“如果我儿子考上名牌大学，我一定请你吃饭。”  
 C. 甲与乙签订夏粮买卖合同，约定 11 月中旬生效  
 D. 甲与乙约定：如果甲晚上帮乙一起去打乙的仇人，乙就付给甲 1000 元钱
92. 行政成本：政府为了社会的公共管理和为公众提供公共服务付出的代价，包括直接行政成本和间接行政成本。  
 下列没有涉及行政成本的一项是（ ）。
- A. 某政府部门为了提高工作效率合并机构、精简工作人员  
 B. 某区政府为了应对私家车增多的问题，新建了两个地下公共停车场  
 C. 某商业银行为方便广大用户处理业务，耗费巨资开通了手机银行业务  
 D. 某公安局招聘交通协管员协助交警维护交通秩序
93. 无因管理：没有法律规定或者约定的义务而为他人管理事务。  
 下列行为中不属于无因管理的一项是（ ）。
- A. 甲收留了一位迷路的儿童，一边让他在自己家吃住，一边四处打听儿童父母的地址  
 B. 甲失踪后，其财产代管人乙对甲的财产进行管理  
 C. 甲看见有几个人在殴打乙，立即上前制止  
 D. 甲的邻居乙家失火，甲怕火烧伤乙家的小孩，于是实施救火
94. 简单命题：不包含其他命题的命题，只能把它分析为不同的词项，不能再把它分析为其他命题，因此又叫作“原子命题”。  
 下列哪项不是简单命题？（ ）
- A. 小明和小红是朋友  
 B. 生命在于运动  
 C. 掷骰子 4 点朝上的概率是 1/6  
 D. 小张既高且胖
95. 角色冲突：当一个人扮演一个角色或者同时扮演几个不同的角色时，由于不能胜任，造成不适宜而发生的矛盾和冲突。  
 下列情形不属于角色冲突的一项是（ ）。
- A. 一些大一新生入学后，面对新的生活环境很不适应  
 B. 某公司一职员由于业绩出众，被公司提拔为销售经理，但是他感到力不从心  
 C. 假期里，张某的妻子想让他陪她出去旅游，而他的母亲想让他回家陪父母  
 D. 在边远山区的一所小学里，某位老师既教数学，又教语文，但是学生们的两门功课成绩都很好

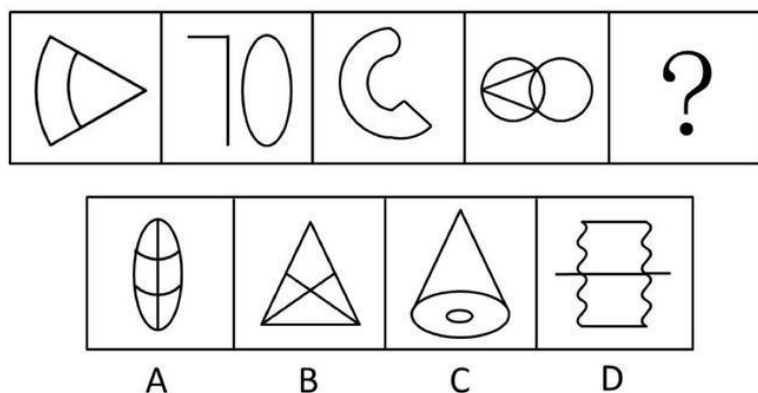
### 三、图形推理。请按每道题的答题要求作答。

请开始答题：

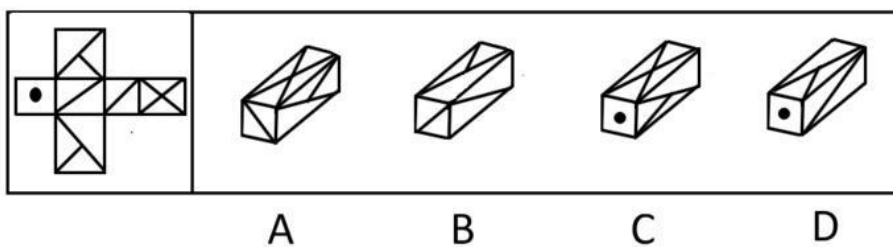
96. 从所给的四个选项中，选择最合适的一个填入问号处，使之呈现一定的规律性（ ）。




97. 从所给的四个选项中，选择最合适的一个填入问号处，使之呈现一定的规律性 ( )。



98. 左边给定的是纸盒的外表面，下面哪一项能由它折叠而成? ( )



99. 把下面的六个图形分为两类，使每一类图形都有各自的共同特征或规律，分类正确的一项是 ( )。



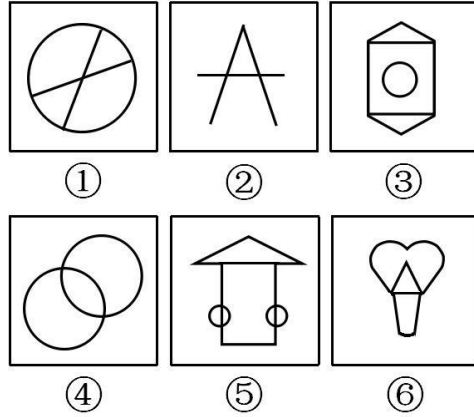
A. ①②④, ③⑤⑥

B. ①③⑤, ②④⑥

C. ①③⑥, ②④⑤

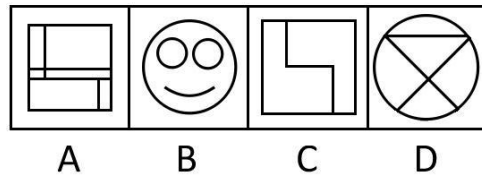
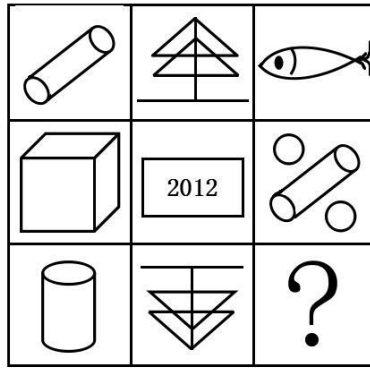
D. ①④⑥, ②③⑤

100. 把下面的六个图形分为两类，使每一类图形都有各自的共同特征或规律，分类正确的一项是 ( )。

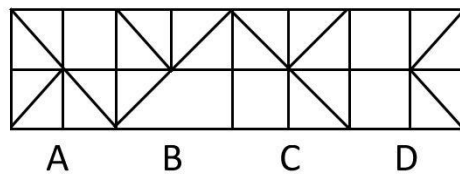
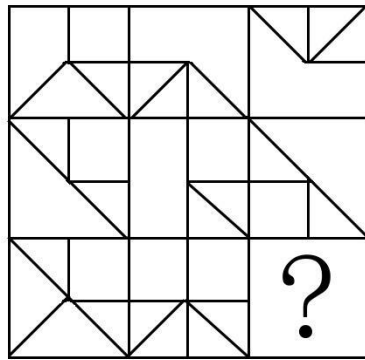


- A. ①②④, ③⑤⑥                                  B. ①③④, ②⑤⑥  
 C. ①③⑤, ②④⑥                                  D. ①④⑤, ②③⑥

101. 从所给的四个选项中, 选择最合适的一个填入问号处, 使之呈现一定的规律性 ( )。

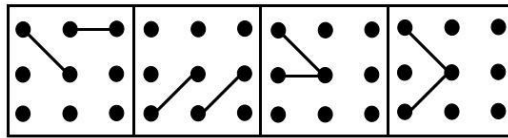



102. 从所给的四个选项中, 选择最合适的一个填入问号处, 使之呈现一定的规律性 ( )。




103. 从所给的四个选项中, 选择最合适的一个填入问号处, 使之呈现一定的规律性 ( )。





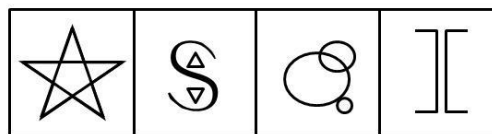

A B C D

104. 从所给的四个选项中，选择最合适的一个填入问号处，使之呈现一定的规律性 ( )。



A B C D

105. 从所给的四个选项中，选择最合适的一个填入问号处，使之呈现一定的规律性 ( )。



A B C D

四、逻辑判断。每道题给出一段陈述，这段陈述被假设是正确的，不容置疑的。要求你根据这段陈述，选择一个答案。注意：正确的答案应与所给的陈述相符合，不需要任何附加说明即可以从陈述中直接推出。

请开始答题：

106. “不可能所有深圳人都很有钱。”

以下哪项断定的涵义，与上述断定最为接近？（ ）

- A. 可能有的深圳人不是很有钱
- B. 可能有的深圳人很有钱
- C. 必然有的深圳人不是很有钱
- D. 必然大部分深圳人都很有钱

107. “小孙并非既会游泳又会打网球”

根据以上表述，下列哪项断定必然为真？（ ）

- A. 如果小孙不会打网球，那么他一定会游泳
- B. 如果小孙会打网球，那么他一定不会游泳
- C. 小孙既不会游泳，也不会打网球
- D. 小孙会游泳，但不会打网球

108. 以“如果孙强、李超不是优秀共青团员，那么周红是优秀共青团员”为一前提。

若要必然推出“李超是优秀共青团员”，则需要增加下列哪项作为前提？（ ）

- A. 周红不是优秀共青团员
- B. 孙强是优秀共青团员
- C. 周红是优秀共青团员，而孙强不是优秀共青团员
- D. 孙强和周红都不是优秀共青团员

109. 暑假里，小张的父母给小张报了摄影兴趣班和美术兴趣班，小张知道后说：“以后我又不想当摄影家，何必学摄影”。

以下哪项是小张的回答中包含的前提？（ ）

- A. 学摄影的不一定能成为摄影家
- B. 小张更想成为一名画家，而不是摄影家
- C. 只有想成为摄影家，才需要学摄影
- D. 与摄影相比，小张更喜欢学画画

110. 某大学寝室有 8 个人，三个是广东人，一个是北京人，有两个是北方人，一个保送生，三个是贫困生。

假设上述介绍涉及该寝室所有同学，则下列关于该寝室同学的判断与题干有矛盾的是（ ）。

- A. 保送的学生来自北方
- B. 北京人既不是保送生也不是贫困生
- C. 有两个贫困生是广东人
- D. 没有一个来自黑龙江的学生

111. 宏达公司管理人员的平均年薪为 20 万元，而销售人员的平均年薪是 18 万元，公司所有员工的平均年薪是 12 万元。

如果以上信息是正确的，能够推出以下哪一项结论？（ ）

- A. 至少有一位员工的年薪比销售人员的平均年薪低
- B. 没有一位销售人员的年薪比管理人员高
- C. 至少有一半管理人员的年薪比销售人员的平均年薪高
- D. 宏达公司的管理人员少于销售人员

112. 如果一个人在 A 城市乱扔垃圾就会被认为没有道德；一个人如果没有道德，城市里就没有人和他做朋友，一个人如果在城市没有朋友就寸步难行，无法继续留在这里。

从上述叙述中，可以推出以下哪项结论？（ ）

- A. 一个人在 B 城市乱扔垃圾但是仍然可以留在 A 城市
- B. 如果一个人道德修养很高，那么他就能留在 A 城市
- C. 生活在 A 城市的小李在过马路时将西瓜皮扔在地上，那么他将难以再留在 A 城市
- D. 小王没有留在 A 城市说明他缺乏道德修养

113. 北方某地区为了应对干旱，居民用水量已经受到严重的限制。不过目前水库储水量与5年前该地区干旱期间的储水量持平。既然当时居民用水量并未受到限制，所以现在也不应该受到限制。

下列哪一陈述为真，将最严重地削弱作者的主张？（ ）

- A. 居民用水量占总用水量的比重很大
- B. 自上次干旱以来，当地政府采取了一些节水措施
- C. 5年来该地区的人口数量显著增加
- D. 自上次干旱以来，该地区并没有建造新的水库

114. 科学家研究发现，由能承担部分母亲角色的机器替代母亲“养育”的雌性大猩猩幼崽，当她们有后代时，难以承担母亲的角色。而人类与大猩猩具有很大的相似性，所以婴儿不应该由保姆或日托中心来照管，而只应该由他们的亲生母亲来抚养。

下列哪一陈述为真，最能加强作者的结论？（ ）

- A. 研究表明大猩猩的个体差异不显著
- B. 当由机器替代母亲“养育”长大的雌性大猩猩有后代时，可以教会它们一些抚育技能
- C. 即使由亲生母亲抚育较短一段时间的大猩猩幼崽，长大后也能承担母亲的角色
- D. 由亲生母亲之外的其他雌性大猩猩抚养的大猩猩幼崽，当它们有后代时，都不能承担母亲的角色

115. 甲、乙、丙、丁、戊、己是一个家庭的兄弟，已知：甲是男孩，有3个姐姐；乙有一个哥哥和一个弟弟；丙是女孩，有一个姐姐和一个妹妹；丁的年龄在所有人当中是最大的；戊是女孩，但是她没有妹妹；己既没有弟弟也没有妹妹。

从上述叙述中，可以推出以下哪项结论？（ ）

- A. 己是女的且年龄最小
- B. 丁是女的
- C. 六个兄弟姐妹中女孩的数量多于男孩的数量
- D. 甲在六个兄弟姐妹中排行第三

## 第五部分 资料分析

针对下列图、表或文字回答问题。你应根据资料提供的信息进行分析、比较、计算、处理。你可以在题本上运算。

请开始答题：

一、根据以下资料，回答问题。

“十一五”期间，我国农村居民人均纯收入由 2005 年的 3255 元提高到 2010 年的 5919 元，增加 2664 元，年均增长 12.7%，扣除价格因素后，实际年均增长 8.9%。比“十五”期间农村居民收入年均实际增长速度高 3.6 个百分点。

2005-2010 年农村居民纯收入及增长情况

年份	纯收入(元/人)	比上年增长(元/人)	比上年名义增长(%)	扣除价格因素影响比上年实际增长(%)
2005	3255	“X”	10.8	6.2
2006	3587	332	10.2	7.4
2007	4140	553	15.4	9.5
2008	4761	620	15.0	8.0
2009	5153	393	8.2	8.5
2010	5919	766	14.9	10.9

2010 年农村居民的工资性收入人均 2431 元，比 2005 年增加 1257 元，增长 1.1 倍，年均增长 15.7%。在工资性收入中，在本乡地域内劳动得到的收入人均 1178 元，比 2005 年增加 610 元，增长 1.1 倍，年均增长 15.7%；外出务工收入人均 1015 元，比 2005 年增加 557 元，增长 1.2 倍，年均增长 17.2%。

2010 年农村居民家庭生产经营纯收入人均 2833 元，比 2005 年增加 988 元，增长 53.6%，年均增长 9.0%。其中，农村居民家庭经营第一产业纯收入人均 2231 元，比 2005 年增加 761 元，增长 51.8%，年均增长 8.7%，农村居民家庭从事第二产业生产经营得到的纯收入人均 182 元，比 2005 年增加 74 元，增长 68.2%，从事第三产业经营得到的纯收入人均 420 元，比 2005 年增加 153 元，增长 57.4%。

2010 年农村居民得到的转移性收入人均 453 元，比 2005 年增加 305 元，增长 2.1 倍。其中，2010 年各级政府给予的农业生产补贴收入人均 118 元，比 2005 年增加 100 元，增长 5.5 倍；2010 年农村居民领取的离退休金、养老金人均 113 元，比 2005 年增加 82 元，增长 2.7 倍；2010 年农村居民报销医疗费人均 27 元，比 2005 年增加 24 元，增长 8.7 倍；2010 年农村居民领取最低生活保障收入人均 12 元，比 2008 年增加 7 元，增长 1.5 倍。

2010 年农村居民的财产性收入人均 202 元，比 2005 年增加 114 元，增长 1.3 倍，年均增长 18.0%，年均增速比“十五”期间高 3.5 个百分点。

116. “十一五”期间，我国农村居民人均纯收入的名义增长率约为（ ）。

- A. 58.2%    B. 63.7%  
C. 74.5%    D. 81.8%

117. 材料中“X”的值与以下哪项最为接近？（ ）

- A. 280    B. 320  
C. 360    D. 400

118. “十一五”期间，我国农村居民人均工资性收入的增加值对农村居民人均纯收入增加的贡献率约为（ ）。

- A. 37.1%
- B. 43.6%
- C. 47.2%
- D. 50.4%

119. 2005年，我国农村居民家庭从事二、三产业生产经营得到的纯收入人均均为（ ）。

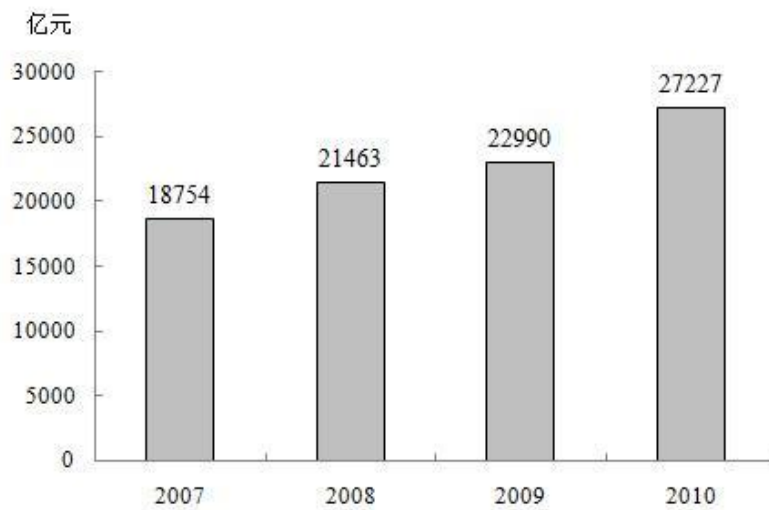
- A. 375元
- B. 446元
- C. 528元
- D. 602元

120. “十一五”期间，我国农村居民人均转移性收入的年均增长率约为（ ）。

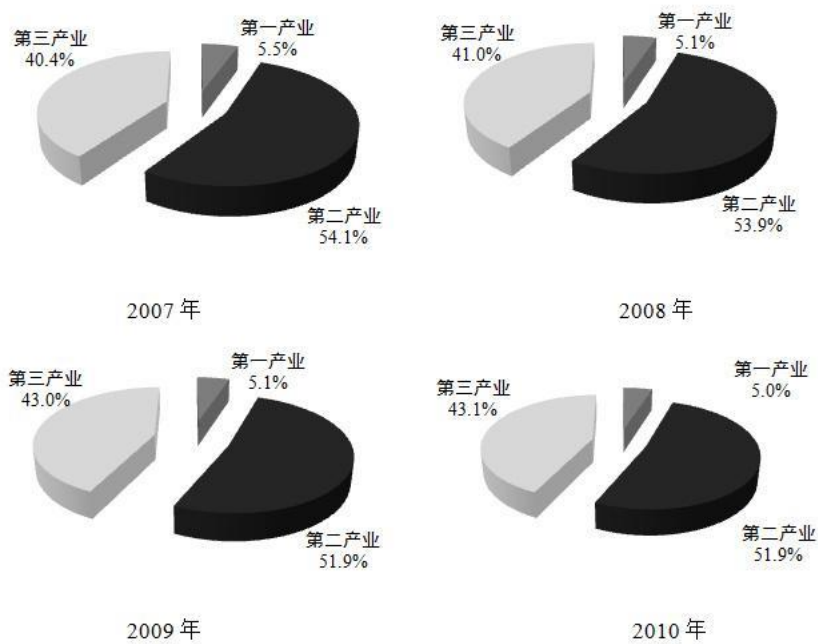
- A. 10%
- B. 15%
- C. 20%
- D. 25%

二、根据以下资料，回答问题。

2007-2010年浙江省生产总值增长统计图



2007-2010年浙江省三次产业增加值结构图



121. 2010年，浙江省第一产业的增加值约为（ ）。

- A. 1361亿元
- B. 1425亿元
- C. 1476亿元
- D. 1493亿元

122. 2008年,浙江省第三产业的增加值约为比第一产业多( )。

A. 7675亿元  
B. 7705亿元  
C. 7745亿元  
D. 7765亿元

123. 2010年,浙江省第二产业的增加值约为2007年的( )。

A. 1.1倍  
B. 1.2倍  
C. 1.3倍  
D. 1.4倍

124. 2007-2010年,浙江省第一产业的增加值大于1000亿元的年份有( )。

A. 1个  
B. 2个  
C. 3个  
D. 4个

125. 根据资料,下列表述中不正确的一项是( )。

A. 2007-2010年,第三产业的增加值只有2010年超过1万亿元  
B. 2009年,第二产业增加值与第一产业增加值之差超过1万亿元  
C. 2010年,第三产业增加值与第一产业增加值之差不足1万亿元  
D. 2008年,第一产业增加值与第三产业增加值之和不足1万亿元

三、根据以下资料,回答问题。

2010年,我国共投入研究与试验发展(R&D,以下简称R&D)经费7062.6亿元,比上年增长21.7%;R&D经费投入强度(与国内生产总值之比)为1.76%,比上年的1.70%有所提高。

分活动类型看,全国用于基础研究的经费投入为324.5亿元,比上年增长20.1%;应用研究经费893.8亿元,增长22.3%;试验发展经费5844.3亿元,增长21.7%。

分执行部门看,各类企业投入R&D经费5185.5亿元,比上年增长22.1%,政府属研究机构投入1186.4亿元,增长19.1%;高等学校投入597.3亿元,增长27.6%,企业、政府属研究机构、高等学校经费所占比重分别为73.4%、16.8%和8.5%。

分产业部门看,R&D经费投入强度(与主营业务收入之比)最高的行业是专用设备制造业,为2.04%;投入强度在1.5%-2%的4个行业,分别是医药制造业(1.82%)、通用设备制造业(1.59%)、电气机械及器材制造业(1.59%)和仪器仪表及文化、办公用机械制造业(1.50%)。

分地区看,R&D经费超过300亿元的有江苏、北京、广东、山东、浙江和上海6个省(市),共投入经费4136.5亿元,占全国经费投入总量的58.6%,R&D经费投入强度(与地区生产总值之比)达到或超过全国水平的有北京、上海、天津、陕西、江苏、浙江和广东7个省(市)。

126. 2009年我国共投入R&D经费约多少亿元( )。

A. 5960亿元  
B. 5880亿元  
C. 5800亿元  
D. 5780亿元

127. 分执行部门看,2010年企业投入R&D经费约是政府属研究机构 and 高等学校经费总和的( )。

A. 2.9倍  
B. 2.6倍  
C. 2.5倍  
D. 2.2倍

128. 2010年全国用于试验发展的经费约占全国R&D经费的( )。

A. 85.4%  
B. 84.7%  
C. 83.5%  
D. 82.7%

129. 分地区看,2010年R&D经费超过300亿元且R&D经费投入强度达到或超过全国水平的省(市)有( )。

A. 6个  
B. 5个  
C. 4个  
D. 3个

130. 根据资料，下列表述中不正确的一项是（ ）。
- A. 2009 年全国用于基础研究的经费投入超过 265 亿元
  - B. 2010 年我国 R&D 经费投入强度第二高的行业是医药制造业
  - C. 2009 年全国高等学校投入 R&D 经费超过 480 亿元
  - D. 2010 年 R&D 经费未超过 300 亿元的省（市）投入经费之和不足全国总量的 45%