

第一部分 常识判断

根据题目要求，在四个选项中选出一个最恰当的答案。

请开始答题：

1. “物质是标志客观实在的哲学范畴，这种客观实在是人通过感觉感知的，它不依赖于我们的感觉而存在，为我们的感觉所复写、摄影、反映。”提出这一物质定义的是（ ）。
A. 费尔巴哈
B. 黑格尔
C. 列宁
D. 马克思
2. 资本的技术构成是指（ ）。
A. 生产资料数量与劳动力数量的比例
B. 可变资本/不变资本
C. 可变资本与总资本的比例
D. 剩余劳动时间/必要劳动时间
3. 邓小平（ ）的著名讲话，实际上是十一届三中全会的主题报告，它是开创建设有中国特色社会主义新理论的宣言书。
A. 建设有中国特色的社会主义
B. 解放思想，实事求是，团结一致向前看
C. 什么是社会主义，怎样建设社会主义
D. 实践是检验真理的唯一标准
4. 根据全面建设小康社会的目标，在优化结构和提高效益的基础上，我国的国内生产总值到（ ）力争比 2000 年翻（ ）。
A. 2015 年 两番
B. 2015 年 三番
C. 2020 年 两番
D. 2020 年 三番
5. 根据我国的法律效力层次，下列法律中效力最高的是（ ）。
A. 行政法规
B. 地方性法规
C. 政府规章
D. 自治条例
6. 下列关于行政诉讼的被告的表述中，不正确的是（ ）。
A. 它只能是组织，而不能是个人
B. 它是被诉的一方当事人，可以以自己的名义应诉
C. 对共同行政行为不服的，作出共同行政行为的行政机关为共同被告
D. 在行政委托关系中，被委托的行政机关是被告
7. 根据《行政许可法》，除可以当场作出行政许可决定的外，行政机关应当自受理行政许可申请之日起（ ）内作出行政许可决定。
A. 三日
B. 七日
C. 十日
D. 二十日
8. 根据我国《刑法》的相关规定，下列罪犯不得假释的是（ ）。
A. 甲犯强奸罪被判处有期徒刑 11 年
B. 乙犯贪污罪被判处有期徒刑 13 年
C. 丙犯受贿罪被判处无期徒刑
D. 丁犯盗窃罪被判处有期徒刑 8 年
9. 行政监督可以分为政府自我监督和行政外部监督两大类，下列属于政府自我监督的是（ ）。
A. 立法监督
B. 审计监督
C. 司法监督
D. 政党监督
10. 《公务员法》规定，对公务员考核的内容包括德、能、勤、绩、廉五个方面，重点考核（ ）。
A. 思想道德
B. 廉洁自律
C. 业务能力
D. 工作实绩
11. 下列对公务员的处分的说法中，不正确的一项是（ ）。
A. 处分种类包括警告、记过、记大过、降级、撤职、开除六种

- B. 处分决定应当以书面的形式通知公务员本人
 C. 受处分期间，公务员不得晋升职务和级别，不得晋升工资档次
 D. 警告的受处分期间为六个月
12. 制度经济学认为，（ ）是同时包含“冲突、依存和秩序”这三种成分的“最小的单位”，是分析经济制度的基本范畴。
 A. 交易
 B. 价格
 C. 商品
 D. 风险
13. 在市场经济中，价格的高低决定着生产者之间经济利益的分配，竞争力强的企业获得的利润多，而竞争力弱的企业则获得的利润少。这是市场经济的（ ）。
 A. 利益刺激功能
 B. 优胜劣汰功能
 C. 自动调节收入分配功能
 D. 优化资源配置功能
14. “北美自由贸易区”是（ ）三国于 1992 年 8 月 12 日宣布成立的，是发达国家和发展中国家共同参与的经济一体化组织。
 A. 美国、加拿大、智利
 B. 美国、加拿大、墨西哥
 C. 美国、智利、秘鲁
 D. 美国、阿根廷、巴西
15. 艾滋病被称为“20 世纪的瘟疫”，艾滋病病毒以人体内的（ ）作为攻击目标。
 A. 红细胞
 B. 血红蛋白
 C. 淋巴细胞
 D. 神经系统
16. 我国是一个统一的多民族国家，其中少数民族占全国人口的 8% 左右。请问下列少数民族中，人口最少的是（ ）。
 A. 高山族
 B. 苗族
 C. 回族
 D. 壮族
17. 下列关于公文格式的说法中，不正确的一项是（ ）。
 A. 发文机关标识一般由发文机关全称或规范化简称后加“文件”两字组成，套红印刷
 B. 主送机关又称抬头、上款，书写在标题之下靠左顶格位置
 C. 附件是公文的重要组成部分，附件名称一般需加书名号
 D. 印章是制发机关对公文生效负责的凭证。通常，联合上报的公文，由主办机关加盖公章；联合下发的公文，发文机关都应加盖公章
18. （ ）被人们称为“现代奥林匹克之父”，他是（ ）国人。
 A. 阿尔维尔 法
 B. 顾拜旦 英
 C. 阿尔维尔 美
 D. 顾拜旦 法
19. 民谚有“础润而雨”的说法，作为劳动人民千百年来宝贵劳作经验的总结，它的主要科学依据体现在（ ）的变化通过“础润”的形式表现出来，从而预示着天气的变化。
 A. 温度
 B. 湿度
 C. 气压
 D. 风向
20. 春秋时期，周天子的地位一落千丈，诸侯王不再听命于周王，一些强大的诸侯趁机发动兼并战争，强迫其他各国承认其霸主地位。管仲辅佐（ ）打着“尊王攘夷”旗号，使其“九合诸侯，一匡天下”，成为春秋时期第一个霸主。
 A. 晋文公
 B. 楚庄王
 C. 齐桓公
 D. 秦穆公

第二部分 言语理解与表达

本部分包括表达与理解两方面的内容。请根据题目要求，在四个选项中选出一个最恰当的答案。

请开始答题：

21. 理查德·比特纳把美国次贷危机中的借款人描述为“信用状况一塌糊涂，收入微薄，工作时有时无，没有租房史，也没有储蓄维持生活”。银行把钱贷给这样一些人显然是不可行的，政府监管也是不得力的。但美国社会为什么会有这么多穷人，或如此庞大的弱势群体？
以上文字的主旨最可能是（ ）。
- A. 收入差距不断扩大是引起美国次贷危机的重要原因
B. 美国的金融危机是由银行的次贷危机引起的
C. 美国次贷危机的根源是银行把钱借给了大量没有还贷能力的穷人
D. 美国政府对借款人还贷能力的监管不够
22. 其实对于人生、道德、审美以及社会的解释，并无绝对正确的标准答案。每个时代、每个民族，都有提出问题的冲动以及解决问题的能力。满足这种历史需求的，便是所谓的“恰当学术”。你可以嘲笑胡适浅薄，称其提倡的实验主义颇为浅陋，甚至不如学衡派所推销的白璧德的新人文主义精细，但没用，后者就是不如前者适合那个时代中国人的趣味。
以上文字是在阐述（ ）。
- A. 现实与理论的关系
B. 实验主义与新人文主义的关系
C. 时代与学术的关系
D. 人生、道德、审美与社会的关系
23. 卡尔·波兰尼说，如果听任市场机制成为人类命运及其自然环境乃至购买力的数量和用途的唯一指导者，那将导致对社会的破坏。就以商品而言，劳动力不可能被任意驱使、利用甚或舍弃而不影响刚好是这一特殊商品承担者的个人。也就是说，在处置一个人的劳动力时，制度总是面对着“人”那个称号下身体、心理和道德的统一体。
这段文字主要说明（ ）。
- A. 无管制的市场会破坏社会
B. 劳动力是特殊的商品
C. 无管制的市场缺乏道德属性
D. 劳动力不能被商品化
24. 社会冲突扮演了一个激发器的角色，它激发了新规范、规则和制度的建立，从而充当了促使敌对双方社会化的代理人。此外，冲突重新肯定了潜伏着的规范，从而强化了对社会生活的参与。作为规范改进和形成的激发器，冲突使得调整已经发生变化了的社会关系成为可能。但是，社会冲突是否有利于内部适应，取决于是在什么样的问题上发生冲突，以及冲突发生的社会结构。
这段文字主要说明（ ）。
- A. 社会冲突有助于社会整合
B. 社会冲突的整合功能是需要条件的
C. 社会冲突是社会化不充分的表现
D. 社会冲突是参与社会生活的方式之一
25. 香格里拉，本是佛陀的理想王国。其魅力在于那是一个可以贮放人类梦幻，但又可望而不可及的天堂。我们既然将一种美妙的梦幻，当作了实有的存在，并将神圣的香格里拉，变成了世俗的香格里拉，还认定了它的所在地，那么，我们就应该以藏胞对大自然那种宗教般的意志、虔诚和敬畏，殚精竭虑地去维护它的高洁与神圣。
以上文字最有可能出现在一篇散文中的哪个部分，起什么作用？（ ）。
- A. 文头埋下伏笔
B. 文中浓墨渲染

C. 文中扩展联想

D. 文末咏叹收笔

26. 不抵抗主义我向来很赞成，不过因为有些偏于消极，不敢实行。现在一想，这个见解实在是大谬。为什么？因为不抵抗主义面子上是消极，骨底里是最经济的积极。我们要办事有成效，假使不实行这主义，就不免消费精神于无用之地。我们要保存精神，在正当的地方用，就不得不在可以不必的地方节省些。这就是以消极为积极：没有消极，就没有积极。

以上文字主要告诉我们（ ）。

- A. 我赞成不抵抗主义的理由
B. 不抵抗主义貌似消极，实则积极
C. 积极与消极其实只是相对意义上的哲学词汇而已
D. 要成功必须把有限的精力集中起来做最重要的事情
27. “全球化”是一种非线性的、辩证的过程，在这一过程中，全球的与地方的不再是作为文化的两极而存在，而是作为并联在一起的、相互关联的原则而存在。这些过程不仅仅包括跨边界的相互联系，而且还要将内在于民族国家社会的社会与政治属性加以转化。这就是我所界定的“世界化”。

这段文字表达的主要观点是（ ）。

- A. “全球化”是一种非线性的、辩证的过程
B. 世界化意味着内在的全球化，意味着发自民族国家社会内部的全球化
C. “全球化”过程中的世界的和地方的文化是相互关联的
D. 世界化包括跨边界的联系和民族国家内部的联系
28. 在一个成熟的经济政策制定和经济学教育体系中，经济学理论必须更面对现实，经济政策也必须以理论逻辑为依归。但是，这种理论与现实的结合应该靠学科疆域的拓展和理论的进步，靠科学的学科分工和职业定位，而不是靠个人的能力或者角色转变。

对这段文字理解不正确的是（ ）。

- A. 经济学理论不面对现实，就不能制定出积极的经济政策
B. 作为经济学理论和现实相结合的经济政策不能根据经济学家的角色而制定
C. 经济学理论和现实的结合要以学科疆域的拓展和理论的进步为基础
D. 能否制定出合理的经济政策要看经济学家的能力如何
29. 人类是一种文化动物。人类的行为不仅被先天的生物本能所决定，而且也受到后天的文化和社会等诸多因素的影响。爱美之心，人皆有之。然而，任何美妙的东西背后，都有并不美好的本质或起源，不管你是否能意识到。美丽往往是谎言，而实话往往很难听。浏览网页，你可能被华丽的页面吸引。如果从浏览器的菜单中查看源代码，你会发现一堆乱七八糟的东西，对你来说，没有任何意义。

这段文字表达的主要意思是（ ）。

- A. 人类的行为受到后天的文化和社会等诸多因素的影响
B. 人类是一种文化动物
C. 任何美妙的东西背后，都有并不美好的本质或起源
D. 美丽往往是谎言，而实话往往很难听
30. 赶路的人，为了远方的目标，无意留心沿路的风光。许多其实并不比你追寻的东西逊色的路边风物，被你轻易地忽略过去了，待我们多年后明白过来时，已追悔莫及。而当你把赶路的心态转换成散步的心态，你就会发觉，得到有味，失去也有味；富有有味，清贫也有味；成功有味，失败也有味；热恋有味，失恋也有味；青春有味，衰老也有味.....这时候，你才会

恍然明白，你梦想中的东西其实就藏在路上；路途上的遭遇正有你所寻觅的东西。舍此之外，你还要寻求什么呢？

对这段文字理解错误的一项是（ ）。

- A. 赶路的人是指那些为成功而舍弃沿途风景的人
- B. 我们不应该为远方的目标而苦苦追寻
- C. 也许梦想就藏在你匆匆赶路时的沿路风景中
- D. 给人生留一些空闲的时间，而不是匆匆赶路

31. 官员这种人从早到晚都在解决有答案的问题，头脑已经被训练成这样，因此不是当政治人物的料。政治人物的任务是处理没有答案的问题，去应付很有可能无解的问题。然而，一个人越是被训练成优异的官员，就越以为问题都是有答案的，一定可以解决，因此一遇到可能无解的问题就束手无策，甚至拍拍屁股一走了之。所以，一个人越是被训练成官员，就越会变成不称职的政治人物。

对这段文字的主旨概括最准确的一项是（ ）。

- A. 一个优异的官员总以为问题都是有答案的
- B. 政治人物的任务是处理没有答案的问题
- C. 不是所有的官员都能成为政治人物
- D. 最优异的官员是最差劲的政治人物

32. 建筑同样是有生命，有它的生命史。它不仅发生、成长，而且会成熟、转换、兴亡。生命是灵动的，建筑也同样是灵动的，是一个活体，所以它才倾注有那么多人类的情感。情感是生命的确证。生命需要空间，建筑与空间更是无法割裂，空间是它生命的舞台。同时，生命拥有历史，建筑也是活在时间中的，离开了时空，无论生命还是建筑都不存在了。但托庇于时空，生命与建筑却可以超越出来，进入无限与永恒——而这，正是建筑美学所追求。

对以上文字在原文中的作用推测最准确的一项是（ ）。

- A. 这段文字旨在论证建筑生命史
- B. 这段文字作为后文阐述建筑美学的引子
- C. 为接下来介绍建筑美学的历史渊源埋下伏笔
- D. 对前文关于建筑美学的论述进行总结

33. 下列句子中，括号内成语使用恰当的一项是（ ）。

- A. 面对金融危机，某市政府为当地的出口企业制定了许多扶持政策，大量企业在国际竞争中（脱颖而出）
- B. 如果你没亲身参加过蹦极运动，那么它给人带来的巨大刺激你是无法（感同身受）的
- C. 易中天《品三国》一书出版后，受到许多读者的热烈欢迎，一时（洛阳纸贵）
- D. 考虑问题时没有大局意识，（目无全牛），顾此失彼，这就是他决策失误的重要原因

34. 下列各句中，句意明确，没有语病的一句是（ ）。

- A. 学校运动会将在下月中旬前后举行，所以我现在就要好好准备了
- B. 已经推出并投入使用的杭州“市民卡”，除了包含“社保卡”所具有的医疗、养老等保险功能外，还可享受其他各类公共服务
- C. 广大公务员，尤其是领导干部，想问题、办事情都要从党和人民的根本利益为出发点
- D. 复原后的距今 100 万年前的“郧县人”是一个额头低平、眉弓粗壮、眼窝深凹而宽、鼻短而上扬、面部突出、唇长而薄的远古人类形象

35. 黄昏后，你穿过_____的树影，踏着铺石板小径，进入这家老店。在后院的葡萄架下，寻一个好座位。长条的木板桌椅都漆成淡绿色，带着此地农舍由来已久的风格。挂在葡萄藤上的旧式风灯，将密密实实的巴掌似的葡萄叶照得_____，饶有画意。

填入横线部分最恰当的一项是（ ）。

- A. 斑斑驳驳 深深浅浅
- B. 重重叠叠 深深浅浅
- C. 斑斑驳驳 零零碎碎
- D. 重重叠叠 零零碎碎

43. 社会生活的变化多样,使得任何一种规则体系都不能够不加变化地_____;反过来,文明社会的错综复杂,也不能仅靠抽象原则与模糊观念来_____。
填入横线部分最恰当的一项是()。
- A. 实施 维护
B. 调适 继续
C. 应用 维持
D. 适用 维系
44. 文明的发展就像一场梦,虽然醒来觉得_____,而_____时是认真而严肃的。用精神分析的方法剥去梦的果实,留下梦的种子——本能的种子,就是宗教的起源。
填入横线部分最恰当的一项是()。
- A. 神乎其神 身临其境
B. 不可思议 身临其境
C. 神乎其神 引人入胜
D. 不可思议 引人入胜
45. 真正友谊的产物,只是一种_____了你身心的愉快。没有这种愉快,随你如何直谅多闻,也不会有友谊。接触着你真正的朋友,感觉到这种愉快,你内心的鄙吝残忍,自然会消失,无需说教式的_____。
填入横线部分最恰当的一项是()。
- A. 贯穿 指导
B. 贯穿 劝说
C. 渗透 诱导
D. 渗透 劝导
46. 那时候,老是慎重其事地把左掌右掌看了又看,或者,从一条曲曲折折的感情线,估计着感情的河道是否_____。有时,又正经地把一张脸交给一个人,从鼻山眼水中,去_____一生的风光。
填入横线部分最恰当的一项是()。
- A. 决堤 窥探
B. 崩溃 领略
C. 崩溃 窥视
D. 决堤 预测
47. 不可以想象,没有以学术作为内容的思想,将成为怎样一种思想,而没有思想学术,这种学术又有什么价值?思想与学术之间没有“不是东风压倒西风,便是西风压倒东风”那种_____的关系。
填入横线部分最恰当的一项是()。
- A. 非此即彼
B. 针锋相对
C. 势不两立
D. 此消彼涨
48. 司马迁心胸开阔,不带成见,是个严格的史学家,而不是儒教的提倡者,在议题上他采取_____的态度。他极度崇敬孔子,但他不是个_____的孔门信徒。他所描绘的孔子是个人,而不是个圣人。
填入横线部分最恰当的一项是()。
- A. 客观 虔诚
B. 开放 盲从
C. 中立 狭隘
D. 宽容 狂热
49. 俄国的两位大作家,都情不自禁地对莎士比亚发表了自己的看法。屠格涅夫借批评哈姆雷特,对莎剧_____,他的态度倒还像个绅士,总的来说还算温和。托尔斯泰就比较厉害,他对莎士比亚进行了最猛烈的攻击,口诛笔伐,几乎把伟大的莎士比亚说得_____。
填入横线部分最恰当的一项是()。
- A. 不屑一顾 一无是处
B. 颇有微词 一无是处
C. 心怀不敬 体无完肤
D. 嗤之以鼻 一塌糊涂

50. 张恨水《春明外史》里的杨杏园是_____在传统与现代之间的一个轻度的精神分裂者，他白天的身份是_____于北京大街小巷的现代记者，晚上则是安居租赁而来的小四合院的古典诗人。

填入横线部分最恰当的一项是（ ）。

A. 踌躇 游走

B. 彷徨 奔走

C. 犹疑 奔跑

D. 徘徊 穿梭

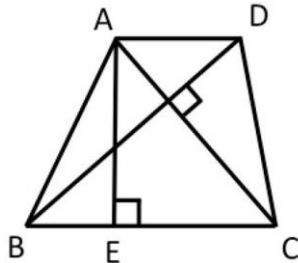
第三部分 数量关系

在这部分试题中，每道题呈现一段表述数字关系的文字，要求你迅速、准确地计算出答案。

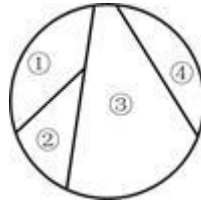
请开始答题：

51. 0, 16, 8, 12, 10, ()
A. 11
B. 13
C. 14
D. 18
52. 64, 2, 27, (), 8, $\sqrt{2}$, 1, 1
A. $2\sqrt{5}$
B. $\sqrt{5}$
C. $\sqrt{2}$
D. $\sqrt{3}$
53. 7, 15, 29, 59, 117, ()
A. 227
B. 235
C. 241
D. 243
54. 31, 29, 23, (), 17, 13, 11
A. 21
B. 20
C. 19
D. 18
55. 22, 36, 40, 56, 68, ()
A. 84
B. 86
C. 90
D. 92
56. 4, 10, 30, 105, 420, ()
A. 956
B. 1258
C. 1684
D. 1890
57. 21, 27, 40, 61, 94, 148, ()
A. 239
B. 242
C. 246
D. 252
58. 1, 3, 11, 67, 629, ()
A. 2350
B. 3130
C. 4783
D. 7781
59. $\frac{2}{3}$, $\frac{1}{4}$, $\frac{2}{15}$, $\frac{1}{12}$, $\frac{2}{35}$, ()
A. $\frac{1}{32}$
B. $\frac{2}{32}$
C. $\frac{1}{24}$
D. $\frac{5}{86}$
60. 3, 8, 17, 32, 57, ()
A. 96
B. 100
C. 108
D. 115
61. 已知两个数 a、b 的积是 $\frac{3}{4}$ ，和是 2，且 $a > b$ ，则 $\frac{a}{b}$ 的值是 ()。
A. 3
B. $\frac{7}{2}$
C. 4
D. $\frac{9}{2}$
62. 已知 $a - b = 46$ ， $a \div b \div c = 2$ ， $a \div b - c = 12$ ，问 $a + b$ 的值是 ()。
A. 50
B. 60
C. 70
D. 80

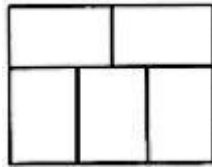
63. 已知 $14.84 \times \left[\frac{13}{7} \div \left(3\frac{6}{7} - 14\frac{2}{7}x \right) \right] = 7.42$, 则 x 的值是 ()。
- A. $7/300$ B. 0.02
C. $7/400$ D. 0.01
64. 已知 2008 年的元旦是星期二, 问 2009 年的元旦是星期几? ()
- A. 星期二 B. 星期三
C. 星期四 D. 星期五
65. 有一批长度分别为 3、4、5、6 和 7 厘米的细木条, 它们的数量足够多, 从中适当选取 3 根木条作为三角形的三条边, 可能围成多少个不同的三角形? ()
- A. 25 个 B. 28 个
C. 30 个 D. 32 个
66. 甲、乙两港相距 720 千米, 轮船往返两港需要 35 小时, 逆流航行比顺流航行多花 5 小时; 帆船在静水中每小时行驶 24 千米, 问帆船往返两港要多少小时? ()
- A. 58 小时 B. 60 小时
C. 64 小时 D. 66 小时
67. 有大小两个瓶, 大瓶可以装水 5 千克, 小瓶可以装水 1 千克, 现在有 100 千克水共装了 52 瓶。问大瓶和小瓶相差多少个? ()
- A. 26 个 B. 28 个
C. 30 个 D. 32 个
68. 如右图所示, 梯形 ABCD 的对角线 $AC \perp BD$, 其中 $AD = 1/2$, $BC = 3$, $AC = 2$, $BD = 2.1$ 。问梯形 ABCD 的高 AE 的值是 ()。



- A. $43/24$ B. 1.72
C. $42/35$ D. 1.81
69. 现有 6 个一元面值硬币正面朝上放在桌子上, 每次翻转 5 个硬币, 问最少经过几次翻转可以使这 6 个硬币全部反面朝上? ()
- A. 5 次 B. 6 次
C. 7 次 D. 8 次
70. “红星”啤酒开展“7 个空瓶换 1 瓶啤酒”的优惠促销活动。现在已知张先生在活动促销期间共喝掉 347 瓶“红星”啤酒, 问张先生最少用钱买了多少瓶啤酒? ()
- A. 296 瓶 B. 298 瓶
C. 300 瓶 D. 302 瓶
71. 如右图所示, 圆被三条线段分成四个部分。现用红、橙、黄、绿四种涂料对这四个部分上色, 假设每部分必须上色, 且任意相邻的两个区域不能用同一种颜色, 问共有几种不同的上色方法? ()



- A. 64 种
 B. 72 种
 C. 80 种
 D. 96 种
72. 小孙的口袋里有四颗糖，一颗巧克力味的，一颗果味的，两颗牛奶味的。小孙任意从口袋里取出两颗糖，他看了看后说，其中一颗是牛奶味的。问小孙取出的另一颗糖也是牛奶味的可能性（概率）是多少？（ ）
- A. $\frac{1}{3}$
 B. $\frac{1}{4}$
 C. $\frac{1}{5}$
 D. $\frac{1}{6}$
73. 右图是由 5 个相同的小长方形拼成的大长方形，大长方形的周长是 88 厘米，问大长方形的面积是多少平方厘米？（ ）



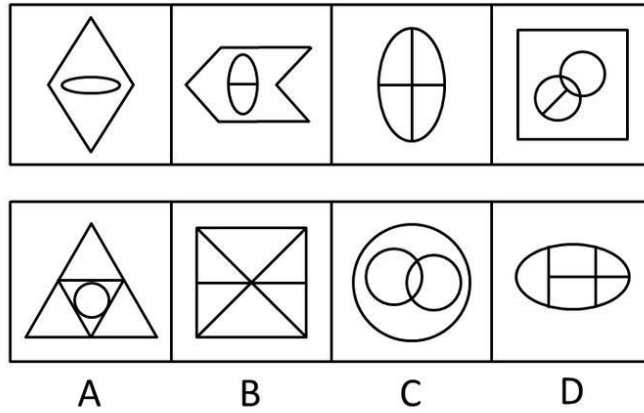
- A. 472 平方厘米
 B. 476 平方厘米
 C. 480 平方厘米
 D. 484 平方厘米
74. 一个边长为 80 厘米的正方形，依次连接四边中点得到第二个正方形，这样继续下去可得到第三个、第四个、第五个、第六个正方形，问第六个正方形的面积是多少平方厘米？（ ）
- A. 128 平方厘米
 B. 162 平方厘米
 C. 200 平方厘米
 D. 242 平方厘米
75. 某专业有学生 50 人，现开设有甲、乙、丙三门选修课。有 40 人选修甲课程，36 人选修乙课程，30 人选修丙课程，兼选甲、乙两门课程的有 28 人，兼选甲、丙两门课程的有 26 人，兼选乙、丙两门课程的有 24 人，甲、乙、丙三门课程均选的有 20 人，问三门课程均未选的有多少人？（ ）
- A. 1 人
 B. 2 人
 C. 3 人
 D. 4 人

第四部分 判断推理

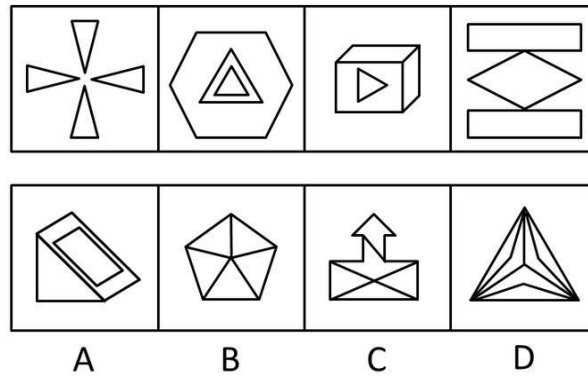
一、图形推理。请按每道题的答题要求作答。

请开始答题：

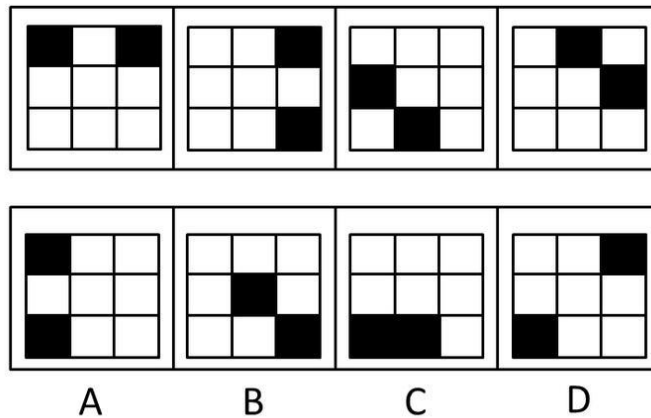
76. 从 A、B、C、D 四个选项中选出最合适的一个，使得它保持第一行图形所呈现的规律性（ ）。



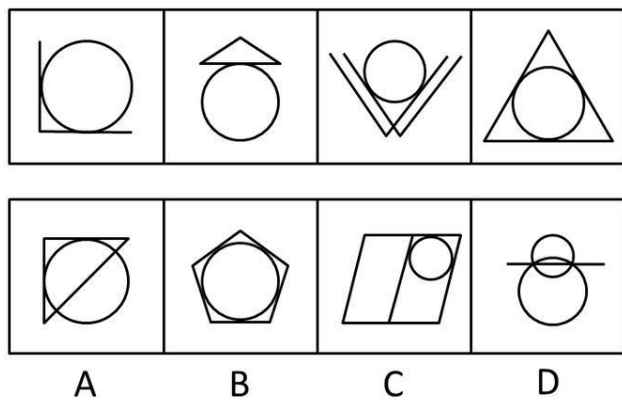
77. 从 A、B、C、D 四个选项中选出最合适的一个，使得它保持第一行图形所呈现的规律性（ ）。



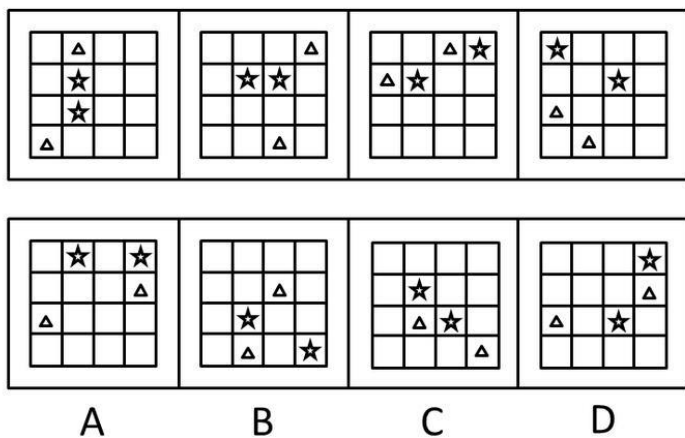
78. 从 A、B、C、D 四个选项中选出最合适的一个，使得它保持第一行图形所呈现的规律性（ ）。



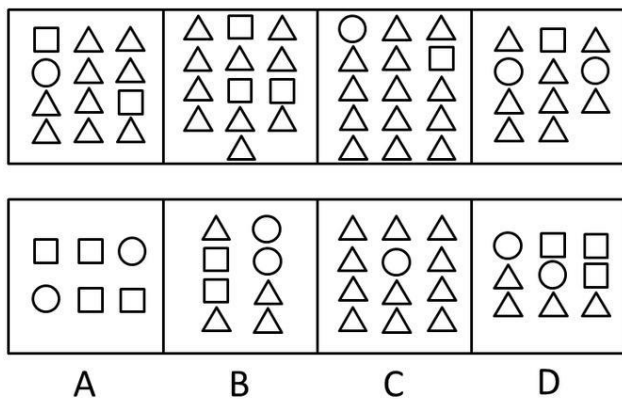
79. 从 A、B、C、D 四个选项中选出最合适的一个，使得它保持第一行图形所呈现的规律性 ()。



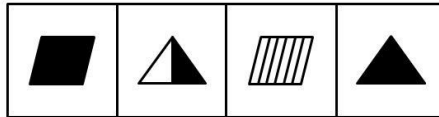

80. 从 A、B、C、D 四个选项中选出最合适的一个，使得它保持第一行图形所呈现的规律性 ()。



81. 从 A、B、C、D 四个选项中选出最合适的一个，使得它保持第一行图形所呈现的规律性 ()。

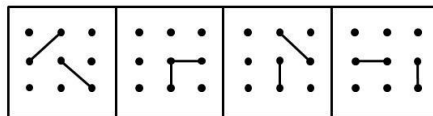



82. 从所给的四个选项中，选择最合适的一个填入问号处，使之呈现一定的规律性 ()。



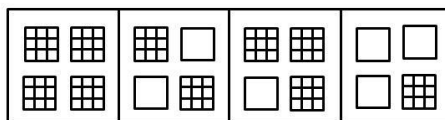

A B C D

83. 从所给的四个选项中，选择最合适的一个填入问号处，使之呈现一定的规律性（ ）。



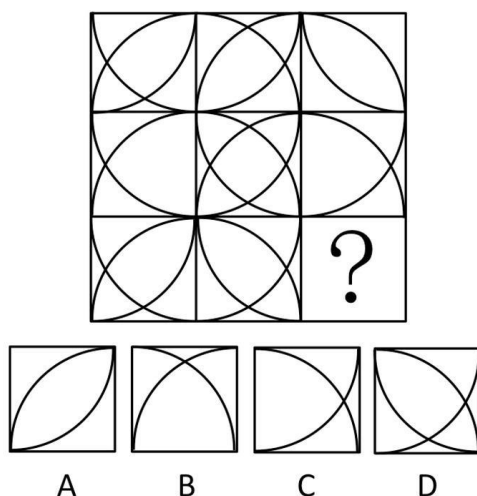
A B C D

84. 从所给的四个选项中，选择最合适的一个填入问号处，使之呈现一定的规律性（ ）。



A B C D

85. 从所给的四个选项中，选择最合适的一个填入问号处，使之呈现一定的规律性（ ）。



二、类比推理。每道题先给出一组相关的词，要求你在备选答案中找出一组与之在逻辑关系上最为贴近、相似或匹配的词。

请开始答题：

86. 奢华：简朴
 A. 忠诚：虚伪
 B. 聪明：呆板
 C. 敏捷：迟钝
 D. 团结：勾当
87. 宋太祖：杯酒释兵权
 A. 萧何：暗度陈仓
 B. 班固：不入虎穴，不得虎子
 C. 曹丕：才高八斗
 D. 赵括：纸上谈兵
88. 诺言：履行
 A. 思想：交流
 B. 选择：武断
 C. 电影：制片
 D. 名单：邀请
89. 班门弄斧：布鼓雷门
 A. 曲高和寡：雅俗共赏
 B. 囫囵吞枣：不求甚解
 C. 爱不释手：弃如敝屣
 D. 投鼠忌器：声名狼藉
90. 阴霾：失意
 A. 角落：寂寞
 B. 爆竹：喜庆
 C. 瑞雪：欢欣
 D. 滂沱：盛怒
91. 蓝色：忧郁
 A. 黑色：幽默
 B. 紫色：高雅
 C. 白色：恐怖
 D. 红色：醒目
92. 艺术：生活
 A. 喷泉：公园
 B. 利润：企业
 C. 梦境：大脑
 D. 战乱：掠夺
93. 锋芒毕露：韬光养晦
 A. 莫衷一是：见仁见智
 B. 隔靴搔痒：雾里看花
 C. 循规蹈矩：离经叛道
 D. 安土重迁：随遇而安
94. 不共戴天：仇人
 A. 契若金兰：朋友
 B. 相敬如宾：兄弟
 C. 年谊世好：夫妻
 D. 救死扶伤：医生

95. 劳心者治人，劳力者治于人：孟子
- A. 出师未捷身先死，长使英雄泪满襟：诸葛亮
 - B. 衣带渐宽终不悔，为伊消得人憔悴：屈原
 - C. 回眸一笑百媚生，六宫粉黛无颜色：白居易
 - D. 江山代有才人出，各领风骚数百年：杜甫

三、定义判断。每道题先给出定义，然后列出四种情况，要求你严格依据定义，从中选出一个最符合或最不符合该定义的答案。注意：假设这个定义是正确的，不容置疑的。

请开始答题：

96. 鸡尾酒会效应：在鸡尾酒会上，很多人在同时进行着各种交谈，但一个人同一时刻只能注意和参与其中的一个交谈，这是注意分配的问题。由于心理资源有限，同一时刻只能将信息加以过滤和筛选，以此时最重要或最有兴趣的信息为注意对象。作为一个选择过滤器，注意就像收音机上的旋钮，一方面挡住大多数不需要的信息，一方面延留所需要的信息，使之进入意识。

根据上述定义，下列不属于鸡尾酒会效应的是（ ）。

- A. 讲座上听众们都认真听讲，全然不顾外面电闪雷鸣
 - B. 生日聚会上他从一个话题转移到另一个话题，侃侃而谈
 - C. 很少有人注意到 83 版《射雕英雄传》中有跑龙套的周星驰
 - D. 婚礼上来宾们把目光都投向了新娘新郎
97. 白日梦：指一种适度的意识状态的改变形式，注意力不再诉诸对环境刺激的反应，而是转向对内在刺激的反应。思维报告反映出注意偏离了现时要求的任务，不指向任何现时的外部刺激。一般来说，白日梦是人独处和放松休息时普遍的一种活动，在人们入睡前的短暂时刻里最多见，清醒时、就餐时、性生活时最少见。

根据上述定义，下列属于白日梦现象的是（ ）。

- A. 在看韩剧的时候她经常把自己想象成剧中的女主角
 - B. 中午午睡的时候他做梦自己成了百万富翁
 - C. 小明患有精神分裂症，常常说自己是玉皇大帝
 - D. 恍惚中，她觉得日夜思念的爱人就在眼前
98. 民法上的埋藏物：指包藏于他物之中，不容易从外部发现的物。埋藏物是有主物，只是所有人不明，而非无主物。具有历史、艺术和科学价值的文物不属于埋藏物。

根据上述定义，下列属于埋藏物的是（ ）。

- A. 老张看见老李将一包东西埋藏起来，老张趁人不注意将其挖出
 - B. 老张在公交车上发现的一个皮包
 - C. 老张在耕地时挖出的一把八成新铁锹
 - D. 老张拾荒时在垃圾堆里捡到的一台废弃电脑
99. 马太效应：任何个体、群体或地区，一旦在某一个方面（如金钱、名誉、地位等）获得成功和进步，就会产生一种积累优势，就会有更多的机会取得更大的成功和进步。

根据上述定义，下列不属于马太效应的是（ ）。

- A. 教授、专家越是有名，得到的科研经费越多，社会兼职越多
- B. 国家总是重点投资建设名校，那些投入充分而硬件和软件占绝对优势的学校想不继续成为名校恐怕都很困难

C. 在股市狂潮中，赚的总是庄家，赔的总是散户，普通大众的金钱，就会通过这种形式聚集到少数人手中

D. 陈经理喜欢买彩票，最近他连买连中，买了新车，邻居羡慕之余纷纷向他讨教选号方法

100. 强迫症：以强迫观念和强迫动作为主要表现的一种神经症。以有意识的自我强迫与有意识的自我反强迫同时存在为特征，患者明知强迫症状的持续存在毫无意义且不合理，却不能克制地反复出现。

根据上述定义，下列属于强迫症的是（ ）。

A. 模特小张最近为了保持苗条身材，强迫自己每次参加聚会都少吃东西，她感觉很痛苦

B. 过春节了，高三学生小陈一边很想跟同学出去玩，一边为了考上好大学不得不强迫自己在家里认真看书

C. 林女士每次走出小区门口时，都会怀疑自家的煤气没有关掉或者大门没锁，于是再折返检查

D. 内向的小李很想对喜欢的女孩子表白，但又很害怕被拒绝，整个晚上反复思考不能入眠

四、逻辑判断。每道题给出一段陈述，这段陈述被假设是正确的，不容置疑的。

要求你根据这段陈述，选择一个答案。注意：正确的答案应与所给的陈述相符合，不需要任何附加说明即可以从陈述中直接推出。

请开始答题：

101. 青春中学的一些数学老师取得了硕士学位。因此，青春中学的有些男老师取得了硕士学位。

以下哪项为真，最能支持上述论证的成立？（ ）

A. 青春中学的数学教师都是男教师

B. 青春中学的男教师中有些是教数学的

C. 青春中学的数学教师中有些是男教师

D. 一些青春中学的女性数学教师并没有取得硕士学位

102. H市的交通管理部门表示，和去年相比，今年我市市区的道路通行有明显改善。该部门负责人认为，这是由于我市聘用了大量的交通协管员。

以下哪项最不能削弱该负责人的结论？（ ）

A. 今年初，H市专门召开会议对交通问题进行认真研究和整顿

B. 许多专家认为，聘用大量的交通协管员的成本巨大，得不偿失

C. 今年初，H市市区的道路新建扩建工程刚刚结束

D. 今年H市对驶入市区的车辆进行了严格的限制，许多大货车、外地车在交通“高峰”时期不能进入市区

103. 当枪声平息下来后，我爬出帐篷，看到那名向我要烟的男子脸朝下趴在那里。周围的人说，他已经死了，显然死于心脏病发作。这也是许多刚果人的结局，不死在枪林弹雨中，也会死在各种各样的疾病中。

从以上文字推测作者目睹男子死亡的情绪中包含最主要的是（ ）。

A. 淡漠

B. 悲悯

C. 谴责

D. 愤怒

104. 把道德说成圣人立法，在很大程度上背离了道德。正如恩格斯所说的“没有爱情的婚姻是不道德的”中的不道德，恰恰是封建伦理中极力宣扬的“道德”。而这种所谓道德的阶级性，这种成为意识形态的道德，只不过是伪道德，并不能证明道德在不同的阶级那里有不同的性质。

从以上文字推测作者要表达的原意最不可能是（ ）。

A. 道德不是圣人立法

- B. 道德易异化为服务于统治者的控制手段
 C. 封建伦理中的道德观念沦为悲惨婚姻的精神桎梏
 D. 在长期的阶级统治的政治高压下，统治者把持了道德的话语权
105. “我相信你，因为你是清白的。”这样的话，在逻辑上是说不通的，当你想了解他是否清白的时候，你已经不信任他了。信任是什么呢？如果你信仰上帝，就不能要求上帝走到你面前，让上帝证明给你看。如果你信任别人，就不能要求别人是清白的。信任是没有理由和前提的事情。
- 从以上文字可以推测作者对于信任的看法正确的是（ ）。
- A. 不清白的人才需要信任
 B. 信任就是默默地付出而不图任何回报
 C. 对他人的信任与对上帝的信仰在心理上是一模一样的
 D. 信任就是信任你的信任本身，而不在于事实真相
106. 西方宗教学的奠基人麦克斯·缪勒解释道：“宗教是一种内心的本能或气质，它独立地、不借助感觉和理性，能使人们领悟在不同名称和各种伪装下的无限。”把宗教解释为“独立地、不借助感觉和理性”而领悟“无限”的才能，真是高明之极。让宗教站在“无限”上，也就一劳永逸地摆脱了科学知识的“纠缠”。因为科学知识无论怎样发展，始终是“有限”的，那些“未被科学知识体系说明过其原因的经验事实”也就永远成为“无限”——“神和上帝”的领地。
- 从以上文字可以推测（ ）。
- A. 作者认为麦克斯的高明之处在于掌握了领悟无限的才能
 B. 麦克斯支持“世界永远是不可知的”这样一种理论
 C. 作者认为麦克斯的解释使“无限”成了“神和上帝”的领地
 D. 科学知识无法触及及支撑宗教发展乃至繁荣的智慧核心
107. 某项调查研究表明，80后和90后的年轻人更喜欢通俗唱法的歌曲，而对美声、民族等唱法不感兴趣。美声、民族等唱法正逐渐被时代所淘汰。
- 下列哪个正确，最能对以上结论构成有效的反驳？（ ）
- A. 许多中年人喜欢美声唱法和民族唱法
 B. 一些接受过正规音乐教育的年轻人更喜欢美声唱法和民族唱法
 C. 流行音乐不仅给年轻人带来娱乐，还能更真切地表达其想法和意愿
 D. 调查表明，美声和民族唱法在80年代以后的流程度反而稳步上升了
108. 相比那些不踢足球的大学生，经常踢足球的大学生的身体普遍健康些。由此可见，足球运动能锻炼身体，增进身体健康。
- 以下哪项为真，最能削弱上述论断？（ ）
- A. 大学生踢足球是出于兴趣爱好，不是为了锻炼身体
 B. 身体不太好的大学生一般不参加激烈的足球运动
 C. 足球运动有一定的危险性，容易使人受伤
 D. 研究表明，长跑比踢足球更能达到锻炼身体的目的
109. 经济学家认为政府对能源利用方面的管制是多余的，市场完全可以自行调节能源的供需矛盾。如果能源真的紧张，那么反映在市场上，能源价格自然会上涨，而能源价格的上涨，一方面因为使用成本提高而使得人们减少对能源的使用，另一方面因为利润增加使得能源供应商增加供给。
- 以下哪项为真，能有力地对上述论述提出质疑？（ ）
- A. 能源价格上涨后，人们会更多地使用节能产品

B. 由于难以忍受能源价格的上涨造成的生活成本的增加，人们就会抗议政府在能源管理方面无所作为

C. 能源价格降低后会刺激人们使用更多的能源

D. 人们对能源的需求缺乏弹性

110. 有红、蓝、黄、白、紫五种颜色的皮球，分别装在五个盒子里。甲、乙、丙、丁、戊五人猜测盒子里皮球的颜色。甲：第二盒是紫的，第三盒是黄的。乙：第二盒是蓝的，第四盒是红的。丙：第一盒是红的，第五盒是白的。丁：第三盒是蓝的，第四盒是白的。戊：第二盒是黄的，第五盒是紫的。猜完之后打开盒子发现，每人都只猜对了一种，并且每盒都有一个人猜对。

由此可以推测（ ）。

A. 第一个盒子内的皮球是蓝色的

B. 第三个盒子内的皮球不是黄色的

C. 第四个盒子内的皮球是白色的

D. 第五个盒子内的皮球是红色的

第五部分 资料分析

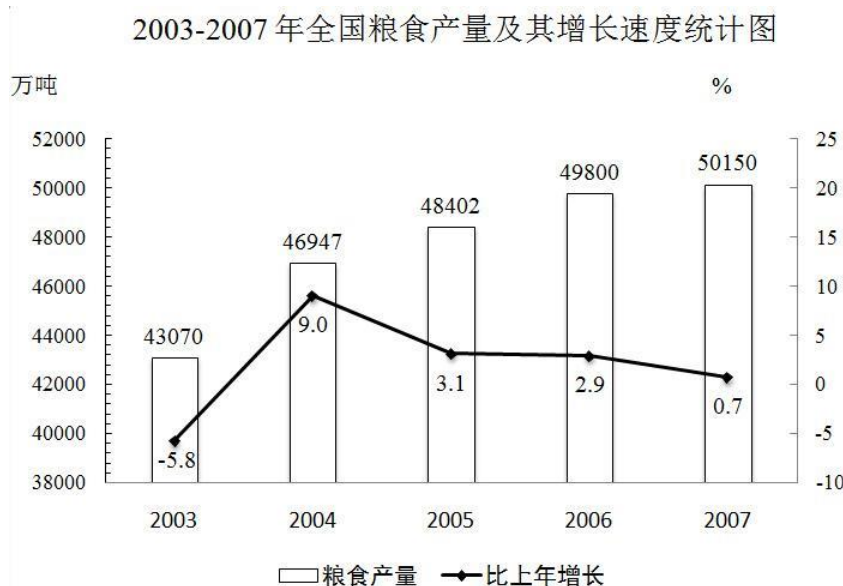
针对下列图、表或文字回答问题。你应根据资料提供的信息进行分析、比较、计算、处理。你可以在题本上运算。

请开始答题：

一、根据以下资料，回答问题。

2007年我国粮食种植面积10553万公顷，比上年增加70万公顷；棉花种植面积559万公顷，增加7万公顷；油料种植面积1094万公顷，减少60万公顷；糖料种植面积167万公顷，增加10万公顷。

全年粮食产量50150万吨，比上年增加350万吨，增产0.7%。其中，夏粮产量11534万吨，增产1.3%；早稻产量3196万吨，增产0.3%；秋粮产量35420万吨，增产0.6%。



全年棉花产量760万吨，比上年增产1.3%。油料产量2461万吨，减产4.2%；糖料产量11110万吨，增产11.4%。烤烟产量239万吨，减产3.9%；茶叶产量114万吨，增产10.9%。

全年肉类总产量6800万吨，比上年减少3.5%。其中，猪肉减少9.2%，牛、羊肉分别增长6.1%和5.8%。全年水产品产量4737万吨，增长3.3%。全年木材产量6974万立方米，增长5.5%。

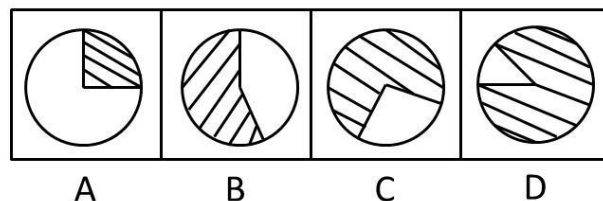
111. 2002年我国的粮食产量约为（ ）。

- A. 45722万吨 B. 44965万吨
C. 44761万吨 D. 40709万吨

112. 2007年我国粮食的平均亩产量约为（1公顷=15亩）（ ）。

- A. 475公斤 B. 416公斤
C. 368公斤 D. 317公斤

113. 下列阴影部分最能体现2006年秋粮产量占当年粮食产量比重的是（ ）。



114. 能够从上述资料中推出的是 ()。

- A. 2005 年我国粮食的种植面积
- B. 2005 年我国早稻的产量
- C. 2006 年我国茶叶的产量
- D. 2006 年我国猪肉的产量

115. 以下说法中, 正确的有 ()。

- I. 2003—2007 年我国的粮食产量是逐年增长的
- II. 2006 年我国的棉花产量不足 750 万吨
- III. 2006 年我国的油料产量超过 2500 万吨
- IV. 2006 年我国的水产品产量不足 4500 万吨

- A. 1 个
- B. 2 个
- C. 3 个
- D. 4 个

二、根据以下资料, 回答问题。

2006 年末, 浙江省拥有人才资源数 379.5 万人, 比 2005 年增长 18.7%; 每万人口中拥有人才资源数达 820 人, 比 2005 年增长 18%。人才资源中拥有大专及以上学历人员 204.3 万人, 比 2005 年增长 26%; 拥有高级技术职称人员 13.7 万人, 比 2005 年增长 23.9%。

2006 年, 浙江省各市、县(市、区)本级财政科技拨款为 44.6 亿元, 比 2005 年增长 31%; 本级财政科技拨款占本级财政支出的比例达 4.19%, 比 2005 年提高 0.42 个百分点。财政科普活动经费拨款为 6632 万元, 比 2005 年增长 23.2%, 人均科普活动经费达 1.43 元, 比 2005 年提高 0.25 元。

2006 年, 全省全社会科技活动经费内部支出达 407.8 亿元, 比 2005 年增长 26.9%, 科技活动经费内部支出占地区生产总值的比例达 2.59%, 比 2005 年提高 0.2 个百分点; 其中, 全社会研究与试验发展(R&D)经费支出 224 亿元, 比 2005 年增长 37.2%, R&D 经费支出占地区生产总值的比例达 1.42%, 比 2005 年提高 0.2 个百分点。规模以上工业企业技术开发经费支出 328.1 亿元, 比 2005 年增长 26.7%, 企业技术开发经费占产品销售收入的比例由 2005 年的 1.14% 提高到 2006 年的 1.15%。企业消化吸收经费支出占引进国外技术经费支出的比例也由 2005 年的 29% 提高到 2006 年的 46.7%。

116. 2006 年浙江省人才资源中拥有大专及以上学历人员约占全省人才资源总数的 ()。

- A. 56.5%
- B. 55.3%
- C. 53.8%
- D. 52.8%

117. 2005 年, 浙江省各市、县(市、区)本级财政科技拨款约为 ()。

- A. 34.81 亿元
- B. 34.63 亿元
- C. 34.35 亿元
- D. 34.05 亿元

118. 从上述资料可以推出 2006 年浙江省的地区生产总值约为 ()。

- A. 1.64 万亿
- B. 1.58 万亿
- C. 1.41 万亿
- D. 1.32 万亿

119. 2006 年浙江省规模以上工业企业产品销售收入约为 ()。

- A. 2.85 万亿
- B. 2.98 万亿
- C. 3.12 万亿
- D. 3.18 万亿

120. 下列说法中, 不正确的是 ()。

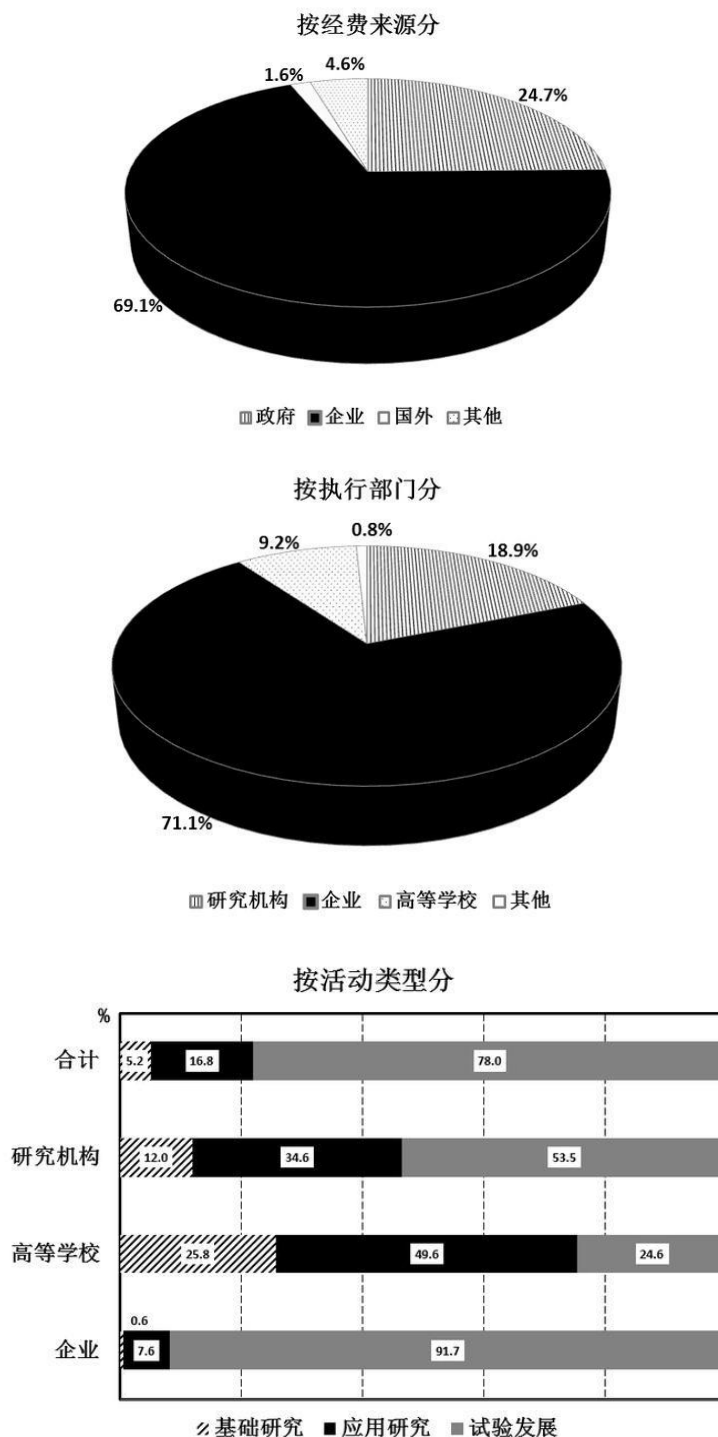
- A. 2005 年浙江省拥有人才资源数不足 325 万人
- B. 2006 年浙江省拥有高级技术职称人员占全省人才资源总数的比例超过 3%
- C. 2005 年浙江省每万人口中有人才资源数超过 685 人
- D. 2005 年浙江省全社会研究与试验发展(R&D)经费支出不足 150 亿元

C. 2007年1—6月，农村居民用于“交通和通讯”及“医疗保健”的人均消费性支出之和不足600元

D. 2008年1—6月，城镇居民和农村居民用于“食品”的人均消费性支出都超过各自人均消费性支出的三分之一

四、根据以下资料，回答问题。

我国某年度科学研究与试验发展经费支出分类示意图



注：我国该年度科学研究与试验发展支出总额为3003.1亿元。

126. 按执行部门分，该年度我国企业部分的“科学研究与试验发展经费支出”约为（ ）。

A. 567.6亿元

B. 2135.2亿元

- C. 2075.1 亿元
D. 2353.2 亿元
- 127.按经费来源分,该年度我国企业部分的“科学研究与试验发展经费支出”约比政府部分()。
- A. 多 44.4%
B. 少 44.4%
C. 多 1333.4 亿元
D. 多 1567.6 亿元
- 128.该年度我国高等学校用于应用研究部分的“科学研究与试验发展经费支出”约为()。
- A. 95.6 亿元
B. 137.0 亿元
C. 196.4 亿元
D. 1489.5 亿元
- 129.该年度我国研究机构用于基础研究部分的“科学研究与试验发展经费支出”约为企业用于应用研究部分的()。
- A. 1.6 倍
B. 1/30
C. 13%
D. 42%
- 130.该年度我国企业的“科学研究与试验发展经费支出”中,用于应用研究的约比用于基础研究的
多()。
- A. 149.5 亿元
B. 210.2 亿元
C. 135.6 亿元
D. 242.1 亿元