

第一部分 常识判断

根据题目要求，在四个选项中选出一个最恰当的答案。

请开始答题：

1. 在我国，目前调整民事法律关系的法律渊源主要是（ ）。
A. 《中华人民共和国民法》 B. 《中华人民共和国民法典》
C. 《中华人民共和国民法通则》 D. 《中华人民共和国民法典草案》
2. 民事主体在法律允许的范围内有完全的意志的自由，自主实施民事法律行为，参加民事法律关系，任何单位和个人都不得非法干预。这体现了（ ）。
A. 诚实信用原则 B. 民事活动自愿原则
C. 民事活动公平原则 D. 主体地位平等原则
3. 我国法律规定社会组织取得企业法人资格应当具备的条件不包括（ ）。
A. 有自己的名称 B. 拥有规范的组织章程
C. 有自己的组织机构和营业场所 D. 注册资金
4. 在刑法的溯及问题上，目前我国采用的是（ ）。
A. 从新原则 B. 从旧原则
C. 从新兼从轻原则 D. 从旧兼从轻原则
5. 我国立法上将犯罪分为 10 类，并通过刑法分则第一至十章分别予以论述，这种分类主要是依据（ ）。
A. 主体的不同 B. 客体的不同
C. 主观要件的不同 D. 客观要件的不同
6. 对犯罪分子短期剥夺自由，就近实行劳动改造的刑罚方法是（ ）。
A. 管制 B. 拘役
C. 刑事拘留 D. 有期徒刑
7. 根据我国宪法规定，法律和其他议案由全国人民代表大会全体代表的（ ）通过。
A. 三分之一以上多数 B. 过半数
C. 三分之二以上多数 D. 四分之三以上多数
8. 全国人民代表大会代表在全国人民代表大会各种会议上的发言和表决，不受法律追究。这主要体现了人大代表享有的（ ）。
A. 提案权 B. 质询权
C. 司法豁免权 D. 言论、表决豁免权
9. 根据我国行政复议法的规定，被申请人应当自收到申请书副本或者申请笔录复印件之日起（ ）内，提出书面答复，并提交当初作出具体行政行为的证据、依据和其他有关材料。
A. 三日 B. 五日
C. 七日 D. 十日
10. 对于确认发明专利权的案件应当由（ ）管辖。
A. 基层人民法院 B. 中级人民法院
C. 高级人民法院 D. 最高人民法院
11. 一经颁发，其他人都丧失申请权，行政主体也不得再行颁发，这类许可证被称之为（ ）。
A. 永久性许可证 B. 排他性许可证
C. 独立性许可证 D. 无条件放弃的许可证
12. 光彩夺目的金刚石的化学成分与下列的（ ）一样。
A. 铅 B. 石墨

- C. 玻璃
D. 琥珀
13. 太阳风暴是指太阳因能量增加而向空间释放出大量高速运行的（ ），它们可能对短波无线电信号的传播造成严重的影响。
- A. 带电粒子流
B. 热气流
C. 电磁场
D. 陨石
14. 当连续的图像变化超过每秒（ ）帧画面的时候，人即无法分辨每幅单独的静态画面，因而看上去是平滑连续的视觉效果。
- A. 12
B. 24
C. 360
D. 1024
15. 下列属于应用软件的是（ ）。
- A. Windows XP
B. Dos
C. OICQ
D. Linux

第二部分 言语理解与表达

本部分包括表达与理解两方面的内容。请根据题目要求，在四个选项中选出一个最恰当的答案。

请开始答题：

16. 边沁认为，动机和意图作为行为过程中的两个因素，其道德价值要通过行为结果表现出来。动机并非毫无作用，有动机才有意图，有意图才能发生行为，有行为才会产生结果，但动机和意图的好坏不取决于主观的道德动机，而是要看它们带来的行为结果。
对这段文字理解正确的是（ ）。
- A. 人的道德品质可以从行为上来判断
 - B. 动机和意图具有独立的道德价值
 - C. 动机和意图的好坏依行为结果的好坏而定
 - D. 动机和意图的依据不存在于客观效果中，而存在于主观领域
17. 因为存在城乡二元结构，同样的经济收入，在城市生活十分艰难，而在农村却可能过得舒适。城市是市场化的，而农村却有相当部分非市场因素存在。总体来讲，进城农民工愿意接受很低的工作报酬，就是因为农村生产劳动力的成本比城市低。这也使中国从全球化中获得很多利益。
这段文字意在说明（ ）。
- A. 中国从全球化中获得好处的根本原因
 - B. 我国城乡二元结构的存在具有一定的合理性
 - C. 缩小城乡贫富差距，是推进我国城市化建设的必要条件
 - D. 建设社会主义新农村，必须打破城乡二元结构
18. 政策和制度在相当程度上带有人们的主观意志，或者说是人们意志作用的结果。因此在宏观经济管理过程中，行政调节方法运用得是否合理和科学，主要取决于人们主观上对客观事物的认识是否正确，取决于人们对客观规律和复杂的经济活动的了解和掌握程度。
这段文字的主旨是（ ）。
- A. 行政调节方法在宏观经济管理中的局限性
 - B. 政策和制度在制定过程中存在不科学性
 - C. 应该用经济和法律等其他调节方法取代行政调节方法
 - D. 政策和制度的正确与否，取决于其制定者的主观因素
19. 关联交易和资金转移在其他国家是明令禁止的，而在中国，借壳上市却成了许多人股市淘金的捷径。如果上市是企业筹集资金，借壳也无可指责。然而，看多了象蓝田这样的皮包公司的伎俩，我们不能不对股市上的概念股打上几个问号。
下列陈述，不能从文意中得出的是（ ）。
- A. 通过借壳上市的方法可以为企业筹集资金
 - B. 为企业筹集资金不是皮包公司借壳上市的真正目的
 - C. 关联交易和资金转移在我国常有发生
 - D. 中国在现阶段应该取消借壳上市的做法
20. 世界自然基金会的报告显示，如今生物物种消亡的速度比以往任何时候都快。目前非洲有13000头犀牛，而原先在这片大陆上，这种庞然大物的数目曾达到100万头。在非洲，河马的数量下降了95%，现在那里只有1300头河马，而在30年前，这种厚皮动物的数量达到29000头。每年至少800头河马的牙齿和肉在非洲被交易。

对这段话的理解正确的是（ ）。

- A. 世界自然基金会的主要职能是关注和保护地球生物物种
- B. 在过去的 30 年中全世界河马的数量已经下降了 95%
- C. 现在，厚皮动物的消亡速度要大大快于其他种类的动物
- D. 人类的活动是河马数量急剧下降的主要原因

21. 据悉，一只成熟的母鼠大约 20 天左右即繁殖一次，一胎少的可生六七只、多则十来只小老鼠。而一只小老鼠出生 1.5~2.5 个月就可达到性成熟，具备繁殖能力。有趣的是，科学家们发现，老鼠具有“计划生育”的功能。当一个地区老鼠的总量较多时，老鼠会减缓其繁殖频率，而在老鼠较少或人们大举灭鼠后，它们会加快繁殖力度，使老鼠快速地成倍增长。

这段文字的主旨是（ ）。

- A. 老鼠的寿命短，因此生育周期也短
- B. 老鼠中存在着生育数量自我调节现象
- C. 老鼠的繁殖能力惊人，危害性很大
- D. 老鼠的繁殖能力取决于外界环境因素

22. 创作一首成功的（甚至伟大的）作品不必采用很强的旋律，但是动听的、容易哼唱的旋律，总会给予普通的外行听众更多的欢乐。许多没有研究或分析过音乐的人，很容易被擅长旋律的作曲家所吸引。将巴洛克时期的作曲家和 20 世纪的一些作曲家相比，古典作曲家和浪漫作曲家都使自己的旋律更容易上口，长旋律比短促的旋律更容易掌握。

根据这段话，理解正确的是（ ）。

- A. 优秀的作曲家就是擅长掌握听众耳朵的作曲家
- B. 与现代作曲家相比，古典作曲家更能使自己的旋律容易上口
- C. 浪漫作曲家在作曲过程中特别擅长对短旋律的运用
- D. 社会主义制度下的音乐创作应当以大众口味为导向

23. 欣赏是文学活动的有机组成部分，只有在欣赏过程中，作品才能获得其本质性，成为文学作品。传统文学理论忽视文学欣赏，致使文学研究难以更进一步，也阻碍了文学创作的发展。现代文学理论与传统文学理论的最大不同，就在于对文学欣赏的重视程度。可以这样说，对文学欣赏的研究，是现代文学理论的起点，现代文学理论就建立在文学欣赏理论的基础上。

根据这段话，理解最准确的是（ ）。

- A. 现代文学理论重视文学欣赏的过程
- B. 文学创作是文学欣赏的前提
- C. 文学欣赏是作品获得本质性的途径，它是文学活动最主要的部分
- D. 文学欣赏活动的普及奠定了文学理论的基石

24. 圣婴现象是一个全球性的气候型态，每四年发生一次，每次发生大约会维持一年半左右的时间，并影响全世界的气候。据统计，在上个世纪总共发生了 23 次。1998 年发生的圣婴现象规模甚大，当时给美国造成了洪水、农作物欠收等灾害，损失大约 15 亿美元。可是因为气候型态的改变却造成植物生长季节变长，冬天暖气燃油的使用量减少等情形，实际上，圣婴现象对美国经济的影响反而是净收益了 150 亿美元。

根据这段文字，下列理解正确的是（ ）。

- A. 1998 年的圣婴现象对美国造成的损失实际上远不止 15 亿美元
- B. 圣婴现象是指上世纪的一种常见的影响面很广的气候灾害
- C. 面对圣婴现象带来的灾害，1998 年冬天美国公民主动减少暖气燃油的使用
- D. 1998 年的圣婴现象给美国带来了灾害，也带来了意外的积极效应

25.我国现阶段发展老龄产业，不仅能够满足老年人群的特殊需要，还有利于形成新的消费热点，扩大内需，增加就业岗位，优化产业结构。同时能促进城乡协调发展和代际反馈，它将在应对人口老龄化和促进经济社会发展之间架起一座桥梁，达成双赢的局面。

对本文主旨理解最准确的是（ ）。

- A. 中国社会的老龄化问题亟待解决
- B. 我国老年人群的消费市场存在巨大潜力
- C. 目前我国推动老龄产业发展的时机已经成熟
- D. 老龄产业的发展必将在很大程度上拉动我国经济的增长

26.二恶英是一种持久性的有机污染物，目前对二恶英的治理存在各方面的难题。首先，对二恶英的检测技术要求很高，采样要求很严格，需要特殊的高灵敏检测仪器。其次，二恶英类化合物分布广泛、污染源多。垃圾焚烧是二恶英的一个重要来源，美、日、德都有比较先进的技术来处理，如活性炭吸附、催化剂处理等，但中国目前还很少采用这些办法。作为一个发展中国家来说，污染物处理的技术和成本都是需要考虑的问题。

根据这段话，理解正确的是（ ）。

- A. 技术和成本是制约我国治理二恶英污染的主要因素
- B. 我国目前还不具备从环境中检测出二恶英的技术水平
- C. 增加经费投入能够解决目前的问题
- D. 由于分布广泛，根除二恶英污染是不可能的

27.调查发现，现在有 25%的婴儿的血液和头发中水银含量超标，有 6%的母亲体内水银超出标准。研究人员说，即便鱼类所含水银量均符合安全标准，假如孕妇长期并过量食用，也会使水银经胎盘传给胎儿。由于胎儿的排泄能力较差，这样水银便很容易在其体内积聚下来，这会影响婴儿脑部的发育，造成智力发展迟缓。

根据以上文字，理解正确的是（ ）。

- A. 孕妇体内的水银超标，其婴儿体内的水银肯定也超标
- B. 孕妇饮食不当是造成婴儿智力发展迟缓的根本原因
- C. 孕妇长期并过量食用鱼类会影响婴儿脑部发育
- D. 现行的鱼类产品的水银含量安全标准是不科学的

28.人类具有相信“自己人”的倾向，一个有经验的谈话者，总是使自己的声调、音量、节奏与对方相称，就连坐的姿势也尽力给对方在心理上有相容之感。比如，并排坐着比相对而坐在心理上更具有共同感。

这段话的主旨是（ ）。

- A. 有经验的谈话者一般都比较自信，在交谈过程中能掌控局面
- B. 人们总是更善于和自己熟悉的人谈话
- C. 谈话过程中的坐姿与声调、音量、节奏等同样重要
- D. 创造相容感能对谈话过程产生积极的作用

29.“龙”的英文“Dragon”，在西方世界被认为是一种充满霸气和攻击性的庞然大物。“龙”的形象往往让对中国历史和文化了解甚少的外国人片面而武断地产生一些不符合实际的联想。“龙”在内的一些中国形象标志也往往具有一定的局限性，容易招致误读误解或别有用心的歪曲。

这段文字最有可能是表述（ ）。

- A. 反对“龙”作为中国形象标志的理由
- B. 建议把“龙”作为中国形象的标志
- C. “龙”在西方人眼中的形象
- D. “龙”是中华民族的图腾

30. 厚重的历史文化遗产不是城市建设、城市发展的包袱，而是精神理念的载体，容易凝聚成为现代化建设最大的财富。开发人的内在动力，产生文化效应，大幅度提高市民素质、各种文化形态随之融汇渗透、辐射四方。
- 这段话直接支持了这样一种观点，即（ ）。
- A. 历史文化景观作为城市建设的新视点的观念尚难为人们接受
B. 物质层面的财富是城市建设可感可触的基础
C. 历史文化遗产有益于提升城市的精神品质和塑造城市的风貌形象
D. 文化建设是城市建设的主要组成部分
31. 当你把社会看作一个复杂的系统的时候，重视多种因素的动态协调，才会更好地促进社会的和谐。假如遇到问题，就从概念出发，进行简单的定性和判断，强求一致，非此即彼。这种思维的简单化、片面化、极端化，都与和谐社会的要求格格不入。
- 这段话的主旨是（ ）。
- A. 构建和谐社会需要系统思维
B. 简单化、片面化地处理社会问题方法是不正确的
C. 面对复杂的问题时，我们不能简单地去做定性，简单地去做出判断
D. “求同存异”是构建和谐社会的一个理念
32. 作为一个发展中国家，自主创新并非自己创新，更非封闭式创新。不能排斥技术引进，但技术创新能力无法通过引进直接获得，关键技术更是买不来，日本和韩国引进技术和消化吸收费用的比例分别为 1:5 和 1:8，而我国的比例为 1:0.15。
- 由此可见，我国技术引进的主要问题是（ ）。
- A. 对引进技术的消化吸收和再创新不够
B. 过分依赖技术引进，自主创新能力不强
C. 引进先进技术的力度还不够
D. 引进的技术并不是世界上最先进、最关键的技术
33. 下列句子中没有歧义的一项是（ ）。
- A. 他俩拿着一本书在看
B. 居民很少发现赌博
C. 小张到处传播小道消息
D. 小李埋怨自己不应该
34. 下列句子中没有歧义的一项是（ ）。
- A. 需要相信自己的人
B. 他们谁也没有干涉我的权利
C. 任何事都要从头做起
D. 他理解小张有困难
35. 下列句子中，句意明确，没有语病的一句是（ ）。
- A. 有极少数党组织至今仍不敢发展那些本人表现很好只是家庭出身不好的党员
B. 该经济特区，具有较强的工业基础，具有较丰富的动植物、矿产资源
C. 某杂志将莱卡列入了“21 世纪影响人类生活的十大服装品牌”之一
D. 国家决定免征关税和进口增值税的目的和意义，在于进一步和扩大利用外资，鼓励引进国外的先进技术和设备，促进产业结构的调整和进步
36. 下列句子中，句意明确，没有语病的一句是（ ）。
- A. 中国美院的每一个大学生将来都希望自己成为一个出色的美术家
B. 在古代，这类音乐作品只有文字记载，没有乐谱资料，既无法演奏，也无法演唱
C. 入世后，面对如此强大的竞争对手，通过强强联合的方式来实现文化产业的集团化，无疑是一个重要举措

D. 我们必须拿出自己的正版计算机游戏软件，否则，拿不出新软件，就难以抵制不健康的盗版软件

37. 下列句子中标点符号使用完全正确的一项是（ ）。

A. 许多人以为乐观主义的人不过是“嬉皮笑脸”，“随随便便”，“一切放任”，“得过且过”，“唯唯诺诺”

B. 我们要领会“俯首甘为孺子”这句话的深刻意义

C. 看台上，同学们一个劲地喊着：“加油”，“加油”的口号，为运动员鼓劲

D. 一个没有理想的人，不但不知道明天走到哪里？做什么？就连今天做什么？为什么要这样做？都弄不清楚

38. 下列句子中括号内词语使用正确的一项是（ ）。

A. 看对方的神态，全然没有剑拔弩张、严阵以待的气势，倒有几分闲庭信步、（瓜田李下）话桑麻的味道。

B. 胡同文化是一种封闭的文化，住在胡同里的居民大都（安土重迁），不大愿意搬家。

C. 这伙盗贼真是猖狂，竟然在犯罪现场（坐地分赃），结果被及时赶到的警察全部擒获。

D. 有的人说是“反腐倡廉”，做的却是“贪污腐化”，真的令人（不可理喻）。

39. 下列句子中加点词语使用不正确的一项是（ ）。

A. 这一套百科全书，内容涉及各个领域，各个学科，真是（蔚为大观），丰富多彩

B. 她有过的胆量，且有勇有谋，任何情况下都不会（畏葸不前）

C. 大家议论了好久，（莫衷一是），想不出好办法

D. 当代诗坛颇不景气，想起唐诗宋词的成就，不禁让人产生（今非昔比）的感觉

40. 他们单位办公室主任王某向来说话严谨，让人找不到_____。

填入横线部分最恰当的一项是（ ）。

A. 南北

B. 破绽

C. 头绪

D. 弊端

41. 由于缺乏诚信，这家大商场越办越差，现在每天去那里购物的顾客_____。

填入横线部分最恰当的一项是（ ）。

A. 寥寥无几

B. 人迹罕至

C. 熙来攘往

D. 门可罗雀

42. 人们对于蜜蜂的赞美，尤其充满_____的情趣。在思想史上，艺术史上，许许多多人都歌颂过蜜蜂。这不仅仅因为蜜蜂能够酿蜜，而且人们也能从蜜蜂酿蜜中得到_____。它能够博采，又能提炼，终于，黄澄澄、香喷喷的蜜糖给酿造出来了。它的酿蜜可以说是一种卓越的创造。

填入横线部分最恰当的一项是（ ）。

A. 哲理 重要的启示

B. 生活 实惠的馈赠

C. 甜蜜 滋味的享受

D. 奋进 创造的幸福

43. 人文教育的重要目的在于使学生经由大学教育，能够_____纯粹功利的职业取向，_____狭隘的专业意识，从细小的专业分支中走出来。

填入横线部分最恰当的一项是（ ）。

A. 抵制 扭转

B. 制止 克服

C. 抵制 克服

D. 制止 扭转

44. 填入下列句子中横线上的词语，正确的一组是（ ）。

①相关部门多次派人来_____这个公司的财务工作，发现了许多问题。

②在我结婚的那天，妈妈拿出一个翡翠镯子给我，说那是祖上_____下来的。

- A. 检查 流传
B. 检察 流传
C. 检查 留传
D. 检察 留传

45. 五十多年后回顾这段历史，杜老依然_____，然而他也没有_____土改实施过程中的缺陷，例如消灭富农和侵犯中农，以及没有严格依法保护劳动者财产利益。填入横线部分最恰当的一项是（ ）。

- A. 直言不讳 回避
B. 毫无隐瞒 忌讳
C. 慷慨激昂 避嫌
D. 激情满怀 避讳

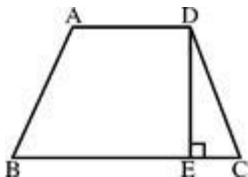
第三部分 数量关系

在这部分试题中，每道题呈现一段表述数字关系的文字，要求你迅速、准确地计算出答案。

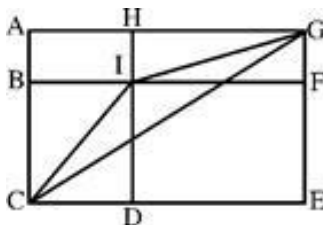
请开始答题：

46. 0.5, 2, $9/2$, 8, ()
A. 12.5
B. $27/2$
C. $14(1/2)$
D. 16
47. 100, 8, 1, $1/4$, ()
A. $1/4$
B. $1/12$
C. $1/20$
D. $1/32$
48. 85, 52, (), 19, 14
A. 28
B. 33
C. 37
D. 41
49. 1, 6, 30, (), 360
A. 80
B. 90
C. 120
D. 140
50. 0, 9, 26, 65, (), 217
A. 106
B. 118
C. 124
D. 132
51. 243, 217, 206, 197, 171, (), 151
A. 160
B. 158
C. 162
D. 156
52. 36, 24, (), $32/3$, $64/9$
A. $431/27$
B. $140/9$
C. $49/3$
D. 16
53. 5, 7, 4, 9, 25, ()
A. 168
B. 216
C. 256
D. 296
54. (), 35, 63, 80, 99, 143
A. 24
B. 15
C. 8
D. 1
55. 3, 18, 60, 147, ()
A. 297
B. 300
C. 303
D. 307
56. $1^{2007} + 3^{2007} + 5^{2007} + 7^{2007} + 9^{2007}$ 的值的个位数是 ()。
A. 5
B. 6
C. 8
D. 9
57. 把圆的直径缩短 20%，则其面积将缩小 ()。
A. 40%
B. 36%
C. 20%
D. 18%

58. 小张在做一道除法题时，误将除数 45 看成 54，结果得到的商是 3，余数是 7。问正确的商和余数之和是（ ）。
- A. 11
B. 18
C. 26
D. 37
59. 把自然数 1, 2, 3, 4, 5, ……98, 99 分成三组，如果每组数的平均数恰好相等，那么此平均数为（ ）。
- A. 55
B. 60
C. 45
D. 50
60. 某部队战士排成了一个 6 行、8 列的长方阵。现在要求各行从左至右 1, 2, 1, 2, 1, 2, 1, 2 报数，再各列从前到后 1, 2, 3, 1, 2, 3 报数。问在两次报数中，所报数字不同的战士有（ ）。
- A. 18 个
B. 24 个
C. 32 个
D. 36 个
61. 同时扔出 A、B 两颗骰子（其六个面上的数字都为 1, 2, 3, 4, 5, 6），问两颗骰子出现的数字的积为偶数的情形有几种？（ ）
- A. 27 种
B. 24 种
C. 32 种
D. 54 种
62. A、B 两地相距 100 公里，甲以 10 千米/小时的速度从 A 地出发骑自行车前往 B 地。6 小时后，乙开摩托车从 A 地出发驶向 B 地。问为了使乙不比甲晚到 B 地，摩托车每小时至少要行驶多少千米？（ ）
- A. 24 千米
B. 25 千米
C. 28 千米
D. 30 千米
63. 如图所示，梯形 ABCD，AD//BC，DE⊥BC，现在假设 AD、BC 的长度都减少 10%，DE 的长度增加 10%，则新梯形的面积与原梯形的面积相比，会怎样变化？（ ）



- A. 不变
B. 减少 1%
C. 增加 10%
D. 减少 10%
64. 某单位实行五天工作制，即星期一至星期五上班，星期六和星期日休息。现已知某月有 31 天，且该单位职工小王在该月休息了 9 天（该月没有其他节日），则这个月的六号可能是下列四天中的哪一天？（ ）
- A. 星期五
B. 星期四
C. 星期三
D. 星期一
65. 如图所示，长方形 ACEG 被线段 BF、HD 分成四个大小不等的小长方形。已知 AH 为 6cm，GF 为 3cm，DE 为 10cm，BC 为 7cm。则三角形 ICG 的面积为（ ） cm^2 。

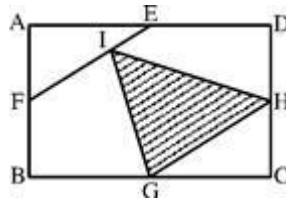


- A. 32
C. 30
- B. 28
D. 26

66. 某代表团有 756 名成员，现要对 A、B 两议案分别进行表决，且他们只能投赞成票或反对票。已知赞成 A 议案的有 476 人，赞成 B 议案的有 294 人，对 A、B 两议案都反对的有 169 人。则赞成 A 议案且反对 B 议案的有（ ）。

- A. 293 人
C. 302 人
- B. 297 人
D. 306 人

67. 如图所示，矩形 ABCD 的面积为 1，E、F、G、H 分别为四条边的中点，FI 的长度是 IE 的两倍，问阴影部分的面积为多少？（ ）



- A. $1/3$
C. $5/16$
- B. $1/4$
D. $7/24$

68. 先将线段 AB 分成 20 等分，线段上的等分点用“ Δ ”标注，再将该线段分成 21 等分，等分点用“O”标注（AB 两点都不标注），现在发现“ Δ ”和“O”之间的最短处为 2 厘米，问线段 AB 的长度为多少？（ ）

- A. 2460 厘米
C. 840 厘米
- B. 1050 厘米
D. 680 厘米

69. 林子里有猴子喜欢吃的野果，23 只猴子可以在 9 周内吃光，21 只猴子可以在 12 周内吃光，问如果有 33 只猴子一起吃，则需要几周吃光？（假定野果生长的速度不变）（ ）

- A. 2 周
C. 4 周
- B. 3 周
D. 5 周

70. 某工程由小张、小王两人合作刚好可在规定的时间内完成。如果小张的工作效率提高 20%，那么两人只需要规定时间的 $9/10$ 就可完成工程；如果小王的工作效率降低 25%，那么两人就需延迟 2.5 小时完成工程。问规定的时间是（ ）。

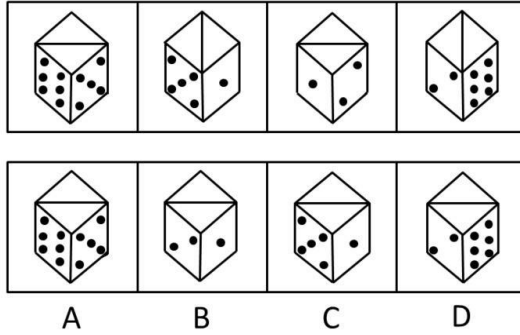
- A. 20 小时
C. 26 小时
- B. 24 小时
D. 30 小时

第四部分 判断推理

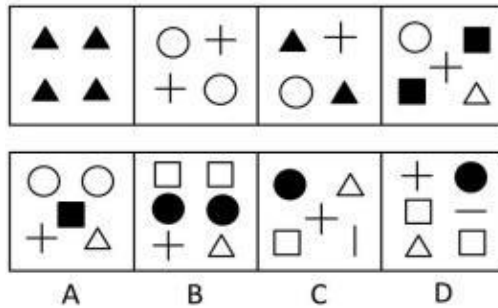
一、图形推理。请按每道题的答题要求作答。

请开始答题：

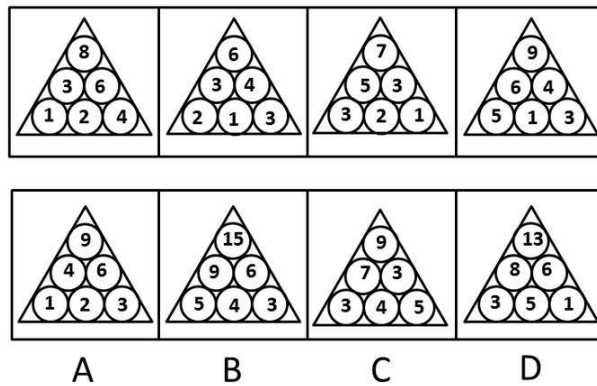
71. 从所给的四个选项中，选择最合适的一个，使之呈现一定的规律性（ ）。



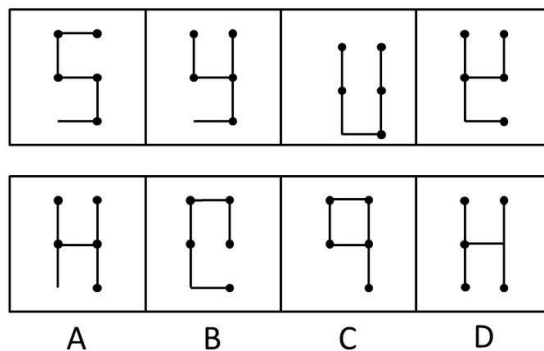
72. 从所给的四个选项中，选择最合适的一个，使之呈现一定的规律性（ ）。




73. 从所给的四个选项中，选择最合适的一个，使之呈现一定的规律性（ ）。



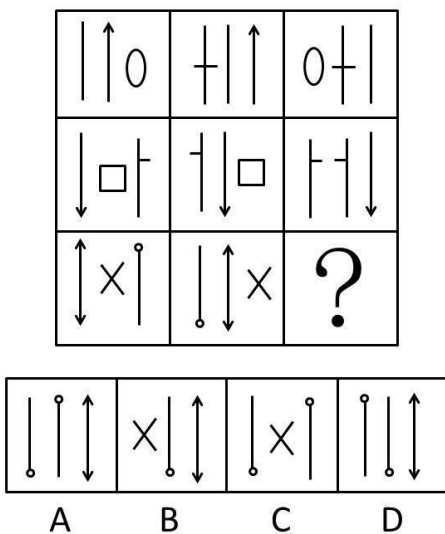
74. 从所给的四个选项中，选择最合适的一个，使之呈现一定的规律性（ ）。



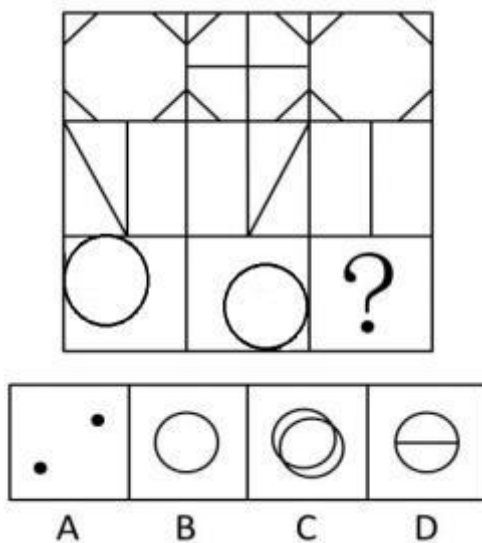
75. 从所给的四个选项中，选择最合适的一个，使之呈现一定的规律性（ ）。



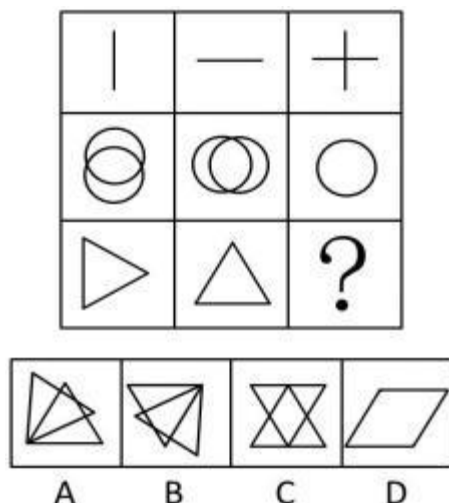
76. 从所给的四个选项中，选择最合适的一个，使之呈现一定的规律性（ ）。



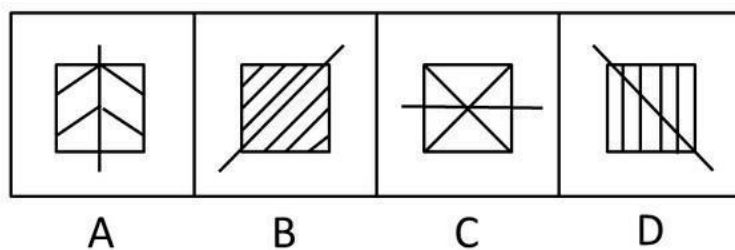
77. 从所给的四个选项中，选择最合适的一个，使之呈现一定的规律性（ ）。



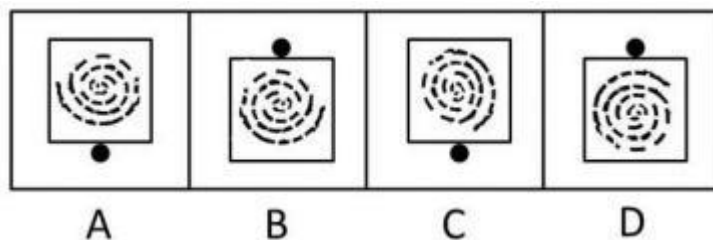
78. 从所给的四个选项中, 选择最合适的一个, 使之呈现一定的规律性 ()。



79. 请从下面四个图形中选出与众不同的一个 ()。



80. 请从下面四个图形中选出与众不同的一个 ()。



二、类比推理。每道题先给出一组相关的词, 要求你在备选答案中找出一组与之在逻辑关系上最为贴近、相似或匹配的词。

请开始答题:

81. 鸿沟: 逾越

- A. 技术: 创新
- C. 伤口: 敷平

- B. 关系: 恶化
- D. 堤坝: 加固

82. 鼠标: 键盘

- A. 电脑: 音响
- C. 棉花: 丝绸

- B. 门: 窗户
- D. 红花: 绿叶

83. 制度: 管理

- A. 文盲: 教育
- C. 成功: 竞争

- B. 法律: 审判
- D. 警报: 逃生

84. 客车: 货车

- A. 居民楼: 商务楼
- C. 男生: 女生

- B. 蝌蚪: 青蛙
- D. 遥控器: 电视机

85. 警察：安全
- A. 太阳：温暖
B. 酒吧：娱乐
C. 乞丐：流浪
D. 飞机：战争
86. 糖：苦
- A. 孤儿：可怜
B. 复杂：简单
C. 明确：模糊
D. 美国：弱小
87. 绿色：健康
- A. 决赛：关键
B. 尖叫：恐惧
C. 危机：管理
D. 警报：逃生
88. 罚单：银行
- A. 钥匙：门锁
B. 干裂：唇膏
C. 请帖：客户
D. 合同：律所
89. 古诗：李白
- A. 国家：楼兰
B. 民间艺术：手工陶艺
C. 运动：拳击
D. 民族冲突：加沙地带
90. 弗洛伊德：心理
- A. 厄尔尼诺：气象
B. 唐古拉山：巅峰
C. 中情六局：情报
D. 超级女生：媒体

三、定义判断。每道题先给出定义，然后列出四种情况，要求你严格依据定义，从中选出一个最符合或最不符合该定义的答案。注意：假设这个定义是正确的，不容置疑的。

请开始答题：

91. 政府信用：政府按照有借有还的商业信用原则，以债务人身份来取得收入，或以债权人身份来安排支出，也称为财政信用。
- 下列属于政府信用的是（ ）。
- A. 某县财政全年收缴税款两千万元，预期其中一部分用于公共设施建设
B. 为建设环保型城市，其市政府强令重型污染企业撤出市区，并处以巨额罚款
C. 财政部日前决定再发行 160 亿元 20 年期国债，本期国债为固定利率付息债
D. 某国有企业通过破产还债程序还清部分欠款并注销企业
92. 风险投资：由职业金融家投入到新兴、迅速发展的、具有巨大竞争潜力的企业中的一种权益资本。
- 下列属于风险投资的是（ ）。
- A. 余某瞅准时机投资某新型电池制造公司，并取得其 25% 的股份
B. 某外地老板听说房价还会涨，于是在杭州市中心购买了三套精装修房子
C. 老伍每年为自己与妻子购买大量养老保险，期望能够减轻子女赡养负担
D. 小宋将积蓄交给某“信得过”的朋友发放高利贷，利息率高达 10%
93. 足值货币：是指这样的一种货币，它本身具有十足的内在价值，并且它是以自身所包含的实际价值同商品世界一切商品相交换的，是一种内在价值的等量交换，并以其内在价值量的大小来决定交换的比例。
- 下列属于足值货币的是（ ）。
- A. 信用卡
B. 美元
C. 银行承兑票据
D. 贵金属货币

94. 监护权：指民事主体对无民事行为能力人和限制民事行为能力人实施监督和保护，并排除他人非法干涉的权利。
以下属于行使监护权的是（ ）。
- A. 安全部门人员紧随塞舌尔总统出访，密切监视周围情况，以保证总统的安全
 - B. 一名孤儿院的女婴得到了好几位来自全国各地的“准妈妈”的无私捐助
 - C. 父母双亡后，年幼的小明跟着爷爷生活，爷爷很疼小明
 - D. 张三遇到车祸，左腿骨折，在妻子的用心照顾下恢复状况良好
95. 单位犯罪：指公司、企业、事业单位、机关、团体，为本单位谋取利益，经单位决策机构或由负责人员决定而以单位名义实施的危害社会、依法应受刑罚处罚的行为。
以下属于单位犯罪的是（ ）。
- A. 某牛奶生产企业负责人决定将过期牛奶掺进鲜牛奶中包装出售，获利五十余万元，后发生食物中毒事件被人揭发出来
 - B. 某企业财务伪造公司印章签单，欠下巨额债务之后准备逃逸，最后锒铛入狱
 - C. 某公司负责人李某以公司名义将当年巨额年终利润以红利方式分发给下属
 - D. 某公司业务员陈某冒用公司总经理名义实施诈骗，并在一个月内将十余万元赃款挥霍一光

四、逻辑判断。每道题给出一段陈述，这段陈述被假设是正确的，不容置疑的。要求你根据这段陈述，选择一个答案。注意：正确的答案应与所给的陈述相符合，不需要任何附加说明即可以从陈述中直接推出。

请开始答题：

96. 如果不能保证四小时睡眠，那么大脑将不能得到很好的休息；如果大脑没有得到很好的休息，那么第二天大部分人都会感觉到精神疲劳。
因此，可以推断（ ）。
- A. 只要大脑得到充分休息，就能消除精神疲劳
 - B. 大部分人的精神疲劳源于睡眠不足
 - C. 如果你只睡眠三小时，那么第二天一定会精神疲劳
 - D. 如果大脑得到了很好的休息，则必然保证了四小时的睡眠
- 某国议会准备用 4 天时间对七个议案进行讨论。讨论安排必须符合以下条件：
每天最多讨论三个议案；
四号议案必须放在第二天；
一号议案和五号议案在同一天讨论；
四号议案在二号议案之后，且在三号议案之前讨论了；
三号议案在一号议案之前，且在六号议案之后讨论。
97. 下列哪两个议案可以在第一天讨论？（ ）
- A. 六号议案和七号议案
 - B. 二号议案和三号议案
 - C. 二号议案和五号议案
 - D. 五号议案和七号议案
98. 若一号议案在第三天讨论，且第四天只讨论一个议案，则第四天讨论的议案是（ ）。
- A. 二号议案
 - B. 三号议案
 - C. 六号议案
 - D. 七号议案
99. 无线上网的计算机也会有天线辐射，因为键盘实质上也是天线。在键盘的每个按键处布满了纵横网络，本身就形成了天线，而且每个键随时都在被高频电磁扫描，能发射出大量的电磁波。通常，人们只注意将电磁波封堵在机箱内但是却很大程度上忽略了键盘的电磁波外泄。
根据以上论述，无法推出的是（ ）。

- A. 有线上网的计算机存在着天线辐射问题
 B. 机箱具有防止机箱内电磁波外泄的功能
 C. 人们对电脑电磁辐射的防护存在盲区
 D. 长时间在电磁波环境下工作容易导致人体损伤
100. 现在越来越多的年轻人没有经过登记就共同生活在一起了，结果由于种种原因在发生财产等民事纠纷时，不能得到法律上的承认和保护。因此，结婚登记有避免两人感情关系破裂后导致的很多无谓纠纷的作用。
 以下哪一项最能加强上述论点？（ ）
 A. 现代婚姻越来越不稳定，离婚率越来越高 B. 并非每一对非婚同居者都会发生民事纠纷
 C. 现代年轻人更看重男女之间的感情 D. 有些非婚同居者后来也去领了结婚证
101. 音乐欣赏并非仅仅作为音乐的接受环节而存在，它同时还以反馈的方式给音乐创作和表演以影响，它的审美判断和审美选择往往能左右作曲家和表演家的审美选择，每一个严肃的音乐家都不能不注意倾听音乐欣赏者的信息反馈，来调整和改进自己的艺术创造。
 根据以上材料，可以推断（ ）。
 A. 音乐欣赏就是音乐欣赏者理解创作者对音乐美感演绎的过程
 B. 所有音乐家以及作曲家都注意音乐欣赏者们的反馈
 C. 音乐欣赏者的审美观对于音乐家来说也很重要
 D. 音乐创造实际上是集体劳动的过程，而不是某个人单独完成
102. 有关六十岁以上的老年人对超级女生这个娱乐节目不感兴趣的说法是不正确的。最近某学院的一项问卷调查报告表明，在 3500 份寄回问卷调查表的老年人中，83% 的老年人说自己非常喜欢看超级女生这个节目。
 以下哪项如果为真，最能削弱上述结论？（ ）
 A. 该学院的问卷调查缺乏权威性，其准确度值得商榷
 B. 填写并寄回调查问卷的老年人很可能是对超级女生感兴趣的老年人
 C. 有少数寄回调查问卷的老年人实际上还不到六十岁
 D. 大部分寄回调查问卷的老年人同时喜欢看其他娱乐节目
103. 所有的生物体都有生命；乳酸菌是一种生物，适合在无氧环境下生存；如果生物体有生命活动，那么生物体必然有呼吸运动。
 根据以上论述，可以推断（ ）。
 A. 呼吸运动在无氧环境下也可以进行 B. 乳酸菌是一种没有呼吸运动的生物
 C. 乳酸菌在无氧环境下会停止呼吸运动 D. 能在无氧环境下生存的生物体为数不多
104. 据调查发现，大部分电视观众对同一则广告在电视节目中反复播放的行为相当反感，因此有人认为厂家做广告的目的不仅没达到，甚至会产生负作用，最终影响产品的销售。
 下列哪项如果为真，最能削弱上述结论？（ ）
 A. 只要广告制作得精彩、有创意，还是有很多观众乐意看的
 B. 厂家的目的是让观众记住其所推销的产品，而不会顾及观众当时的感受
 C. 有些电视观众在广告时间会干些家务或休息一下
 D. 许多有实力的大企业的电视广告往往采用同一则广告反复播放的方式
105. 七名运动员（一号至七号）参加 100 米跑的决赛，没有任何两个人同时到达终点。已知：
 ①七号跑得比一号快，一号比二号快
 ②三号最先到达终点，五号跑得最慢
 ③四号第六个跑到终点，二号第五个跑到终点。

问下列选项中有可能正确的一项是（ ）。

- A. 七号运动员获得第四名或第七名
- C. 一号运动员获得第四名或第六名

- B. 六号运动员获得第三名或第四名
- D. 一号运动员获得第三名或第五名

第五部分 资料分析

针对下列图、表或文字回答问题。你应根据资料提供的信息进行分析、比较、计算、处理。你可以在题本上运算。

请开始答题：

一、根据以下资料，回答问题。

2005年某省海洋产业总产值达2144.6亿元；海洋产业增加值达302.4亿元，约占全省海洋产业总产值的14.1%。海洋三大产业结构由2000年的31.0:16.7:52.3调整为2005年的21.0:13.2:65.8。

以海洋经济为依托的沿海县（市）国民经济稳步增长，呈现良好发展势头。海洋渔业、海洋交通运输业快速发展，2005年中总产值分别为334.0亿元、747.3亿元，“十五”期间年均分别增长7.1%、24.7%，大大超过“十五”预期目标。滨海旅游、海水产品加工业、船舶修造等产业日益壮大，2005年总产值分别达470.3亿元、180.0亿元、40.9亿元，“十五”期间年均分别增长14.9%、9.0%、13.2%。

2005年海洋产业中“五大产业”（海洋渔业、海洋交通运输、滨海旅游、海水产品加工、船舶修造）的总产值占全省海洋产业总产值的82.6%，海洋支柱产业已经形成。

106. 2004年该省海洋产业总产值约为（ ）。

- A. 1785.2亿元
- B. 1842.2亿元
- C. 1905.7亿元
- D. 2001.4亿元

107. 2005年海洋第三产业所占比重相对于2000年（ ）。

- A. 提高了10个百分点
- B. 提高了25.8个百分点
- C. 提高了4.5个百分点
- D. 提高了13.5个百分点

108. 2005年海洋渔业总产值占全省海洋产业总产值的比重为（ ）。

- A. 9.8%
- B. 15.6%
- C. 8.7%
- D. 17.5%

109. 下列四个选项中，值最大的是（ ）。

- A. “十五”期间滨海旅游产业总产值的年均增长速度
- B. “十五”期间船舶修造产业总产值的年均增长速度
- C. 2005年海洋渔业总产值占全省海洋产业总产值的比重
- D. 2005年海洋第二产业所占比率

110. 下列说法错误的是（ ）。

- ①2005年该省海洋产业中“五大产业”的总产值已经超过2000亿元
- ②2005年海洋渔业、海洋交通运输业的总产值已经超过全省海洋产业总产值的一半
- ③2005年海洋交通运输业的总产值比上年增长了24.7%

- A. 仅①③
- B. 仅②③
- C. 仅①②
- D. ①②和③

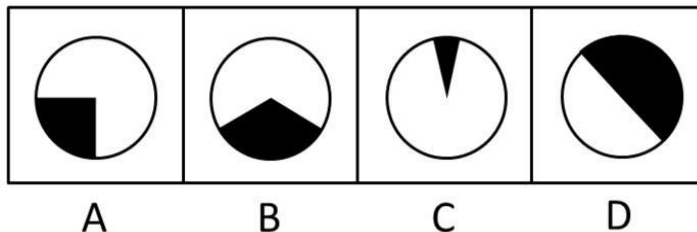
二、根据以下资料，回答问题。

十国进出口贸易额

单位：亿美元

国家和地区	2003年		2004年	
	进口	出口	进口	出口
中国	4128	4382	5612	5933
日本	3829	4718	4545	5655
美国	13031	7248	15264	8190
巴西	507	731	659	965
法国	3988	3920	4641	4510
德国	6046	7516	7175	9148
意大利	2975	2993	3490	3461
荷兰	2647	2960	3199	3588
俄罗斯联邦	742	1359	948	1832
英国	3920	3056	4620	3456

111. 上表 10 个国家中，2004 年进出口为逆差的国家有几个？（ ）
 A. 2 个
 B. 3 个
 C. 4 个
 D. 5 个
112. 2004 年的出口额比 2003 年增加最多的国家是（ ）。
 A. 中国
 B. 日本
 C. 美国
 D. 德国
113. 2004 年巴西的进出口总额约比 2003 年增长了（ ）。
 A. 22.6%
 B. 25.9%
 C. 31.2%
 D. 36.5%
114. 设 2003 年进出口总额最大的国家的进出口总额为 A，2003 年进出口总额最小的国家的进出口总额为 B，则 A 约为 B 的（ ）。
 A. 16.4 倍
 B. 12.6 倍
 C. 9.7 倍
 D. 6.7 倍
115. 下列阴影部分最能体现 2003 年俄罗斯联邦出口额占中国出口额的比重的是（ ）。



三、根据以下资料，回答问题。

2005 年我国全社会固定资产投资 88604 亿元，比上年增长 25.7%。其中，城镇投资 75096 亿元，增长 27.2%；农村投资 13508 亿元，增长 18.0%。在城镇投资中，第一产业投资 823 亿元，增长 27.5%；第二产业投资 31598 亿元，增长 38.4%。

某省 2006 年企业整体生产经营状况统计表

	景气指数	比同期上升	指数变化状况		
			持平企业	减少企业	增加企业
生产总值	134.3	10.9	50.8%	32.8%	16.4%
企业盈利	122.6	5.2	42.4%	37.9%	19.7%
劳动力需求	120.8	5.1			
产品订货形势	130.8	7.0	41.7%	47.5%	10.8%
工业企业产品	136.7		43.6%		
资金紧张	121.2	8.3	38.7%	43.9%	17.4%
企业融资	117.5	10.0	29.5%	58.0%	12.5%
中小企业	104.6	5.6			

(本表基于对 1400 家企业的调查统计)

121. 2005 年“劳动力需求”的景气指数为 ()。
- A. 120.8 B. 115.7
C. 130.8 D. 114.9
122. 调查中, 2006 年“资金紧张”指数未增加的企业约为 ()。
- A. 1156 家 B. 859 家
C. 615 家 D. 244 家
123. 调查中, 2006 年“生产总值”指数持平企业数量约为“产品订货形势”指数增加企业数量的 ()。
- A. 3.2 倍 B. 4.1 倍
C. 4.7 倍 D. 5.2 倍
124. 这 1400 家企业中“产品订货形势”指数持平企业数量, 与去年相比 ()。
- A. 增加了 B. 减少了
C. 没有变化 D. 无法判断
125. 下列关于 2006 年企业状况的说法中正确的是 ()。
- A. “企业盈利”指数持平企业有 588 家
B. 与去年同期相比, “企业融资”景气指数的变化幅度大于“资金紧张”景气指数的变化幅度
C. “生产总值”指数持平企业数约占企业总数的三分之一
D. “产品订货形势”指数减少企业有 790 家