

第一部分 常识判断

根据题目要求，在四个选项中选出一个最恰当的答案。

请开始答题：

1. 地球上的生命大约起源于多少年前？（ ）。
A. 200万
B. 3亿
C. 10亿
D. 40亿
2. “学而不思则罔，思而不学则殆”出自（ ）。
A. 《大学》
B. 《论语》
C. 《中庸》
D. 《孟子》
3. 京剧的花脸所属的行当是（ ）。
A. 生
B. 丑
C. 净
D. 末
4. 战国时期最有实力的七个诸侯国家被称为“战国七雄”，他们分别是（ ）。
A. 齐、魏、越、秦、晋、韩、赵
B. 齐、楚、燕、赵、秦、韩、魏
C. 齐、秦、越、赵、燕、韩、魏
D. 齐、赵、越、秦、鲁、韩、魏
5. 成语“草木皆兵”反映的历史事件是（ ）。
A. 淝水之战
B. 赤壁之战
C. 官渡之战
D. 长平之战
6. 基因工程技术的发展基础不包括（ ）。
A. 分子生物学
B. 生物物理学
C. 生物化学
D. 生物心态学
7. 我们通常所说的水资源指（ ）。
A. 水圈内的水量总体
B. 所有陆地上的水
C. 陆地上的淡水资源
D. 河流水、湖泊水和浅表地下水
8. 为什么飞船的发射时间基本上都选择在凌晨或子夜？（ ）。
A. 白天太阳光照射，容易使火箭升温
B. 在漆黑的夜空中，地面的光学跟踪测量设备容易捕捉跟踪目标
C. 白天电磁波干扰强烈
D. 夜晚天气变化小，有利于火箭发射
9. 当太阳光移动时，蜥蜴的部分肋骨就延长，使身体扁平并与太阳成直角，这种特性是由什么决定的？（ ）。
A. 向光性
B. 应激性
C. 遗传性
D. 适应性
10. 当我们望向大海，很多时候发现海水呈现蓝、绿色。可是，当你把海水捞起时，你却只能看到它像往日的水般，透明无色。海水看上去呈蓝、绿色的原因是（ ）。
A. 海上的天空特别蓝，天空的蓝色映照在海面上，海水看上去就成蓝绿色了
B. 海水对不同波长的光的吸收、反射和散射程度不同，海水对绿光、蓝光吸收较弱，反射、散射较强，所以多呈蓝色或绿色
C. 海底有一种能发蓝光的矿物质，水越深，海水看上去越蓝，水浅一点看上去就成绿色
D. 海底有很多的绿色植物，这些植物颜色的光线通过海水折射到人的眼睛里就会呈现蓝色或者绿色

第二部分 言语理解与表达

本部分包括表达与理解两方面的内容。请根据题目要求，在四个选项中选出一个最恰当的答案。

请开始答题：

11. 下面有语病的句子是（ ）。
- A. 铁的纪律是军队坚强战斗力的表现 B. 汉语是世界上使用范围最全的语言文字
- C. 环球旅行可以使人增长不少见识 D. 维护社会稳定是国家政权的一项重要职责
12. 下面没有语病的句子是（ ）。
- A. 路是人走出来的，但是走过的地方都不一定成为了路
- B. 一条小船很难渡众生，必须是众人建造的大船才能同舟共济
- C. 相信科学的人们决不会让封建迷信影响了他的思想
- D. 大路向天边延伸很远很远，直到遥远的看不见的天际
13. 下面没有语病的句子是（ ）。
- A. 以轻松平等取代毕恭毕敬，在自然真诚中显现彼此友好，这不能不说是“朋友”一词的魅力所在
- B. 从某种意义上说，教师是一根拐杖，我们的目的是让学生脱离老师，自己独立走路，以达到叶圣陶先生所要求的——“教是为了不教”
- C. 生活在这个伟大的时代，如何书写好中华民族几千年历史上最悦耳动听，最灿烂辉煌的跨世纪乐章，是我们年轻人肩负的历史使命
- D. 参加第 21 届冬季奥运会的中国代表团的擎旗手是男子单人速滑选手张明，曾参加 1994 年的利勒哈默尔冬奥会，这是第二次入中国冬奥会阵容
14. 下面有语病的句子是（ ）。
- A. 国务院决定在农村进行的税费改革，是为了切实减轻农民的负担
- B. 美国总统 10 月 16 日在白宫正式签署了国会上周通过的授权总统对伊拉克使用武力的决议
- C. 能否抓住机遇，加快发展，是关系一个政党、一个国家、一个民族兴衰成败的重大问题
- D. 《通知》严禁上级部门不得违反有关规定干预下级机关的机构设置和人员编制配置，强调机构改革涉及的人员要正确对待进退留转，服从组织分配
15. 下面四句话中表达有歧义的一句是（ ）。
- A. 暮色由淡到浓，不久天就黑了下來
- B. 妈妈来电话说，她本月 15 日前来北京
- C. 桂林山水甲天下
- D. 他只顾埋头工作，丝毫没有感觉到身边有人
16. 以下四句子中，没有歧义的一项是（ ）。
- A. 告诉他，我们要阅读材料，请他通知工作人员
- B. 告诉他，我们要阅读材料，请他做好准备
- C. 告诉他，我们要阅读材料，请他安静
- D. 告诉他，我们要阅读材料，请他立即过来
17. 下列句子中语义明确，没有语病的一项是（ ）。
- A. 从 12 月 19 日起，我省北部、西部以及中南大部分地区受高空暖湿气流和冷空气的交汇影响，形成今冬第一次较强的降水过程
- B. 中小学教师的工作平凡而细致，但却是我们的社会中不可缺少的中坚力量之一

C. 这个地区发挥资源优势，依靠科技，增加智力投资，改变了落后局面，贫困面减少了三倍以上

D. 在漫长的发展过程中，我国园林建筑与诗文、绘画等艺术紧密结合，形成了富有诗情画意的、在世界上独树一帜的艺术风格

18. 依次填入后面的句子，与前文衔接最恰当的是（ ）。

忽然记起 10 多年前家门外也曾有过一大株紫藤萝，_____。

- (1) 后来索性连那稀零的花串也没有了
- (2) 但花朵从来都稀落
- (3) 它依傍一株枯槐爬得很高
- (4) 好像在察言观色，试探什么
- (5) 东一穗，西一串，伶仃地挂在树梢

- A. (3) (1) (4) (1) (5)
- B. (2) (3) (1) (5) (4)
- C. (3) (2) (5) (4) (1)
- D. (2) (3) (1) (4) (5)

19. 下列句子中关联词使用恰当的一项是（ ）。

- A. 这篇文章虽然内容很精彩，但是语言朴实无华，平易近人
- B. 文化艺术事业固然要用钱，然而一出戏的服装就花掉几万元，也实在不值得
- C. 如果我们前一段时间克服了学习上的困难，那么今后的困难也同样能够克服
- D. 该公司负责人曾表示，业务扩大的原因，主要是由于投资公司的周转资金充足

20. 下列各句中，划线成语使用恰当的是（ ）。

- A. 来西湖旅游的人们，面对湖光山色，无不大自然的（巧夺天工）的造化所折服
- B. 他本来就喜欢（舞文弄墨），再加上这几年的实践锻炼，如今已成了单位里有名的“笔杆子”
- C. 春风一吹，景区里的梨花竞相开放，朵朵洁白的梨花如（阳春白雪），使得许多游人驻足观看
- D. 春运人流尚未散去，在一些大城市火车站一带，一种（屡试不爽）的诈骗手段死灰复燃，愈演愈烈

21. 岫岩，地处辽东半岛，这里山清水秀，是全国最大的宝玉石生产地。

最能准确复述这句话意思的是（ ）。

- A. 岫岩在辽东半岛
- B. 岫岩是个山清水秀的好地方
- C. 岫岩不仅山清水秀，而且盛产宝玉石
- D. 岫岩是全国最大的宝玉石生产地

22. 公安部负责人日前提出：“明年开始全国各地将从四个方面实施新一轮的‘严打行动’。”

下列对这句话最准确的复述是（ ）。

- A. 全国各地新一轮“严打行动”明年启动
- B. 公安部负责人提出新一轮“严打行动”计划
- C. 公安部从四个方面对新一轮“严打行动”进行要求
- D. 公安部提出了新一轮“严打行动”包括四个方面的内容

23. “它不是让不诚实者为他们的不诚实而内疚自责，却是让诚实者为他们竟然不能放弃自己的诚实而自惭形秽。”

下列对这个句子理解正确的是（ ）。

- A. 诚实者与不诚实者都内疚
- B. 不诚实者内疚
- C. 诚实者内疚
- D. 诚实者与不诚实者都不内疚

24. 我此刻记起《希腊罗马伟人传》作者普鲁塔克的一句名言——最显赫的业绩不一定总能表示人们的美德或恶行，而往往一桩小事，一句话或一个笑谈……更能清楚地显示人物的性格的趋向。
- 下列最能准确复述这句话意思的是（ ）。
- A. 普鲁塔克的名言对我的影响很大 B. 有时大事还不如小事能体现人的性格
C. 只有小事能显现人物的性格和趋向 D. 显赫的业绩并不总能表现人的美德或恶行
25. 如果有能力的人不是受外界影响去追求“完美”的解决问题的方法，而是限制自己的探索，发现满意的答案即可，那他们就能节省大量的精力。
- 这段话表达了这样的一种观点（ ）。
- A. 有能力的人不应该追求完美
B. 人们应当限制自己的探索
C. 有时候，完美的解决问题的方法并不一定是最经济的
D. 人们不一定总要找到尽善尽美的解决问题的方法
26. 通过广告，企业可以在很大程度上对消费者的需求进行调节和刺激，尽管如此，企业在根据对消费者的需求和市场容量的预测而制定生产计划时，仍要承担很大的风险，产品能否得到消费者的最终认可还是一个未知因素。
- 这段话主要支持了这样一种观点（ ）。
- A. 一个企业可以通过广告来化解新产品销售方面的风险
B. 一个企业可以有效地对消费者的需求进行调节
C. 一个企业的成功最终取决于消费者对其产品的认可
D. 一个企业最好的直销方式是直接把产品提供给消费者
27. 在文字一直是主要媒介的时代，人们主要通过书籍交流思想和传播信息。在书籍的阅读中，我们得以进入用文字记载的悠久传统。相反，电视则以现时为中心，所传播的信息越具有当下性似乎就越有价值。文字是抽象的符号，作为一种媒介，它要求阅读的同时必须思考。而电视直接用图像影响观众，它有时甚至忌讳思考，因为思考会妨碍观看。
- 这段话主要说明的是（ ）。
- A. 信息传播媒介的变化会导致认识世界方式的变化
B. 书籍与电视传播信息的手段的异同
C. 通过电视传播信息会减少人们思考的时间
D. 悠久的传统、历史都必须通过书籍来传播而不是电视
28. 一时一事的得失，似乎永远困扰着我们，永远是生命的烦恼之泉。倘若能真正将其置之度外，烦恼就真正超脱了。其实，真正值得烦恼的命题在于：生命的价值究竟应以何种形式作何种转化，对于这个千古之谜，一千个人有一千种答案，却没有任何一本哪怕是世界上最权威的教科书能提出最完美的答案。
- 这段话主要说明的是（ ）。
- A. 多数人的烦恼来自于一时一事的得失
B. 千百年来没有人知道生命的价值究竟应以何种形式作何种转化
C. 教科书并不能给人们关于生命意义的答案
D. 人们真正应该思考的是怎样转化生命的价值而不是一时一事的得失
29. 在国际上，不乏政府主导建立社会团体的做法，政府主导建立社会团体的目的是扩大自己履行职能的范围和空间。有人称这类非政府组织为政府的非政府组织，这些组织在客观上常常成为执行政府某种职能的“准部门”。

这段文字直接支持了这样一种观点（ ）。

- A. 国际上的非政府组织常常执行政府某种职能
- B. 国际上的非政府组织都是政府主导建立
- C. 很多政府主导建立的社会团体往往能执行政府职能
- D. 政府主导建立社会团体的目的是利用这些社团

30. 降低心理压力的方法是多种多样，正确认识事物，获得积极的情感体验是一个重要的方法。心理学上有一种认识——评估学说，即个体对事物有了认识就会利用头脑中的旧经验来解释新输入的信息，进行评估，于是产生情绪体验。而个体对事物研究体验为积极的情绪还是消极的情绪，在于怎样认识事物。

从这段话中可以得到的观点是（ ）。

- A. 个体看待事物的观点会影响人的情绪体验
- B. 评估学能让人获得积极的情绪体验
- C. 个体对事物的认识会受到原来经验的影响
- D. 正确认识事物获得积极的情感体验，能有效地降低心理压力

31. 科普文化与人文文化、科学文化的相似之处在于具有共同的价值取向——都追求真理普遍性。它们的不同之处在于：人文文化侧重于对人类精神家园的营造，科学文化侧重于对大自然奥秘的探索和物质世界的营建，而科普文化则致力于传播人文文化与科学文化，使人文精神与科学精神交互融合，协调和平衡发展。

这段话主要用于证明（ ）。

- A. 科普文化与人文文化、科学文化既有相似之处也有明显的区别
- B. 科普文化的价值取向是追求真理普遍性
- C. 人文文化与科学文化的不同之处
- D. 科普文化可以使人文与科学协调发展

32. 读书同看电影看录像听音乐会是不一样的：后者是一块巨大的生日蛋糕，可以美味地共享；前者只是孤灯下的一盏清茶，只可独啜，倾听一个遥远的灵魂对你一个人的窃窃私语，你啪地合上书，就把一代先哲幽禁在里面。但你忍不住又要打开它，穿越历史的灰尘与他对话。这段话要表达的意思是（ ）。

- A. 阅读是孤独的
- B. 阅读是快乐的
- C. 阅读是多彩的
- D. 阅读是平淡的

33. 就今日中国现实而言，启蒙无疑是一个迫切的任务；就中国历史而言，它是一个没有完成就被打断的历史任务。五四新文化运动的启蒙精神虽然长期被湮没和遗忘，但这并不证明中国不需要启蒙。现代的种种挫折都在提醒着我们：在现代化进程中，启蒙的任务是不可逾越的。因为人的解放这一目标没有什么东西可以将其超越，只要这一目标还没有实现，历史就必须进行补课。

这段话主要回答的问题是（ ）。

- A. 启蒙在中国历史上的地位
- B. 启蒙与现代化的关系
- C. 启蒙所承载的任务
- D. 当今中国是否需要启蒙

34. 在我国，疫苗的研究、试验、审批和生产环节由药监系统监督，而接种和运输环节主要由卫生系统监督，疫苗的监督需要药监部门和卫生部门共同完成，而如何协调好两个部门监管的职责范围，避免出现监管上的盲区，对今后市场流通的疫苗管理显得十分重要。

这段话要表达的意思是（ ）。

- A. 国家开放疫苗市场后，疫苗的监管跟不上

- B. 药监系统和卫生系统在疫苗监督方面的工作协调有待加强
- C. 药监系统和卫生系统的沟通协调不够造成了市场的监管盲区
- D. 疫苗监管存在盲区，治理还需一段时间

淡，是一种至美的境界。

一个年轻的女孩子，从你眼前走过，虽是惊鸿一瞥，但她那淡淡的妆，更接近于本色和自然，好像春天早晨一股清新的风，给人留下一种纯净的感觉。

如果浓妆艳抹的话，除了这个女孩表面的光辉之外，就不会产生更多有韵味的遐想了。其实，“浓妆”加上“艳抹”，这四个字本身，已经多少带有一丝贬义。

淡比之浓，或许由于更接近天然，似春雨，润物无声，更容易被人接受。

苏东坡写西湖，曾经有一句“淡妆浓抹总相宜”，但他这首诗所赞美的“水光潋滟晴方好，山色空蒙雨亦奇”，是更自然的西湖。虽然苏东坡时代的西湖，并不是现在这种样子的，但真正欣赏西湖的游客，对那些大红大绿的，人工雕琢的，市廛云集的，车水马龙的浓丽景色，未必多么感兴趣。识得西湖的人，都知道只有在那早春时节，在那细雨、碧水、微风、柳枝、桨声、船影、淡雾，山岚之中的西湖。才像一幅淡淡的水墨画。展现在眼前的西湖，才是最美的西湖。水墨画，就是深得淡之美的一种艺术。在中国画中，浓得化不开的工笔重彩，毫无疑问是美。但在一张玉版宣上，寥寥数笔便经营出一种意境，当然也是美。（前者），所有景物统统呈现在你眼前，一览无余。后者，是一种省略的艺术，墨色有时淡得接近于无。可表面虽是无，并不等于观众眼中的无，作者心中的无，那大片大片的白，其实是给人留下想象的空间。“空山不见人，但闻人语响。”没画出来的，要比画出来的，更耐思索。

西方的油画，多浓重，每一种色彩，都唯恐不突出地表现自己，而中国的水墨画则以淡见长，能省一笔决不赘语，所谓“惜墨如金”者也。

一般说，浓到好处，不易；不过，淡而韵味犹存，似乎更难。

咖啡是浓的，从色泽到给中枢神经的兴奋作用，以强烈为主调。有一种土耳其式的咖啡，煮在杯里，酩黑如漆，饮在口中，苦香无比，杯小如豆，只一口，能使饮者彻夜不眠，不觉东方之既白。茶则是淡的了，尤其新摘的龙井，就更淡了。一杯在手，嫩蕊舒展，上下浮沉、水色微碧，近乎透明，那种感官的愉悦，心胸的熨帖，腋下似有风生的惬意，也非笔墨所能形容。所以，咖啡和茶，是无法加以比较的。

但是，若我而言，宁可倾向于淡。强劲持久的兴奋，总是会产生负面效应。

（人生，其实也是这个道理。）浓是一种生存方式，淡，也是一种生存方式。两者，因人而异，是不能简单地以是或非来判断的。我呢，觉得淡一点，于身心似乎更有裨益。

因此，持浓烈人生哲学者，自然是积极主义了；但执恬淡生活观者，也不能说是消极主义。奋斗者可敬，进取者可钦，所向披靡者可佩，热烈拥抱生活者可亲；但是，从容而不急趋，自如而不窘迫，审慎而不狃躁，恬淡而不平庸，也未始不是又一种的积极。

尤其落到头上，一旦要给自己画一张什么图画时，倒是宁可淡一点的好。

物质的欲望，固然是人的本能，占有和谋取，追求和获得，大概是与生俱来的。清教徒当然也无必要，但欲望膨胀到无限大，或争名于朝，争利于市，或欲壑难填，无有穷期；或不甘寂寞，生怕冷落，或欺世盗名，招摇过市，得则大欣喜，大快活；不得则大懊丧，大失落。神经像淬火一般地经受极热与极冷的考验，难免要濒临崩溃边缘，疲于奔命的劳累争头，保不准最后落一个身心俱惫的结果，活得也实在是轻松啊！其实，看得淡一点，可为而为之，不可为而不强为之的话，那么，得和失，成和败，就能够淡然处之，而免掉许多不必要的烦恼。

淡之美，某种程度近乎古人所说的禅，而那些禅偈中所展示的智慧，实际上是在追求这种淡之美的境界。

禅，说到底，其实，就是一个淡字。

人生在世，求淡之美，得禅趣，不亦乐乎。

35. “淡，是一种至美的境界”，对这种境界理解最恰当的一项是（ ）。
- A. 接近天然，富有韵味，耐人寻味 B. 淡薄名利，对得失成败能淡然处之
C. 无为而治，随遇而安 D. 无欲无求，知足常乐
36. 苏东坡写西湖，曾经有一句“淡妆浓抹总相宜”，下列各项中符合本文作者对该句诗的看法的是（ ）。
- A. 贬低，因为“浓妆”加上“艳抹”这四个字本身，就已经多少带有一些贬义
B. 认同，因为苏轼笔下“浓抹”的西湖是“水光潋滟晴方好”的自然景色，而不是上文所说的人的行为
C. 不解，因为“浓妆”和“艳抹”不可能共存
D. 淡然，因为每个人对美的理解有不同的看法
37. 文中划线处的“前者”指的是（ ）。
- A. 中国画 B. 西洋画
C. 浓得化不开的工笔重彩画 D. 寥寥数笔勾勒出的水墨画
38. 对文中划线处的“人生，其实也是这个道理”，理解最恰当的一项是（ ）。
- A. 淡与浓不能简单以是非来判断，但淡于身心更有裨益，强劲持久的浓，可能会产生负面效应
B. 淡与浓就如同咖啡与茶，无法加以比较的
C. 浓到好处，不易，淡到韵味犹存，更难
D. “得”不要大欣喜，大快活，“不得”不要大懊丧，大失落
39. 下列各项中符合文意的一项是（ ）。
- A. 作者认为，作画最重要的就是留白，空白的地方越多，就代表境界越高
B. 作者承认，物质的欲望，是人的本能，占有和谋取，追求和获得，是与生俱来的，因而积极主义者自然会持浓烈的人生哲学
C. 中国水墨画与西方油画的对比，突出“淡”，是要追求清新纯净
D. “一旦要给自己画一张什么图画”，指的是勾画自我人生追求的蓝图

第三部分 数量关系

在这部分试题中，每道题呈现一段表述数字关系的文字，要求你迅速、准确地计算出答案。

请开始答题：

40. 3, 6, 11, (), 27
A. 15
B. 18
C. 19
D. 24
41. 118, 199, 226, (), 238
A. 228
B. 230
C. 232
D. 235
42. $\frac{2}{3}$, $\frac{1}{2}$, $\frac{5}{9}$, (), $\frac{11}{15}$
A. $-\frac{2}{5}$
B. $\frac{6}{11}$
C. $\frac{3}{4}$
D. $\frac{7}{12}$
43. 2, 3, 10, 23, ()
A. 35
B. 42
C. 68
D. 79
44. 8, 16, 22, 24, ()
A. 18
B. 22
C. 26
D. 28
45. 7^{2007} 的个位数加上 3^{2007} 的个位数的和是 ()。
A. 5
B. 8
C. 10
D. 13
46. \square 、 Δ 、 \circ 分别代表三个数字，如果 $\square \div \Delta = \circ$ ，则下列哪一个结论不正确？ ()
A. $\square = \Delta \times \circ$
B. $\Delta = \square \times \circ$
C. $\Delta = \square \div \circ$
D. $\square = \circ \times \Delta$
47. 一个最简分数，分子和分母的和是 50，如果分子、分母都减去 5，得到的最简分数是 $\frac{2}{3}$ ，这个分数原来是多少？ ()
A. $\frac{20}{29}$
B. $\frac{21}{29}$
C. $\frac{29}{30}$
D. $\frac{29}{50}$
48. 甲乙两人共有 100 个玻璃球，若把甲的玻璃球的四分之一给乙，乙将比甲多九分之七，则甲原来有多少个玻璃球？ ()
A. 40
B. 48
C. 56
D. 60
49. 用 0、1、2、3、...、9 十个数字组成 5 个两位数，每个数字只用一次，要求它们的和是一个奇数，并且尽可能大，问这五个两位数的和是多少？ ()
A. 279
B. 301
C. 351
D. 357
50. 某人以 96 元的价格出售了两枚古铜币，一枚挣了 20%，一枚亏了 20%。问：此人盈利或亏损的情况如何？ ()
A. 挣了 8 元
B. 亏了 8 元
C. 持平
D. 亏了 40 元

第四部分 判断推理

一、事件排序：每道题给出五个事件，每个事件是以最简短语句表述的，接着给出表示事件的四种假定发生顺序的四个数字序列，请你选择其中最合乎逻辑的一种事件顺序。

请开始答题：

55. ①糖化
②滤清
③包装
④发酵
⑤出售
A. ①②④③⑤
B. ①④②③⑤
C. ④①⑤②③
D. ⑤④①③②
56. ①正文
②内容提要
③文章标题
④关键词
⑤新闻链接
A. ④②①③⑤
B. ③④①②⑤
C. ①②⑤③④
D. ③②④①⑤
57. ①用3千元人民币买一台彩电
②用牡丹卡购物
③用十只老母鸡换一只羊
④在计算机网络上买东西
⑤称四两碎银子买一匹马
A. ②③④⑤①
B. ③⑤①②④
C. ④③①②⑤
D. ⑤①④③②
58. ①白色轿车紧急刹车
②红色轿车从东往西通过十字路口
③红色轿车的保险杠被撞坏
④白色轿车的左前挡泥板被撞坏
⑤十字路口发生了车祸
A. ②①⑤③④
B. ②⑤④①③
C. ⑤②③④①
D. ③④②①⑤
59. ①辽沈战役
②火烧圆明园
③围魏救赵
④袭击珍珠港
⑤赤壁之战
A. ⑤③②①④
B. ③⑤②①④
C. ③⑤②④①
D. ③②①⑤④

二、类比推理。每道题先给出一组相关的词，要求你在备选答案中找出一组与之在逻辑关系上最为贴近，相似或匹配的词。

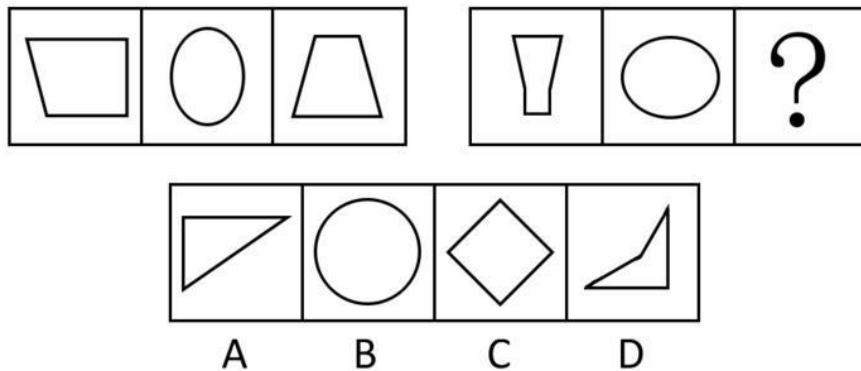
请开始答题：

60. 晋：粤
 A. 豫：闽
 B. 冀：滨
 C. 黔：川
 D. 湘：桂
61. 桀犬吠尧：《史记》
 A. 乐此不疲：《汉书》
 B. 乐不思蜀：《三国演义》
 C. 讷言敏行：《论语》
 D. 阳春白雪：《离骚》
62. 跳跃：动作
 A. 幸福：团聚
 B. 大楼：小屋
 C. 蜡笔：图画
 D. 郁闷：心情
63. 香：苦
 A. 烫：凉
 B. 大：白
 C. 老：少
 D. 辣：小
64. 页：册
 A. 章：节
 B. 日：年
 C. 句：音
 D. 画：图

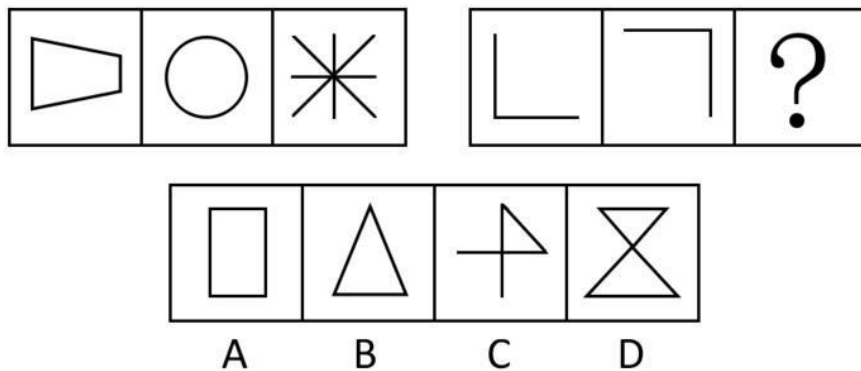
三、图形推理。请按每道题的答题要求作答。

请开始答题：


65. 从所给的四个选项中，选择最合适的一个填入问号处，使之呈现一定的规律性（ ）。



66. 从所给的四个选项中，选择最合适的一个填入问号处，使之呈现一定的规律性（ ）。

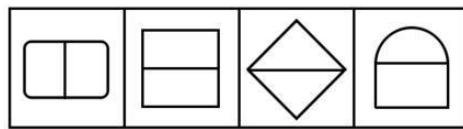
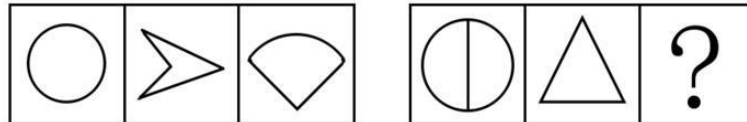


67. 从所给的四个选项中，选择最合适的一个填入问号处，使之呈现一定的规律性（ ）。



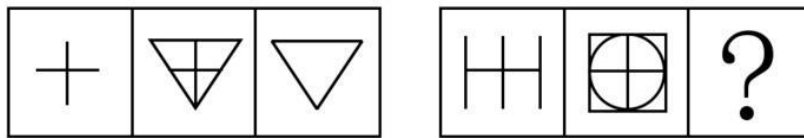
A B C D

68. 从所给的四个选项中，选择最合适的一个填入问号处，使之呈现一定的规律性 ()。



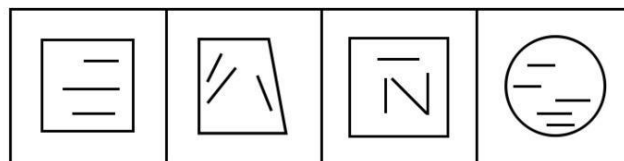
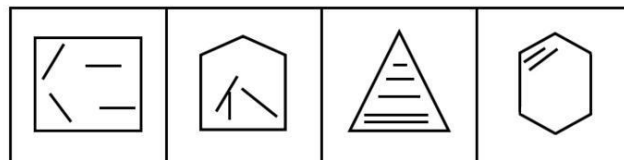
A B C D

69. 从所给的四个选项中，选择最合适的一个填入问号处，使之呈现一定的规律性 ()。



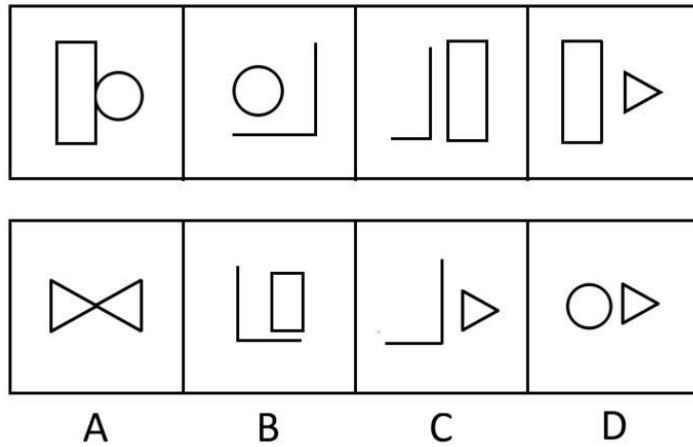
A B C D

70. 从 A、B、C、D 四个图形中选出最合适的一个，使得它保持第一行四个图形所呈现的规律性 ()。




A B C D

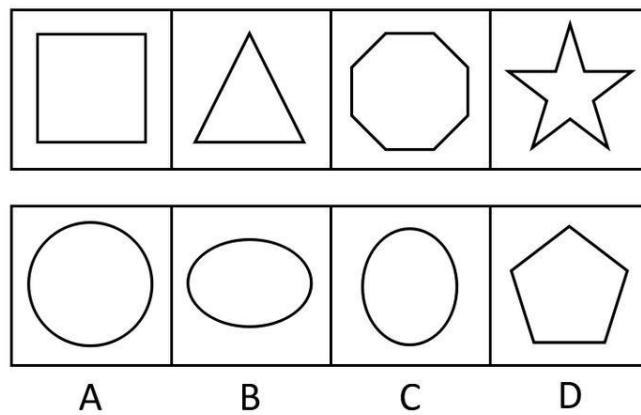
71. 从 A、B、C、D 四个图形中选出最合适的一个，使得它保持第一行四个图形所呈现的规律性 ()。



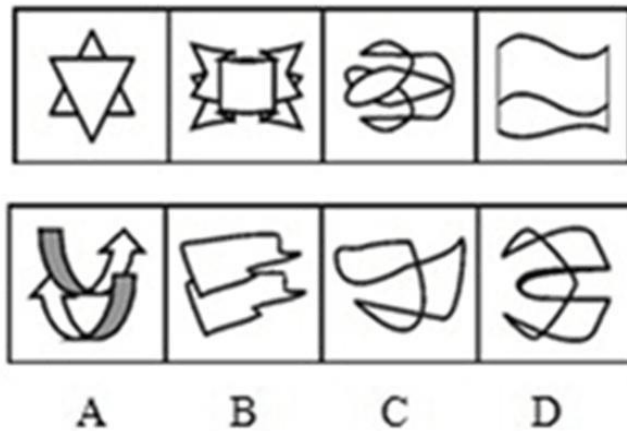
72. 从 A、B、C、D 四个图形中选出最合适的一个，使得它保持第一行四个图形所呈现的规律性 ()。



73. 从 A、B、C、D 四个图形中选出最合适的一个，使得它保持第一行四个图形所呈现的规律性 ()。



74. 从 A、B、C、D 四个图形中选出最合适的一个，使得它保持第一行四个图形所呈现的规律性 ()。



四、逻辑判断。每道题给出一段陈述，这段陈述被假设是正确的，不容置疑的。要求你根据这段陈述，选择一个答案。注意：正确的答案应与所给的陈述相符合，不需要任何附加说明即可以从陈述中直接推出。

请开始答题：

75. 壳牌石油公司连续三年在全球 500 家大公司净利润总额中位列第一，其主要原因是该公司有很多的国际业务。
- 下列哪项如果为真，则最能支持上述说法（ ）。
- A. 与壳牌公司规模相当但国际业务少的石油公司的利润都比壳牌公司低
 B. 历史上全球 500 家大公司净利润冠军都是石油公司
 C. 近三年来全球最大的 500 家大公司都在努力走向国际化
 D. 近三年来石油和成品油的价格都很稳定
76. 所有向日葵都是向阳的，这棵植物是向阴的，所以这棵植物不是向日葵。
- 上述推理的形式结构与以下哪项最为类似？（ ）
- A. 所有职业短跑运动员都穿钉鞋，小李不是职业短跑运动员，所以小李不穿钉鞋
 B. 所有纳税人都有存款，这位姑娘有存款，所以这位姑娘是纳税人
 C. 所有法警都在法院工作，小王在法院工作，所以小王是法警
 D. 所有铅笔的外壳都是木头做的，这支笔是铝做的，所以这支笔不是铅笔
77. 提出一个问题往往比解决问题更重要，因为解决问题也许是一个数学上或试验上的技能而已。而提出新问题，则需要有创造性和想象力，而且标志着科学的真正进步。
- 据此可知（ ）。
- A. 提出问题比解决问题更难
 B. 善于提出问题的人更善于解决问题
 C. 只有提出问题才标志科学的进步
 D. 缺乏创造性和想象力的人不善于提出问题
78. 从现象上看，幽默是对事物一般逻辑的某种扭曲，但必须是一种有意识的理性的倒映，它离不开人的正常思维和健康心理，所以幽默是人类健康心理的一种反映。
- 根据上面陈述，可以推出下列哪一结论？（ ）
- A. 幽默的本质即是把毫不相干的事物联系起来，使之产生逻辑混乱而产生喜剧效果
 B. 幽默所包含的逻辑性往往与正常逻辑有着不同之处
 C. 幽默需要丰富的想象力
 D. 人的正常思维和健康心理构成了幽默的充分条件

79. 中国目前进行的改革意味着社会结构的重组与创新。经济的市场化与政治民主化是现代社会前进的两个车轮。但民主政治的发展不仅仅依托于民主体制的构建，还要立足于民主体制在文化上的认同。无此，民主政治既缺乏根源，又会出现操作失效的情况。因此（ ）。
- A. 建设民主政治，首先要构建民主体制
 - B. 建设民主政治的前提条件是具有民主政治文化
 - C. 只要经济发展了，就可发展民主政治
 - D. 民主政治在任何情况下实施都有利于社会进步
80. 一份对北方某县先天性心脏病患者的调查统计显示，大部分患者都出生在冬季。专家们指出，其原因很可能是那些临产的孕妇营养不良。因为在这一年最寒冷的季节中，人们很难买到新鲜食品。
- 以下哪项，如果为真，能支持题干中的专家的结论？（ ）
- A. 调查中相当比例的患者有家族遗传病史
 - B. 在心脏病患者中，先天性患者只占很小的比例
 - C. 与引起心脏病有关的心血管区域的发育，大部分发生在产前一个月
 - D. 新鲜食品与腌制食品中的营养成分对心血管发育的影响相同
81. 人权是人按其本质享有或应该享有的基本权利和自由。从表面上看，人权具有表面性和超越国界性，表现为整个人类的权利，但这只是一种理想。就人权的现实性来讲，它总是受一定条件的制约，它和其他任何权利一样“永远不能超出社会的经济结构以及由经济结构所制约的社会文化的发展”。
- 因此（ ）。
- A. 人权的现实性就是它的条件性
 - B. 不能粗暴干涉其他国家的人权问题
 - C. 社会的经济结构决定了它的文化结构
 - D. 人人都应该享受自由
82. 某公司为度过暂时的经济危机决定减少业务员的数量。公司董事会计划首先解雇效率较低的业务员，而不是简单按照业务员业务量多少决定解雇哪些业务员。
- 以下哪项是公司董事会做出这个决定的前提？（ ）
- A. 业务员的报酬是根据业务量的多少决定的
 - B. 最具有业务经验的业务员是最好的业务员
 - C. 一个业务员的效率不会与另一个业务员的相同
 - D. 董事会有能比较准确地判定业务员效率的方法
83. 新疆的葡萄庄园的产量逐年上升，葡萄的供过于求导致价格的下降。如果不对葡萄庄园种植葡萄加以限制，那么葡萄的价格还将进一步下跌。政府为了提高葡萄价格，让葡萄田闲置，并给这些农民提供直接的补偿金。每个庄园的补偿金都有一个明确的最高限额。政府的该计划如果成功实施，不会给财政带来净负担。
- 以下哪项，如果正确，是解释其原因的最佳依据？（ ）
- A. 葡萄价格如果提高，政府可以依靠向庄园的利润征税而取得收入
 - B. 5年前政府曾使用过同样的计划，当时取得了很好的效果
 - C. 政府规定获得补偿金的农民不能利用退出生产的葡萄田种植其他作物
 - D. 那些闲置葡萄田的补偿金相对于种植葡萄产生的收益来说只占很小一部分
84. 2005年上海市邀请英国的曼联俱乐部来沪进行友谊赛。仅仅一天时间，主办方的票房总收入就达到了八百万元。这一次上海市又邀请了西班牙的皇马俱乐部进行友谊赛，加上在赛场内的各项与球迷的互动活动，主办方准备在2天内取得一千万元的票房收入。

以上推断最可能隐含了以下哪项假设？（ ）

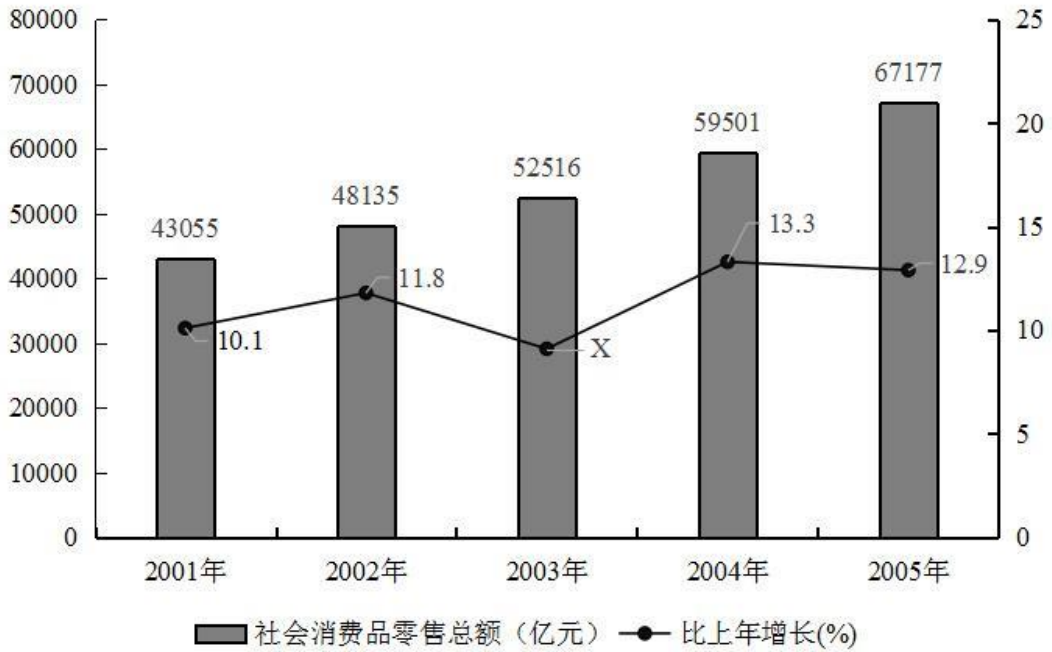
- A. 这次活动进行两天比上次多出一倍的时间，可以吸引更多的球迷
- B. 上海市很多人错过了曼联的比赛，这一次可以得到补偿
- C. 球迷对这两个俱乐部的喜爱程度、预计的上座率、票价等非常类似
- D. 这一次主办方推出了互动活动，有更多的球迷可以参与

85. 以下是一个西方经济学家陈述的观点：一个国家如果能有效率地运作经济，就一定能创造财富而变得富有；而这样的一个国家想保持政治稳定，它所创造的财富必须得到公正的分配；而财富的公正分配将结束经济风险；但是，风险的存在正是经济有效率运作的不可或缺的先决条件。

从这个经济学家的上述观点，可以得出以下哪项结论？（ ）

- A. 一个国家政治上的稳定和经济上的富有不可能并存
- B. 一个国家政治上的稳定和经济上的有效率不可能并存
- C. 一个富有国家的经济运作一定是有效率的
- D. 在一个经济运作无效率的国家中，财富一定得到了公正的分配

“十五”时期社会消费品零售总额与增长速度



96. 图中打“X”的数值是 ()。
- A. 10.5
B. 10.1
C. 9.1
D. 8.1
97. 社会消费品零售总额增长最快的一年与增长最慢的一年的零售总额差额是 ()。
- A. 24122 亿元
B. 7676 亿元
C. 6985 亿元
D. 4381 亿元
98. 2005 年社会消费品零售总额约是 2000 年的多少倍? ()
- A. 1.2
B. 1.4
C. 1.5
D. 1.7
99. 2005 年社会消费品零售总额占“十五”时期整个社会消费品零售总额的比例约为 ()。
- A. 13.7%
B. 24.5%
C. 35.5%
D. 47.2%
100. 若按照该时期社会消费品零售总额的年平均增长率来计算 (保留一位小数), 2006 年社会消费品零售总额为 ()。
- A. 64835 亿元
B. 74835 亿元
C. 87256 亿元
D. 98392 亿元