

第一部分 常识判断

根据题目要求，在四个选项中选出一个最恰当的答案。

请开始答题：

- 许多人都听说过绿色食品，这种食品必须（ ）。
A. 无污染、安全、优质、营养
B. 绿色、无污染、优质、营养
C. 绿色、安全、优质、营养
D. 方便、无污染、安全、优质
- 远程电力传输一般采用 50—100 万伏的高电压，其主要原因是（ ）。
A. 确保远程电力传输的安全
B. 减少传输线路上的电能损失
C. 节约传输线路上的设备和材料
D. 减少雷电对传输线路的破坏
- 地球表面的绿色植物通过光合作用，将太阳的辐射能量转化成能被其他生物利用的有机化合物。下面说法错误的是（ ）。
A. 光合作用吸收的主要是太阳光中的绿光
B. 植物的绿色是反射了太阳光中的绿光
C. 不同植物的光合作用效率是不一样的
D. 植物在不同时间的光合作用效率不一样
- 黄河下游近年来的断流期不断增加，许多人认为在不远的将来她会变成内陆河，造成这种现象的最不可能的原因是（ ）。
A. 黄河下游为防洪，堤坝修得过多
B. 黄河上游水资源开发过量，浪费严重
C. 黄河所含泥沙在下游沉积起来，水流速度减慢
D. 黄河上游生态环境遭到破坏，水土流失严重
- 香烟点燃后，冒出的烟雾看上去是蓝色的，这是因为（ ）。
A. 烟雾的颗粒本身是蓝色的
B. 烟雾将光线中其他色光滤掉，只有蓝色光透射出来
C. 烟雾的颗粒对蓝色光散射强烈
D. 烟雾的颗粒吸收光线后，发出蓝色荧光
- 粗放型经济增长主要依靠（ ）。
A. 增加资金和资源的投入量
B. 科技进步和提高劳动者素质
C. 提高生产要素的质量和使用效率
D. 结构优化，合理布局生产力
- 飞机上的黑匣子，学名叫飞行记录器，实际上是一台微型录音器，记录飞机出事前所有飞行情况。为了便于寻找，外壳都是黄色或橙色的，但人们都把它称为黑匣子，这主要是因为（ ）。
A. 黑色象征灾难和秘密
B. 无特殊意义，只是人们的一种习惯叫法
C. 在飞机失事后，当人们找到它时，给人一种庄重、深沉感
D. 在正式场合中，黑色是应用得最多的一种颜色
- 在下列系统中，哪一个系统中的昆虫最有可能进化出警戒色？（ ）。
A. 绿地、可食性昆虫
B. 枯叶、不可食性昆虫
C. 绿地、不可食性昆虫
D. 枯叶、可食性昆虫
- 飞机与火箭飞行原理的区别是（ ）。
A. 飞机有机翼，火箭没有机翼
B. 飞机只能在大气层中飞行，火箭可以在大气层以外飞行
C. 飞机使用航空汽油做燃料，火箭用液态氢和液态氧做燃料

D. 飞机靠机翼上下气流的压差产生的升力飞行，火箭靠向后喷射高温高压气体产生的反作用力飞行

10. 交通控制表示停止的灯是红灯，公共场所的安全门上是红灯，自行车、汽车的尾灯也是红灯。

这些地方使用红灯的主要原因是（ ）。

A. 红光鲜艳，易识别

B. 红光波长长，穿透能力强，远处可以看到

C. 红光波长短，穿透能力强，远处可以看到

D. 从心理上分析，红光使人易警觉、兴奋

- D. 甲方按八折优惠价售给乙方 1000 吨钢材，乙方则须用这被优惠的二折来购买××公司的股票
20. 请选出有语病的一句（ ）。
- A. 长城横亘于我国北部和中原 16 个省区，是人类建筑史上罕见的宏伟工程
 B. 位于北京房山周口店的龙骨山上，是世界上古人类化石与遗迹的重要地点之一
 C. 敦煌莫高窟是世界上现存规模最大、保存最完好的佛教艺术宝库
 D. 泰山以磅礴的气势和瑰丽的景色著称于世，素有“五岳独尊”之美名
21. 下面的四句话中只有一句没有歧义，请将这句选出。（ ）
- A. 她的花棉袄罩着绿上衣
 B. 她借我 500 元
 C. 这里一间房可以住两个人
 D. 他在水中做实验
22. 选出没有语病的一句（ ）。
- A. 汽笛声不断，震撼着悠久的古刹钟声
 B. 中华民族有着悠久的历史
 C. 西安的碑林，竖立着许多古老、悠久的石碑
 D. 斑马生活在山岳、草原和稀疏的林区
23. 请找出没有语病的句子（ ）。
- A. 他的朴实无华得益于生活的教诲和从父辈吸取的精神
 B. 这六年的单身生活是她成长最快，对人生理解最深刻的一段岁月
 C. 童年的这段刻骨铭心的记忆是人世间最美好的真情
 D. 了解农民的疾苦，发出他们的美好品质，深深地留在她的灵魂深处
24. 下面各题的四句话中有一句既可以这样理解，也可以那样理解，请把这个有歧义的句子挑出来（ ）。
- A. 科长召集大家研究本年度的工作计划
 B. 学生的家长都同意成立家长委员会
 C. 雨水浸湿了仓库里存放的大米
 D. 小王的父亲最近出版了一本畅销书
25. 下面哪句话没有语病？（ ）
- A. 小张向小王询问这位新来的领导最喜欢什么，有什么爱好，不管他是吃的，穿的，玩的，用的，都行
 B. 这天，是镇江知府兼浙东安抚使的辛弃疾在家里设宴
 C. 近日读报，不断发现有关政治和文史知识方面的差错，令人啼笑皆非
 D. 高尔基不但是举世闻名的苏联作家，在家庭生活中他也是一位性格复杂的人
26. 广东的一家企业在北京登报，以年薪 50 万招聘厂长，承受力不强的北京人当时如同经历一次炸弹爆炸。几年过去，在报纸上登广告以年薪几十万招聘人才的事已经不那么令人惊奇了。在北京的猎头公司里，随便调出一份求职者名单，你便会发现 80% 以上的求职者自己开出的月薪要求都在几万元以上。但是另外一面，从传统国营企业被辞退的员工，即使是四五百元的月薪要求，也很难找到工作。
 这段话支持的主要观点是（ ）。
- A. 现在人们对月薪上万元的收入要求已经视若平常了
 B. 招聘人才的投入越来越大
 C. 人才的价值在今天越来越体现出来
 D. 人与人之间在从业和收入方面的差异更加明显
27. 发出“通知”整治不正之风很有必要。但关键是令出法随，“通知”算数。算数的通知，有一道就够了。现在之所以发了一道又一道，有事物不断发展，条文需要不断完善的因素，有体制不顺、机制不合理的因素，但最根本的是执行时不够“硬”。所以，落实“通知”必须严格，谁违反就坚决追究，毫不手软。“硬”得不够势必会有“三令五申”，而三令五申毕竟不是理想的办法。

对这段话的主要支持观点是（ ）。

- A. 不抓“通知”的落实等于没有通知 B. 要减少不必要的通知
C. 通知能否落实的关键是看通知内容是否合理 D. 通知不能很好落实的原因有很多

28. 据有关部门透露，于 10 月 15 日即将举办的今年秋季中国出口商品广州交易会将加强出口商标的使用管理，严禁出现假冒伪劣商品。主管部门制定了一系列措施，一经发现商标侵权行为及假冒伪劣商品，将严肃查处。

给这段话选个标题，能概括整段话的意思的是（ ）。

- A. 今秋广交会严禁假冒伪劣产品
B. 广交会主管部门制定措施打假
C. 今秋广交会将加强商标管理以防止假冒伪劣产品出现
D. 今秋广交会将不会出现假冒伪劣产品

29. 1995 年，美国的两位学者利用直径为 26 米的射电望远镜寻找由浩瀚宇宙深处发出的未知讯号。然而，至今还未发现具有已接收讯号特征的电波源，且在那些电波的方向上，也没有特异的星体存在。

“未发现具有已接收讯号特征的电波源”这句话的意思是（ ）。

- A. 不知道已经接收到的讯号有没有电波源 B. 已经接收到讯号但不能确定其电波源
C. 不能确定电波发出的源头已经接收到了讯号 D. 已接收到讯号但没有发现电波源的特征

30. 我们要在科学技术上赶超世界先进水平，不但要提高高等教育的质量，而且首先要提高中小学教育的质量，按照中小学生所能接受的程度，用先进的科学知识来充实中小学的教育内容。这段话支持了这样一个观点（ ）。

- A. 提高高等教育质量是在科学技术上赶超世界先进水平的条件
B. 全面提高教育质量是在科学技术上赶超世界先进水平的条件
C. 提高中小学的教育质量是在科学技术上赶超世界先进水平的条件
D. 学习先进科学知识是在科学技术上赶超世界先进水平的条件

31. 艰苦的生活一经变成了习惯，就会使愉快的感觉大为增加，而舒适的生活将会带来无限的烦恼。

这段话支持的主要观点是（ ）。

- A. 艰苦的生活使人更能体验愉快
B. 艰苦的生活更能给人以启发
C. 舒适的生活不会给人带来愉快
D. 艰苦的生活和舒适的生活都是对人的一种考验

32. 本世纪 30 年代，人们开始试用瑞士化学家缪勒发明的滴滴涕。正当人们庆幸自己找到置害虫于死地的高效农药时，害虫的天敌也近乎绝迹了。同时，由于滴滴涕的残毒可以长期累积，已经引起遗祸无穷的世界性公害。

上面一段话说明的道理是（ ）。

- A. 如果使用不当，高效农药的应用也会带来世界性公害
B. 滴滴涕已经被证明是一种对人类有害无益的农药
C. 滥施高效农药对害虫的天敌也会造成毁灭性灾难
D. 某些科学成果是把“双刃剑”，对其利用需持谨慎态度

33. 美丽的灵魂可以赋予一个并不美丽的身躯以美感，正如丑恶的灵魂会在一个非常漂亮的身躯上打下某种特殊的不由得使人厌恶的烙印一样。

这段话主要支持的观点是（ ）。

- A. 好看的身躯与丑恶的灵魂有时会同时存在于一个人身上
 B. 具有美丽灵魂的人并不一定具备好看的身躯
 C. 灵魂的美丽与否比身躯的美丽与否更重要
 D. 丑恶的灵魂即使附着在一个非常漂亮的躯体上也会令人厌恶
34. 体育是适应人类生产、军事和健康等需要而发展起来的一项活动。现代奥林匹克运动的兴起，使体育精神进一步国际化，但同时由于商业运作和利益驱使成份的增多，在某些方面，体育也开始背离初衷。不可否认，体育很难脱离社会背景而发展，但更为重要的是，体育是人类社会追求进步的一种象征，一旦违背了这一意愿，体育对人类的作用会减弱，最终将失去其存在和发展的必要。
 这段话支持的主要观点是（ ）。
- A. 体育是人类重要的社会活动，因而发展体育不能违背这一初衷
 B. 现代体育的发展有可能导致体育自身的消亡
 C. 体育的发展要为人类自身的进步做贡献
 D. 体育对人类的作用因现代体育的发展而减弱
35. 即使在知识渊博的学者中，也有一些虽然学习刻苦，读书甚众，但能力却不甚高，缺乏独立见解，没有创造才能的人。
 这段话支持的观点是（ ）。
- A. 没有创造才能的人有很多是知识渊博的学者
 B. 只有具备创造才能，渊博的知识才能得到体现
 C. 有创造才能的人，未必具备渊博的知识
 D. 有渊博知识的人，未必具备创造才能
36. 不论动机多么伟大，不论出于多么善良的心地，想要改变一个人，哪怕只是改变一个孩子，都是徒劳的，如果他并不能理解这种改变。
 这段话可以概括为（ ）。
- A. 人是很难改变的
 B. 没有善良的动机就不能使人改变
 C. 孩子和成人一样不容易改变
 D. 只有当人自己想改变时他才会改变
37. 据一份资料统计，日本每年约有 5000 名老人自杀，占自杀人数的 3 / 10，称得上世界“老人自杀大国”。而其中离婚男性的自杀率为有配偶者的 8 倍，离婚女性自杀率为有配偶者的 4 倍。
 这段话的直接支持的观点是（ ）。
- A. 日本老人生活并不十分幸福
 B. 自杀是日本老人常见的结局
 C. 鳏寡孤独是造成日本老人自杀的一个重要原因
 D. 在日本，老年离婚的现象较普遍
38. 徐渭（字文长）创画雪竹的方法，所画极为精绝。有人评论说：“徐文长先生画雪竹，纯以明代瘦笔破笔燥笔断笔为之，绝不类竹；然后以淡墨水勾染而出，枝间叶上，罔非积雪，竹之全体，在隐约间矣。”
 对徐渭画雪竹，下面的说法中与原文意思相符的是（ ）。
- A. 他画雪竹时，取材不限于一类竹子，因而能使人隐约感到全体竹子的形象
 B. 他画的雪竹，满身处处有雪，枝干叶若隐若现
 C. 他画的竹虚实结合，因而不像竹子
 D. 他能用不好的笔，画出极为精绝的艺术珍品

39. 一般说来，考试的可靠性与考试题目的数量成正比，恰好像投篮球，仅仅试投一两次，不能准确地反映出投篮人的水平，很容易受到偶然因素的影响。只有试投足够多的次数，才能做出准确的判断。但另一方面，题目数量越多，用于命题、制卷、评分的花费也越多。因此，考试题目数量的确定往往必须在花费尽可能少和考试的准确性尽可能高的要求之间取得妥协。这段话主要支持了这样一种观点，即试题数量的确定（ ）。
- A. 应使考试费用达到最少
 - B. 决定了考试是否能够考察出应考者的实际能力而不仅仅是他对特定知识内容的记忆量
 - C. 不会总能满足使考试成本最低的要求
 - D. 决定于考试时间的长短
40. 你我是朋友，各拿一个苹果彼此交换，交换后仍然是各有一个苹果；倘若你有一种思想，我也有一种思想，而朋友间交流思想，那么我们每个人就有两种思想。这段话支持的主要观点是（ ）。
- A. 进行思想交流对人很重要
 - B. 朋友间更需要交流思想
 - C. 朋友间的思想交流更有价值
 - D. 思想交流能使人获得提高

第三部分 数量关系

在这部分试题中，每道题呈现一段表述数字关系的文字，要求你迅速、准确地计算出答案。

请开始答题：

41. 172, 84, 40, 18, ()
A. 22
B. 16
C. 7
D. 5
42. 1.01, 1.02, 1.03, (), 1.08, 1.13
A. 1.04
B. 1.05
C. 1.06
D. 1.07
43. -3, -2, 1, 6, ()
A. 8
B. 11
C. 13
D. 15
44. $\frac{2}{3}$, $\frac{4}{5}$, $\frac{6}{7}$, (), $\frac{10}{11}$
A. $\frac{9}{11}$
B. $\frac{8}{9}$
C. $\frac{7}{9}$
D. $\frac{7}{10}$
45. $\frac{\sqrt{2}}{2}$, $\frac{1}{2}$, $\frac{\sqrt{2}}{4}$, $\frac{1}{4}$, $\frac{\sqrt{2}}{8}$, ()
A. $\frac{\sqrt{2}}{6}$
B. $\frac{1}{16}$
C. $\frac{1}{8}$
D. $\frac{\sqrt{2}}{16}$
46. 把一个边长为4厘米的正方形铁丝框拉成两个同样大小的圆形铁丝框，则每个圆铁丝框的面积为()。
A. 8π
B. $8/\pi$
C. 16π
D. $16/\pi$
47. 下列哪一个数介于 $\frac{1}{2}$ 与 $\frac{2}{3}$ 之间？()
A. $\frac{4}{7}$
B. $\frac{3}{4}$
C. $\frac{7}{9}$
D. $\frac{4}{5}$
48. 某企业的固定资产，甲车间是乙车间的 $\frac{1}{2}$ ，乙车间是丙车间的 $\frac{1}{4}$ ，那么丙车间是甲车间的()。
A. 8倍
B. $\frac{1}{8}$
C. $\frac{1}{2}$
D. 2倍
49. a、b、c三个数，a与b的和是18，b与c的和是26，则()。
A. $a-c=8$
B. $c-a=8$
C. $a=c$
D. $a>c$
50. 甲乙丙三人买书共花费96元钱，已知丙比甲多花16元，乙比甲多花8元，则甲乙丙三人花的钱的比是()。
A. 3: 5: 4
B. 4: 5: 6
C. 2: 3: 4
D. 3: 4: 5

第四部分 判断推理

一、事件排序：每道题给出五个事件，每个事件是以最简短语句表述的，接着给出表示事件的四种假定发生顺序的四个数字序列，请你选择其中最合乎逻辑的一种事件顺序。

请开始答题：

56. ①居民举家迁移
②火山停止活动
③火山喷发
④熔岩引燃了周围的树木
⑤火山灰土上长出了茂盛的植物
A. ②⑤③④①
B. ①③④⑤②
C. ③④①②⑤
D. ③④①⑤②
57. ①装瓶贴商标
②购入工业酒精
③三人死亡，八人失明
④批发给个体商贩
⑤追究法律责任
A. ②①④③⑤
B. ②①⑤④③
C. ②①④⑤③
D. ①②④③⑤
58. ①空房率居高不下
②小区房价看涨
③立交桥拔地而起
④居民小区建成
⑤行车被迫绕行
A. ①④⑤③②
B. ⑤③④②①
C. ④⑤①③②
D. ②④⑤③①
59. ①变单一种植为多种经营
②农户喜建新居
③大白菜卖不掉
④出口创汇
⑤改变投资方向
A. ③⑤①④②
B. ③①⑤④②
C. ⑤③①④②
D. ②③④⑤①
60. ①这个地区的粮食增产三成以上
②许多农民选用了新的稻种
③农业科学家得到了政府奖励
④在田里发现了几株特殊的稻谷
⑤实验田的稻种选育获得成功
A. ②①③④⑤
B. ④⑤③①②
C. ②①④⑤③
D. ④⑤②①③
61. ①植物进行光合作用

- ②阳光普照大地
- ③煤炭自地下被开采出来
- ④马达轰鸣，机器飞转
- ⑤火电厂发电并网

- A. ①⑤③②④
- B. ①②③④⑤
- C. ②①③⑤④
- D. ②③④⑤①

62. ①合理耕种科学管理
②粮食收成不高
③购买优良品种
④学习科学知识
⑤农民喜售爱国粮

- A. ⑤④②③①
- B. ②④③①⑤
- C. ①⑤②④③
- D. ③④②①⑤

63. ①绿化环境
②购买荒地
③住宅建成
④新区规划
⑤工厂迁址

- A. ②①④③⑤
- B. ④①③②⑤
- C. ②④①⑤③
- D. ④②⑤③①

64. ①影响原油开采
②断流时间增加
③入海口海水倒灌
④河水浪费严重
⑤油田被迫减产

- A. ③①⑤④②
- B. ②④③⑤①
- C. ⑤③①④②
- D. ④②③①⑤

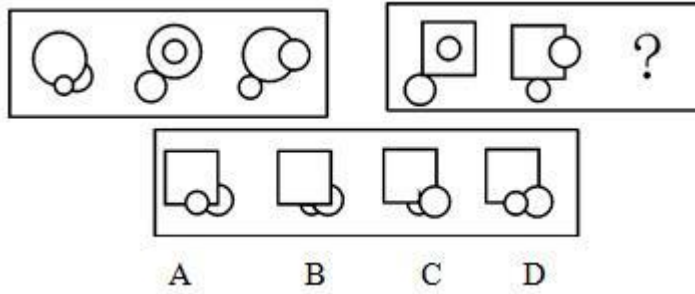
65. ①牛皮鞋穿在脚上
②制造皮鞋
③鞣制皮革
④屠宰公牛
⑤小牛出生

- A. ②④①③⑤
- B. ⑤④③②①
- C. ⑤④①③②
- D. ④⑤③①②

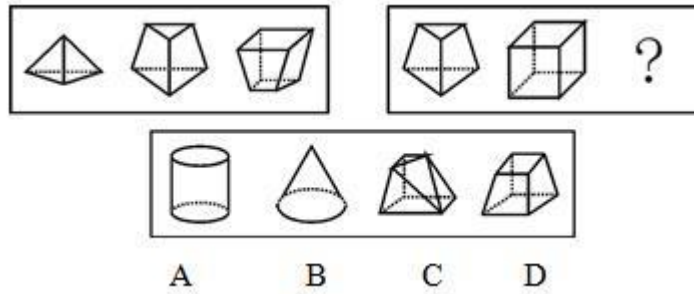
二、图形推理。请按每道题的答题要求作答。

请开始答题：

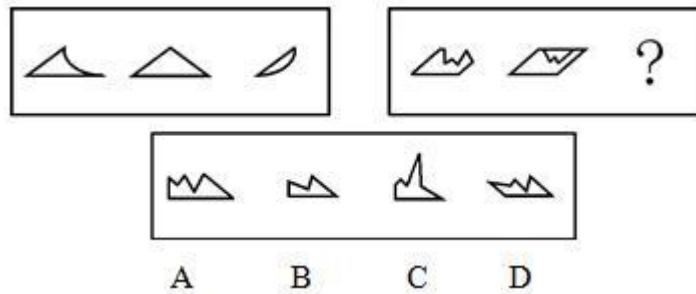
66. 从所给的四个选项中，选择最合适的一个填入问号处，使之呈现一定的规律性（ ）。



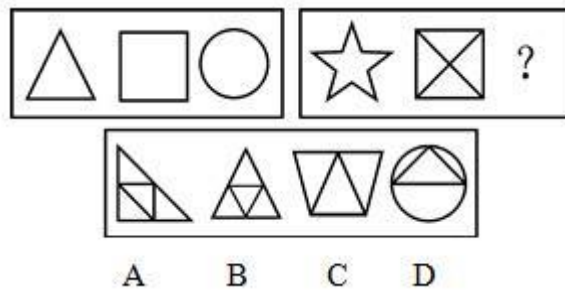
67. 从所给的四个选项中, 选择最合适的一个填入问号处, 使之呈现一定的规律性 ()。



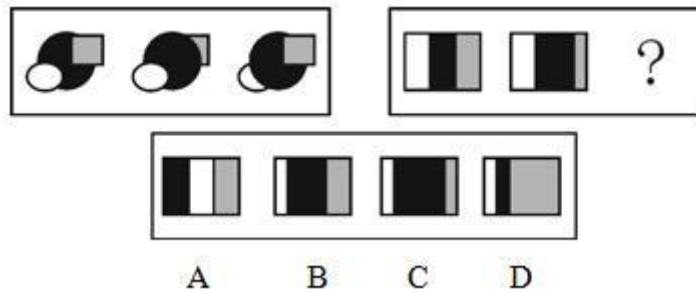
68. 从所给的四个选项中, 选择最合适的一个填入问号处, 使之呈现一定的规律性 ()。



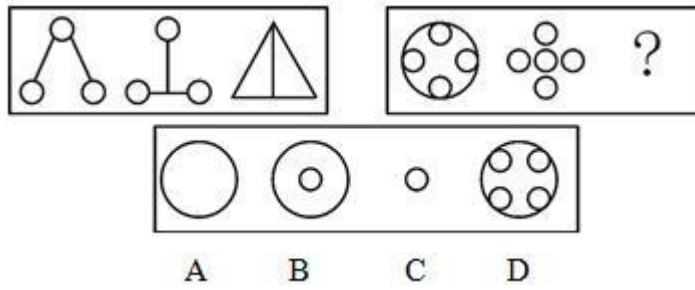
69. 从所给的四个选项中, 选择最合适的一个填入问号处, 使之呈现一定的规律性 ()。



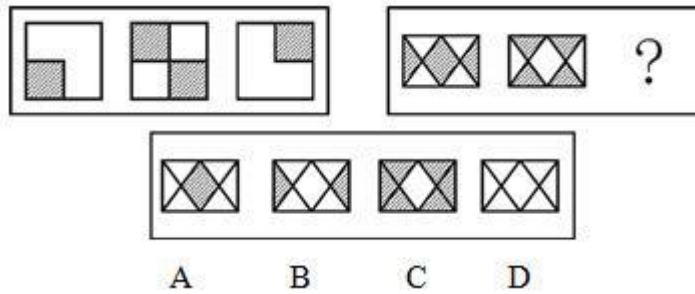
70. 从所给的四个选项中, 选择最合适的一个填入问号处, 使之呈现一定的规律性 ()。



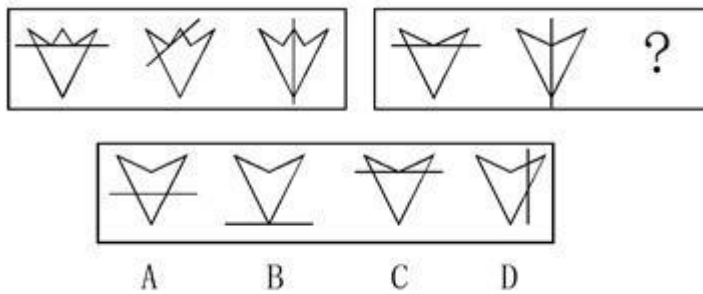
71. 从所给的四个选项中, 选择最合适的一个填入问号处, 使之呈现一定的规律性 ()。



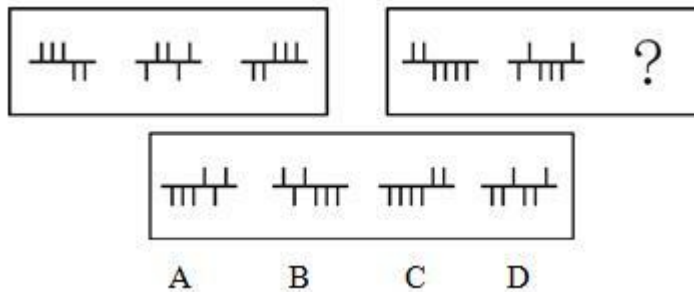
72. 从所给的四个选项中, 选择最合适的一个填入问号处, 使之呈现一定的规律性 ()。



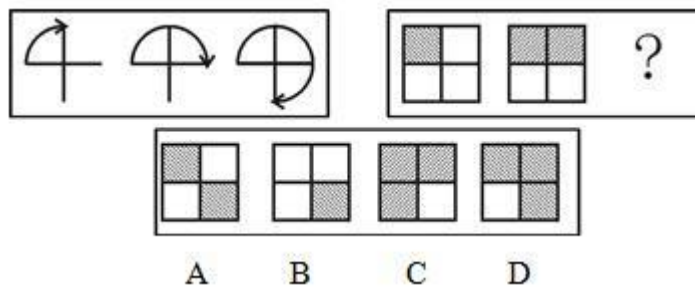
73. 从所给的四个选项中, 选择最合适的一个填入问号处, 使之呈现一定的规律性 ()。



74. 从所给的四个选项中, 选择最合适的一个填入问号处, 使之呈现一定的规律性 ()。



75. 从所给的四个选项中, 选择最合适的一个填入问号处, 使之呈现一定的规律性 ()。



三、逻辑判断。每道题给出一段陈述，这段陈述被假设是正确的，不容置疑的。要求你根据这段陈述，选择一个答案。注意：正确的答案应与所给的陈述相符合，不需要任何附加说明即可以从陈述中直接推出。

请开始答题：

76. 随意性审批容易滋生腐败问题。一些钱、物和项目，可以批给张三也可以批给李四，可以批也可以不批，可以早批也可以晚批，这容易出现权钱交易，使一些人有条件利用手中的权力徇私，进而带来行贿受贿行为。
由此可以推出（ ）。
- A. 有审批权的人必然会蜕化为腐败分子 B. 自私的人一旦当官就会受贿
C. 降低审批的随意性可减少腐败滋生的可能性 D. 绝大多数批到项目的人都存在行贿行为
77. 尽管吸烟被证明是有害的，医学家们极力劝阻吸烟者不吸烟或少吸烟，但成千上万的吸烟者仍无视这一事实而继续吸烟。
因此（ ）。
- A. 批评指责一种习惯比戒除这种习惯容易些 B. 吸烟者都是在自杀
C. 有时，即使明显的事实也不能令人信服 D. 自我控制是中心问题
78. 传统的解决问题的方法强调以往的经验 and 知识，而现代的解决问题的方法则强调从达到目标的所有可能途径中选择出最佳的一种，二者均不能成功地解决所有的问题，但二者的结合却往往能解决一种方法难以解决的问题。
因此（ ）。
- A. 对于任何问题都能找出解决的方法 B. 一个人必须为每一个问题选择一种方法
C. 不能只采用一种方法去解决所有问题 D. 没有完全满意的解决问题的方法
79. 陈辰是通达公司的经理，赵杰的所有的朋友都在通达公司工作。冯平是赵杰的朋友。公司中有些职工是来自广州的，通达公司的经济效益很不错，公司所有的职工都很富有。
据此，我们可以知道（ ）。
- A. 赵杰有一些穷朋友 B. 陈辰与赵杰是朋友
C. 冯平来自广州 D. 冯平很富有
80. 南美洲有一种毒箭蛙，其皮肤能分泌出剧毒物质。人们发现它们在水族馆中生活一段时间后，就不再具有毒性，其后代也是如此。后来又发现，自然界中的毒箭蛙以热带蚁类为食，而在水族馆中没有这种昆虫滋生。
由此可知（ ）。
- A. 毒箭蛙的毒性可能由食物引起 B. 毒箭蛙在热带雨林动物中最具有毒性
C. 毒箭蛙的毒性可以遗传 D. 在参观水族馆时，对毒箭蛙还是小心为好
81. 1980年，某县的一位农民为灭虱子，在被子上洒上敌百虫，结果两个小孩同时中毒，后经抢救脱险。但是，这位农民没有听从医生关于这床被子不能继续使用的劝告，用碱水洗后重新使用。由于敌百虫这类低毒剂遇到碱水发生化学反应，变成了剧毒的敌敌畏，致使两个小孩再次中毒，抢救无效而死亡。
这段话支持的主要观点是（ ）。
- A. 相信科学就能少犯错误 B. 不明白的事要多听听别人的劝告
C. 重复犯两次同样的错误会导致严重的后果 D. 不相信科学最终只能自食其果
82. 选出推理有错误的一段话（ ）。
- A. 在现场拾到的一块布与被告大衣上撕下的一块布大小、颜色、质料完全一样，因此，被告可能去过作案现场

- B. 整个屋子没有发现任何他人的作案痕迹，因而死者不像是在现场被他人杀死的
- C. 如果罪犯锯开窗子进入室内，则必定会留下锯子锯过的痕迹，现在窗上发现有锯过的痕迹，因而罪犯是锯开窗子进入室内的
- D. 案发时赵六到过作案现场，因而赵六不能排除是犯罪分子
83. 南丰傩舞保存着较多汉代之前的信仰形态，很少道教色彩，这在我国其他地区的傩舞中是罕见的；与越南、朝鲜、日本的傩舞相比，它又很少受佛教的影响。由此可以推出（ ）。
- A. 南丰傩舞早在汉代之前就已存在 B. 我国部分地区的傩舞带有道教色彩
- C. 南丰傩舞从未受佛教影响 D. 越南、朝鲜和日本的傩舞具有相同的起源
84. 王老师在某大学生物系教书。他发现在他所教的班上，越来越多的学生不按时完成作业。因此，他认为现在的理科学学生学习越来越不努力了。以下所述如果成立的话，哪项是对王老师的结论最有力的否定？（ ）
- A. 以前生物系的学生都按时完成作业
- B. 王老师所教学生中大多数人的成绩都非常优秀
- C. 王老师所教的学生不能作为理科学生的代表
- D. 生物系学生的作业并不多
85. 人离开了文化，离开了文化的创造和积累，离开了文化世界的价值和意义，人也就自然丧失了现实文化价值的意义，也就不可能真正实现人的本质。反之，文化如果离开了人，也就成了无源之水。可见（ ）。
- A. 文化只能是人的本质活动的反映 B. 没有文化同样能实现人的本质
- C. 文化和人的本质是相互依存的关系 D. 没有文化就失去了做人的资格

