

第一部分 常识判断

根据题目要求，在四个选项中选出一个最恰当的答案。

请开始答题：

- 下列表述错误的是（ ）。
 - 地级市与地区、自治州、盟属于同一行政层级
 - 地级市一般管辖区、县、自治县、旗、自治旗
 - 依据我国法律规定地级市不具备立法权
 - 海南省三沙市是我国总面积最大的地级市
- 下列属于我国在 2012 年取得的重大科技成果的是（ ）。
 - “蛟龙”号成功下潜 7062 米，创我国载人深潜的纪录
 - 我国首个超深水钻井平台“海洋石油 981”交付使用
 - 发射嫦娥二号探月卫星，采集月球表面的影像数据
 - 神舟八号与天宫一号在太空成功实现首次交会对接
- 下列说法正确的是（ ）。
 - 广谱抗生素是非处方药可自行购买
 - 广谱抗生素的效果优于窄谱抗生素
 - 使用广谱抗生素不容易产生耐药性
 - 致病菌未知应优先选择广谱抗生素
- “天下虽安，忘战必危”是我国古代著名的军事思想，充满着朴素的辩证法智慧。下列体现的哲学思想与这句话相同的是（ ）。
 - “有心栽花花不开，无心插柳柳成荫”
 - “不谋全局者不足以谋一域”
 - “贾人旱则资舟，水则资车，以待乏也”
 - “富贵而姿势弄权，乃自取灭亡之道”
- 下列关于汇率表述正确的是（ ）。
 - 国内外通货膨胀差异会影响汇率的长期趋势
 - 一国国际收支盈余会导致外汇汇率的上升
 - 一国经济增长短期内会使本币币值稳中趋升
 - 货币管理当局的干预可影响汇率的长期趋势
- 下列关于能源分类表述错误的是（ ）。
 - 水能是一次能源，是可再生能源，属于清洁能源
 - 电能是一次能源，是可再生能源，属于清洁能源
 - 太阳能是一次能源，是可再生能源，属于清洁能源
 - 石油是一次能源，是不可再生能源，不是清洁能源
- 下列论述错误的是（ ）。
 - 产业“空心化”弱化物质生产的地位
 - 人口“老龄化”加重政府的财政负担
 - “城镇化”可以促进经济社会的发展
 - 经济“全球化”有助于化解金融风险
- 下列做法符合我国法律规定的是（ ）。
 - 某人向法院起诉邻居搭盖房屋，影响自家的采光
 - 甲公司向法院起诉乙公司长期拖欠农民工的工资
 - 丙某向法院起诉外来车辆非法占用本单位停车位
 - 某报社下属编辑部向法院起诉丁某盗版侵权行为
- 下列绘画作品取材于历史事件的是（ ）。
 - 《蒙娜丽莎》
 - 《但丁小舟》
 - 《苏格拉底之死》
 - 《俄狄浦斯和斯芬克斯》
- 下列表述正确的是（ ）。

- A. 房顶被风掀翻是由于屋内的大气压力高于室外的大气压力
 B. 用手动打气筒给轮胎打气，气筒内气压始终高于胎内气压
 C. 高海拔地区气压低于平原地区是由于氧浓度变化造成的
 D. 轮胎充气后，内胎气压升高、摩擦力增大，起到了缓冲作用
11. 下列关于我国古代监察制度的说法错误的是（ ）。
 A. 秦朝设置了御史府作为中央最高监察机关 B. 监察制度的主要目的是防止官员侵害百姓
 C. 监察体系相对独立，确保监察权独立运作 D. 监察权来源于皇权，代表君主个人的意志
12. 关于突发公共卫生事件下列表述正确的是（ ）。
 A. 突发公共卫生事件报告的时限为 24 小时—48 小时
 B. 出现跨省份群体性、不明流行疾病应发布黄色预警
 C. 确诊属于食物中毒引起呕吐的，应立即为病人止吐
 D. 出现毒物外泄时，应封存所有可疑物品并留存样品
13. 下列可以缓解城市内涝的措施是（ ）。
 A. 将水泥路面改为柏油路面 B. 铺设人行道时使用透水砖
 C. 兴建人行天桥 D. 拓宽城市道路
14. 物联网中物体通过信息传感设备，与互联网相连接，进行信息交换和通信。下列不具备信息传感功能的设备是（ ）。
 A. 激光扫描器 B. 红外感应器
 C. 普通数码相机 D. 射频标签
15. 古人出于礼貌和尊敬，对平辈或尊辈会称字。下列属于这种做法的是（ ）。
 A. 称屈平为屈原 B. 称白居易为香山居士
 C. 称汤显祖为汤临川 D. 称梁启超为饮冰室主人
16. 下列诗句未涉及秋天的是（ ）。
 A. 相逢不用忙归去，明日黄花蝶也愁 B. 山明水净夜来霜，数树深红出浅黄
 C. 多少绿荷相倚恨，一时回首背西风 D. 寒菊已枯分正色，春兰未秀借幽香
17. 下列说法错误的是（ ）。
 A. 山梨酸钾是一种食品添加剂，可用于增加食品的风味
 B. 高浓度糖液破坏微生物细胞结构，可延长食品保存期
 C. 茶多酚能够抑制自由基的活性，可以作为食品防腐剂
 D. β -胡萝卜素可以作为食用性色素，可以用于食品调色
18. 在晴朗的天气里，当乌苏里江上迎来日出，此时在我国星斗满天的地区是（ ）。
 A. 漠河 B. 海口
 C. 郑州 D. 伊犁
19. 下列生态现象中，属于水体富营养化造成的是（ ）。
 A. 夏天，池塘中大批鱼类窒息死亡 B. 水葫芦覆盖河面，造成水质恶化
 C. 近海出现大量浒苔造成水体变色 D. 鲸鱼被海潮冲进海滩搁浅、死亡
20. 下列文化常识表述错误的是（ ）。
 A. 清明、数伏、冬至等都属于我国传统的二十四节气
 B. 古人以“社稷”指代国家，其中“社”指土地之神
 C. 古诗文中以“桑梓”指代家乡，“布衣”指代平民
 D. 古人常以折柳相赠表示对将要远行之人的留恋之情
21. 下列表述不符合国家政策规定的是（ ）。

第二部分 言语理解与表达

本部分包括表达与理解两方面的内容。请根据题目要求，在四个选项中选出一个最恰当的答案。

请开始答题：

26. 有时，疼痛能使人变得敏锐、清醒，唤起人道情怀，恢复本性良知。不疼者往往不知疼者之疼，而疼者因己之疼而_____，易于体验并感知他人的苦楚，生出同情心，或许还会上升到对人类、对存在的_____之心。

依次填入划横线部分最恰当的一项是（ ）。

- A. 由己及人 悲悯
B. 设身处地 崇敬
C. 感同身受 珍惜
D. 将心比心 敬畏

27. 道德楼宇的重建，除了靠制度地基，更要靠个体道德践履的“_____”。因为，道德构筑，需要你我他的身体力行，在公德的修复链中，没人能_____。

依次填入划横线部分最恰当的一项是（ ）。

- A. 锦上添花 置身事外
B. 添砖加瓦 抽身其外
C. 大兴土木 独善其身
D. 聚沙成塔 明哲保身

28. 欧元区永久性救助工具——欧洲稳定机制规定，救助资金只提供给欧元区成员国政府。当然，受援国政府可以_____，再用这笔钱救助本国银行，其后果是对银行业的救助资金最终仍会_____到政府头上，导致受援国主权债务增加。

依次填入划横线部分最恰当的一项是（ ）。

- A. 顺水推舟 转嫁
B. 因地制宜 转移
C. 因势利导 转变
D. 就地取材 转换

29. 随着公益事业的发展，各种公益组织和项目_____，在运行中却暴露出一系列问题。爱心捐赠是否基于自愿？项目运作是否足够规范？信息披露是否透明专业？这些无不在_____着大大小小的公益慈善组织。

依次填入划横线部分最恰当的一项是（ ）。

- A. 层出不穷 拷问
B. 司空见惯 考验
C. 屡见不鲜 质问
D. 不断涌现 质疑

30. 如果没有正确的工作方法，即使每天埋首于工作，忙得_____，也还是会收获甚微，_____。

依次填入划横线部分最恰当的一项是（ ）。

- A. 无所适从 因小失大
B. 心力交瘁 大失所望
C. 不可开交 差强人意
D. 筋疲力尽 得不偿失

31. 如今各地都面临着同样的问题。有的地方看不到自己的优势，_____，无法培育新的经济增长点；有的地方只盯着别人，_____，以致出现同质化恶性竞争。

依次填入划横线部分最恰当的一项是（ ）。

- A. 目光短浅 如法炮制
B. 舍本逐末 亦步亦趋
C. 缘木求鱼 生搬硬套
D. 舍本求末 邯郸学步

32. 我们需要以开放包容的心态“美人之美”，善于发现和吸收外来文化的精华，不_____；需要以文化自觉的主体意识“各美其美”，坚守和弘扬优秀中华文化传统，不_____、盲目崇外。

依次填入划横线部分最恰当的一项是（ ）。

- A. 目空一切 自暴自弃
B. 妄自尊大 妄自菲薄
C. 唯我独尊 自惭形秽
D. 自高自大 自轻自贱

33. 作为曾经的媒介大亨，报纸的影响力已经_____，互联网、手机的普及，让现代人获取信息的方式发生了_____的变化，报纸媒体的阅读群体日益萎缩，新媒体留给报纸媒体的发展空间已经越来越小。
- 依次填入划横线部分最恰当的一项是（ ）。
- A. 每况愈下 日异月殊 B. 今非昔比 翻天覆地
C. 烟消云散 惊天动地 D. 今不如昔 日新月异
34. 在行业的发展过程中，行业协会起着_____的作用。它既可以跟消费者对话，也可以跟政府对话，制定行业规则，清除行业当中的_____，还可以在行业出现危机的时候，救助行业。
- 依次填入划横线部分最恰当的一项是（ ）。
- A. 举重若轻 跳梁小丑 B. 举不胜举 残渣余孽
C. 举足轻重 害群之马 D. 不可或缺 狐鼠之徒
35. 为了满足不断被制造出来、被刺激起来的欲望，_____的商品就像阿里巴巴的山洞，成为_____购买欲的引擎。其实，拥有再多，也永远渴望货架上的下一个。
- 依次填入划横线部分最恰当的一项是（ ）。
- A. 五花八门 触动 B. 琳琅满目 触发
C. 丰富多彩 触及 D. 形形色色 触碰
36. 今年年初，国际互联网名称和编号分配公司宣布第三次顶级域名开放申请。在未开放个人注册之前，交易一个“.cn”域名不仅手续_____，而且需要个人_____寻找一个“单位”用于注册填写，或挂靠某个组织（比如域名注册商）完成注册。
- 依次填入划横线部分最恰当的一项是（ ）。
- A. 繁琐 煞费苦心 B. 烦琐 费尽心机
C. 琐碎 挖空心思 D. 繁杂 绞尽脑汁
37. 不少作家把人生比作登山，_____就是登上山顶略事休息徘徊的那一刹那。此前是“快乐地努力地向前走”，此后则“别有一番滋味”的“想回家”；此前是“路上有好多块绊脚石，曾把自己磕碰得鼻青脸肿”，此后则“前面是下坡路，好走得多”。“下坡路”也罢，“想回家”也罢，都是一种_____的心态。一切都不过如此，没什么稀奇的，不值得大惊小怪，也不值得苦苦追求。
- 依次填入划横线部分最恰当的一项是（ ）。
- A. 中年 过来人 B. 老年 过来人
C. 中年 成功者 D. 老年 成功者
38. 天堂鸟的美直追传说中的凤凰。因为栖息在_____的雨林之中，一般人很难有机会见到这种美丽的鸟儿，很长一段时间内，人们都是根据它的画像来_____它绝美的风采。
- 依次填入划横线部分最恰当的一项是（ ）。
- A. 人烟稀少 揣摩 B. 荒无人烟 揣想
C. 渺无人迹 幻想 D. 人迹罕至 遥想
39. 在快速疾走的信息时代，我们不缺速度，但泛着智慧之光的_____才具长久魅力。文化不是流行，是_____是传承；大师不是过客，是恒星是路灯；名人不是符号，而是一个个鲜活的人。
- 依次填入划横线部分最恰当的一项是（ ）。
- A. 远见 沉淀 B. 洞见 积淀
C. 卓见 积聚 D. 高见 积累

40. 新西兰怀托摩萤火虫洞里的萤火虫对生存环境的要求_____，遇到光线和声音便无法生存。目前只在新西兰和澳大利亚发现了这种萤火虫。人们无法在影视作品中欣赏到，连旅游宣传照片也_____。
- 依次填入划横线部分最恰当的一项是（ ）。
- A. 挑三拣四 为数不多 B. 求全责备 寥寥无几
C. 吹毛求疵 不可多得 D. 始终如一 屈指可数
41. 2012 赛季国际泳联世界水球联赛男子组总决赛在阿拉木图拉开战幕。首日在美国对哈萨克斯坦的比赛中，双方球队在第一节攻防转换节奏较快，开局阶段是以 4 比 4 战平，_____；美国队在第二节却_____，随即将分差扩大到 8 比 5；虽然东道主哈萨克斯坦队力拼防守，但是第三节仍旧_____，最终以 11 比 8 主场告负。
- 依次填入划横线部分最恰当的一项是（ ）。
- A. 不分伯仲 势如破竹 回天无力 B. 并肩前进 盛气凌人 不堪一击
C. 齐头并进 气势汹汹 望风披靡 D. 不相上下 斗志昂扬 无计可施
42. 文化不是有钱人的游戏，以为就如只要有有钱就能买到名牌包包一样，瞬间即可完成。文化也不是幻想者的梦想，以为就如魔术里的鸡变鸭一样，立刻即可_____。如今，谈论文化、投资文化成为时髦。很多人以为，在我们的经济得到长足发展之后，文化就能一下子_____；以为经济都可以在当年几近崩溃的边缘飞快地发展起来，以我国如此历史悠久的文化传统，文化的腾飞同样_____。
- 依次填入划横线部分最恰当的一项是（ ）。
- A. 脱胎换骨 升堂入室 倚马可待 B. 面目全非 捷足先登 轻而易举
C. 超脱尘俗 繁荣昌盛 稳操胜算 D. 革故鼎新 登堂入室 信手拈来
43. 互联网市场的发展让微消费模式_____。这种情况下，随时随地消费就成为可能，碎片化时间得以充分运用。这种由碎片化时间_____出的微消费市场_____着很大的商机。
- 依次填入划横线部分最恰当的一项是（ ）。
- A. 如虎添翼 衍生 蕴藏 B. 突飞猛进 产生 掩藏
C. 蒸蒸日上 生产 隐藏 D. 如日中天 牵引 潜藏
44. 有幸在毕业典礼上致辞，既需_____学生，也该_____老师——长江后浪推前浪，“前浪”怎么办？“前浪”不该过早停下脚步，还得尽量往前赶。在这个意义上，这毕业典礼，既属于_____的毕业生，也属于自强不息的指导老师。
- 依次填入划横线部分最恰当的一项是（ ）。
- A. 鼓励 表扬 踌躇满志 B. 奖励 表彰 指点江山
C. 鞭策 告知 斗志昂扬 D. 激励 警醒 朝气蓬勃
45. 有人分析过成功学的基本讲义和惯用词，发现它们几乎就是人类世界已知的公理。不能否认，从这些廉价、方便、_____，但又貌似永远正确的道理中，我们似乎获得了营养甚至是前进的动力；但如果一味地_____于所谓的“成功之道”，放弃了对生活的体验和思考，则有可能在追求“成功”的路上，与自己最初的梦想_____。
- 依次填入划横线部分最恰当的一项是（ ）。
- A. 唾手可得 沉迷 渐行渐远 B. 轻而易举 沉浸 南辕北辙
C. 手到擒来 沉湎 大相径庭 D. 一蹴而就 沉溺 相去甚远
46. 现在人们日益关注“绿色增长”的概念。“绿色增长”的概念与“低碳经济”“循环经济”和“生态经济”等概念相比，它们的核心是一致的，倡导的都是一切经济社会与自然资源、生态环境全面协调和可持续发展的理念。差别只是视角和重点不同。低碳经济强调降低温室气体排放，循

环经济强调提高资源有效利用率，生态经济强调保护自然生态环境。绿色增长则强调转变经济发展方式，以绿色产业增长为标志，达到低耗能、低排碳和低污染，实现经济社会可持续发展。

作者接下来最有可能讲述的是（ ）。

- A. 绿色增长的主要特点
- B. 绿色增长的优缺点
- C. 绿色增长的发展现状
- D. 绿色增长的未来前景

47. 2010年，研究人员在富含砷的沉淀物中发现了一种怪异的生物体，这种被命名为“GFAJ-1”的细菌可以在富砷少磷的实验环境中茁壮生存。研究人员称，这种细菌已经将砷元素取代磷元素的位置，改写了自己的DNA。由此有人认为“生命法则”已被推翻。然而，最近的研究否定了这个结论。虽然这种细菌确实可以存活于2010年实验所描述的环境中，但是当磷的数量减少到比当时实验中的数量还要少时，“GFAJ-1”细菌就无法存活。此外，在“GFAJ-1”细菌的DNA中并没有发现砷的存在。可见这种喜砷生命的生存同样需要磷元素，只不过需求量极少而已。

文中的“生命法则”是指（ ）。

- A. DNA不可能被改写
- B. 生命依赖于特定环境
- C. 磷是生命不可或缺的
- D. 喜砷生命同样需要磷

48. 如果有人朝你开枪，最好的办法就是跳进游泳池，只要半米多深的水就能把子弹的速度降到非致命的程度。类似现象在宇宙中也会发生。对那些运动速度直逼光速的粒子，充斥在宇宙中的微波背景辐射就犹如一片稠密的海洋。一个粒子只要在其中穿行几亿光年，它的速度就会大幅下降。

根据上述文字能够推出的是（ ）。

- A. 稠密的海洋可以减缓粒子的穿行速度
- B. 跳进游泳池能够抵御子弹的致命袭击
- C. 在宇宙中穿行，粒子速度会大幅下降
- D. 微波辐射能缓冲穿行其间粒子的速度

49. 最新研究成果认为，最初太阳系中分布着大量的固态水，但是它们并未参与地球的形成，如今这些冰可以在彗星或碳质球粒陨石中找到。地球上的水是很久以后才到达地球的，而且不是由来自遥远的太阳系边缘的彗星带来的，而是来自更近的地方——火星与木星之间的小行星带。

与这段文字的意思相符的一项是（ ）。

- A. 地球在刚诞生的时候并没有水
- B. 地球上的水来自碳质球粒陨石
- C. 地球上的水来自太阳系的边缘
- D. 地球上的水与火星的成分相同

50. 作为政府主导项目，公租房不仅凝聚了满足广大中低收入阶层居住权的供应预期，还承担了弱化住房市场投机性气氛、还原住房市场商品属性的政策导向预期。能否实现这两大预期，推动整个房地产市场向更理性健康的方向转变，公租房市场能否成为住房市场中最具公平性、公共性的一部分，至关重要。

这段文字意在强调（ ）。

- A. 公租房应满足广大中低收入阶层的住房需求
- B. 公租房对于房地产市场的发展起着重要作用
- C. 公租房将弱化投机、还原住房市场商品属性
- D. 公租房市场的最基本属性是公平性和公共性

51. 向生产单位提供可能产生职业危害的化学品时，应当提供中文说明书。说明书应当载明产品特性、主要成分、存在的有害因素、可能产生的危害后果、安全使用注意事项、职业危害防护和应急处置措施等内容。产品包装应有醒目的警示标识和中文警示说明。

这段文字旨在说明（ ）。

- A. 说明书中需要涵盖的内容
- B. 要提供说明书以警示危害
- C. 不能对潜在危害加以隐瞒
- D. 应该标注明显的中文警示

52. 从科学史看，理论再伟大，也只有在特定的范围内才是正确的。标准模型虽然即将被证实，但其依然位于微观世界，无法解释宏观世界中的万有引力。《新科学家》撰文写道：“希格斯玻色子（也称为‘上帝粒子’）是标准模型的最后一块拼图，但我们知道，这个模型之外，还有其他的粒子和力。”这意味着，尽管“上帝粒子”可能是验证标准模型的最后一块拼图，但它绝对不是人类认识宇宙真理的最后一块拼图。

与这段文字不相符的一项是（ ）。

- A. “上帝粒子”一旦得到确认，标准模型可能就此得到证实
- B. 即使“上帝粒子”得到确认，我们认识宇宙任务仍未完成
- C. 标准模型即使得到证实，但它也绝不会是宇宙的最终真理
- D. “上帝粒子”如果不存在，说明标准模型之外还有其他粒子

53. 短短几天内，四大名著“假想微博体”爆红网络。如果以 2006 年“馒头血案”为原点，中国网民的“恶搞”之路也已走过多年。最初仅仅为满足网民的无聊情绪，之后为满足人们对幽默的需求，现如今成功的“恶搞”案例越来越需要“内涵”了。这内涵一定是“写实主义”的，如果没有大笑之后的现实痛点，那也只是欠缺灵魂的娱乐项目，未必能引发公众的真正共鸣。

这段文字的主要观点是（ ）。

- A. 我国“网络恶搞”经历了三个发展阶段
- B. 我国网民不再满足于单纯的“网络恶搞”
- C. “假想微博体”使用了“写实主义”手法
- D. “假想微博体”蹿红源于它对现实的关注

54. ①谣言止于智者，粉碎谣言靠的还是民众自身的审慎与理性

②流通的信息不仅要多，更要有质量

③一个信息自由流动的社会，会内生出强大的信息鉴别机制

④信息够不够有说服力，不是权力可以命令的

⑤消除谣言的最好方式并非杀鸡儆猴式的惩罚，而是保证提供充分信息

⑥一万个流言也抵不上一个权威的信息，虚假信息反令民众茫然失措

将以上 6 个句子重新排列，语序正确的是（ ）。

- A. ③②①⑥⑤④
- B. ⑤⑥②④③①
- C. ①③⑤②⑥④
- D. ⑥④①③②⑤

55. 数字化阅读丰富了我们的文化生活，已经成为重要的阅读方式之一，也成为当下很多人尤其是年轻人学习知识和获取信息的重要途径。然而，与传统阅读方式相比，数字化阅读华丽的外表下面，却有一种触手可知的冰冷感。古人讲开卷有益，但当开卷变成了开机，当纸张变成了按键，当厚重的二十四史变成了电脑里一个小小文档，我们又该何处寻找开卷阅读的乐趣呢？

作者对数字化阅读的态度是（ ）。

- A. 肯定性
- B. 否定性
- C. 批判性
- D. 怀疑性

56. “早教”最早起源于德国，是让孩子在游戏和与父母的交往过程中获得身体、情感、智力、人格、精神等多方面的协调发展与健康成长的互动式活动。简单说就是一种用亲子互动的方式，旨在促进孩子成长的活动。中国家庭的“早教”却是另一番样子。在一项针对“早教”的调查中发现，幼儿阶段的超前教育主要集中在识字、阅读、计算机和英语口语等。除了不少幼儿园在

特色班里已有涉及，家长更多的则是花时间带孩子参加业余培训班，在语文、英语和数学上下工夫。

这段文字意在说明（ ）。

- A. 中国“早教”更注重知识学习
- B. “早教”在中国已经偏离本源
- C. 中国“早教”不利于孩子成长
- D. 中国“早教”与德国的不同点

57. 在所有形式的广告中，83%都只专注于吸引我们的视觉。实际上，听觉的效果也同样强大，不过现今广告商利用的听觉优势只是九牛一毛。回顾以往，广告只借助其歌曲和口号来吸引我们的耳朵，很大程度上忽略了日常生活中的声音——像煎牛排的滋滋声、婴儿的笑声和那些我们不由自主就会被吸引的响声。把这类东西融入到一个广告中，或许我们会无法抗拒广告的魅力。

这段文字要传递的主要意思是（ ）。

- A. 广告中融入日常生活声音可能会更有吸引力
- B. 目前广告商只是利用视觉上的优势来做广告
- C. 增加广告的魅力需要利用日常生活中的声音
- D. 广告应该充分考虑人们听觉和视觉上的感受

58. 全球最大的人力资源服务机构之一——美世（Mercer）公司近日发布的《2012年全球生活成本调查》称，东京是全球生活成本最高的城市，中国香港名列第9位，中国内地的上海和北京分别名列第16和第17位；纽约是美国生活成本最高的城市，但排列在全球第33位。美世公布的“生活成本”，特指政府机构和跨国公司派驻海外人员在各个城市的生活成本。这与通常讲的居民生活成本不是一回事。混淆两种不同的“生活成本”，不仅无助于科学比较，而且容易导致情绪化倾向。

这段文字意在说明（ ）。

- A. 上海、北京的生活成本未高过纽约
- B. 混淆“生活成本”概念造成了曲解
- C. 不同国家城市的生活成本不可比较
- D. 我国大城市居民生活成本并不很高

59. 一个流浪汉喝着冰红茶，望着元宵节漫天绽放的烟花，笑容比烟花还要灿烂。此照片仅一天就被转发超过了6万次。网友被如此简单的笑容感染，都叫他“微笑哥”。新年伊始，《爱上这身无分文的日子》《一年不花钱：我的无货币主义生活》《辞职，去旅行》……一大批教人如何“穷快活”的新书出现在读者的视野中。这类书置“钱是万能的，而没钱是万万不能的”的训诫于不顾，诠释没有钱，或者少花钱，也能谋得生存与快乐。

这段文字旨在说明（ ）。

- A. 生活快乐不完全取决于金钱
- B. 笑容在网络中具有的感染力
- C. “穷快活”成为时下热门题材
- D. 生活的快乐难以用金钱购买

60. 房产税征收是以一定期限的持有为前提的。而当前试点的征税实践则是把房产税等同于契税来征管，在房屋产权进行交易时，预征未来一年的房产税款。这一财产税较流转税进行征管的方式显然难以持续。尤其是对于存量住房的征收，如果缺乏办理产权证这一“关卡”，加之住房长期空置，所有者与使用者相分离现象的大量存在，很难保证房产税应征尽征。因此，同个人所得税等直接税一样，对个人住房信息的全面掌握，对税务征管方案的巧妙设计，征管方式从被动到主动的转变都是在房产税执行过程中需要重点关注的问题。

这段文字意在强调（ ）。

- A. 税务征管方案存在的缺陷
- B. 房产税征管亟须加以转变
- C. 应全面掌握个人住房信息
- D. 扩大房产税试点须更谨慎

61. 一个画家要明白宣告的宗旨是使得人们对于人生，对于自身，对于自己生活中所能起的作用感兴趣。而要达到这一目的，最好的办法是通过艺术使人们相信人生是一场很有意思的游戏，人人都能参加。任何生活方式，哪怕再高雅，再拘谨，总是会有很多出路和通道。况且人生的乐趣也不归政治家或百万富翁所专有，而是公平分配的，只要我们为它留出一点时间、耐心和想象力，不要只泡在什么具体的目标或粗俗的野心中去。因此，真正的艺术和绘画在我们身边悄悄说出的那个重大秘密是：_____。
- 填入划横线部分最恰当的一句是（ ）。
- A. 我们想要了解的事物，总是始于我们的好奇心
B. 千变万化的生活，决定了我们的人生是否充实
C. 只要我们生活得充实，生活经验本身自有价值
D. 人生的意义完全在于给予，而不在于主动索取
62. 随着科技的发展，转基因技术正在从挑战自然和违背自然的方向转变到尊重自然和顺应自然的方向。与第一代转基因作物的设计思路截然不同，新一代转基因作物采用的是基因沉默技术，它标志着转基因技术里程碑式的突破。
- 作者接下来最有可能谈论的是（ ）。
- A. 新一代转基因技术顺应自然规律
B. 比较两代转基因技术的作用原理
C. 适用于新一代转基因技术的作物
D. 生物技术进步对于自然界的贡献
63. 极光是来自大气外的高能粒子与高层大气中的原子相互作用的结果，这种相互作用常发生在地球磁极周围区域，据现在所知，作为太阳风的一部分，高能粒子到达地球附近时，被地球磁场俘获，朝向磁极下落。它们与氧和氮的原子碰撞，击走电子使其成为激发态的离子，这些离子发射不同波长的辐射，产生出红、绿或蓝等色的极光特征色彩。
- 根据这段文字，以下说法错误的是（ ）。
- A. 太阳风在高层大气自放电产生极光
B. 地球磁场强度影响极光的发生概率
C. 激发态的离子可以发出不同的色彩
D. 上文中的“其”指的是氧和氮的原子
64. 阁下的口才纵使可斡旋于元老院的众位元老之中，为生存计，眼下却只能屈尊当一名化妆品推销员；出众的将才也只能在棋盘上略略施展，或更糟，将漂流长江、壮行西域的雄心转化为麻将桌上的一碰一杠之中；大量的卡夫卡们龟缩在办公室里，成为丧失飞行能力的穴鸟；一张杂七杂八的晚报遮蔽了城市的黄昏，若干个电视频道抚慰着人心的不平；层出不穷的电脑软件帮助精力充沛的少男少女宣泄过剩的欲望，而浩渺无边的互联网络甚至已使人丧失承认“生有涯而学无涯”的勇气。
- 这段文字的主要观点是（ ）。
- A. 很多的人的才华被无情的现实埋没了
B. 现代人由于诱惑过多，所以难以成才
C. 我们生活中隐藏着很多有潜力的人
D. 当今的时代背景下人们容易沦于平庸
65. 街道社区是城镇社区管理的基础单元和居民安居乐业的基本载体。在社区建设中，要坚持以人为本，以居民为本，把握各方利益的结合点、联系点和生长点，共建共治共享文明社区、和谐家园。结合社区人口流动性大、社会闲散人员多的实际，加强普法宣传教育，不断完善社区管理服务，增强居民的法律意识和法治观念。
- 这段文字意在强调（ ）。
- A. 和谐家园比文明社区重要
B. 居民的活动以社区为单位
C. 社区建设活动类型应多样
D. 加强社区建设的基本任务

- 66.陈强塑造反派始于抗战时期的延安，他受导演王滨之邀出演歌剧《白毛女》中的地主黄世仁。演艺界的人都明白，演反派人物很难成大业扬美名，可陈强却_____。自饰演黄世仁后，“坏蛋”形象就与他_____，他也演得_____。
- 依次填入划横线部分最恰当的一项是（ ）。
- A. 坚持不懈 藕断丝连 驾轻就熟 B. 矢志不移 唇齿相依 心手相应
C. 乐此不疲 如影随形 得心应手 D. 始终如一 难分难解 游刃有余
- 67.事实上，葡萄糖燃料电池的理念并不是_____。早在 20 世纪 70 年代，科学家就提出能以这种电池为心脏起搏器提供动力。但这一_____最终因为葡萄糖燃料电池所使用的酶不能长久发挥作用，以及锂离子电池能在单位面积内提供更强劲的能量而_____。
- 依次填入划横线部分最恰当的一项是（ ）。
- A. 异想天开 倡议 延搁 B. 文过其实 创议 搁置
C. 夸夸其谈 建议 耽搁 D. 无稽之谈 提议 搁浅
- 68.总体上，当前国家统计内容以经济统计为主，且经济统计发展比较全面系统；相对来说人口社会统计受到的重视可能稍微弱一些。实际上，对于国家统计机构来说，尤其是发达国家的统计机构，人口社会统计和经济统计应该是_____。
- 填入划横线部分最恰当的一项是（ ）。
- A. 化零为整 B. 不分彼此
C. 并驾齐驱 D. 各有所长
- 69.如今，有越来越多的青年大学生毕业后选择奔赴西部基层，开展志愿服务，他们在志愿服务中找到了真正的价值感，_____了阅历、_____了意志，_____了才干，这是他们内心深处最深刻的体会。
- 依次填入划横线部分最恰当的一项是（ ）。
- A. 增长 历练 成就 B. 提高 增强 凸显
C. 扩大 锻炼 应用 D. 丰富 磨炼 增长
- 70.中华民族在漫长的历史发展进程中，形成了_____的民族文化。这些节日久经沧桑传延至今，不仅有着群众_____的娱乐形式、丰富多彩的民俗文化，而且蕴藏着历代民众共同理想和精神追求、_____着中华民族的民族精神和思想精华。
- 依次填入划横线部分最恰当的一项是（ ）。
- A. 丰富多彩 脍炙人口 凝集 B. 博大精深 喜闻乐见 凝结
C. 包罗万象 喜闻乐道 凝固 D. 绚丽多姿 津津乐道 凝聚
- 71.堵车会延长人们的预期出行时间，造成心理上的不满和体能上的疲乏。但在美国以及欧洲等发达国家，堵车已经连带产生了一系列“堵车经济”，比如汽车餐厅、车内方便食品、车内有声读物、车内免提电话、车载视频等。濒临式微的广播业也因汽车业的发展和堵车现象的增加，得以在交通广播领域施展拳脚。
- 由上述文字可以得出（ ）。
- A. 堵车可以催生新的经济增长点 B. 广播业因堵车而重新焕发生机
C. 发达国家的人们并不在意堵车 D. 堵车经济可以减轻出行的疲乏
- 72.在电报发明之前，人类比较有效的通信手段不外乎驿传、信鸽传递、烽火这么几种。古代驿马传信的最高速度为一昼夜 300 里，按今天换算方式，可知速度约为 6.25 公里 / 小时；优良信鸽在正常情况下，每天最多飞行 800 公里。烽火传递最快时一昼夜可达 7000 余里，可无奈它能传递的信息量实在太少。明朝时中国边防军发明了悬灯、举旗与放炮相结合的报警方法，已经算是相当先进了。可是它也不过能告诉你敌人从哪边打来、敌人约莫有几百或几千而已。

这段文字意在强调（ ）。

- A. 电报发明之前人类有效的通信手段种类 B. 电报发明之前古老信息传递方式的不足
C. 电报发明之前世界上最先进的通信技术 D. 明朝时中国人就意识到信息量的重要性

73. 在自然界中，组成强子的夸克之间趋向于强作用力的平衡，要想彻底打破这种平衡，用目前的高能加速器还不足以实现；在原子中，运动中的电子总是尽可能处于能量最低状态；在生物运动中，生物体内的各种运动也具有平衡的趋向，维持代谢的平衡是生命能够存在下去的基本条件。在社会领域中，生产关系有着适应生产力发展的必然趋向。

这段文字意在强调（ ）。

- A. 任何事物、要素和运动形式都具有自身趋向平衡的本性
B. 任何事物都处于各种内部和外部相互平衡作用的系统中
C. 任何运动存在的不平衡都源于事物内部趋向平衡的运动
D. 任何事物或要素可以通过自身“调节”趋向一种新的平衡

74. 电蚊香分为电热片蚊香和电热液体蚊香两种，电热片蚊香以可吸性材料为 8F7D 体，原理是将杀虫剂吸入纸片中，利用热气蒸发出除虫菊精，一般药效可维持 6—8 小时。缺点是刚使用时药效良好，可能有“超量”之虞，但 4—5 小时之后，药效变差。利用毛细管原理，持续加热使其释放杀虫剂物质的液体电蚊香，正好可以弥补电热片蚊香的缺点，它可以持续长时间使用，约 60 天左右，甚至可以定时释放。但按照规定，电热液体蚊香电加热器工作温度宜在 100℃ 到 110℃ 之间，正负相差不能超过 7℃，否则，蚊香散发过快，药液瞬间浓度会变大。

与这段文字意思相符的是（ ）。

- A. 电热片蚊香和电热液体蚊香驱蚊的原理不同
B. 电热液体蚊香的驱蚊效果要好于电热片蚊香
C. 电热片蚊香和电热液体蚊香使用的载体不同
D. 电热液体蚊香对人的安全性高于电热片蚊香

75. ①因而在历史上存在着分裂的状况
②这对于科技创新以及社会发展具有重要的意义
③人们通常把科学技术与人文看作不同的领域
④科学技术的发展不是自主运行的，而是在一定的社会文化环境中进行的
⑤认为科技文化与人文文化代表了两种文化
⑥科学技术与人文的整合，既有必要性，又有可能性

将以上 6 个句子重新排列，语序正确的是（ ）。

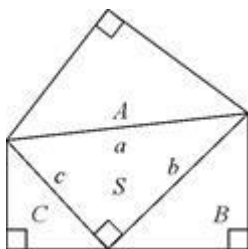
- A. ③⑤①④⑥② B. ⑥③⑤①④②
C. ④③⑤①⑥② D. ④②③⑤①⑥

第三部分 数量关系

在这部分试题中，每道题呈现一段表述数字关系的文字，要求你迅速、准确地计算出答案。

请开始答题：

76. 某厂生产一批商标，形状为等边三角形或等腰三角形。已知这批商标边长为 2cm 或 4cm，那么这批商标的周长可能是（ ）。
- A. 6cm 12cm
B. 6cm 8cm 12cm
C. 6cm 10cm 12cm
D. 6cm 8cm 10cm 12cm
77. 某网店连续 3 次下调某款手机的零售价格，每次下调幅度分别为：2.7%、5.5% 和 4.6%。经过 3 次调价，该款手机零售价较下调前大约下降了（ ）。
- A. 12.3%
B. 12.8%
C. 13.3%
D. 13.8%
78. 气象台测得在 S 岛正东方向 80 千米处，一台风中心正以 20 千米 / 小时的速度沿北偏西 60 度的方向匀速移动。若台风中心 50 千米范围内为影响区域，台风中心移动方向不变、强度不变，该台风对 S 岛的影响时间约持续（ ）。
- A. 2 小时
B. 3 小时
C. 4 小时
D. 5 小时
79. 如图所示，A、B、C 是三个等腰直角三角形，其中 A 的面积大于 B 的面积、B 的面积大于 C 的面积，它们的三条斜边 a、b、c 恰好构成一个直角三角形 S。已知 a 为定值，下列推论正确的是（ ）。



- A. S 的周长为定值
B. S 的面积为定值
C. A、B、C 面积之和为定值
D. B、C 面积之和大于 A 面积
80. 某单位端午节 3 天假期安排甲、乙、丙、丁 4 人值班。端午节当天上、下午各安排一个人值班，另外两天每天安排一个人，每人只值班一次。则乙被安排在端午节当天值班的概率是（ ）。
- A. 1/24
B. 1/12
C. 1/3
D. 1/2
81. 某单位购买一批树苗计划在一段路两旁植树。若每隔 5 米种 1 棵树，可以覆盖整个路段，但这批树苗剩 20 棵。若每隔 4 米种 1 棵树且路尾最后两棵树之间的距离为 3 米，则这批树苗刚好可覆盖整个路段。这段路长为（ ）米。
- A. 195
B. 205
C. 375
D. 395
82. 用红、黄两色鲜花组成的实心方阵（所有花盆大小完全相同），最外层是红花，从外往内每层按红花、黄花相间摆放。如果最外层一圈的正方形有红花 44 盆，那么完成造型共需黄花（ ）盆。
- A. 48
B. 60


- C. 72
D. 84
83. 某洗车店洗车分外部清洁和内部清洁，两道工序时间均不少于 30 分钟，而同一辆车两道工序不能同时进行，洗车间同一时间只能容下 2 辆车。现有 9 辆车需要清洗，汽车进出洗车间的时间可忽略不计，则洗完 9 辆车至少需要的时间为（ ）。
- A. 330 分钟
B. 300 分钟
C. 270 分钟
D. 250 分钟
84. 玉米的正常市场价格为每公斤 1.86 元到 2.18 元，近期某地玉米价格涨至每公斤 2.68 元。经测算，向市场每投放储备玉米 100 吨，每公斤玉米价格可下降 0.05 元。为稳定玉米价格，向该地投放储备玉米的数量不能超过（ ）。
- A. 800 吨
B. 1080 吨
C. 1360 吨
D. 1640 吨
85. 根据天气预报，未来 4 天中每天下雨的概率均为 0.6，则未来 4 天中仅有 1 天下雨的概率 p 为（ ）。
- A. $0.03 < p < 0.05$
B. $0.06 < p < 0.09$
C. $0.13 < p < 0.16$
D. $0.16 < p < 0.36$
86. 某商场在进行“满百省”活动，满 100 省 10，满 200 省 30，满 300 省 50。大于 400 的消费只能折算为等同于几个 100、200、300 的加和。已知一位顾客买某款衬衫 1 件支付了 175 元，那么买 3 件这样的衬衫最少需要（ ）。
- A. 445 元
B. 475 元
C. 505 元
D. 515 元
87. 某公路铁路两用桥，一列动车和一辆轿车均保持匀速行驶，动车过桥只需 35 秒，而轿车过桥的时间是动车的 3 倍，已知该动车的速度是每秒 70 米，轿车的速度是每秒 21 米，这列动车的车身长是（轿车车身长忽略不计）（ ）。
- A. 120 米
B. 122.5 米
C. 240 米
D. 245 米
88. 甲某打电话时忘记了对方电话号码最后一位数字，但记得这个数字不是“0”。甲某尝试用其他数字代替最后一位数字，恰好第二次尝试成功的概率是（ ）。
- A. $\frac{1}{9}$
B. $\frac{1}{8}$
C. $\frac{1}{7}$
D. $\frac{2}{9}$
89. 甲、乙两种商品的价格比是 3:5。如果它们的价格分别下降 50 元，它们的价格比是 4:7，这两种商品原来的价格各为（ ）。
- A. 300 元 500 元
B. 375 元 625 元
C. 450 元 750 元
D. 525 元 875 元
90. 某街道常住人口与外来人口之比为 1:2，已知该街道下辖的甲、乙、丙三个社区人口比为 12:8:7。其中，甲社区常住人口与外来人口比为 1:3，乙社区为 3:5，则丙社区常住人口与外来人口比为（ ）。
- A. 2:3
B. 1:2
C. 1:3
D. 3:4

第四部分 判断推理

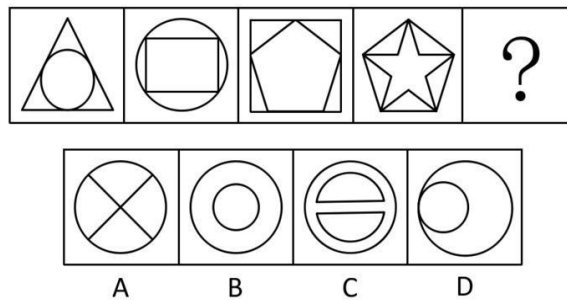
一、图形推理。请按每道题的答题要求作答。

请开始答题：

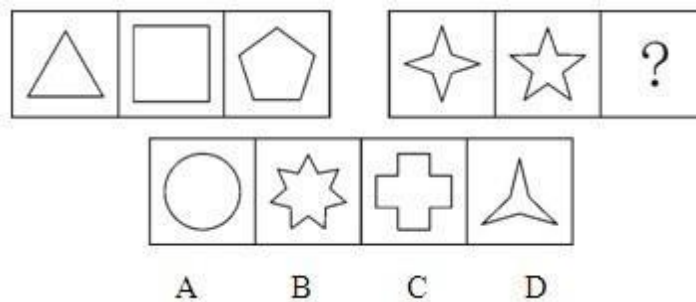
91. 从所给四个选项中，选择最合适的一个填入问号处，使之呈现一定的规律性（ ）。



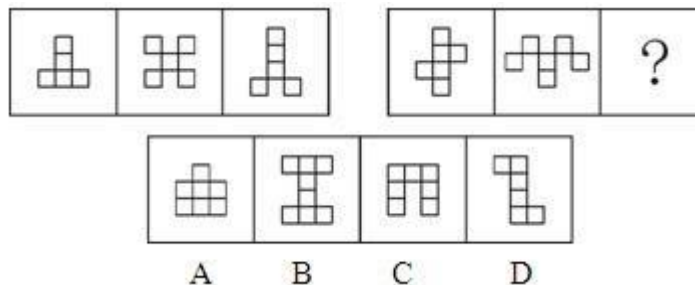
92. 从所给四个选项中，选择最合适的一个填入问号处，使之呈现一定的规律性（ ）。



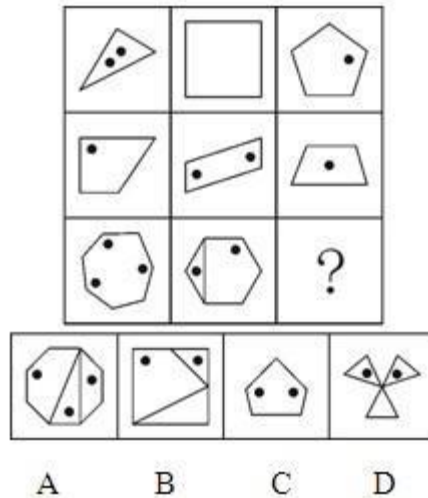
93. 从所给四个选项中，选择最合适的一个填入问号处，使之呈现一定的规律性（ ）。



94. 从所给四个选项中，选择最合适的一个填入问号处，使之呈现一定的规律性（ ）。



95. 从所给四个选项中，选择最合适的一个填入问号处，使之呈现一定的规律性（ ）。



二、定义判断。每道题先给出定义，然后列出四种情况，要求你严格依据定义，从中选出一个最符合或最不符合该定义的答案。注意：假设这个定义是正确的，不容置疑的。

请开始答题：

96. 奠基者效应是指某生物种群中的少数个体因地理隔绝或其他原因，在与原种群隔离的条件下繁衍生息。虽然后代群体不断扩大，但整个种群的遗传信息均来自最初迁移的少数个体。奠基者效应造成族群遗传多样性较低，对环境适应性较差，容易被自然淘汰。
- 根据上述定义，下列情形是奠基者效应造成的（ ）。
- A. 斯里兰卡岛上咖啡树对咖啡锈病缺乏抵抗力而全部枯死
 - B. 某海岛的贝壳因色泽鲜艳而常被渔民采撷如今濒临灭绝
 - C. 熊猫因种群数量减少而濒临灭绝需要依靠人工繁衍生息
 - D. 为保留自身文化阿米什人不与外人通婚导致遗传病频发
97. 盖亚假说认为地球生命体与非生命体形成了一个可相互作用的复杂系统。该假说又分为强盖亚假说和弱盖亚假说。其中弱盖亚假说认为地球上的各种生物有效地调节着大气的温度和化学构成，在生物体影响生物环境的同时，环境又反应过来影响生物进化的过程。强盖亚假说更进一步认为地球是一个巨大的有机体，具有自我调节的能力，为了这个有机体的健康，甚至可以自行消除那些有害的因素。
- 根据上述定义，下列选项中属于弱盖亚假说的是（ ）。
- A. 地球利用太阳能是一种星球尺度上的新陈代谢作用
 - B. 环保的重要性在于地球是唯一适合人类居住的星球
 - C. 大气层出现臭氧层空洞是因为人类过度活动造成的
 - D. 沙漠中引种耐热植物后，促进了当地旅游业的发展
98. 社会感知计算是指通过人类生活空间日益部署的大规模、多种类传感设备，实时感知、识别社会个体的行为，分析挖掘群体社会交互特征和规律，辅助个体社会行为，支持社群的互动、沟通和协作。
- 根据上述定义，下列属于社会感知计算的是（ ）。
- A. 某婚恋网站利用手机定位功能提供本地化约会服务
 - B. 某地气象台利用手机短信向市民发布台风预警信息
 - C. 某厂商借助计算机分析产品销售情况了解顾客偏好
 - D. 市民可以用发短信的方式向当地媒体提供新闻线索

99. 海关是对出入国境一切商品和物品进行监督，检查并照单征收关税的国家机关。
根据上述定义，海关工作人员在执勤时可以（ ）。
- A. 查验他人行李
B. 检查他人身体
C. 拍摄他人肖像
D. 扣留他人一天
100. 峰终定律是指人记忆某项事物的体验取决于开始和结束时的感觉。
根据上述定义，下列选项没有运用到峰终定律的是（ ）。
- A. 某运动员擅长于后程发力赢得比赛
B. 宾馆大厅的迎宾员态度热情而友善
C. 超市在出口处免费发放环保购物袋
D. 银行将营业大厅设计得宽敞又明亮
101. 拇指规律是指人们在日常生活中体验和总结出来的规律，是一种适用于大多数情况的，简单的，经验性的但不甚准确的规律。
根据上述定义，下列选项没有运用到拇指规则的是（ ）。
- A. 有经验的点钞员，一眼就能够识别假钞
B. 老王教导新闻事故工作最好都要有方案
C. 某果农合作社引种新品种获得了大丰收
D. 某电视台邀请知名评论员预测比赛结果
102. 一体化走廊管理指的是政府通过集中改善城市中若干条交通干道的基础设施，公共交通服务或公共交通管理方式，来提高所有出行者的出行速度，出行可靠性以及出行安全性。
根据上述定义，下列属于一体化走廊管理的是（ ）。
- A. 某市加大对高峰期出租车拒载行为的处罚力度
B. 某市在市区交通主干道设置公共自行车租赁点
C. 某市出台政策鼓励民营资本承包公交主干线路
D. 某市在市区干道十字路口设置新型交通摄像头
103. 商标平行进口是指在国际货物买卖中，某商标权或商标使用权已受一国法律保护，进口商未经该国商标所有人或商标使用权人许可，从国外进口相同商标商品。
根据上述定义，下列选项属于商标平行进口的是（ ）。
- A. 甲国生产商与乙国经销商销售一款新型发动机，但后者未经甲国生产商许可擅自将此产品销往丙国
B. 甲国某饮料生产商侵权乙国企业在乙国境内使用其品牌生产、销售饮料；后者未经许可将此饮料销往丙国
C. 甲国某家电生产商授权乙国厂商使用其商标生产彩电，乙国经销商未经后者许可从甲国进口该品牌彩电
D. 甲国一汽车制造商允许乙国某服装厂在T恤上使用其商标，该服装厂又以商价将T恤返销到甲国的市场
104. 税收中性原则是指国家征税应尽可能减少税收干扰或扭曲市场机制，不能超越市场而成为影响资源配置和经济决策的力量。
根据上述定义，下列选项运用到税收中性原则的是（ ）。
- A. 出台政策要求企业多纳税
B. 减免征收外资企业所得税
C. 税率不与收入水平相挂钩
D. 提高企业营业税的起征点
105. 行政执法证据是指行政机关在执法和查办案件过程中收集的物证、视听资料、电子证据等证据材料。
根据上述定义，下列属于行政执法证据的是（ ）。
- A. 某检察机关收集嫌疑人在场的证据
B. 某工商部门记录一网店销假的口供
C. 某公安机关接到嫌疑人行踪的举报
D. 某税务部门查获虚开的增值税发票

三、逻辑判断。每道题给出一段陈述，这段陈述被假设是正确的，不容置疑的。要求你根据这段陈述，选择一个答案。注意：正确的答案应与所给的陈述相符合，不需要任何附加说明即可以从陈述中直接推出。

请开始答题：

106. 某调查显示：82%的小学生每天都会上网，84%的每天都会使用QQ，78%的每天都会使用QQ空间，65%的每天都会使用微博。据此有人认为，小学生已从媒介被动的受众转变为积极的参与者和传播者。
- 如果以下各项为真，最能削弱上述论证（ ）。
- A. 小学生的QQ好友或微博关注对象大多限于同学
B. 大多数小学生每天上网时间被控制在半小时以内
C. 大多数家庭的电脑中都安装了学生上网监控软件
D. 大多数小学生使用QQ空间和微博只是浏览信息
107. 我国已经进入老龄化社会，老龄化不仅意味着人口老年负担系数不断提高，同时也意味着劳动投入的减少，面对我国老龄化这一不争事实，延迟退休年龄可以大大减缓劳动力总量的不足。
- 如果以下各项为真，最能削弱上述论证（ ）。
- A. 中国适龄劳动力存量正处于高峰期，大约有1亿适龄人口没有就业
B. 2012年我国60岁以上人口达1.8亿，占全球60岁以上人口的24%
C. 按照我国目前的老龄化进度，到2050年我国仍有劳动人口约7.1亿
D. 中国每年新增的1200万个就业岗位中，有超过30%来自于退休人员
108. 弓形虫是猫身上的单细胞寄生虫。有研究表明，受弓形虫感染的老鼠，其大脑掌控恐惧的区域会处于瘫痪状态，暴露在猫面前时也不感到恐惧。
- 由此可以推出（ ）。
- A. 弓形虫会损害老鼠的大脑
B. 弓形虫会使老鼠变得大胆
C. 猫将弓形虫用于诱捕老鼠
D. 猫与弓形虫形成共生关系
109. 伦敦奥运会前夕，曾经准确预测过奥运会大国获得奖牌总数的科学家们认为，奖牌总数与其说是一个体育问题，不如说是一个经济问题。英国在2012年伦敦奥运会上赢得的奖牌数将打破纪录，美国和中国应该会在今年继续取得成功，但俄罗斯、澳大利亚和德国今年极有可能感到失望。
- 由此可以推出（ ）。
- A. 奖牌榜前三位国有依次为美、中、英
B. 只要国家经济繁荣了，体育就能强盛
C. 2013年澳大利亚经济景气指数将走低
D. 近年来中国经济发展形势好于俄罗斯
110. 美国于1976年发生了注射疫苗导致更严重疫情的事件。在甲流盛行的时期，不少人认为，注射疫苗是一种危险行为，可是专家认为注射疫苗是一种有效的保护自己不受甲流传染的手段。专家观点的假设前提是（ ）。
- A. 与注射疫苗导致疫情发生的可能性相比，甲流对人的威胁更大
B. 1976年美国发生注射疫苗导致的严重疫情是由于注射过量所致
C. 甲流疫苗研发过程严谨，质量可靠，安全性受到权威专家认可
D. 与以往的季节性流感疫苗相比，甲流疫苗的质量标准并未降低
111. 植物甾醇具有和胆固醇相似的化学结构，在人体小肠中能够抑制胆固醇的吸收，从而可以有效防治冠心病等疾病，是食品中天然存在的一种微量活性成分。植物甾醇天然存在于水果、蔬菜、坚果及其他植物性食品中。有些人因此推出：

- ①某人得冠心病是因为他不爱吃水果；
- ②某人不得冠心病是因为他爱吃蔬菜；
- ③吃啥补啥，只要多吃富含植物甾醇食品就不得冠心病；
- ④缺啥补啥，缺少植物甾醇就多吃水果、蔬菜等植物性食品。

以上属于错误推论的是（ ）。

- A. ①②
- B. ③④
- C. ①②③
- D. ①②③④

112. 有研究表明，在使用试管婴儿技术治疗不孕不育前和治疗期间摄入炸薯条等富含饱和脂肪的食物将直接影响治疗的效果。

如果以下各项为真，最能支持上述观点的是（ ）。

- A. 人群中饱和脂肪摄入量高者，不孕率也高
- B. 饱和脂肪摄入量影响卵母细胞的接卵数量
- C. 饱和脂肪摄入量影响卵细胞的受孕成功率
- D. 炸薯条富含的饱和脂肪更容易被人体吸收

113. 东西伯利亚北极大陆架富含甲烷。当地球处于寒冷期时，这个大陆架成为一个冻结的北极沿岸平原，不向外渗漏甲烷，随着地球温度升高和海平面上升，这个大陆架被海水淹没。在深水区，甲烷氧化成二氧化碳，而后钻出海面。较浅水区，大量甲烷没有足够时间氧化，直接逃逸进大气层，在更大程度上影响全球气候。

如果以下各项为真，最能质疑上述论断的是（ ）。

- A. 东西伯利亚北极大陆架深水区甲烷的含量高于浅水区
- B. 最新研究表明东西伯利亚地区开始进入新一轮寒冷期
- C. 海水深度与甲烷氧化为二氧化碳之间不存在线性关系
- D. 最新研究表明甲烷造成的温度效应并不比二氧化碳大

114. 今天的中国，改革依然是人心所向。大势所趋。在新的历史时期，在现在成就基础上，经济社会要持续保持又好又快发展，就需要以更大的勇气、魄力和力度来推进改革。深化改革，只有这样，才能在用好机遇，化解风险中奋力闯出“深水区”，开创中国现代化的新境界。

由此可以推出（ ）。

- A. 不深化改革，就无法闯出改革的“深水区”
- B. 深化改革，可以闯出改革的“深水区”
- C. 无法闯出改革的“深水区”，是因为没有深化改革
- D. 闯出改革的“深水区”，就能深化改革

115. 研究发现，通过游戏孩子把自身的焦虑和担忧等情绪表达出来，并在游戏过程中学会解决冲突，体验自己的情绪，探索与他人相处的方式，逐渐了解身边的这个世界。

如果以下各项为真，最能削弱上述论断的是（ ）。

- A. 孩子们在游戏中受到挫折后往往倾向于逃避现实
- B. 孩子们并不喜欢与伙伴们一起分享玩具或者零食
- C. 经常玩游戏的儿童遇到陌生人时并不主动打招呼
- D. 孩子们玩游戏的时候，一定要有家长在身边陪护

四、类比推理。每道题先给出一组相关的词，要求你在备选答案中找出一组与之在逻辑关系上最为贴近，相似或匹配的词。

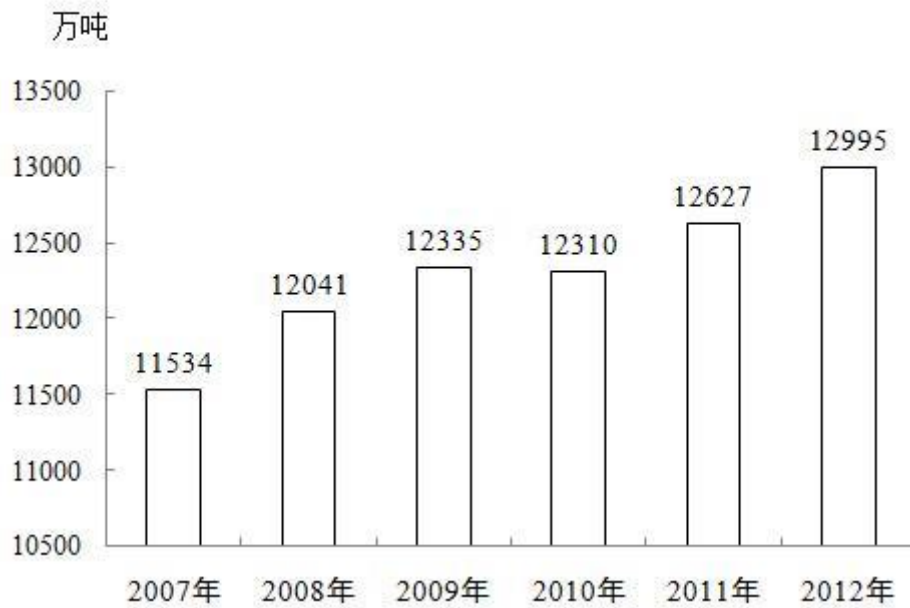
请开始答题：

116. 军事卫星 对于 （ ） 相当于 （ ） 对于 沙漏

- A. 狼烟；原子时钟
- B. 天空；北京时间
- C. 卫星；传统科技
- D. 探索；光阴似箭

117. () 对于 原子 相当于 车轮 对于 ()
- A. 夸克; 气缸
B. 库仑; 车速
C. 电子; 汽车
D. 核能; 火车
118. 田径 对于 () 相当于 文学 对于 ()
- A. 冠军; 作家
B. 短跑; 散文
C. 体育; 艺术
D. 篮球; 小说
119. () 对于 运动 相当于 手术 对于 ()
- A. 学习; 健康
B. 锻炼; 急救
C. 懒惰; 药物
D. 足球; 治疗
120. 竞争: 共赢
- A. 博弈: 和棋
B. 判决: 和解
C. 买卖: 互惠
D. 球赛: 平局
121. 旗舰店: 商店
- A. 黄金水道: 航线
B. 劳力士: 钟表
C. 总统套房: 标间
D. 金刚钻: 瓷器
122. 运动员: 兴奋剂
- A. 合同: 毁约
B. 医生: 误诊
C. 山寨: 制假
D. 裁判: 黑哨
123. 臭氧层: 气候变暖
- A. 偷猎: 物种灭绝
B. 森林: 水土流失
C. 干旱: 土地沙化
D. 酸雨: 水源污染
124. 妈妈: 舅舅: 外婆
- A. 姑姑: 叔叔: 奶奶
B. 侄女: 外甥: 外孙
C. 舅妈: 婶婶: 姨夫
D. 表妹: 堂弟: 姐姐
125. 卫星: 飞船: 航天
- A. 股票: 债务: 金融
B. 错层: 复式: 别墅
C. 预算: 结算: 决算
D. 移动: 联通: 电信

2007-2012 年全国夏粮产量



2012 年 11 个主产省（区）夏粮播种面积及总产量

	播种面积 (万公顷)	总产量 (万吨)
全国总计	2757.6	12995.4
河北	244.5	1353.1
山西	70.9	261.1
江苏	237.7	1143.5
安徽	245.9	1301.5
山东	362.7	2179.9
河南	536.7	3186.1
湖北	134.9	447.4
四川	181.3	587.6
陕西	128.7	472.5
甘肃	96.5	323.8
新疆	108.1	580

136. 2002 年全国夏粮产量约为 ()。

- A. 4107 万吨
- B. 12768 万吨
- C. 9875 万吨
- D. 17102 万吨

137. 河北、安徽、四川、新疆四个省（区）中，2012 年夏粮每公顷产量高于全国平均水平的省份有几个？ ()

- A. 1
- B. 2
- C. 3
- D. 4

138. 2012年11个主产省（区）夏粮播种面积约占全国播种总面积的（ ）。
 A. 52% B. 67%
 C. 71% D. 85%
139. 假如2013年我国夏粮产量增长率创6年以来的新高，则2013年产量预计（ ）。
 A. 在12995—13128万吨之间 B. 在13200万吨左右
 C. 不高于13314万吨 D. 高于13456万吨
140. 根据上述资料，下列说法错误的是（ ）。
 A. 2012年，11个主产省（区）夏粮增产量超过了全国增产总量
 B. 2011年安徽夏粮产量为1221.5万吨
 C. 与上一年相比，夏粮增长量最多的年份是2008年
 D. 2012年夏粮产量比2008年大约增加了2.8%

四、根据以下资料，回答问题。

21世纪头10年，金砖国家整体经济平均增长超过8%，远高于发达国家2.6%的平均增长率及4.1%的全球平均增长率，金砖国家在全球GDP中所占份额从2000年的17.0%提升到2010年的25.7%，且将继续提升。

2010—2011年金砖国家GDP与人口数概况

	2010年GDP (亿美元)	2011年GDP (亿美元)	2010年人口数 (万人)	2011年人口数 (万人)
巴西	21430	24808	19070	19200
俄罗斯	14870	18500	14191	14287
印度	16030	18392	118211	121000
中国	59310	73010	133787	134413
南非	3640	3750	4999	5000

2010—2011年金砖国家三次产业的GDP比重（%）

	2010年			2011年		
	第一产业	第二产业	第三产业	第一产业	第二产业	第三产业
巴西	5.30	28.10	66.60	5.50	27.50	67.00
俄罗斯	4.00	35.40	60.60	4.30	37.20	58.50
印度	21.60	23.70	54.70	19.10	26.30	54.60
中国	10.10	46.70	43.20	10.10	46.80	43.10
南非	11.80	21.00	67.20	12.10	20.80	67.10

141. 2000—2010年金砖国家的GDP总量占全球份额提升了（ ）。
 A. 8.7个百分点 B. 17.0个百分点
 C. 25.7个百分点 D. 42.7个百分点
142. 2010年全球GDP总量约为（ ）。
 A. 30.50万亿美元 B. 44.86万亿美元
 C. 53.88万亿美元 D. 67.80万亿美元
143. 2010年金砖国家中人均GDP超过1万美元的国家有（ ）。

- A. 1个
B. 2个
C. 3个
D. 4个
144. 2011年，金砖国家中第三产业 GDP 规模最大的是（ ）。
- A. 巴西
B. 俄罗斯
C. 南非
D. 中国
145. 能够从上述资料推出的是（ ）。
- A. 2011年中国 GDP 超过金砖国家总量的 50%
B. 金砖国家中第三产业占比高，人均 GDP 也相应高
C. 2011年世界人口增速最快的国家是印度
D. 2020年金砖国家 GDP 将占到全球的 50%