

第一部分 常识判断

根据题目要求，在四个选项中选出一个最恰当的答案。

请开始答题：

1. 克隆技术属于生物技术中的（ ）。
A. 细胞工程
B. 化学工程
C. 系统工程
D. 遗传工程
2. 光年是（ ）计量单位。
A. 时间
B. 长度
C. 体积
D. 质量
3. 以下园林建筑中，不属于皇家园林的是（ ）。
A. 承德避暑山庄
B. 颐和园
C. 圆明园
D. 拙政园
4. 被称之为“书圣”的我国著名书法家王羲之的代表作《兰亭序》的书体是（ ）。
A. 隶书
B. 楷书
C. 行书
D. 草书
5. 下列选项中，属于公务员应当具备的条件是（ ）。
A. 具有身份证、军民证或护照
B. 年满 20 周岁，且无犯罪记录
C. 男性身高 170cm 以上，女性身高 165cm 以上
D. 具有良好的品行
6. 当今随着信息技术的飞速发展，人们对光存储容量的要求不断提高，下列哪个光存储技术是目前最先进的（ ）。
A. CD
B. DVD
C. Laser Disk
D. Blu—Ray Disc（蓝光 DVD）
7. 下列不属于网页浏览器的是（ ）。
A. Internet Explorer
B. Firefox
C. Foxpro
D. Chrome
8. 2008 年 9 月 8 日山西省襄汾县发生了重大事故，造成重大人员伤亡，山西省省长为此引咎辞职，该事故是（ ）。
A. 煤矿瓦斯爆炸事故
B. 水库决口事故
C. 尾矿库溃坝事故
D. 火灾事故
9. 春夏秋冬四季的循环往复变化使得地球景观绚丽多彩，这是大自然赋予地球的珍贵礼物。然而四季这个礼物似乎分配不公，地球上只有温带才有明显的四季变化，而寒带和热带则是长冬无夏和长夏无冬。其原因是（ ）。
A. 地球绕太阳公转时地轴和公转轨道有一定的夹角所致
B. 寒带的冰雪太多无法构成
C. 热带的地形地貌构成使之不易散热
D. 是由地球自转引起的
10. 对于夏季防雷常识，下列选项中论述正确的是（ ）。
A. 遇到雷雨时，人们应尽快进入室内，打开窗户通风，并尽快通过电视、电脑或收音机了解此次雷雨的相关信息
B. 汽车金属外壳易导电，所以在汽车上遇到雷雨时，应尽可能跑出汽车避雷

C. 在游泳池或河边遇到雷雨时，可以跳入水中，因为有水的保护，雷难以直接打到人身上，所以在水中较为安全

D. 切勿站在山顶、楼顶，不宜把羽毛球拍、高尔夫球杆等扛在肩上

11. 我国地质调查局认定，2008年5月12日发生在四川汶川的地震，其产生的主要原因是（ ）。

A. 印度洋板块向亚洲板块俯冲，造成青藏高原快速隆升

B. 亚洲板块向印度洋板块俯冲，造成青藏高原快速隆升

C. 印度洋板块与太平洋板块激烈碰撞所致

D. 亚洲板块与太平洋板块激烈碰撞所致

12. 福建省首条经“小三通”口岸赴台湾旅游的线路是（ ）。

A. 厦门——金门——台北

B. 厦门——澎湖——高雄

C. 福州——香港——台北

D. 福州——澎湖——马祖——台北

13. 我国现行宪法规定（ ）。

A. 社会主义的公有财产不可侵犯。公民的私有财产不受侵犯。

B. 中华人民共和国的公有财产神圣不可侵犯。公民的私有财产不受侵犯。

C. 社会主义的合法的公有财产神圣不可侵犯。公民的私有财产不受侵犯。

D. 社会主义的公有财产神圣不可侵犯。公民的合法的私有财产不受侵犯。

14. 下列属于犯罪中止的是（ ）。

A. 已经着手实行犯罪但犯罪未发生

B. 在犯罪过程中，自动有效地防止犯罪结果发生

C. 在犯罪过程中，由于行为人意志以外的原因犯罪结果未发生

D. 行为人为实施犯罪而准备了工具，但没有着手实施犯罪

15. 某市机要局向K公司购买办公用品（手提电脑10台）后发现质量问题，现该局依法向K公司索赔，其所依之法是（ ）。

A. 行政法

B. 民法

C. 经济法

D. 宪法

16. 依我国《继承法》，关于遗嘱继承与法定继承的关系，正确的选项是（ ）。

A. 遗嘱继承优先于法定继承

B. 法定继承优先于遗嘱继承

C. 遗嘱继承与法定继承无所谓谁优先

D. 遗嘱继承与法定继承不相干

17. 发明专利权与实用新型和外观设计专利权的期限不同，其正确的选项是（ ）。

A. 前者为20年，后者为10年

B. 前者为10年，后者为20年

C. 前者后者均为10年

D. 前者后者均为20年

18. 下列选项中，不属于阶级社会中关于法律与道德的共同点的是（ ）。

A. 都是社会规范

B. 都具有阶级性

C. 约束范围都相同

D. 都是治国途径

19. 依我国《民法通则》，关于委托书授权不明的民事责任，正确的选项是（ ）。

A. 由代理人向第三人承担民事责任

B. 被代理人应当向第三人承担民事责任，代理人负连带责任

C. 代理人应当向第三人承担民事责任，被代理人负连带责任

D. 由被代理人承担民事责任

20. 对下列政府行为提起行政诉讼，人民法院依法不能受理的是（ ）。

A. 县公安局违反《治安管理处罚法》规定对某人滥用处罚权

B. 县政府制定某商品禁售的文件

- C. 专利权未到期限被县政府专利主管部门取消专利权
D. 县工商局违反法规收取管理费
21. 党的十六大报告提出了“四个尊重”，其核心是（ ）。
- A. 尊重劳动
B. 尊重知识
C. 尊重人才
D. 尊重创造
22. “鸟鸣山更幽”包含的哲理是（ ）。
- A. 静止的绝对性与运动的相对性
B. 运动的相对性
C. 静止的绝对性
D. 静止的相对性与运动的绝对性
23. 唯物辩证法的实质与核心是（ ）。
- A. 对立统一规律
B. 否定之否定规律
C. 质量互变规律
D. 规律的客观性
24. 宗教与哲学的共同点在于（ ）。
- A. 是“科学之科学”
B. 是理论化、系统化的世界观
C. 是麻醉人们的精神鸦片
D. 是社会意识形态
25. 被誉为意大利文艺复兴时期“三杰”的是（ ）。
- A. 达·芬奇、米开朗基罗、拉斐尔
B. 达·芬奇、泰戈尔、拉斐尔
C. 莎士比亚、达·芬奇、但丁
D. 米开朗基罗、拉斐尔、托尔斯泰
26. “塞翁失马，焉知非福”的典故出自（ ）。
- A. 《左传》
B. 《淮南子·人间训》
C. 《史记》
D. 《论语》
27. 中国近代洋务运动的关键人物是（ ）。
- A. 李鸿章 陈独秀
B. 李鸿章 曾国藩
C. 容闳 孙中山
D. 光绪 袁世凯
28. 人的本质在其现实性上是一切社会关系的总和，就个人与社会的关系上看，人的价值在于（ ）。
- A. 实现马斯洛理论中第五层次的需求
B. 个人对社会的尊重与满足
C. 社会对个人的尊重与满足以及个人对社会的责任与贡献
D. 社会对个人的责任与贡献以及个人对社会的尊重与满足
29. 航空界有个关于飞行安全的“海恩法则”，每一起严重事故的背后，必然会有 29 次轻微事故和 300 起未遂先兆及 1000 起事故隐患。“海恩法则”启示我们（ ）。
- A. 规律是客观的，我们要善于发现和利用规律
B. 量变是质变的前提，质变是量变的必然结果
C. 矛盾是普遍的、客观的
D. 只要注意防范，事故是可以避免的
30. 以下关于福建相关问题的描述不准确的选项是（ ）。
- A. 福建土楼造型独特，规模宏大，结构奇巧。由永定、南靖、华安的“六群四楼”共 46 座土楼组成的福建土楼群，于 2008 年被联合国教科文组织列入《世界遗产名录》
B. 为了全面推进海峡西岸经济区建设，提供源源不断的项目支撑，福建省每年 6 月 18 日在厦门举办中国海峡项目成果交易会（简称“6·18”）。这是一个项目、资本、技术、人才集聚的平台，通过对接，推动项目成果向现实生产力转化

C. 1907年7月福建省第一条铁路漳厦铁路动工；1958年投入运营的鹰厦铁路，是福建省首条出省铁路；在建的福厦高速铁路是我国铁路中长期规划“八纵八横”主通道沿海快速铁路的重要组成部分

D. 福建省委提出的推进海峡西岸“两个先行区”建设，就是要努力把海峡西岸经济区建设成为科学发展的先行区、两岸人民交流合作的先行区

第二部分 言语理解与表达

本部分包括表达与理解两方面的内容。请根据题目要求，在四个选项中选出一个最恰当的答案。

请开始答题：

31. 下面加点字注音完全正确的一项是（ ）。
- A. 忍俊不禁（jìn） 精神抖擞（sǒu） B. 人迹罕至（hǎn） 鞠躬尽瘁（chù）
C. 孜孜不倦（zī） 惴惴不安（zhuì） D. 参差不齐（chī） 锲而不舍（qiè）
32. 这条商业街位于繁华的市中心，开张以来，生意一直很好，人流如潮，_____。
填入画横线部分最恰当的一项是（ ）。
- A. 车水马龙 B. 纷至沓来
C. 络绎不绝 D. 接踵而来
33. 在有关科学实践中，没有使用_____的仪器，经过_____的调查，进行_____的论证，往往很难得出正确的结论。
填入画横线部分最恰当的一项是（ ）。
- A. 周密 严密 细密 B. 精密 周密 细密
C. 细密 严密 周密 D. 精密 周密 严密
34. 面对“限塑令”，书店可以推出多次循环使用的环保购书袋以提升书店在读者心目中的形象，还可以推出一系列其他环保时尚的文化产品，为书店营销带来新的热点和卖点。
以下最能准确表达作者观点的是（ ）。
- A. “限塑令”对书店来说，是一次考验
B. “限塑令”给书店带来了商机
C. 书店可利用环保购书袋拓展增加利润的空间
D. 面对“限塑令”，书店可以充分发挥行业优势，化被动为主动
35. 某些病毒毫无疑问能引起癌症。可是，有一些儿童期的癌症却可能是由于在生命早期接触感染过少而引起的。
作者想要表述的观点是（ ）。
- A. 儿童期接触病毒可能引发癌症 B. 生命早期接触病毒会引发成年时癌症
C. 儿童期适当接触病毒可能增强免疫力 D. 某些病毒能够引起癌症
36. 长期以来，中国队在乒乓球比赛中一直占有绝对优势，或者说独大。这种局面持续的时间之长，已经让很多人感觉乒乓球成了一项中国人自己和自己玩的运动，虽然水平很高，但大大降低了观众看比赛的归属感和竞争心态。
这段话的主要观点是（ ）。
- A. 乒乓球比赛中国队一直占有绝对优势
B. 乒乓球成了一项中国人自己和自己玩的运动
C. 中国队在乒乓球项目上的绝对优势降低了观众看比赛的兴趣
D. 世界各国观众对乒乓球比赛日渐缺乏兴趣
37. 在她走马上任时，全球第一所“孔子学院”在韩国首尔刚刚挂牌。而到2008年初，已有210多所“孔子学院”在60多个国家相继建立。此时，距离提出在全球建立100所“孔子学院”的五年目标，刚刚过去三年。
这段话的主要观点是（ ）。
- A. 她上任后，工作业绩显著 B. 近年来，孔子学院发展迅速

- C. 她上任后，孔子学院发展迅速 D. 孔子学院超规划发展
38. _____。历史证明，哪怕是最有效率的万能政府，实际上也不可能全面介入管理每一个家庭或者宗族的具体生活，正如大脑不能指挥身上的每一个细胞的具体活动一样。
- 填入上面横线的句子，与上下文衔接最恰当的一项是（ ）。
- A. 家庭是国家和社会的细胞 B. 人类历史的发展和家庭是分不开的
C. 家和万事兴 D. 正是一个个不起眼的家庭组成了大社会
39. 天文学家认为，整个地球都是由环绕早期太阳的尘埃造就的，太阳系中的固态物质概莫如此。_____？这一直是个未解之谜。
- 填入上面横线的句子，与上下文衔接最恰当的一项是（ ）。
- A. 那么，固态物质又从哪里来呢 B. 但是，尘埃本身又从哪里来呢
C. 天文学家的观点可靠吗 D. 为什么天文学家这样看呢
40. 改造创新后的孝德，与“文化糟粕”截然不同，理应属于民族优秀文化传统范畴，在高校德育内容中完全应占有一席之地。_____。例如，可通过专题讲座、主题班会等活动，让大家直接参加孝文化的讨论，增进对孝德教育的理性认同。
- 填入上面横线的句子，与上下文衔接最恰当的一项是（ ）。
- A. 那么，可以采取哪些方式进行呢
B. 因此，应在开展大学生德育工作中加入孝德元素，使之参与育人过程
C. 在高校进行孝德教育的形式可以是多种多样的
D. 但是，只有丰富多彩的教育形式才能收到好的成效
41. 下列选项中，没有错别字的是（ ）。
- A. 他一下车，歌迷们便蜂涌而上，争相拍摄，请求签名
B. 登上天安门城楼，他浮想连翩，热泪夺眶而出
C. “熵”是表现系统内部无序和混乱程度的量度，其降低表明系统的进化和有序
D. 由于当前国际能源价格不断飙升、全球环境与气候问题突显，该文件将对中美未来经济合作具有重大影响，也将为全球可持续发展做出贡献
42. 下列选项中，没有错别字的是（ ）。
- A. 他躺在床上，翻来复去睡不着
B. 每到周末，这条街道便人来人往，穿流不息
C. 多年来他刻苦自学、勇于探索，并能吸取各家所长，融汇贯通，形成自己的风格
D. 有的书法家在书写时采用方折瘦硬的笔法以追求“铜铸气”，以颤抖生涩求“铜蚀斑锈气”
43. 下列选项中，没有语病的是（ ）。
- A. 我们知道，魏晋人在思想上崇尚放任、崇尚自由，因此其文学、艺术、哲学皆能彰显个性。然而在政治上，魏晋时期则为典型的衰世
B. 汉末之王充思想，是批评阴阳五行、天人感应及是古非今思想的代表人物
C. 意志坚强的人们绝不会因为暂时的挫折影响了他对获得最后胜利的信心
D. 《礼记》是从先秦至西汉关于《仪礼》解说、发挥的文字汇集，是我国秦汉以前的社会生活史和生活习俗、礼仪制度、人生经验
44. 下列选项中，有语病的是（ ）。
- A. 过于技术化的倾向使得许多学者尤其是研究生只知道分类与统计，却不肯认真地阅读文学文本和下艰苦的思辨功夫，从而往往把问题简单化了

B. 课程改革的合理性,是指对课程改革活动的一种价值定位和预期,也是根据某种理论或事实的标准与尺度对课程改革活动所做的价值判断和分析

C. 近年来大豆净进口量激增是我国粮食贸易结构最为始料不及的

D. 自汉字传入日本,随着汉籍的传入,如《论语》、《孝经》等,其承载的文化思想已经潜移默化地浸入大和民族的灵魂之中

45. 我们必须始终(坚定不移)地高举邓小平理论伟大旗帜,进行社会主义建设。

下列选项中,最适合用来替换括号内词语的是()。

A. 不折不扣

B. 坚持不懈

C. 毫不动摇

D. 不屈不挠

46. 中国制造业规模迅猛扩张并成为全球产业链中(不可或缺)的重要组成部分。

下列选项中,最适合用来替换括号内词语的是()。

A. 缺一不可

B. 必不可少

C. 独一无二

D. 举足轻重

47. 下列选项中,没有歧义的是()。

A. 我们需要相信自己的人

B. 三个教育局的领导听了他的课

C. 请你告诉他要早一点回家做作业

D. 小明和小军的哥哥在操场上踢足球

48. 下列选项中,没有歧义的是()。

A. 他已经走了三个小时了

B. 我们在楼顶看见他了

C. 小王去打针了

D. 我们要一分为二地看待收入差距这个问题

49. 电脑的出现,在很大程度上改变了我们的生活。坐在电脑前打字、浏览,越来越多地替代了提笔写字、捧书阅读。但电脑在带来便捷的同时,也对传统文化造成了强大的冲击,即便是一些优秀的传统文化也离我们渐行渐远。书法是中华文化的瑰宝,是民族精神的体现,但在电脑面前,练习毛笔字的群体正在萎缩,充满魅力的书法作品也正逐渐淡出人们的视野。保护传统文化、保护书法艺术刻不容缓。

下列选项中,最适合做本段文字标题的是()。

A. 电脑时代保护书法艺术刻不容缓

B. 即便在电脑时代也应让书法传承下来

C. 电脑时代传统文化一定不能淡出

D. 电脑时代学习书法就是继承民族精神

50. 研究证明,血液中脂肪蛋白含量的增多,会增强人体组织吸收过多的胆固醇。一些人通过体育锻炼和减肥,能够明显增加血液中脂肪蛋白的含量。

根据这段文字,我们可以推出最恰当的结论是()。

A. 有些人通过体育锻炼降低了血液中的胆固醇,这些人一定是胖子

B. 不经常进行体育锻炼的人,特别是胖子,血液中出现高胆固醇的风险最大

C. 体育锻炼和减肥是降低血液中高胆固醇的最有效办法

D. 有些人通过体育锻炼和减肥来降低血液中的胆固醇

51. 由于信息高速公路上信息垃圾问题越来越严重,网络专家们不断发出警告:如果我们不从现在开始就重视预防和清除信息高速公路上的垃圾,那么总有一天信息高速公路将无法正常运行。

在下列语句中,意义最接近网络专家警告的是()。

A. 总有那么一天,信息高速公路不再能正常运行

B. 只要从现在开始重视信息高速公路上信息垃圾的预防和清除,信息高速公路即可预防无法正常通行的后果

C. 只有从现在就开始重视信息高速公路上信息垃圾的预防和清除，信息高速公路才可能预防无法正常通行的后果

D. 信息高速公路如果有一天不再能正常通行，一定是因为我们没有从现在起就重视信息高速公路上信息垃圾的预防和清除

52. 一种观点认为：一个国家如果能够有效地运作经济，就一定能够创造财富而变得富有；而这样的一个国家要想保持政治稳定，它所创造的财富必须得到公正的分配；而财富的公正分配将减少经济风险；但是，经济风险的存在正是经济有效运行不可或缺的先决条件。

下列选项中，对这段文字理解正确的是（ ）。

- A. 一个国家政治上的稳定和经济上的富有不可能并存
- B. 一个国家政治上的稳定和经济上的有效运作不可能并存
- C. 一个富有国家的经济运作一定是有效率的
- D. 在一个经济运作无效率的国家中，财富一定会得到公正的分配

53. 一项调查显示：所有的桥牌爱好者都爱好围棋；有些围棋爱好者爱好武术；所有武术爱好者都不爱好健美操；有些桥牌爱好者同时爱好健美操。

下列选项中，对这段文字理解无误的是（ ）。

- A. 有的围棋爱好者也爱好桥牌
- B. 有的桥牌爱好者爱好武术
- C. 有的桥牌爱好者不爱好健美操
- D. 围棋爱好者都爱好健美操

54. 语言是语言科学的实验材料。濒危语言蕴藏着罕见的语言特征，可供语言研究的内容深奥而丰富。由于我们对语言研究的历史还十分短暂，对语言的了解还十分肤浅，所以每一种语言的消失都会带走语言学信息，使我们失去一个理解语言本质的机会，失去一个研究的样本，这意味着我们将更难了解语言的真谛。

这段文字的主旨是（ ）。

- A. 语言是语言科学的研究材料
- B. 濒危语言蕴藏着丰富的语言特征
- C. 濒危语言的消失将是语言科学研究不可挽回的损失
- D. 要全力拯救濒危语言

55. 研制大型飞机投资大、周期长，不确定因素多，是一项极其复杂的系统工程，面临许多风险和困难，任务十分艰巨。要生产安全可靠、具有市场竞争力的大型飞机，并实现产业化，需要我们做许多艰苦细致的工作。

作者接下来最有可能强调的是（ ）。

- A. 研制大型飞机的投资和周期
- B. 研制大型飞机的工程复杂性
- C. 如何实现大型飞机的收支平衡，并最终实现盈利
- D. 如何做好研制大型飞机有组织的实施工作

56. 在一次商业谈判中，甲方代表说：“根据以往贵公司履行合同的情况，有的产品不具备合同规定的要求，我方蒙受了损失，希望以后类似的情况不再发生。”乙方代表回应道：“履约时出现质量问题，按规定可以退回或求偿，贵公司当时既没退货，也未提出求偿要求。这究竟是怎么回事？”

在这段文字中，乙方代表的回答实际上要表达的意思是（ ）。

- A. 甲方企图要乙方赔偿上次合同的损失
- B. 甲方说乙方有的产品不符合要求，但无证据
- C. 甲方因为宽容，已经损失了追究乙方违约责任的时机

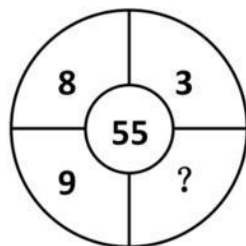
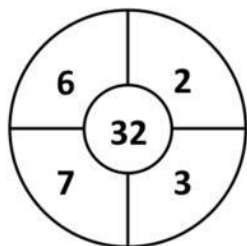
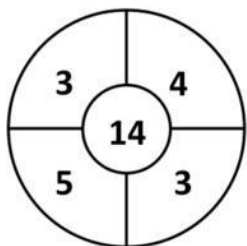
- D. 甲方为了在这次谈判中增加谈判的筹码，故意指责乙方以往有违约行为
57. 近年来，不少公司竞相开发“训练大脑”的游戏软件，市面上已有几十种益智游戏软件。尽管这类软件说明书写得五花八门，但涉及其功能时不外乎强调两点：“增强诸如注意力、记忆力和信息处理速度等大脑功能”；“减缓大脑随年龄增长而不可避免的功能下降的速度”。几乎所有的这类公司，都声称其游戏软件程序是根据最新科研成果而设计的。
这段文字意在强调（ ）。
- A. 益智游戏软件的开发即将成为一个新兴的行业
B. 益智游戏软件的开发是以最新科学研究为理论依据的
C. 益智游戏软件的开发将大大提高人的智商，应加快推广
D. 益智游戏软件的开发，作为一个新生事物，其科学性值得研讨
58. 社区是社会的基本构成单位，“和谐社区”是构建和谐社会主义的重要基础。要把“和谐社区”建设纳入社区发展的战略规划，以科学发展观为指导，按照“保障生产、服务生活、维护稳定”的职能定位，积极构建全方位、立体化、深层次的和谐社区创建体系，努力建设以“舒适的居民环境，温馨便捷的优质服务，安全稳定的社会秩序，健康文明的生活方式，团结协作的共建氛围，竞相迸发的发展活动”为基本特征的和谐社区。
这段文字的意思不包括（ ）。
- A. 构建“和谐社区”的重要意义
B. 构建“和谐社区”的主要思路
C. “和谐社区”的基本特征
D. “和谐社区”的基本结构
59. 通过寄生方式繁衍后代的黄蜂，能在适合自己后代寄生的各种昆虫的大小不同的虫卵中，注入恰好数量的卵。如果它在宿主的卵中注入的卵过多，它的幼虫就会在互相竞争中因为得不到足够的空间和营养而死亡；其幼虫中注入的卵过少，宿主卵中多余的营养就会腐败，这又会导致其幼虫死亡。
根据上段文字，我们可以推断出（ ）。
- A. 在黄蜂的寄生繁衍机制中，黄蜂应具备准确区分宿主虫卵大小的能力
B. 黄蜂在虫卵较大的昆虫区出现的数量多，在虫卵较小的昆虫区出现的数量少
C. 黄蜂在昆虫中注入过多的虫卵要比注入过少的虫卵更易引起寄生幼虫死亡
D. 黄蜂卵大小决定黄蜂幼虫的存活率的高低
60. 粮食安全问题已经成为我国政府和社会关注的一个重点。从国际背景看，受美国“次贷”危机等影响，以股票、房地产为代表的资产价格在全球范围内都在快速下跌。因为股票与房地产市场的下挫，全球范围内规模巨大的热钱把投机重点转到石油、粮食上，导致石油和粮食这两项影响人类衣食住行的商品价格不断上涨。从国内看，今年我国夏粮丰收后，粮价继续在低价位徘徊，同国际市场的价差加大。与此同时，我国蔬菜、猪肉及许多材料的价格都在上涨，唯有粮食价格没有明显上涨。我国现有的粮食价格体系一旦“失守”，将直接影响我国经济的正常运行和社会稳定。
不符合这段文字思想的是（ ）。
- A. 国内外市场的粮食价差及其扩大，是影响我国粮食安全的一个潜在因素
B. 美国“次贷”危机，对我国粮食安全形成了威胁
C. 国际热钱窥视中国粮食市场，将使我国粮食安全面临严峻挑战
D. 大幅度提高国内粮食价格，缩小国内外价差，是我国应对全球粮食危机的重要策略

第三部分 数量关系

在这部分试题中，每道题呈现一段表述数字关系的文字，要求你迅速、准确地计算出答案。

请开始答题：

61. 1, 2, 6, 15, ()
 A. 19
 B. 24
 C. 31
 D. 27
62. $\frac{2}{7}, \frac{3}{8}, -\frac{1}{7}, -\frac{3}{16}, (), \frac{3}{32}$
 A. $\frac{3}{7}$
 B. $\frac{3}{14}$
 C. $\frac{2}{19}$
 D. $\frac{1}{14}$
63. $2.7, 10^2, 4.2, 10^3, 5.7, 10^5, 7.2, 10^7, (), ()$
 A. $8.7, 10^9$
 B. $8.3, 10^9$
 C. $8.7, 10^{11}$
 D. $8.3, 10^{11}$
64. $\frac{1}{2}, \frac{1}{6}, \frac{1}{12}, \frac{1}{20}, ()$
 A. $\frac{1}{24}$
 B. $\frac{1}{28}$
 C. $\frac{1}{30}$
 D. $\frac{1}{40}$



65.
 A. 11
 B. 2
 C. 4
 D. 5
66. 三位数的自然数 P 满足：除以 7 余 2，除以 6 余 2，余以 5 也余 2，则符合条件的自然数 P 有 ()。
 A. 2 个
 B. 3 个
 C. 4 个
 D. 5 个
67. 一项工程原计划 450 人 100 天完成，现在需要提前 10 天，需要增加的人数是 ()。
 A. 45
 B. 50
 C. 55
 D. 60
68. 调查发现，男女生各半的一个 100 人的班，20% 患有色盲症，其余正常；如果女生有色盲 5 人，则正常男生的人数是 ()。
 A. 15
 B. 30
 C. 35
 D. 40
69. 假设一条路上每隔 10 公里就有一个自然村，共有 5 个自然村，依次在一至五号这 5 个自然村收购粮食重量为 10 吨、15 吨、20 吨、25 吨、30 吨；现要选一自然村设立临时粮站来贮存粮食，已知每吨粮食运输费为 0.5 元/公里。要让运输费用最少，则临时粮站应选在 ()。
 A. 五号
 B. 四号

C. 三号

D. 二号

70. 某项射击资格赛后的统计表明，某国四名运动员中，三名运动员的平均环数加上另一运动员的环数，计算后得到的环数分别为：92、114、138、160，则此国四名运动员资格赛的平均环数是（ ）。

A. 63

B. 126

C. 168


D. 252

第四部分 判断推理

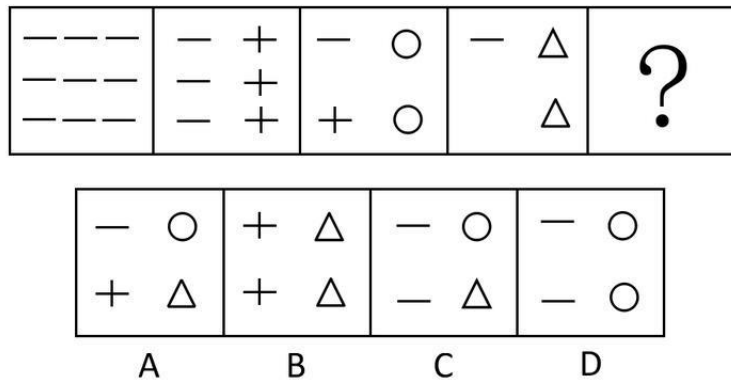
一、图形推理。请按每道题的答题要求作答。

请开始答题：

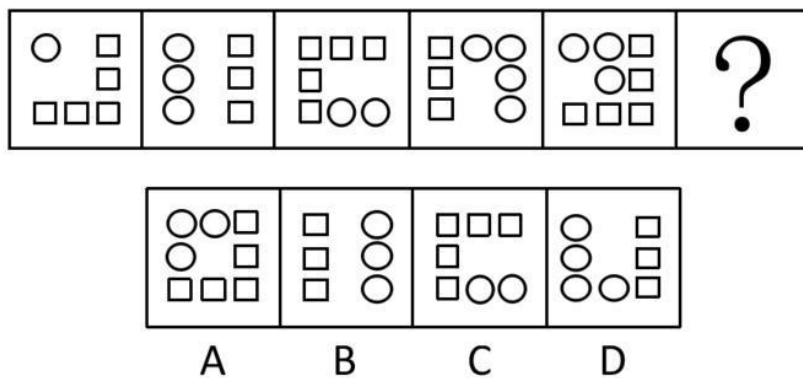
71. 从所给的四个选项中，选择最合适的一个填入问号中，使之呈现一定的规律性（ ）。



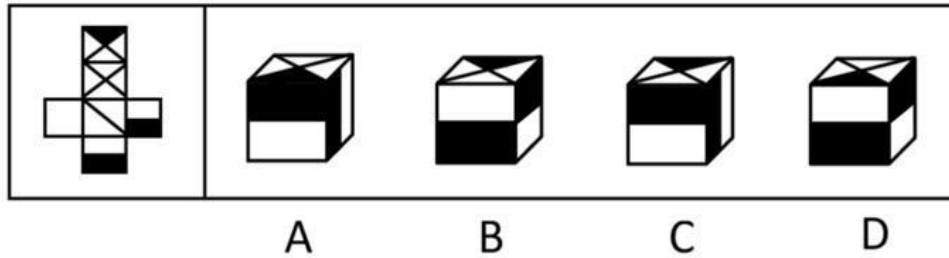
72. 从所给的四个选项中，选择最合适的一个填入问号中，使之呈现一定的规律性（ ）。



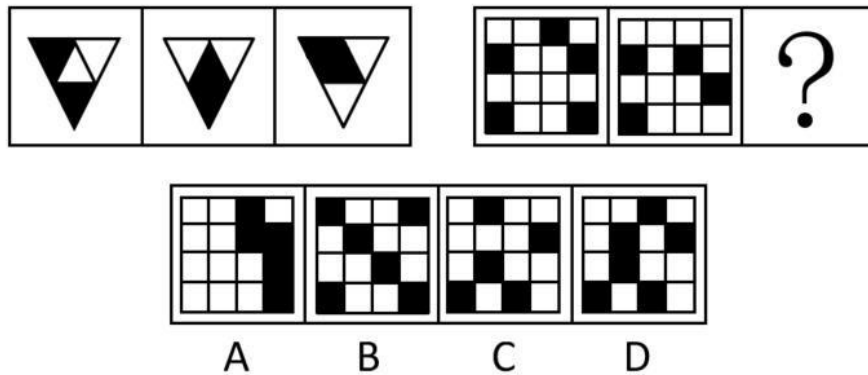
73. 从所给的四个选项中，选择最合适的一个填入问号处，使之呈现一定的规律性（ ）。



74. 左边给定的是纸盒的表面展开图，右边哪一项能由它折叠而成？（ ）



75. 从所给的四个选项中, 选择最合适的一个填入问号中, 使之呈现一定的规律性 ()。



二、定义判断。每道题先给出定义, 然后列出四种情况, 要求你严格依据定义, 从中选出一个最符合或最不符合该定义的答案。注意: 假设这个定义是正确的, 不容置疑的。

请开始答题:

76. 因果型预测方法, 是指依据事物运动变化的因果关系, 由已知原因的“脉络”估测未来结果的一种预测方法。

根据上述定义, 下列选项中运用了因果型预测方法的是 ()。

- A. 小明的成绩在班级成绩中一直名列前茅, 一定是品学兼优的好学生
- B. 秋粮已连续三年丰收, 根据前一阶段的农业气象条件、平均亩穗数、病虫害发生面积等数据综合分析, 本年度应该是一个丰收年

C. 河流清澈见底, 说明河水中没有暗涌

D. 凡是本届奥运会没有获得奖牌的运动员都没有努力训练

77. 行政决策, 是指行政机关和行政领导者在处理政务时, 从公共利益和公平公正原则出发, 依照法律和有关规定所作出的决定性的行政行为。

根据上述定义, 下列选项中不属于行政决策的是 ()。

- A. 五平镇政府为降低能耗, 制定了关于改变居民家居取暖燃料结构的详细实施办法
- B. 某项国家重点工程项目需占用某市农民土地, 市政府为此制定了征用农民土地的政策
- C. 针对能否收取开瓶费等问题, 江苏省苏州市消费者协会、苏州餐饮业商会共同制定《苏州市规范餐饮业经营行为办法》

D. 1997 年亚洲金融风暴危机中, 为继续保持稳定的汇率政策, 防止亚洲国家陷入新一轮金融动荡, 中国政府公开做出人民币不贬值的承诺

78. 危机管理策划, 是指为防止爆发危机或者危机发生后为减少、消除危机带来的风险与损失, 通过策划手段使人更有效地掌握事物和社会舆论的一些办法与措施的综合过程。

根据上述定义, 下列选项中不属于危机管理策划的是 ()。

- A. 得知台风即将登陆, 当地政府发出禁止渔民出海的紧急通知

- B. 为防止比赛中发生不测，事先预备了足够的水、急救设备并配备医护人员
- C. 企业出现危机，迅速拍卖名下部分资产，获取了流动资金，避免了破产
- D. 房屋突然坍塌，小刘由于身材矮小，加之跑得快，在缝隙中躲过一劫
79. 侧向思维方法，是指利用其他领域的观念、知识或方法来寻找解决本领域某个问题的可能途径和思路的一种方式。
- 根据上述定义，下列选项中没有运用侧向思维方法的是（ ）。
- A. 格拉塞通过观察啤酒冒泡的现象，提出了汽泡室的设想
- B. 鲁班由茅草的细齿刮破手指而发明了锯
- C. 奥地利的医生奥恩布鲁格，受到凭敲酒桶叩击声就能知道桶内有多少酒的启发，想出以“叩诊”的方法诊断人体胸腔中是否有积水
- D. 居里夫人根据实验室中看到的蓝光，发现了天然放射性元素镭
80. 商业贿赂行为，是指经营者在市场交易活动中，为争取交易机会，特别是为获得相对于竞争对手的市场优势，通过秘密给付财物或者其他报偿等不正当手段收买客户的负责人、雇员、合伙人、代理人和政府有关部门工作人员等能够影响市场交易的有关人员的行为。
- 根据上述定义，下列选项中属于商业贿赂行为的是（ ）。
- A. 某建筑商出资 100 万元建立孤儿院，树立良好社会形象，后来在市政府项目招标中中标
- B. 政府官员小王为其同学优先办理项目审批手续
- C. 医生李某高价购进国外医疗设备，提供设备的厂商为李某国外读书的女儿免费提供一年食宿
- D. 某品牌啤酒厂商在商场为其啤酒并不存在的功效做宣传
81. 技术转移，是指技术成果从一个企业、一个机构转移到其他企业、机构的活动。大范围的技术转移就形成技术扩散。
- 根据以上的定义，下列不是技术转移的是（ ）。
- A. F 公司的一个部门负责人把一些经验传授给新加入的同事
- B. S 大学的一个实验室最近通过研究开发出一种节能的新技术，他们把这一技术有偿地转让给了 D 企业
- C. P 公司通过出售、或是授权转让专利或其他知识产权、技术给其他公司
- D. 知识从产生知识的地方向使用知识的地方转移
82. 暗示效应，是指在无对抗的条件下，用含蓄、抽象诱导的间接方法对人们的心理和行为产生影响，从而诱导人们按照一定的方式去行动或接受一定的意见，使其思想、行为与暗示者期望的目标相符合。
- 根据上述定义，下列选项中属于没有产生暗示效应的是（ ）。
- A. 课堂上同学们仍在讨论课间的话题，正在讲课的老师停了下来，教室里立刻鸦雀无声
- B. 70 多岁的张奶奶一个劲儿念叨着“我孙子快回来了”，没过多久，孙子果然回来看望她
- C. 森林里，老猎户一声不响地走着，大家紧随其后
- D. 自从班主任在班会上表扬小红学习进步快之后，小红学习更加努力了
83. 无公害蔬菜，是指应用微生物农药、农用抗生素等生物防治措施及高效低毒、低残留的化学农药综合防治蔬菜病虫害，使农药残留量低于国家规定允许食用标准的蔬菜。
- 根据上述定义，下列选项中说法正确的是（ ）。
- A. 无公害蔬菜必须使用微生物农药
- B. 农用抗生素允许使用
- C. 化学农药只要高效低毒就可以使用

D. 无公害蔬菜可放心食用，绝对不会对身体有一点伤害

84. 绿色科技，是指以提倡文明的生活方式和适度的消费方式，强调自然资源的合理开发和循环利用，发展清洁生产技术、无污染的绿色产品，企业实行绿色管理和对环境的治理，保持人类社会可持续发展的科学技术。

根据上述定义，下列选项中不是发展绿色科技的手段是（ ）。

- A. 工业产品减少用料的小型化 B. 厂房减少占地实现多功能化
C. 废物的高回收利用化 D. 降低生产原材料经济成本

85. 个人独资企业，是指依法设立，由一个自然人投资，财产为投资人个人所有，投资人以其个人财产对企业债务承担无限责任的经营实体。

根据上述定义，下列选项中叙述正确的是（ ）。

- A. 李某以个人积蓄出资办厂，后企业经营不善，无法偿付到期债务，债权人追至李某家里，要求其家人替李某偿还债务
B. 小明患有小儿麻痹症，但不影响他成为个人独资企业的投资人
C. 晓辉，15岁，头脑灵活，利用多年的“压岁钱”出资成立个人独资企业
D. 因香烟利润丰厚，龙某决定成立个人独资企业专卖自家土制香烟

三、类比推理。每道题先给出一组相关的词，要求你在备选答案中找出一组与之在逻辑关系上最为贴近，相似或匹配的词。

请开始答题：

86. 《文心雕龙》：刘勰

- A. 《汉书》：班固 B. 《国语》：孟子
C. 《诗经》：屈原 D. 《孔雀东南飞》：陶渊明

87. 酱油：食盐

- A. 动物：熊猫 B. 双软马车：手推车
C. 鸡精：味精 D. 房间：大厅

88. 夸脱：牛奶

- A. 泉水：汽水 B. 木头：家具
C. 吨：货车 D. 盎司：黄金

89. 破釜沉舟：项羽

- A. 望梅止渴：袁绍 B. 陈桥兵变：赵恬
C. 焚书坑儒：嬴政 D. 背水一战：韩当

90. 馒头：面粉

- A. 毛笔：宣纸 B. 衣服：布料
C. 运动员：教练 D. 飞机：导弹

91. 报纸：《福建日报》

- A. 茶：武夷岩茶 B. 汗水：水
C. 树：树叶 D. 奶茶：咖啡

92. 警察：公务员

- A. 白人：妇女 B. 棉花：棉籽
C. 足球：运动 D. 跳舞：行为

93. 伊妹儿：电子邮件

- A. 算账：结账 B. 引擎：发动机
C. 炒鱿鱼：解雇 D. 可可：巧克力

94. 法官：判案
 A. 音响：音乐会
 B. 学生：自学
 C. 顾客：就餐
 D. 教师：授课

95. WHO: WTO
 A. APEC: OPEC
 B. DNA: H5N1
 C. GDP: R&D
 D. SKYPE: MSN

四、事件排序：每道题给出五个事件，每个事件是以最简短语表述的，接着给出表示事件的四种假定发生顺序的四个数字序列，请你选择其中最合乎逻辑的一种事件顺序。

请开始答题：

96. ①撰写文稿
 ②压缩文档
 ③突发灵感
 ④发送电子邮件
 ⑤开启电脑
 A. ③⑤①②④
 B. ②⑤③①④
 C. ①②⑤④③
 D. ③②①⑤④

97. ①爬行动物出现
 ②无脊椎动物出现
 ③哺乳动物出现
 ④病毒与细菌出现
 ⑤两栖动物出现
 A. ②④⑤③①
 B. ⑤④②①③
 C. ④②③①⑤
 D. ④②⑤①③

98. ①项目实施
 ②项目论证
 ③确定中标单位
 ④正式立项
 ⑤公开招标
 A. ②④⑤③①
 B. ①②⑤③④
 C. ④②③①⑤
 D. ⑤②③④①

99. ①公文签发
 ②公文校核
 ③公文归档
 ④公文审批
 ⑤公文起草
 A. ④⑤②①③
 B. ⑤④③①②
 C. ⑤②④①③
 D. ②④⑤①③

100. ①表明身份
 ②制作当场处罚决定书
 ③听取陈述.申辩
 ④说明处罚理由

⑤制作笔录

A. ①②④③⑤

B. ⑤④①③②

C. ③④⑤②①

D. ①④③⑤②

101. ①城市内涝

②奋力排涝

③连降暴雨

④险情解除

⑤台风来袭

A. ②③④①⑤

B. ①⑤③②④

C. ⑤③②①④

D. ⑤③①②④

102. ①拘传

②拘留

③取保候审

④逮捕

⑤监视居住

A. ①③⑤②④

B. ①③④②⑤

C. ⑤④②①③

D. ⑤②①③④

103. ①工作试点

②公布实施

③提出暂行方案

④发现问题

⑤修改完善

A. ④③①⑤②

B. ④⑤②①③

C. ③①④②⑤

D. ②④⑤①③

104. ①伦敦奥运会

②雅典奥运会

③亚特兰大奥运会

④北京奥运会

⑤悉尼奥运会

A. ①④②③⑤

B. ④③②①⑤

C. ③①②⑤④

D. ③⑤②④①

105. ①客户起诉索赔

②重返国际市场

③企业反思.整改

④采用绿色有机种植技术

⑤茶叶农药残留物超标

A. ⑤①③④②

B. ④⑤①③②

C. ⑤①②③④

D. ⑤④①②③

五、逻辑判断。每道题给出一段陈述，这段陈述被假设是正确的，不容置疑的。要求你根据这段陈述，选择一个答案。注意：正确的答案应与所给的陈述相符合，不需要任何附加说明即可以从陈述中直接推出。

请开始答题：

106. 某车站并排停着两列待发的列车甲和乙。过了一会儿，甲车内的乘客看见车外树木向东移动，乙车内的乘客通过车窗看到甲车没动。
如果以地面为参照物，上述乘客所看到的甲乙两车运动情况说明（ ）。
- A. 甲列车向西运动，乙列车静止不动 B. 甲列车向西运动，乙列车向东运动
C. 乙列车向西运动，甲列车不动 D. 甲乙两列车同时同速向西运动
107. 某些种类的海豚利用回声定位来发现猎物：它们发射出滴答的声音，然后接收水域中远处物体反射的回音。海洋生物学家推测这些滴答声可能有另一个作用：海豚用异常高频的滴答声使猎物的感官超负荷，从而击晕近距离的猎物。
以下哪项如果为真，最能对上述推测构成质疑？（ ）
- A. 海豚用回声定位不仅能发现远距离的猎物，而且能发现中距离的猎物
B. 作为一种发现猎物的讯号，海豚发出的滴答声，是它的猎物的感官不能感知的，只有海豚能够感知，从而定位
C. 海豚发出的高频讯号即使能击晕猎物，这种效果也是很短暂的
D. 蝙蝠发出的声波不仅能使它发现猎物，而且这种声波能对猎物形成特殊刺激，从而有助于蝙蝠捕获它们
108. 塑料垃圾难以被自然分解，这一直令人类头痛。近年来，许多易于被自然分解的塑料代用品纷纷问世，这是人类为减少塑料垃圾所做的一种努力。但是，这种努力几乎没有成效。据统计，近年来全球范围内大多数垃圾处理公司每年填埋的垃圾中塑料垃圾的比例未减反增。
以下选项如果为真，最能削弱上述论证的是（ ）。
- A. 近年来，由于实行了垃圾分类，越来越多过去被填埋的垃圾被回收利用了
B. 塑料代用品利润很低，生产商缺乏投资的积极性
C. 近年来，用塑料包装的商品品种有了很大的增长
D. 上述垃圾处理公司绝大多数属于发达或中等发达国家
109. 法人或者其他组织的法定代表人、负责人超越权限订立的合同，除相对人知道或者应当知道其超越权限的以外，该代表行为有效。
由上述文字可推出（ ）。
- A. 相对人不是应当知道并且不知道其越权与自己订立合同时，法人的负责人的代表行为无效
B. 相对人知道或者应当知道其越权与自己订立合同时，法人的负责人的代表行为有效
C. 相对人不知道也不应该知道其越权与自己订立合同时，法人的负责人的代表行为有效
D. 相对人并非应当知道其越权与自己订立合同时，法人的负责人的代表行为有效
110. 在公共场所、道旁挖坑等地面施工中，没有采取设置明显警示标志等安全措施造成行人损害的，适用过错推定责任。即在行人证明了自己受到的损害是由施工人的行为引起的之后，如果施工人不能证明自己无过错，就认定施工人有过错。
由上述文字可以推出地面施工致人损害时（ ）。
- A. 受害人有义务证明自己受到了损害
B. 受害人有义务证明损害由施工人的行为引起
C. 受害人有义务证明自己无过错但没有义务证明施工人有过错
D. 施工人有义务证明自己无过错，受害人没有义务证明自己无过错
111. 轿车的减震系统越“硬”，跑高速、过弯道车身越稳。“路通”汽车销售公司的销售人员据此向制造商建议，为了提高销量，应将“路通”公司所售轿车减震系统设计得更“硬”一些。
以下各项如果为真，最能支持上述建议的是（ ）。
- A. 目前市场上畅销轿车的减震系统比“路通”公司销售的轿车更“硬”

- B. 德国轿车减震系统比较“硬”，德国车是好车
 C. 很多人认为减震系统“硬”会使汽车颠簸，还是“软”些好
 D. 近来喜欢“硬”的减震系统的开始多起来，尤其是年轻的开车族
112. 学校的教授中有一些是足球迷，学校预算委员会的成员一致要求把学校的足球场改建为办公楼，而所有的足球迷都强烈反对这样做。
 由此可以得出（ ）。
- A. 学校预算委员会的成员并非都是学校的教授
 B. 学校所有的教授都是学校预算委员会的成员
 C. 学校有的教授不是学校预算委员会的成员
 D. 学校预算委员会有的成员是足球迷
113. 我国正处于人均 GDP 从 100 美元到 3000 美元的过渡期，在加快工业化的进程中，人们对物质文化的需求不断提高。但是，目前政府提供的公共产品和公共服务不足，这与人民群众日益增长的社会公共需求不适应。
 如果下面各项内容是真，不能加强上述论述的选项是（ ）。
- A. 2004 年底，全国参加基本养老保险、失业保险、医疗保险的人数约占全国就业人员总数 74432 万人的 21.96%、14.22% 和 16.64%
 B. 2004 年，44.8% 的城镇人口和 79.1% 的农村人口没有任何医疗保障
 C. 2004 年，公共卫生保健支出占 GDP 的比重，中低收入国家的平均水平为 2.6%，而我国为 1.9%
 D. 2004 年，中央政府财政收入占财政总收入的 54.9%，地方政府财政收入占财政总收入的 45.1%；中央财政支出占财政总支出的 27.8%，地方政府财政支出占总支出的 72.2%
114. 在过去相当长的一段时期，我们一直把苏联模式的社会主义当作标准的社会主义，但从上世纪八十年代开始，人们开始重新思考“什么是社会主义，怎样建设社会”，以及“社会主义是不是只能有苏联那样一种模式”等问题。
 此段话的逻辑前提是（ ）。
- A. 苏联同美国进行军事竞争
 B. 苏联戈尔巴乔夫进行政治变革
 C. 苏联的社会主义理论遭到英美国家政治评论家的抨击
 D. 苏联模式的社会主义日益暴露出弊端
115. 政府应该履行经济调节和市场监管的职能，努力实现政企分开、政资分开、政事分开、政府与市场中介组织分开，主要运用经济和法律手段管理经济活动。政府部门的主要职责就在于提供基本公共服务，维护社会公平，创造并维持良好的市场环境，促使市场经济稳定运行。
 下列选项最能支持上述信息的一项论断是（ ）。
- A. 市场经济条件下政府不能再从事具体的经济活动或进行微观经济管理
 B. 市场经济的条件下政府的作用较之计划经济时更为弱化了
 C. 政府的作用在于防止和弥补市场失灵，提供市场经济正常运行的基本条件，以确保经济的平稳发展
 D. 推行行政管理体制改革，就是要加快形成行为规范、运转协调、公正透明、廉洁高效的行政管理体制

第五部分 资料分析

针对下列图、表或文字回答问题。你应根据资料提供的信息进行分析、比较、计算、处理。你可以在题本上运算。

请开始答题：

一、根据以下资料，回答问题。

F省 2007 年全年实现地区生产总值 9160.14 亿元，其中，第一产业生产值 1038.38 亿元，增长 4.0%；第二产业生产值 4508.02 亿元，增长 18.6%；第三产业生产值 3613.74 亿元，增长 13.8%。人均地区生产总值 25662 元，比上年增长 14.3%。

居民消费价格总水平比上年上涨 5.2%。其中，服务价格上涨 1.9%，商品零售价格上涨 4.3%，工业品出厂价格上涨 0.8%，原材料、燃料、动力购进价格上涨 4.3%，农业生产资料价格上涨 10.3%，比上年提高 9.4 个百分点。F 省 A、B、C 三市房屋销售价格分别上涨 6.8%、7.0% 和 6.7%。

城镇新增就业人员 68 万人，比预期目标多 3 万人。全年有 9.8 万下岗人员实现了再就业。年末城镇登记失业率为 3.89%，与上年末同比下降 0.04 个百分点，控制在预期目标 4% 以内。

财政总收入 1284.27 亿元，按可比口径，比上年增长 26.8%，其中，地方级财政收入 700.03 亿元，可比增长 29.4%。财政支出 901.22 亿元，增长 23.7%。全省国税税收收入（含进口税收）856 亿元，增长 22.6%；全省地税系统组织各项收入 644.29 亿元，增长 29.1%。

116. 2007 年，F 省全省人口大约为（ ）。

- A. 3569 万人
- B. 3569535 人
- C. 3696 万人
- D. 3696534 人

117. 按照 2007 年的增长率，第一产业在 2009 年可实现生产值是（ ）。

- A. 1038.38 亿元
- B. 1079.92 亿元
- C. 998.44 亿元
- D. 1123.11 亿元

118. 在消费价格中，上涨最快的是（ ）。

- A. 服务价格
- B. 商品零售价格
- C. 原材料、燃料、动力购进价格
- D. 农业生产资料价格

119. 2006 年第三产业占地区生产总值的比重为（ ）。

- A. 39.5%
- B. 49.2%
- C. 39.8%
- D. 47.7%

120. 下列表述不正确的选项是（ ）。

- A. 城镇预期增加就业人员 65 万人
- B. 全省财政支出占总收入的 70.2%
- C. 2006 年农业生产资料价格上涨 0.9%
- D. 2006 年地税系统各项收入 498.26 亿

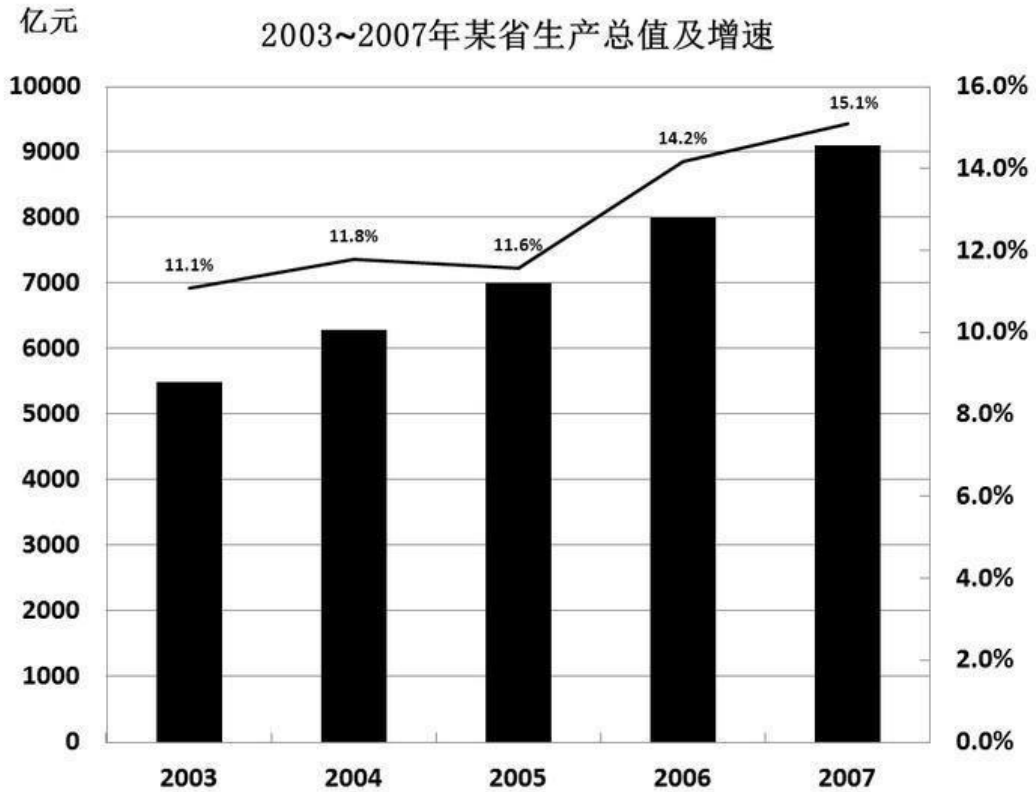
二、根据以下资料，回答问题。

F 省 2007 年对主要国家和地区进出口情况

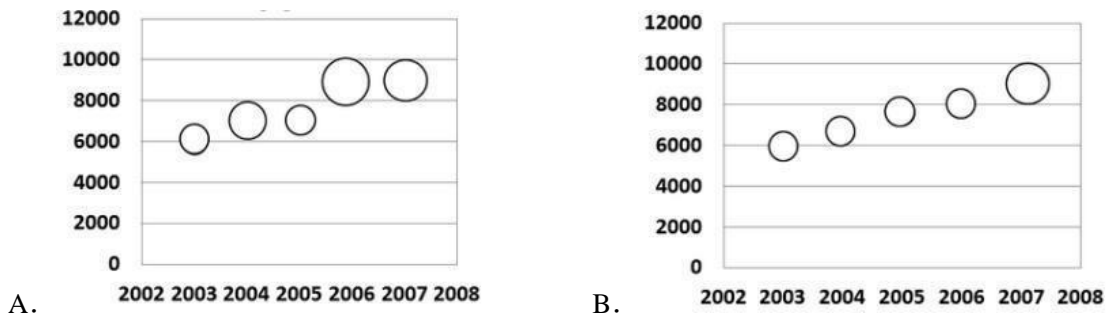
国家和地区	出口额(亿美元)	比上年增长(%)	进口额(亿美元)	比上年增长(%)
中国香港特别行政区	35.95	17.4	1.38	-7.3
中国台湾地区	10.79	13.6	58.22	25.0
日本	62.20	3.0	28.72	14.6
韩国	13.25	30.0	24.65	7.8
东盟	41.28	38.6	29.46	21.1
欧盟	105.02	25.8	22.11	11.9
俄罗斯联邦	7.03	41.1	1.87	-2.4
美国	108.67	7.8	26.74	21.2

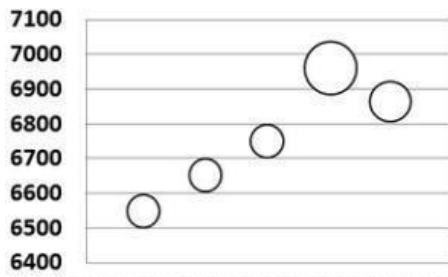
121. 2006 年 F 省对日本的进口额为（ ）。
- A. 60.39 亿美元 B. 19.67 亿美元
 C. 25.06 亿美元 D. 28.72 亿美元
122. 2007 年 F 省对（ ）的贸易顺差值最高。
- A. 美国 B. 欧盟
 C. 东盟 D. 俄罗斯联邦
123. 对美国的出口额占 F 省对外贸易总额的比重为（ ）。
- A. 27.33% B. 28.28%
 C. 18.82% D. 8.23%
124. 上表中出口额增长率的排名和对欧盟进口额增长率的排名相同的是（ ）。
- A. 日本 B. 香港地区
 C. 美国 D. 台湾地区
125. 下列选项中描述不正确的是（ ）。
- A. 对香港地区的进口额为负增长
 B. F 省对外贸易出口的增长量高于进口的增长
 C. 2006 年对香港地区的出口额和对韩国的进口额排名相同
 D. 2006 年对日本的出口额和对东盟的进口额排名不同

三、根据以下资料，回答问题。

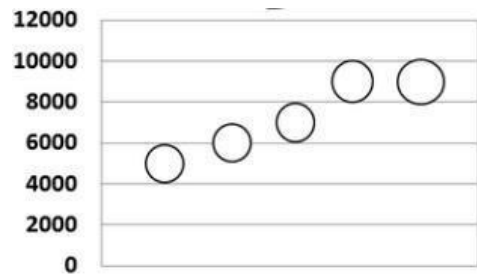


126. 2004年该省生产总值为()。
- A. 5556亿元
B. 6195亿元
C. 6272亿元
D. 6933亿元
127. 该省2007年比2004年生产总值增长率提高了()。
- A. 3.3个百分点
B. 3.6个百分点
C. 47.5个百分点
D. 0.3个百分点
128. 按照该省5年的平均增速, 预计2008年该省生产总值增加额为()。
- A. 1383亿元
B. 10348亿元
C. 1187亿元
D. 10544亿元
129. 下列气泡图中, 气泡的位置表示生产总值的大小, 气泡的大小表示生产总值的增速, 那么图()为该省全省生产总值及增速图。





C. 2002 2003 2004 2005 2006 2007 2008



D. 2002 2003 2004 2005 2006 2007 2008

130. 下列选项中，说法正确的是（ ）。

- A. 图中该省这几年生产总值的增速均在提高
- B. 该省 2007 年比 2002 年生产总值翻两番
- C. 该省 2006 年比上一年生产总值增加了 1000 多亿元
- D. 图中有两年的生产总值的增速大于平均增速