

## 第一部分 常识判断

根据题目要求，在四个选项中选出一个最恰当的答案。

请开始答题：

- 今年 6 月 25 日，胡锦涛在中央党校省部级干部进修班发表的重要讲话中指出，加强社会建设，要以解决人民最关心、最直接、最现实的利益问题为重点，使经济发展成果更多体现到改善民生上。这体现了（ ）。  
①党全心全意为人民服务的宗旨  
②立党为公，执政为民的理念  
③党代表中国最广大人民的根本利益  
④民生问题是党执政兴国的第一要务  
A. ①②④  
B. ①②③  
C. ②③④  
D. ①③④
- 2008 奥运会在中国北京举办，下列关于奥运会不正确的是（ ）。  
A. 2008 北京奥运会火炬名称叫“祥云”  
B. 第一届奥运会在雅典举行  
C. 奥运会周期是四周年  
D. 建国后，我国第一次参加奥运会
- 纪录片《长征路上》的热播引起了强烈反响。假如让你按当年的足迹重走长征路，没有经过的省份是（ ）。  
A. 浙江  
B. 江西  
C. 湖南  
D. 贵州
- 2007 年 3 月 25 日《人民日报》发表文章提出：收入分配是关系到社会公平能否实现的核心问题，抓住了收入分配调整这个关键，就牵住了社会公平的牛鼻子。这句话体现了（ ）。  
A. 发挥主观能动性是尊重客观规律的前提  
B. 正确认识是实践发展的根本动力  
C. 事物的性质是由事物的主要矛盾所规定的  
D. 主要矛盾在事物发展过程中起决定作用
- 2007 年 1 月 29 日，新华社全文发布了《中共中央国务院关于积极发展现代农业，扎实推进社会主义新农村建设的若干意见》，这是继 2004 年连续第四年制定的指导“三农”工作的“一号文件”。下列说法不属于发展现代农业要求的是（ ）。  
A. 用现代科学技术改造农业  
B. 扩大耕地面积，提高土地产出率  
C. 培养新型农民发展农业  
D. 用现代产业体系提升农业
- 明天就是选举日了，以下公民中不具有选举权的是（ ）。  
A. 张某刚过完 17 岁生日  
B. 黄某被判劳动教养 3 年执行中  
C. 王某被查出患有精神病  
D. 陈某被拘留 15 天执行中
- 下列不属于我国公务员应当具备的条件是（ ）。  
A. 具有中华人民共和国国籍  
B. 年满十八周岁  
C. 具有良好品行  
D. 具有大专以上文化程度
- 古诗词是古人为我们留下的宝贵财富。下列诗句中只涉及物理变化的是（ ）。  
A. 野火烧不尽，春风吹又生  
B. 春蚕到死丝方尽，蜡炬成灰泪始干  
C. 只要功夫深，铁杵磨成针  
D. 爆竹声中一岁除，春风送暖入屠苏
- 下列无须缴纳个人所得税的是（ ）。  
A. 小周从编辑部领到稿酬 2000 元  
B. 小郑购买彩票中了 5000 元  
C. 小马经营的公司这个月收益 10 万元  
D. 小芳办了一个培训班，每月获 4000 元收益

10. 下面对“扬州八怪”理解有误的是（ ）。
- A. 以金农为首的一批聚集在扬州的书画家
  - B. 八位扬州的名画家
  - C. “扬州八怪”中郑板桥擅画兰竹
  - D. “扬州八怪”是清代中期最著名的书画流派
11. 中医说的“望、闻、问、切”中的切，指的是号脉。这里的脉是指（ ）。
- A. 动脉
  - B. 静脉
  - C. 毛细血管
  - D. 经络
12. 近年来，市场上出现了“红心鸭蛋，多宝鱼，福寿螺”等黑心食品，我国政府用技术和法律手段进行严加监管，让消费者放心使用食品。对此，下列说法有误的是（ ）。
- A. 市场调节有一定局限性
  - B. 政府在履行经济监管职能
  - C. 我国政府是人民意志的执行者和利益的捍卫者
  - D. 市场调节的缺陷是不可克服的
13. 在北方，人们常用地窖储存粮食和蔬菜。当人们要进入地窖时总会将通风口打开一段时间，最主要是因为（ ）。
- A. 地窖内太冷了
  - B. 地窖里有大量的二氧化氮
  - C. 地窖里有大量的二氧化碳
  - D. 地窖里有大量的氧气
14. 夏天，从冰箱里拿出冰冻的啤酒发现啤酒瓶外面“出汗”，以下对这种现象解释正确的是（ ）。
- A. 酒从瓶中渗出
  - B. 空气中水蒸气汽化
  - C. 啤酒瓶上水汽化
  - D. 空气中水蒸气遇冷液化
15. 张某刚刚购得一辆新车，有次外出因刹车失灵导致翻车受伤。下列说法不正确的是（ ）。
- A. 张某可要求商家承担赔偿责任
  - B. 张某可要求厂家承担赔偿责任
  - C. 商家向张某赔付后可向厂家进行索赔
  - D. 张某在要求厂家承担赔偿责任的同时，可要求商家进行赔偿
16. 陈某是某控股公司的员工，且持有该控股公司的股票，年底分红时获得3万元股息收入。陈某收入属于（ ）。
- A. 资本要素获得收入
  - B. 技术要素获得收入
  - C. 按劳分配要素获得收入
  - D. 经营要素获得收入
17. “我们向广大市民群众表示深深的歉意，并诚恳接受市民群众的批评。”2007年1月11日，深圳市三个政府部门首次发布的《关于改善梅林关及周边区域交通状况工作告市民书》同时出现在几家深圳媒体上。政府公开向市民道歉表明（ ）。
- A. 政府正在逐渐转变职能
  - B. 我国国家机构实行依法治国原则
  - C. 自觉接受公众监督，我国国家机构努力为人民服务
  - D. 社会主义民主与法制不可分割
18. 对于被困在火区中的人，不恰当的做法是（ ）。
- A. 烟大时，用湿毛巾捂住口鼻
  - B. 乘坐电梯逃生
  - C. 到阳台求救
  - D. 打电话报警
19. 毛泽东诗词“一桥飞架南北，天堑变通途。”中的“一桥”指的是（ ）。

- A. 钱塘江大桥  
B. 上海浦东大桥  
C. 南京长江大桥  
D. 武汉长江大桥
20. 我们时常会看到，在池塘的水面上，蜻蜓飞得很低，它们不时地把尾巴往水里沾一沾，这就是我们常说的蜻蜓点水。蜻蜓沾水主要是（ ）。
- A. 为了降温  
B. 戏水玩耍  
C. 在水中产卵  
D. 在水中寻找食物
21. 现在儿童的饮食结构普遍不合理，其中对微量元素尤为缺乏。缺乏微量元素不仅会影响儿童的生长发育，还会影响儿童智力的正常发育。主要是因为儿童缺乏所必需的（ ）。
- A. 钙  
B. 铁  
C. 磷  
D. 锌
22. 2007 年年初以来，人民币汇率屡创新高，下面有关汇率升高说法正确的是（ ）。
- A. 有利进口，不利出口  
B. 有利出口，不利进口  
C. 能够增加我国外汇储备  
D. 能够增强对外资的吸引力
23. 2000 年至 2006 年，中央已累计投入 1300 亿元用于退耕还林工程。中央不断加大退耕还林力度主要是为了（ ）。
- A. 财政在资源配置中起基础作用  
B. 国家通过财政有效调节资源配置  
C. 农业发展主要靠国家财政支持  
D. 经济发展水平对财政影响是决定性的
24. 为了吸引外商投资，我国自上世纪 80 年代以来实行了内外资企业所得税双轨制，采取了一些对外资倾斜的税收优惠政策。在 2007 年 3 月 16 日通过的《企业所得税法》中我国将内外资企业所得税率统一规定为 25%。内外资企业所得税的统一（ ）。
- A. 体现了市场经济的法制性特征  
B. 是我国坚持独立自主的表现  
C. 是市场经济平等性的要求  
D. 必然导致外资对中国投资减少
25. 2007 年《物权法》获得高票通过，这部法律被认为对于推进中国经济体制改革和建设法治国家都具有重大意义，标志着社会主义市场经济进一步完善，政治文明迈出了重要一步。《物权法》的通过，有利于（ ）。
- ①各种所有制经济充分发挥各自优势，相互促进，共同发展  
②充分发扬社会主义民主，保障人民政治权利  
③充分发挥国家的宏观调控手段在资源配置的基础作用  
④明确私有财产范围，依法对私有财产进行保护
- A. ①②  
B. ③④  
C. ①④  
D. ②③





山东等九个省区，注入浩瀚的大海。全长 5464 公里，流域面积 75 万多平方公里，像一条金色的巨龙，昂首横卧在我国北部辽阔的大地上。

下列选项中不属于黄河特点的是（ ）。

- A. 黄河流程漫长
- B. 黄河流域广大
- C. 黄河气势雄伟
- D. 黄河是中华民族的摇篮

39. 林语堂曾以“两脚踏东西文化，一心评宇宙文章”自许，他的文化思想信仰也以“博取众家之长”，“融会贯通”为旨归。这种文化观念之形成，当然有许多内在和外在的原因，但我认为这与蔡元培的影响是密不可分的。

这段话的中心意思是（ ）。

- A. 林语堂是一个颇为自负的文化人
- B. 林语堂于东，西方文化皆有很深的造诣
- C. 林语堂和蔡元培关系密切
- D. 蔡元培是林语堂文化观念形成过程中不容忽视的重要人物

40. 心是花园，思想为种，既可以繁花似锦，也能杂草丛生。仅种下一粒幸福的种子，随即便抛在脑后是不行的，孱弱的秧苗很快就会被杂草吞噬。那些害怕、怀疑与忧虑的杂草一长出来，就要将它们拔除并丢弃。爱，幸福与宁静都是会传染的。那些不断在心灵花园里种下这些种子的人们，也正把爱，幸福与宁静播到别人的心田里。

这段话意在表明（ ）。

- A. 人们的心灵往往充满害怕，怀疑与忧虑，很难驱除
- B. 我们应该时时陪护自己心中善良美好的品质
- C. 我们应该将自己的爱、幸福与宁静传播给他人
- D. 人们对爱，幸福与宁静的渴求总是被害怕，怀疑与忧虑所吞噬

41. 有人说，周庄是以苏州的毁灭为代价的。我眼前即刻闪现出古苏州的模样。是的，苏州脱掉了罗衫长褂，苏州现代得多了。尽管手里还拿着丝绣的团扇，已经不是躲在深闺的旧模样。这样，周庄这位江南的古典绣女便名播四海了。

这段话意在表明（ ）。

- A. 苏州的现代化，使仍然保有江南古典风韵的周庄脱颖而出
- B. 周庄比苏州更富有江南古典绣女的韵味
- C. 苏州的现代化，使她失去了原有的古典风韵
- D. 周庄是江南著名的旅游景点之一

42. 精神生活趋向平庸是我们现实生活的一个突出现象。其主要表现是：人生缺乏精神目标，既无传统的支持，又无理想的引导；功利意识扩张导致人与人之间真情淡薄；诉诸感官的大众消费文化泛滥，诉诸心灵的严肃文化陷入困境。

通过这段话，我们可以知道（ ）。

- A. 精神生活的趋向平庸主要表现为信仰失落，真情淡薄和文化错位
- B. 大众消费文化富有活力，而严肃文化则死气沉沉
- C. 在精神文化事业中进行独立探索和创造的人是脱离他们所处的时代的
- D. 由于精神生活的趋向平庸，人们很容易产生失落感

43. 微软公司目前的挑战不仅来自司法部和市场上强大的竞争对手，还来自内部人才流失。在过去 18 个月，多名重量级人物相继离开，包括科技主管南茜·迈福德及领导发展视窗 95 的西尔弗伯格。发现他们离职原因有一个共同点，即感到微软已失去活力。

用言简意赅地概括这段话的意思，最恰当的一项是（ ）。

- A. 微软渐失锐气，重臣纷纷离巢                      B. 微软面临严峻挑战  
C. 微软人才流失严重                                      D. 微软重臣离巢而去
44. 幸运的机会好像银河，他们作为个体是不显眼的，但作为整体却光辉灿烂。同样，一个人也可以通过不断做出细小的努力来达到幸福，这就是不断地增进美德。  
这段文字的主要内容是（ ）。  
A. 一两次幸运的机会并不显眼，若干次幸运的机会将会给人带来成功，带来荣耀  
B. 个别人获得幸运并不起眼，许多人都获得幸运定将引人注目  
C. 具备许多细小的优良素质，将可能获得幸运  
D. 某一种优良的素质是不显眼的，具备许多优良的素质就会显得光辉灿烂
45. 流量压缩装置和电子注入器把脉冲高压转化成电子束。高强电磁场把它在长长的电子枪中加速，通过电子喷嘴向集流加速器喷射，作为形成和加速质子的介质。  
语段中“它”指的是（ ）。  
A. 流量压缩装置                                              B. 电子注入器  
C. 脉冲高压电                                                 D. 电子束
46. 我们的时代被描述为“信息时代”，它意味着我们不仅能迅速获取大量信息，而且也意味着我们所获信息的大量更替，网络信息的粘贴和更新就是典型的例子。而“经典”则是天才大脑艰苦创造的结晶，是一种恒久性的精神存在。信息时代的状态与经典所需要的深思精神不合拍，这也正是我们的时代难以产生经典的因素之一。  
这段话的中心意思是（ ）。  
A. 网络信息时代是一个可以不断复制的时代  
B. 从某种意义上说，信息时代就是经典危机的时代  
C. 网络文化同样可以成为经典  
D. 我们的时代已经没有经典产生
47. 我们读书，总是从一本书的最高境界来欣赏和品评；我们使用绳子，总是从最薄弱的一段来断定绳子的质量。坐冷板凳的书呆子，不妨以读书之法待人，政治家或企业家则应该以衡量绳子的方法来规避用人过程中的风险。  
这段话最主要想表达的意思是（ ）。  
A. 政治家、企业家和书呆子是两类人                      B. 读书和生活是两码事  
C. 待人宜宽，用人宜谨                                         D. 书呆子缺乏社会经验
48. 如果说有哪一个城市，由于深厚的历史原因，本身即拥有一种精神品质，能施加无形然而重大的影响于居住、一度居住以至过往的人们的，这就是北京。北京属于那种城市，它使人强烈地感受到它的文化吸引，它永远古老而又恒久新鲜，同时是历史又是现实，有无穷的历史容量且不乏生机，诱使人们探究，却又永远无望穷尽……  
根据上文，以下理解有误的一项是（ ）。  
A. 北京是一个具有深厚文化含蕴的城市  
B. 北京历史悠久同时又富于现代感  
C. 北京总使人体验到它无所不在的魅力  
D. 北京比任何其他中国城市都抽象，也更加模式化
49. 关于中国的历史，不仅中国学者在研究与思索，在美国，欧洲等地也同样有学者试图探出有意义的解释。近代世界形势的巨变，不可避免地影响这些学者的研究思路。首先，全球化的现象对当代中国历史研究产生巨大影响；其次，中国社会自身的变化，对欧美学者研究中国也产生了重大影响。

从这段话中，我们可以知道（ ）。

- A. 目前对中国历史的研究是在内、外两种环境因素的交互影响下进行的
- B. 对中国历史的研究，欧美学者比中国学者更深透
- C. 中国历史的研究受全球化因素的影响比受中国自身环境的影响更大
- D. 中国历史的研究还处在起步阶段

50.明智的选择胜于盲目的执着。古人云，塞翁失马，焉知非福。选择是量力而行的睿智与远见；放弃是顾全大局的果断与胆识。每个人都是自己生命的唯一导演，只有学会选择与放弃的人才能彻悟人生，笑看人生，拥有海阔天空的人生境界。

根据这段话，以下的理解有误的是（ ）。

- A. 每个人都应该学会在适当的时候有所选择，有所放弃
- B. 对于一部分人来说，学会选择与放弃并不容易
- C. 学会选择与放弃的人往往比盲目执着的人更易达到一个理想的人生境界
- D. 人生就是一场戏，所以该放弃就放弃，何必太执着

西部地区的文化文物资源十分丰富。大漠孤烟、长城烽燧、丝绸古道、帝王陵寝、江河源头、葡萄美酒、古寺梵音、戈壁驼铃、敦煌艺术、雪域风情、峨眉佛光、丽江古城、三峡风光……无不引人入胜。旅游作为一个产业，在促进经济、文化发展方面，有重要作用。就资源而论，文物古迹是旅游业发展的重要资源。一些地方把旅游作为发展经济的龙头，就是因为那里有丰富的文化遗产。任何事情都有两面性，文物保护与旅游发展，两者关系处理得当，就可以互相促进，相得益彰。如果处理不好，破坏了文物，也破坏了旅游资源，就会两败俱伤。因此，在旅游业高速发展中，大声呼吁保护文物，声音高一点，也是不为过的

首先，旅游业是经济产业，而旅游本身却是一种文化活动。因此，我们不仅要经济效益，而且要注意社会效益，而社会效益有时比经济效益更重要。其次，文物单位接待旅游，一定要适度，不可越出自己的容量。美国《洛杉矶时报》今年8月23日刊登了一篇文章：《旅游业的高速发展侵蚀着中国古代的财富》。文章说：一些“地方官员越来越把旅游业当做摇钱树，毫无节制地利用文化和天然景点，从而对这些不可估价的景点构成威胁”。丽江1999年接待了280万游客，一些专家认为，这个数字太大了。文章还引用联合国教科文组织顾问恩格尔哈特的话：“当游客的人数超过一处古迹的承受能力时，就难以使文物保护工作达到作为世界遗产所要求的标准。”试想，敦煌莫高窟的洞窟，面积那样狭小，又不通风，如果几十人往里挤，那将是个什么局面？对壁画肯定是灾难，故宫在旅游高峰期曾一天接待12万人次，游客摩肩接踵，比赶庙会还要热闹，这哪里是参观博物馆？这种情况如果不加以限制，不仅文物受到破坏，对参观者也是一种愚弄。第三，缺乏管理的文物单位，不可贸然开放旅游。例如楼兰古城、尼雅遗址，没有全面发掘清理，甚至有文物暴露于地表，在没有人管理的情况下，贸然开放旅游，其后果可想而知。第四，在文物景点，防止乱拆乱建。前引《洛杉矶时报》文章提到洛杉矶盖蒂文物保护研究所负责人阿格纽（与我国文物单位有很好的合作关系）去年到泰山参观时“大吃一惊”的情况，因为他在那里发现了“缆车、废弃物和惟利是图的商业行为”。文章还说：“同样，在北京郊外的万里长城，游客们可以乘缆车上山”。在外国人感到吃惊的地方，我们都习以为常。在文物景点架缆车、建商店甚至游乐设施，破坏景观，污染环境。总之，实施文物旅游时，一定要注意其文化内涵的宣传，把文物保护放在首位。保护好了文物，也就保护了旅游业可持续发展的美好前景。

51. 文物单位接待游客要适度，文中举出的不适度的例子是（ ）。

- A. 丽江去年接待280万游客，郭煌一个石窟里一下子挤进了几十人
- B. 丽江去年接待280万游客，故宫高峰期一天接待了12万人
- C. 郭煌一个石窟里一下子挤进了几十人，故宫高峰期一天接待了12万人



- D. 泰山上居然有缆车，在文物景点居然建起了商品和娱乐设施
52. 美国洛杉矶文物保护官员游泰山时“大吃一惊”，说明了（ ）。
- A. 泰山上真的有缆车，人们登山览胜便利多了
  - B. 文物旅游单位经济效益和社会效益都很喜人
  - C. 泰山在旅游高峰游人严重超量，使人很扫兴
  - D. 文物景点上乱拆乱建现象相当严重
53. 假定下列旅游方式在参观文物景点时都是实际存在的，请根据作者在文中表达的观点，推断作者不赞成的一组旅游方式是（ ）。
- ①在国家森林公园做缆车鸟瞰湖光山色
  - ②在八达岭做缆车游览长城，将长城内外的风光尽手眼底
  - ③游客乘敞篷车进入曲阜的孔林参观游览
  - ④做直升飞机盘旋于江河源头，观赏那里的起义风光
- A. ①②
  - B. ①④
  - C. ②③
  - D. ③④
54. 根据文意，不符合作者观点的一项是（ ）。
- A. 保护文物与发展旅游要协调进行
  - B. 西部文物古迹丰富，要大力发展文物古迹旅游
  - C. 开展文物古迹旅游的，文物保护要放在首位
  - D. 开展旅游不仅要看经济效益，更要看重社会效益
55. 以下选项最适合做文本标题的是（ ）。
- A. 旅游发展对文物破坏极大
  - B. 文物古迹是旅游业的重要资源
  - C. 在发展旅游中注意保护文物
  - D. 保护文物刻不容缓

### 第三部分 数量关系

在这部分试题中，每道题呈现一段表述数字关系的文字，要求你迅速、准确地计算出答案。

请开始答题：

56. 8, 15, 24, 35, ( )

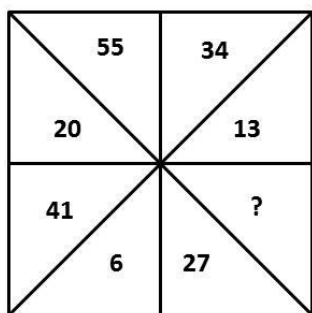
- A. 47  
B. 48  
C. 49  
D. 50

57. 18,  $\frac{1}{3}$ , 6, 2, 12, ( )

- A. 26  
B. 24  
C. 22  
D. 20

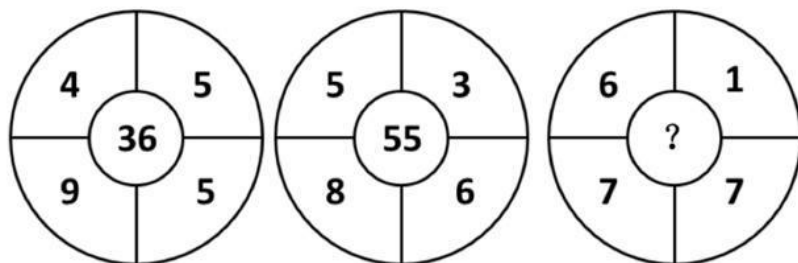
58. 12, 1112, 3112, 211213, ( )

- A. 312213  
B. 132231  
C. 112233  
D. 332211



59.

- A. 34  
B. 42  
C. 48  
D. 58



60.

- A. 21  
B. 42  
C. 50  
D. 78

61.  $1^2 - 2^2 + 3^2 - 4^2 + 5^2 - 6^2 + \dots + 9^2 - 10^2 = ( )$ 。

- A. -55  
B. -45  
C. 45  
D. 55

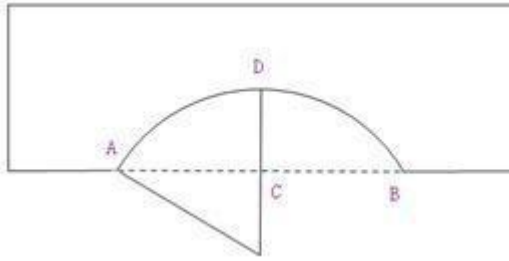
62. 已知  $f(x+1) = -\frac{1}{f(x)}$ ，若  $f(2) = 2007$ ，则  $f(2007) = ( )$ 。

- A. 2  
B.  $-\frac{1}{2007}$   
C.  $\frac{1}{2007}$   
D. 2008

63. 已知  $3x^2 = 2x + 1$ ，则  $9x^4 - 4x^2 - 4x + 1 = ( )$ 。

- A. 0  
B. 1





- A. 5
- C. 12

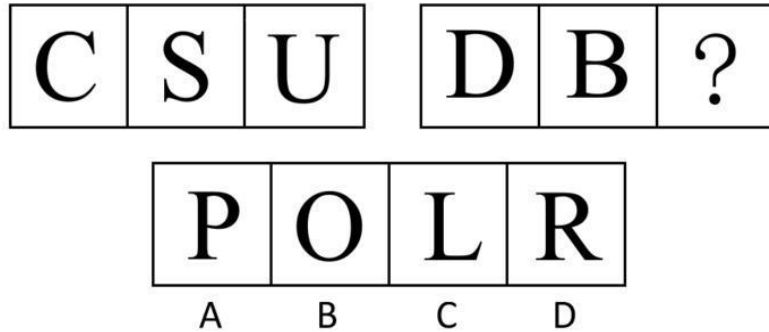
- B. 10
- D. 17

## 第四部分 判断推理

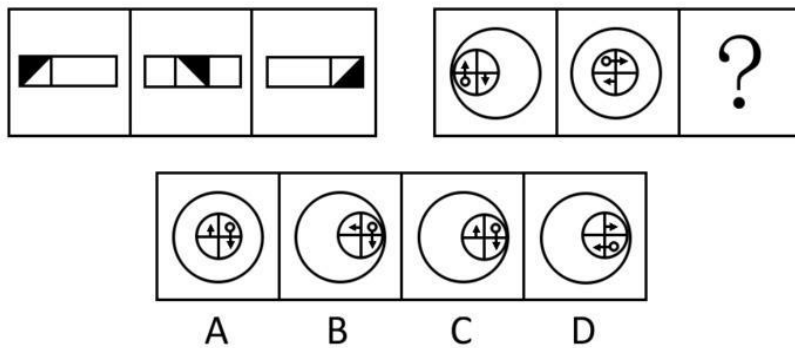
一、图形推理。请按每道题的答题要求作答。

请开始答题：

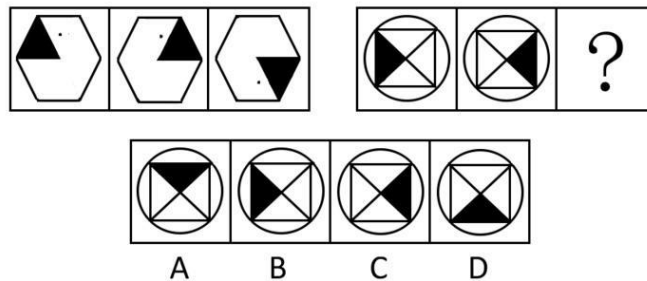
71. 从所给的四个选项中，选择最合适的一个填入问号处，使之呈现一定的规律性（ ）。



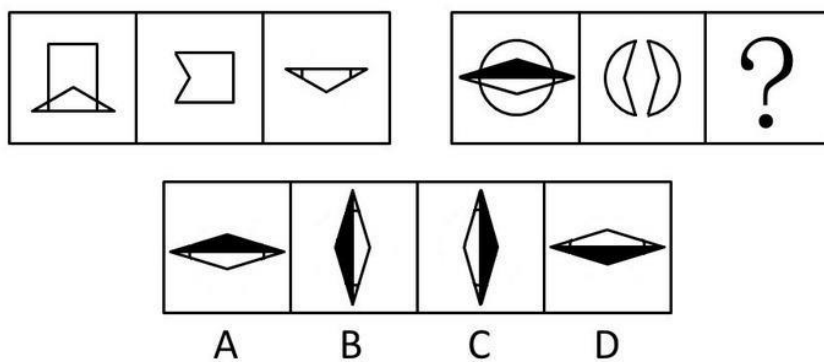
72. 从所给的四个选项中，选择最合适的一个填入问号处，使之呈现一定的规律性（ ）。



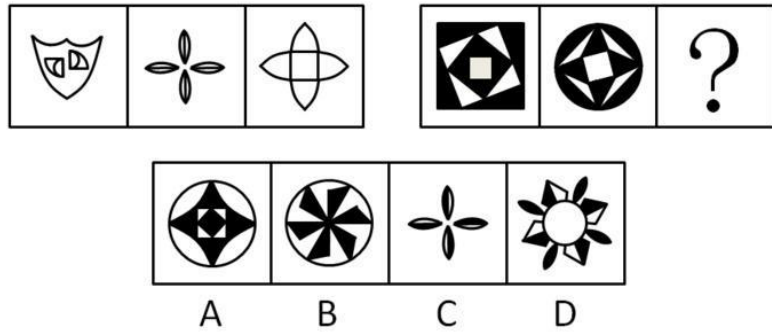
73. 从所给的四个选项中，选择最合适的一个填入问号处，使之呈现一定的规律性（ ）。



74. 从所给的四个选项中，选择最合适的一个填入问号处，使之呈现一定的规律性（ ）。



75. 从所给的四个选项中，选择最合适的一个填入问号处，使之呈现一定的规律性（ ）。



二、定义判断。每道题先给出定义，然后列出四种情况，要求你严格依据定义，从中选出一个最符合或最不符合该定义的答案。注意：假设这个定义是正确的，不容置疑的。

请开始答题：

76. 意外事件：是指因为当事人故意或过失以外的偶然因素而发生的事故。  
根据上述定义，下列选项属于意外事件的是（ ）。
- A. 黄某私自驾驶一辆报废汽车中途发生车祸  
B. 课间打闹玩耍时，小明不慎撞伤同学  
C. 医生未给张某进行过敏测试就注射了青霉素，导致张某死亡  
D. 李某夜间昏睡，造成仓库失窃
77. 表达自由权：是指个人将其内在精神活动的结果或精神生活的方式，以语言，文字图书，肢体动作或者其他任何方法表达于外，而使他人或社会得以知悉其内心意念的权力。  
根据上述定义，下列选项属于表达自由权的是（ ）。
- A. 某公司职员要求参加岗位培训  
B. 某作家在报纸上发表连载小说  
C. 某受害人要求侵权人赔偿经济损失  
D. 某房申请改建许可
78. 直观形象记忆法：是指在识记抽象材料时，为增强记忆效果将其直观现象进行记忆的方法。  
根据上述定义，下列选项属于直观形象记忆法的是（ ）。
- A. 把“1.41421”记为“意思意思而已”  
B. 把光的速度“29.979”万公里/秒记为“贰酒碘酒汽酒”  
C. 把日本富士山的最高峰的高度“12365”尺记为“12个月 365天”  
D. 把多哥地形记为“1”，越南地形记为“3”
79. 低价倾销行为：是指经营者以排挤竞争对手为目的，以低于成本的价格销售商品的行为。  
根据上述定义。下列选项属于低价倾销行为的是（ ）。
- A. 春季即将来临某服装店甩卖冬季服装  
B. 某商店为占据皮包市场，以低于进价的价格抛售皮包  
C. 低价出售某破产家电公司的电脑  
D. 某家具店低价处理长期积压的家具
80. 内心信念：是指人们在自我良心的审视下，对自身的行为及其动机进行善恶判断的一种精神力量，是道德评价的一种重要方式。  
根据上述定义，下列选项属内心信念的是（ ）。
- A. 问心无愧  
B. 某精神病患者扬言要杀人  
C. 某幼儿拿了妈妈的钱  
D. 某人误闯入他人家门

81. 审美境界：是指从人生境界中升华出来的超越了自然境界，功利境界和道德境界的愉悦情怀和情境。  
根据上述定义，下列选项不属于审美境界的是（ ）。
- A. 欣赏油画《蒙娜丽莎》感觉优雅                      B. 读“采菊东篱下，悠然见南山”产生逍遥感  
C. 听二胡演奏《二泉映月》使人宁静                      D. 阅读《股票经》对股票产生兴趣
82. 商品差价：是指同一商品由于流通环节，购销渠道，购销季节以及质量不同而形成的价格差额。  
根据上述定义，下列选项不属于商品差价的是（ ）。
- A. 超市青菜上午 1.5 元一斤，下午变成 2 元一斤  
B. 大众轿车与富康轿车价格不同  
C. 甲地的牛肉比乙地的每斤便宜 2 元，因为甲地是牧区  
D. 同一本书刚上市时与两年后的价格不同
83. 学习性行为：是指并非动物生来就有的，而是动物在成长过程中，通过生活经验和学习逐渐建立起来的新的行为。  
根据上述定义，以下选项不属于学习性行为的是（ ）。
- A. 母鸡抱窝                                                      B. 大山雀提绳取食  
C. 黑猩猩学会用树枝捕食白蚁                              D. 小狗做算数，狗熊钻火圈
84. 实验法：是指对发生行为的动物或接受行为的动物，模拟或干扰他们之间使用的信号，进而分析刺激行为发生的主要因素的方法。  
根据上述定义，以下选项属于实验法的是（ ）。
- A. 用摄影机拍摄猎豹的运动，研究猎豹追逐猎物的方法  
B. 用望远镜观察鸟类繁殖的活动  
C. 动物园用闭路电视研究东北虎生育幼虎的过程  
D. 用声波干扰水中活动的海豚，观察到海豚对声波的反应
85. 同业拆借：是指金融机构之间相互融通短期资金的业务方式，其目的在于调剂头寸和临时性资金余缺。  
根据上述定义，以下选项不属于同业拆借的是（ ）。
- A. 甲银行为弥补信贷资金缺口从乙银行拆入一笔资金  
B. 甲银行融入资金投资房地产  
C. 甲银行在停止营业时发现资金收支不平衡向其他银行融入资金  
D. 甲银行内部分支机构之间的资金调度

三、类比推理。每道题先给出一组相关的词，要求你在备选答案中找出一组与之在逻辑关系上最为贴近，相似或匹配的词。

请开始答题：

86. 巴西：智利
- A. 喀麦隆：老挝                                              B. 葡萄牙：波兰  
C. 英国：美国                                                      D. 尼日利亚：瑞士
87. 拱桥：弧形
- A. 足球：操场                                                      B. 毛巾：方形  
C. 翠竹：哨子                                                      D. 汤圆：冬至
88. 杂交水稻：袁隆平
- A. 微生物学：巴斯德                                              B. 跨栏：刘翔

- C. 篮球：姚明  
D. 神舟六号：杨利伟
89. 投资：收益  
A. 猎物：捕捉  
B. 住院：治疗  
C. 发明：发现  
D. 巡逻：放哨
90. 九华山：安徽  
A. 泰山：河北  
B. 三清山：江西  
C. 衡山：陕西  
D. 雁荡山：湖南

**四、事件排序：**每道题给出五个事件，每个事件是以最简短语表述的，接着给出表示事件的四种假定发生顺序的四个数字序列，请你选择其中最合乎逻辑的一种事件顺序。

**请开始答题：**

91. ①房屋倒塌  
②房客修缮要求遭拒  
③财产受损引起纷争  
④强台风即将来临  
⑤租住民房  
A. ⑤④②①③  
B. ③⑤②①④  
C. ④⑤②③①  
D. ⑤①④②③
92. ①制成琥珀标本毛胚  
②熔化松香  
③制成人造琥珀标本  
④将小虫放入纸盒  
⑤把熔化的松香倒入纸盒  
A. ②④⑤③①  
B. ②④①③⑤  
C. ④②⑤③①  
D. ④②⑤①③
93. ①违章建筑  
②强制拆除  
③通知拆除  
④乱占耕地  
⑤提起诉讼  
A. ②④①③⑤  
B. ①②⑤④③  
C. ④①⑤③②  
D. ④①③②⑤
94. ①签订合作协议  
②进行市场调研  
③初步确定合作对象  
④进行谈判  
⑤达成合作意向  
A. ①②③④⑤  
B. ②③④⑤①  
C. ③②④①⑤  
D. ④②③⑤①
95. ①加入世界贸易组织  
②成功发射神舟六号载人飞船  
③澳门回归



④召开中共十四届六中全会

⑤抗击非典

A. ③①⑤②④

B. ③④①②⑤

C. ④③①⑤②

D. ④③⑤①②

**五、逻辑判断。**每道题给出一段陈述，这段陈述被假设是正确的，不容置疑的。要求你根据这段陈述，选择一个答案。注意：正确的答案应与所给的陈述相符合，不需要任何附加说明即可以从陈述中直接推出。

**请开始答题：**

96. 已知“如果小明去上海，那么小红或小青也去上海”为真。

则以下选项必然为真的是（ ）。

A. 如果小红不去上海，那么小明不去上海

B. 如果小青不去上海，那么小明不去上海

C. 如果小红和小青都不去，那么小明不去上海

D. 如果小明不去上海，那么小红和小青均不去上海

97. 机关行政现代化是指机关行政观念民主化，规章制度人性化管理手段科学化。机关行政现代化是现代社会发展和科学技术进步的客观需要，是经济和社会发展的的重要组成部分。现在，行政环境已经发生了根本性的划时代的变化。

以下选项能最好地补充上文的是（ ）。

A. 行政机关也不能因循守旧，裹足不前，必须随着时代的发展而发展，随着时代的变化而变化

B. 行政机关必须树立很强的时效观念，及时高效地为行政首长和行政部门提供服务

C. 每个行政机关必须制定行之有效的规章制度，这是实现机关行政规范化管理和提高行政效率的保证

D. 随着科学技术和计算机网络技术的发展，行政机关必须实现办公自动化和网络化

98. 目前，越来越多的新婚夫妇登记结婚前进行个人财产公证，这种做法无论对于社会还是对于家庭都是有利的，应当提倡，至少不应反对。

以下选项不能支持上述结论的是（ ）。

A. 在以往的离婚案件中，财产分割是最棘手的问题之一

B. 我国离婚率上升的一个重要原因，是当事人双方社会地位的失衡，如名人离婚率是最高的

C. 世界先进国家中，婚前财产公证被普遍接受

D. 婚前财产公证，只要当事人对此有正确的理解，不会对新婚夫妇的感情产生不利的影

99. 甲、乙、丙三人从法学专业毕业后，一人当上了律师，一人当上了法官，一人当上了检察官，对三人的职业存在以下三种猜测：

(1) 甲当上了律师，乙当上了法官；

(2) 甲当上了法官，丙当上了律师；

(3) 甲当上了检察官，乙当上了律师。

如果上述三种猜测都只是对了一半，则以下选项必然成立的是（ ）。

A. 甲可能是律师，也可能是法官

B. 乙可能是法官，可能是律师

C. 甲是检察官，乙是法官，丙是律师

D. 丙可能是律师，也可能是检察官

100. 大多数独生子女有以自我为中心的倾向，有些非独生子女同样有以自我为中心的倾向。以自我为中心倾向的产生有各种原因，但一个共同的原因是缺乏父母的正确引导。

如果上述断定是真，则以下选项必然为真的是（ ）。

- A. 缺乏父母正确引导的孩子都是独生子女  
 B. 有些缺乏父母正确引导的孩子是非独生子女  
 C. 以自我为中心的孩子都是独生子女  
 D. 缺乏父母正确引导的非独生子女少于独生子女
101. 一位橄榄球教练这样教导他的队员：“橄榄球比赛，从来是以结局论英雄，在球场上不是赢家，就是输家，在球迷的眼里，要么是勇者，要么是弱者，由于所有的赢家都是勇者，所以每个输家都是弱者。”  
 以下选项最有力地支持教练观点的是（ ）。
- A. 在球迷看来，球场上勇者必胜  
 B. 在球迷眼中，有些输赢未必是公正的  
 C. 输赢不是区分勇者和弱者的唯一标准  
 D. 在球迷眼中，队员的拼搏精神更为重要
102. 一棵树的年头越长，它的年轮越多。老王家槐树的年头比老张家的长，因此，老王家槐树的年轮比老张家的多。  
 以下选项中的推理与题干最为类似的是（ ）。
- A. 今年百米冠军的成绩比去年好，李某是今年的百米冠军。因此，他今年的百米成绩比去年的好  
 B. 班级人数越多，教学效果就越差。一班教学效果比二班的差，因此，一班人数比二班的多  
 C. 海拔越高，空气越稀薄。因为西宁的海拔高于西安，因此，西宁的空气比西安稀薄  
 D. 一种外语的词汇量越大，就越难学。法语比西班牙语难学，因此，法语的词汇量比西班牙语的大
103. 小李买了块新手表，他把新手表与家里挂钟对照，发现手表比挂钟一天走慢了三分钟，后来他又把家中的挂钟时间与电台的标准时对照，发现挂钟时间比电台标准时一天快了三分钟，小李因此推断，他的手表是准确的。  
 以下选项中，对小李推断的评价正确的是（ ）。
- A. 小李的推理是正确的，因为他的手表是新的  
 B. 小李的推理是正确的，因为他的手表比挂钟走慢三分钟，挂钟比标准走快三分钟，这说明手表是准时的  
 C. 小李的推断既无法断定为准确的，也无法断定为错误的  
 D. 小李的推断是错误的，因为挂钟比标准走快的三分钟与手表比挂钟走慢的三分钟并不等值
104. 加入世贸后，随着外资、外企与内资、内企之间人才争夺战的展开，高素质的人才的收入会迅速提高，农村大量劳动力脱离土地流入城镇以及城镇失业率的上升致使普通劳动者的收入水平难以提高。  
 由此可以推出（ ）。
- A. 地区收入差距将会扩大  
 B. 经济增长会引起通货膨胀  
 C. 知识、技能是决定劳动者收入水平的主要因素  
 D. 加入世贸不等于我国经济的快速增长
105. 最近调查显示，许多寻求医疗帮助的人处于很大的压力下。医学研究同时显示，压力能够恶劣影响一个人抵御感染的免疫系统。因此，当一个人处于压力线的时候，他更可能得病。  
 以下选项最能支持上面的结论是（ ）。
- A. 在放假期间，大学医院所处理的疾病数目显著增多  
 B. 在考试期间，大学医院所处理的疾病数目显著减少  
 C. 许多企业报道在职员感到管理压力期间，缺勤显著地减少

D. 许多为职员提供健康保险的企业同时提供应付压力的研习班

## 第五部分 资料分析

针对下列图、表或文字回答问题。你应根据资料提供的信息进行分析、比较、计算、处理。你可以在题本上运算。

请开始答题：

一、根据以下资料，回答问题。

国际货币基金组织（IMF）近期公布了2006年按汇率法计算的世界180个国家（地区）国内生产总值（GDP）和人均国内生产总值的统计结果。结果显示，2006年中国经济继续保持平稳较快发展势头，国内生产总值仍位居世界第4位；人均国内生产总值居世界第108位。

2006年国内生产总值居世界前十位的国家分别是美国、日本、德国、中国、英国、法国、意大利、加拿大、西班牙和巴西。中国国内生产总值达到26301亿美元，占世界的比重为5.5%，比上年的5.0%提高0.5个百分点；相当于美国的19.9%，比上年的18.0%提高1.9个百分点。2006年中国台湾省本地生产总值为3557亿美元，居世界第22位，比上年降低1位；中国香港本地生产总值为1895亿美元，居世界第36位，比上年降低1位。

去年世界经济保持了较高的增长速度，世界GDP增长率为5.4%，比上年提高0.5个百分点，其中发达国家GDP增长率为3.1%，比上年提高0.6个百分点；发展中国家GDP增长率为7.9%，比上年提高0.4个百分点。2006年GDP增长率居世界前十位的国家分别是阿塞拜疆、马尔代夫、安哥拉、不丹、亚美尼亚、苏丹、特立尼达和多巴哥、拉脱维亚、毛里塔尼亚、爱沙尼亚。2006年中国GDP增长率为10.7%，位居世界第11位，比上年提高0.3个百分点。

2006年人均国内生产总值居世界前十位的国家分别是卢森堡、挪威、卡塔尔、冰岛、爱尔兰、瑞士、丹麦、美国、瑞典和荷兰。中国人均国内生产总值突破2000美元，达到2001美元，比上年增长16.6%，居世界第108位，与上年位次持平，仍为中下收入国家；中国香港人均本地生产总值为27466美元，居第27位，比上年下降了2位；中国台湾省人均本地生产总值为15482美元，居第36位，与上年的位次持平。

106. 2006年中国国内生产总值和人均国内生产总值分别位居世界的（ ）。

- A. 第4位、第11位
- B. 第11位、第4位
- C. 第4位、第108位
- D. 第11位、第108位

107. 2006年台湾生产总值相当于中国的（ ）。

- A. 18.0%
- B. 13.5%
- C. 16.6%
- D. 19.9%

108. 2006年美国国内生产总值约为（ ）亿美元。

- A. 436752
- B. 263011
- C. 289703
- D. 132166

109. 2006年中国GDP增长率比发展中国家GDP增长率（ ）。

- A. 快2.8个百分点
- B. 快5.3个百分点
- C. 慢2.8个百分点
- D. 慢5.3个百分点

110. 以下选项不正确的是（ ）。

- A. 2006年世界各国GDP增长率居首位的国家是阿塞拜疆
- B. 2006年人均国内生产总值居世界第8位的是美国
- C. 2005年中国香港人均国内生产总值居世界第29位
- D. 2006年台湾人均国内生产总值是中国人均国内生产总值的7.7倍

二、根据以下材料，回答问题。



