

第一部分 常识判断

根据题目要求，在四个选项中选出一个最恰当的答案。

请开始答题：

- （ ）不属于中国国家公务员制度的主要内容。
A. 坚持党的领导
B. 考试录用制
C. 贯彻政治中立原则
D. 公务员分组管理制度
- 党的十六届三中全会指出，我国要建立（ ）现代产权制度。
A. 归属清晰、权责明确、保护严格、流转顺畅
B. 产权清晰、权责明确、政企分开、管理科学
C. 归属清晰、权责明确、管理科学、流转顺畅
D. 产权清晰、权责明确、保护严格、管理科学
- 1994年1月1日起全面推行的（ ）改革是我国财政管理体制改革的的重要举措。
A. 复式预算制度
B. 分税制
C. 建立公共财政管理体制
D. 积极财政政策
- 我国现行的农村基本经济制度是（ ）。
A. 以集体经济为主体，多种经济形式共同发展
B. 以家庭承包经营为基础，统分结合的双层经营体制
C. 土地家庭承包经营制度
D. 以粮为纲，多种经营的制度
- 古代东方的文明曾经达到很高的水平。其中东方四大文明是指（ ）。
A. 埃及文明、印度文明、中国文明、伊斯兰文明
B. 埃及文明、中国文明、伊斯兰文明、玛雅文明
C. 埃及文明、印度文明、中国文明、美索不达米亚文明
D. 埃及文明、印度文明、中国文明、伊朗文明
- 1910年美国生物学家（ ）创立了染色体——遗传基因理论，由此细胞遗传学有了坚实的基础。
A. 孟德尔
B. 摩尔根
C. 德弗里斯
D. 萨顿
- 1979年英国保守党人撒切尔夫人上台执政，开始推行全面的经济政治和行政改革，成为当代世界范围改革的先声，下面的（ ）措施是撒切尔夫人改革的核心内容。
A. 加强英国同欧盟各国的联系
B. 改革国有企业的内部管理体制改革
C. 私有化
D. 加强政府与工会的联系，提高改革决策的民主化程度
- 为了提高政府预算的科学化程度，美国布什政府继续推行克林顿政府的改革措施，采用（ ）模式。
A. 目标管理预算
B. 绩效预算
C. 零基预算
D. 分项排列预算
- 某市辖区财政局副局长拟晋升为局长，不应履行的任职程序是（ ）。
A. 由区长提名
B. 由市人大常委会决定任命
C. 由市人大常委会报市政府备案
D. 由市人大常委会报市政府批准
- 1990年（ ）在《第五项修炼》一书中首次将学习型组织理论化、系统化。

- A. 彼得 圣吉
B. 威尔逊
C. 盖 彼德斯
D. 萨瓦斯
11. 邓小平提出，应该允许一部分人和一部分地区先富裕起来，并最终实现共同富裕。这一思想体现了公共管理中（ ）这一对基本价值。
A. 稳定与发展
B. 效率与秩序
C. 效率与公平
D. 自由与平等
12. 19 世纪 70 年代以来，随着资本主义的发展，自由资本主义向垄断资本主义过度，政府职能迅速扩展，尤其是政府的（ ）迅速扩展。到 20 世纪 70 年代末，政府已经发展成为社会运行的一种主要的调节工具了。
A. 统治职能
B. 经济职能
C. 经济职能和社会服务职能
D. 民主职能
13. 人类的染色体是由 DNA，即（ ）链构成的，基因就是在 DNA 链上的特定的一个片段。亲代的染色体通过生殖过程传递到子代，这就产生了遗传。
A. 脱氧核糖核酸
B. 氨基酸
C. 多肽
D. 核糖核酸
14. 下面哪一本书不是“四书”之一？（ ）
A. 《大学》
B. 《春秋》
C. 《孟子》
D. 《中庸》
15. 所谓“帕累托最优”是指（ ）。
A. 理性的市场主体在充分权衡比较各种方案优劣的基础上选择最优方案付诸实施的行为
B. 一个人追求和实现自我利益，不以损害他人的利益为前提
C. 产品的零积压
D. 形成产业结构的最优配置
16. 太阳发光发热已经数十亿年，其巨大的能量来源是（ ）。
A. 氢转为氦的热核反应
B. 大量放射性元素的蜕变
C. 激烈的化学反应
D. 其他
17. 我国许多省和自治区与一些周边国家接壤，其中与之接壤国最多的一个省或自治区是（ ）。
A. 广西
B. 云南
C. 西藏
D. 新疆
18. 在公务活动中会见客人时，需要介绍双方彼此认识，应先介绍（ ）。
A. 主方
B. 客方
C. 先介绍处于客厅里的一方
D. 无所谓，都可以
19. 在公务活动中，介绍别人的顺序是先介绍职位高的，还是先介绍职位低的（ ）。
A. 先介绍职位高的
B. 先介绍职位低的
C. 离谁近先介绍谁
D. 无所谓，都可以
20. 中华文明五千年，许多文人墨客写下名篇，流传于世，请你按时代早晚顺序，排列正确的是（ ）。
A. 陶渊明 孟浩然 欧阳修 关汉卿
B. 欧阳修 陶渊明 关汉卿 孟浩然
C. 陶渊明 欧阳修 关汉卿 孟浩然
D. 孟浩然 欧阳修 陶渊明 关汉卿
21. 地球静止卫星轨道平面的方位是（ ）。
A. 透过南北极
B. 和赤道平面重合
C. 和赤道平面夹角为 30°
D. 和赤道平面夹角为 32°

22. 人类的“臭氧行为”，通过禁止生产和使用氟利昂来达到保护臭氧层的目的，对臭氧产生破坏作用的是（ ）。
- A. 氧原子
B. 氟原子
C. 碳原子
D. 氢原子
23. 在美国航天探测研究中，曾计划采用“钷”代替“铀”做推动燃料，但遭到了激烈的反对，其中最可能的原因是（ ）。
- A. 采用“钷”做燃料费用太高
B. “钷”的推动能力比“铀”的推动能力差
C. “钷”的衰减期太长，如果泄漏对宇宙空间环境危害极大
D. 采用“钷”做动力燃料的技术远远不如采用“铀”的技术成熟
24. 空气中氧气与氮气的体积比约为（ ）。
- A. 1:1
B. 1:4
C. 1:5
D. 4:5
25. 以下表述不正确的是（ ）。
- A. 联合国大会是联合国的主要机构之一
B. 安理会是联合国唯一有权采取行动来维持国际和平与安全的机构
C. 世界卫生组织是联合国的专门机构之一
D. 国际妇女组织是联合国的专门机构之一

第二部分 言语理解与表达

本部分包括表达与理解两方面的内容。请根据题目要求，在四个选项中选出一个最恰当的答案。

请开始答题：

26. 宇航员们在起飞前五小时起床，穿上防火绝热的宇航服，衣服上标着字体很大的姓名，吃过早餐后，他们各自将钢笔、小折刀、墨镜、手电、食品塞进宇航服上的许多口袋里，宇航员们还随身带着专门准备的护照，以备万一发生意外在别国领土着落时用来证明自己的身份。最适合做本段文字的标题是（ ）。
- A. 各就各位
B. 出发之前
C. 飞机场
D. 向上蓝天
27. 世上很少有不相吵的夫妻，然而有一点必须加以注意，那就是：千万不要在孩子面前吵！孩子如果听到父母互相指责，父母在孩子心目中的形象就会受损害。夫妻都能想着一点控制自己，注意自己在孩子心目中的形象，不仅对孩子好，而且夫妻之间也能减少或避免争吵。这段文字主要谈论的是（ ）。
- A. 父母要在孩子面前控制自己
B. 父母不要争吵
C. 父母不要在孩子面前争吵
D. 父母要在孩子面前树立好的形象
28. 美国汽车尾部的保险杠上，常常有一些贴语。一次，见到这样一条贴语：“驾车人没现金，因为他家里已有妻子”。另一次，见到一条贴语写的是：“我是一家之主，我这样说是获得妻子许可的”。这些贴语不仅有趣，而且表现了美国人的某些性格特点。从这段文字介绍的贴语中可以看出美国人的哪种性格特点？（ ）
- A. 幽默
B. 乐观
C. 含蓄
D. 怕妻子
29. 英国《太阳报》曾以“什么样的人最快乐”为题，举办一次有奖征答活动，编辑们从应征的八万多封来信中评出了四个最佳答案：（1）吹着口哨欣赏自己作品的艺术家；（2）正在用沙子筑城堡的儿童；（3）为婴儿洗澡的母亲；（4）手术成功挽救了危重病人的医生。对这四个答案，准确理解的是（ ）。
- A. （1）工作要做得完美，（2）要充满幻想，（3）要有母爱，（4）要帮助别人
B. （1）工作要做得完美，（2）要保持童心，（3）要有母爱，（4）要有帮助别人的本事
C. （1）工作要有创造性，（2）要保持童心，（3）要有母爱，（4）要帮助别人
D. （1）工作要有创造性，（2）要充满幻想，（3）要有母爱，（4）要有帮助别人的本事
30. 在对美国总统政绩的衡量中，一般在没有战争等非常事件的情况之下，对外关系占的比重是非常小的，_____主要看的还是总统对美国本身发展所做出的贡献。填入横线上最恰当的是（ ）。
- A. 可是总统在处理对外关系上还是不敢掉以轻心
B. 对外关系只要不犯什么大的错误，就过得去了
C. 人们还是习惯通过对外关系的处理来评价总统的实力
D. 即使在对外关系上犯非常大的错误也可以获得民众的原谅
31. 我写的人物大都有原形。移花接木，_____这种情况是有的。也偶尔“杂取种种人”，把几个人的特点集中到一个人的身上，但多以一个人为主。当然不是照搬原形。把生活里的某个人原封不动地写到纸上，这种情况是很少的。填入横线上最恰当的是（ ）。

- A. 把想象中的一个人的特点放到几个人身上
 B. 把生活里的某个人原封不动地写到小说里
 C. 把想象中的一个人的特点放到小说中的人物身上
 D. 把生活里的某个人的特点安在小说中的人物身上
32. 一般来说，越是能直接产生经济效益的科技成果，越应该由受益的经济组织提供激励；越是产生巨大社会效益和长远、公益性质的科技成果，越是应该由政府提供激励，这一原则符合世界上许多国家的实际情况。
 这段话主要支持了这样一种观点（ ）。
- A. 激励应该由适当的主体来承担
 B. 激励应该选择适当的客体
 C. 政府应该对科技成果提供更多的激励
 D. 世界上许多国家的政府都很重视对科学研究的激励和支持
33. 1801年在英国同丹麦进行的哥本哈根海战中，英国海军英雄纳尔逊上校在激战中处境危险，接到了撤退的信号，舰长弗雷问他怎么办，他将望远镜举到他一只失明的眼睛跟前说：“我没有看见那个信号。”于是又勇敢地继续指挥战斗，结果取得了胜利，丹麦被迫停战。
 这段话的主题是（ ）。
- A. 纳尔逊擅自做主，但取得了胜利
 B. 纳尔逊根据实际情况决定是否执行命令
 C. 纳尔逊找到了不执行命令的理由
 D. 纳尔逊打仗不顾一切危险
34. 对于一个要干好很多事情的人来说，生命太短促了。如果一个人能尽早地清楚自己能做什么、自己愿做什么事，并且坚持努力去做这些事情，那么，他很可能做出最大的成绩，并保持心灵最为宁静。
 这段话主要支持了这样一种论点，即一般人不能做好许多不同工作的原因是他（ ）。
- A. 希望心情平静
 B. 很少有更多的兴趣
 C. 不能自觉地进行人生设计
 D. 有一种专门化的自然倾向
35. 英国旅游者约翰对他的导游小李说：“你很美”，小李谦虚地回答：“哪里，哪里！”约翰愣了一下，又将小李打量了一番，说：“全身都美，尤其是眼睛很美。”
 这个故事告诉我们（ ）。
- A. 不了解一些习惯用语中的约定俗成的含义，可导致在交流中出错
 B. 即使是汉语说得很好的外国人，也可能在讲汉语时闹一些笑话
 C. 在语法结构上英语和汉语存在很大的差别
 D. 在表达意义方面，口头语言不及书面语言精确
36. 德国经济学家恩格尔通过调查发现，穷人与富人用于食品开支的差别并不大，真正的差别在奢侈性开支上，因此，食物开支在一个家庭的总开支中比重越大，表明这个家庭越穷。然而，我国居民的各个阶层都把购置以家用电器为代表的高档消费品作为家庭奋斗的第一目标，此目标实现后，才考虑改善吃穿等必要消费。结果，穷人与富人用于奢侈性开支的差距并不大，明显的差别倒在吃饭等必要性开支上。
 因此，我们可以认为（ ）。
- A. 恩格尔是一个很整脚的经济学家
 B. 在我国食物开支在一个家庭预算中的比重越大，表明这个家庭越富
 C. 在西方，富人的食物开支在家庭的总开支中比重较大
 D. 我国应适当降低食品价格

37. 苏轼认为，贾谊才学虽高，但不能审时度势，以致郁郁而死，未尽其才，他还说：“贾生志大而量小，才有余而积不足也。”从贾谊的境遇看，苏轼说的是实情，但是，导致贾谊悲剧的原因主要是当朝统治者的错误。
- 下列陈述，不符合文意的是（ ）。
- A. 苏轼认为，识见不足是阻碍贾谊才智发挥的重要原因
B. 苏轼没有着眼社会环境来分析贾谊悲剧的本源
C. 苏轼经历坎坷，所以与未尽其才的贾谊同病相怜
D. 苏轼肯定了贾谊的才学，指出了他性格上的弱点
38. 做一件事，往往有利也有弊，只有利而无弊的事情几乎是没有的。《淮南子·人间训》云：“众人皆知利利而病病也，唯圣人知病之为利，知利之为病也。”看来古人已经注意到利弊的辩证关系。
- 下列表述符合文意的是（ ）。
- A. 现实生活中的事情都由利与弊组成
B. 要善于分析，争取做到利大于弊
C. 利与弊不是绝对的，是可以转化的
D. 我们应当努力争取做到有利无弊
39. 储蓄是经济增长的资源基础，但最大限度的储蓄增长率决不是最优的经济增长率，只有适度的储蓄增长率才容易带来较优的经济增长率。
- 对这段话理解正确的一项是（ ）。
- A. 储蓄增长率应与经济增长率相等
B. 储蓄增长率与最优的经济增长率成反比
C. 储蓄的增长速度如果无限度地增长，会影响经济增长速度
D. 最大限度的储蓄增长率要求最优的经济增长率与之相适应
40. 婴儿很早就表现出掌握环境的强烈愿望。由于控制动作的技能发展缓慢，所以他们的活动受到了限制，他们还没有足够的本领来支配环境以独立生存，在这个意义上，应该说他们是不能自立的。
- 这段话中说婴儿“不能自立”指的是（ ）。
- A. 婴儿完全不能独立存活
B. 婴儿不能控制自己的动作
C. 婴儿仅有独立生存的愿望
D. 婴儿活动受到他人限制
41. 中国的小说和世界各国一样，也是从神话传说开始的，有人说我国小说有很多起源，如寓言、史传、诸子散文等等。其实源只有一个，那就是神话传说，神话是把神人化，传说是把人神化，这两者之间的界限很难确切划分。
- 下列陈述，符合文章的是（ ）。
- A. 中国和世界各地的小说，发展历程是一样的
B. 神话传说是中国小说的实源，寓言等是虚源
C. 神话写神，小说写人，所以二者是源流关系
D. 神话和传说界限不分明，小说都从这儿开始
42. 通常，所有罐子都具有实用性，然而有些罐子却并不是被设计来供使用的。例如：有一种铬黄罐，是一种非常美丽的用于观赏的艺术品，并不能被用来盛东西。
- 据此可知（ ）。
- A. 形式与功能并不一定总是一致的
B. 不应制造那些没有实用价值的东西
C. 审美的客体并不具有实用价值
D. 实用性应该是第二方面的考虑
43. 35年前，北京西直门大街高井胡同口上的小学堂里，有两个个性不同的孩子，一个歪毛儿，生来拘谨，腼腆怯懦，计较表面毁誉，受了欺负就会哭；一个小秃儿，天生洒脱、豪放、有

劲，有力量蕴蓄在里面不轻易表面出来，被老师打断了藤教鞭，疼得眼泪在眼睛里乱转也不肯掉下一滴泪珠或讨半句饶。由于这点禀赋的差异便分歧了我和老舍一生的途径。

下列陈述，不符合文意的是（ ）。

- A. 作者坦诚地述说自己童年时的性格弱点
- B. 小时候个性不同，导致日后作者与老舍终于分手
- C. 不同的个性，对一个人一生的选择影响很大
- D. 作者很欣赏老舍坚韧而又不轻易表露的个性

44. 顾客并不像通常所描述的那么容易被操纵，他们知道自己需要什么，他们需要的东西和别人认为他们需要的可能有很大的差别。

据此可知（ ）。

- A. 广告投资与商品销售不成正比
- B. 大多数人购物认准一种品牌多年不变
- C. 在进入商店前顾客大都知道要买哪种牌子的商品
- D. 顾客在商店购物时一般不喜欢他人的介绍或建议

45. 原始信仰中对死亡起因的神话解释在现代人看来或许是村野浅陋的，但这些观念信仰在原始生活中却是不可或缺的，它们作为一种心理支持力量和社会支持力量而存在。

这段话支持了这样一种观点（ ）。

- A. 这些观念信仰所以能存在，是由于有心理和社会力量的支持
- B. 原始信仰中对死亡起因的神话解释对现代人来说是不可或缺的
- C. 在对死亡起因的神话中，原始人获得了心理和社会的支持力量
- D. 现代人的心理和社会支持力量是从原始信仰中发源的

46. 当一个高压锋遭遇一个低压锋时，通常会发生降水，气象学家通过测量两个相向移动的锋的速度，可确定它们什么时候、在什么地方相遇，借此来预测降水。

据此可知（ ）。

- A. 气象学家的职责是预测降水
- B. 低压锋总是向着高压锋方向移动
- C. 降水不一定需要低压锋的出现
- D. 某些降水的预测是基于高、低压锋的一般反应

47. 市场经济配置资源虽然有许多优越性，但也有许多弊端，只有计划经济配置资源才是人类社会资源配置的高级理想形式。传统计划经济配置资源导致许多弊端，其原因是社会主义资源配置方式的误解。

这段话支持了这样一种观点（ ）。

- A. 市场经济配置资源与计划经济配置资源各有许多弊端
- B. 计划经济配置资源有着更多的优越性
- C. 传统计划经济是人类社会资源配置的高级理想形式
- D. 市场经济资源配置应与计划经济资源配置相结合

48. 史学家的思想和撰述一旦成为某种社会表现形态，即以各种形式的著作出现，它就成为了社会的一种精神产品，从而也就必然要接受社会的评论。

这段话支持的观点是（ ）。

- A. 史学家的思想和撰述必然要接受社会的评论
- B. 社会的精神产品必然要接受社会的评论
- C. 史学家的思想和撰述是一种必然要接受社会评论的社会表现形态

- D. 史学家的著作一出现，史学家就必然要接受社会的评论
49. 所谓土地国有化前提下的租赁制，是指国家作为全部土地产权的所有者，通过协议将这些土地的使用权租给各自独立的农业商品生产者进行经营，并由承租者向国家缴纳定量租金的一种土地经营方式。
- 据此可知，如果实行了土地国有化前提下的全面租赁制，则（ ）。
- A. 土地将归农业商品生产者所有 B. 农民将成为各自独立的农业商品经营者
C. 土地的所有权与使用权统一归国家所有 D. 土地的经营方式将发生变化
50. 国务院最近通知提出：国有企业本年 9 月 30 日以前的离休人员从本年 10 月起分别按通知所列标准增加离退休金。1992 年以来，有些地区、单位和部门未按规定自行给离退休人员增加了离退休金的，其增加金额高于本通知规定标准的，这次不再增加离退休金。
- 由此最能得出的一个结论是（ ）。
- A. 自行增加的离退休金高于“通知”规定标准的部分，国务院未予否认
B. 擅自增加的离退休金行为得到国务院理解
C. “通知”仅作为增加离退休金的参照标准
D. 对此法规可根据本地区、单位情况作适当补充

第三部分 数量关系

在这部分试题中，每道题呈现一段表述数字关系的文字，要求你迅速、准确地计算出答案。

请开始答题：

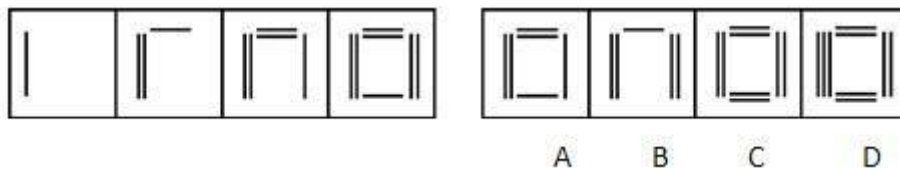
51. 1, 11, 31, 41, 61, ()
A. 71
B. 81
C. 91
D. 101
52. 6, 7, 9, 13, 21, ()
A. 25
B. 26
C. 32
D. 37
53. 3, 6, 12, 21, 33, ()
A. 44
B. 46
C. 48
D. 50
54. 5, 10, 17, 26, 37, ()
A. 48
B. 49
C. 50
D. 51
55. 3, 15, 7, 12, 11, 9, 15, ()
A. 6
B. 8
C. 18
D. 19
56. $175 \times 195 + 175 \times 5 - 175 \times 100$ 的值为 ()。
A. 17500
B. 16500
C. 17455
D. 16455
57. $0.0495 \times 2500 + 49.5 \times 2.4 + 51 \times 4.95$ 的值是 ()。
A. 4.95
B. 49.5
C. 495
D. 4950
58. 某一收藏家按二角五分（即 $\frac{1}{4}$ 元）银币面值 2000% 的比率收购银币。在此比率下，李明现有四个二角五分的银币，则他可得到 () 元。
A. 20
B. 50
C. 200
D. 2000
59. 在道路的一旁有等间隔的 6 棵树，第 1 棵树与第 4 棵树之间的距离是 60 米。试问第 1 棵树到最后一棵树之间的距离是多少米？ ()
A. 90
B. 100
C. 105
D. 120
60. 有 24 个四位数，每一个四位数都是用 2, 4, 5, 7 四个数字各使用一次所组成。这些四位数中只有一个四位数是另一个四位数的倍数，试问此四位数是下面哪一个？ ()
A. 5724
B. 7245
C. 7254
D. 7425
61. 一堆马铃薯共有 44 个，已知何磊每分钟可削好 3 个马铃薯，他削 4 分钟后，马海开始工作，若马海每分钟可削 5 个马铃薯，则当他们完成削皮工作时，马海削了多少个马铃薯？ ()
A. 20
B. 24
C. 32
D. 40

第四部分 判断推理

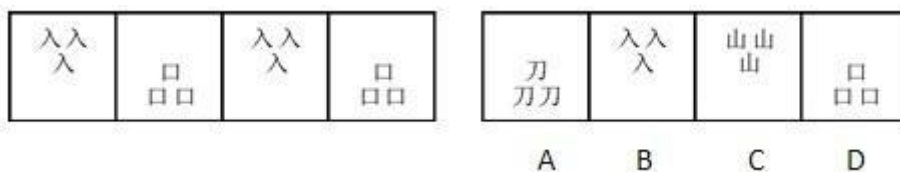
一、图形推理。请按每道题的答题要求作答。

请开始答题：

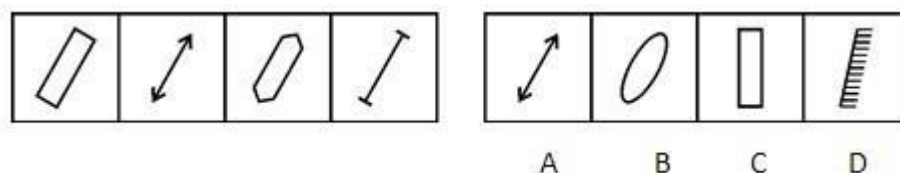
66. 从所给的四个选项中，选择最合适的一个填入问号处，使之呈现一定的规律性（ ）。



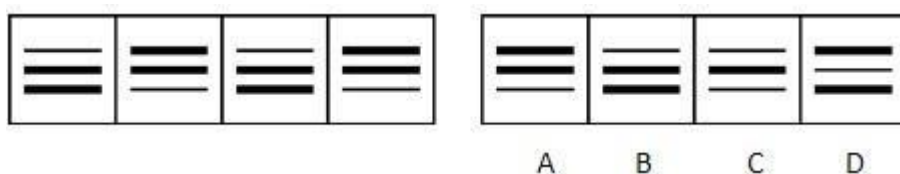
67. 从所给的四个选项中，选择最合适的一个填入问号处，使之呈现一定的规律性（ ）。



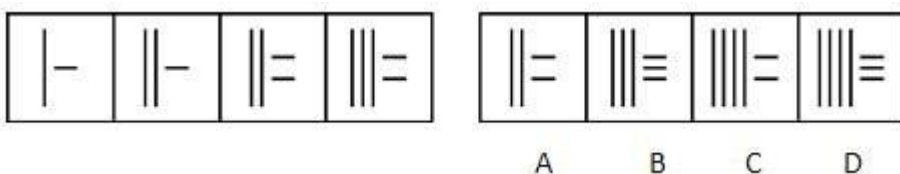
68. 从所给的四个选项中，选择最合适的一个填入问号处，使之呈现一定的规律性（ ）。



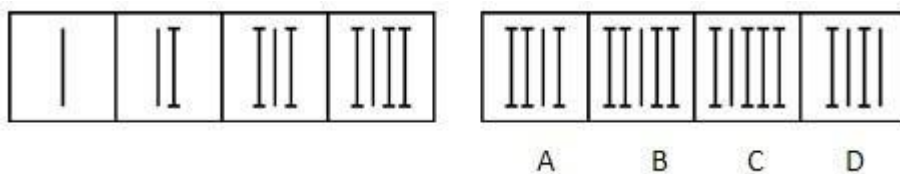
69. 从所给的四个选项中，选择最合适的一个填入问号处，使之呈现一定的规律性（ ）。




70. 从所给的四个选项中，选择最合适的一个填入问号处，使之呈现一定的规律性（ ）。



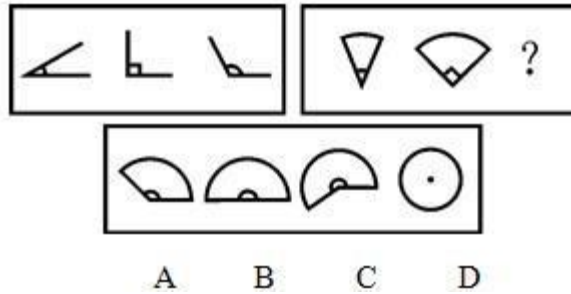
71. 从所给的四个选项中，选择最合适的一个填入问号处，使之呈现一定的规律性（ ）。



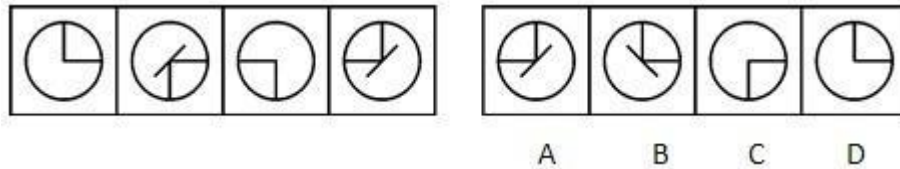
72. 从所给的四个选项中，选择最合适的一个填入问号处，使之呈现一定的规律性（ ）。



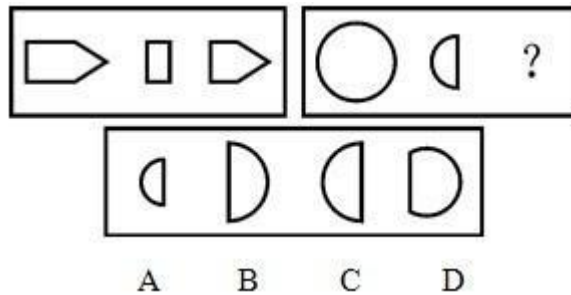
73. 从所给的四个选项中，选择最合适的一个填入问号处，使之呈现一定的规律性（ ）。



74. 从所给的四个选项中, 选择最合适的一个填入问号处, 使之呈现一定的规律性 ()。



75. 从所给的四个选项中, 选择最合适的一个填入问号处, 使之呈现一定的规律性 ()。



二、定义判断。每道题先给出定义, 然后列出四种情况, 要求你严格依据定义, 从中选出一个最符合或最不符合该定义的答案。注意: 假设这个定义是正确的, 不容置疑的。

请开始答题:

76. 名誉权是指民事主体所享有的获得和维持其名誉的客观公正评价的一种权利。根据上述定义, 下列不属于侵犯名誉权的一项是 ()。
- A. 某杂志在文章中评论某歌星是最没有艺德的艺人, 简直不懂礼貌为何物.....
 - B. 一只家养的八哥每天喊: xx坏, xx坏..... (xx为其主人邻居的名字)
 - C. 某杂志未经明星本人许可将其照片压在《擦亮眼睛看有钱人》标题下面
 - D. 某报道为衬托主人公今天的好, 便抬出其昨天的非。说其是“远近闻名的二扯扯, 平时手脚不干净, 村民都敬而远之”
77. 姓名权是指公民依法享有的决定、使用、改变自己姓名, 并排除他人侵害的权利。根据上述定义, 下列属于侵犯姓名权的是 ()。
- A. 某公司在上报公司人员时将已经被解雇的王某的姓名及职称一起报上
 - B. 李某给狗取的名字与邻居张某女儿的名字一样, 以致经常发生误会
 - C. 解某出生时跟随父亲姓解, 父母离异后母亲把他的姓变更为跟继父姓“王”
 - D. 一只家养的八哥每天喊: xx坏, xx坏..... (xx为其主人邻居的名字)
78. 人格障碍又称病态人格, 是指人格发展的异常状态, 其偏离正常的程度已经远远超出了正常的变动范围。根据上述定义, 下列属于人格障碍的是 ()。

A. 孙某自小就疑心重，不合群。初中时，多疑敏感更加明显，常向老师告状“某同学说自己坏话”，“某同学联合别人孤立自己……”老师经调查发现并非如此，向其解释但不能使其解除怀疑，认为老师有意偏袒

B. 老张是大家一致公认的好人，但在退休后听不进他人的好言相劝，有病不看病，拒绝吃药打针，结果因延误时机而断送了性命

C. 小王活泼好动，性格外向，但是与他人交往时常常感情用事，喜欢主动说自己有很多知心朋友，但实际情况并非如此；平时与人交往就像在舞台上演戏，表情丰富，说话内容夸张，喜欢奇装异服，吸引别人对自己的注意

D. 在某机关工作的老刘因工作不顺心，加之婚姻受挫，致使脾气反常，以致逐渐生活破败，不愿接触人，并猜疑周围人对他不好，父母不关心自己，常自言自语，独自发笑，甚至乱跑、打人毁物，对空辱骂，反复洗手

79. 精神虐待是指危害或妨碍儿童情绪或智力发展，对儿童自尊心造成损害的长期重复行为或态度。

根据上述定义，下列属于精神虐待范畴的是（ ）。

A. 星期天洋洋因为吃了很多零食而不喜欢吃饭，妈妈就编各种故事来哄她，比如不吃饭就会被警察叔叔带走等，洋洋因为害怕就把饭吃了

B. 张海偷了家里的 200 元钱，被父亲发现后大骂一顿，然后又把他关在屋子里整整一天，让他闭门思过

C. 王红的爸爸对她比较严厉，所以从小王红就很害怕爸爸，从不主动和爸爸说话，有什么事情总是和妈妈商量

D. 6 岁的小明有夜溺的毛病，每次都受到母亲的严声训斥，造成小明精神紧张，每天做恶梦

80. 劳务报酬所得是指个人独立从事各种雇佣的劳务所得。

根据上述定义，下列各项不属于劳务报酬所得的是（ ）。

A. 按照客户要求，代为进行设计服务所得的报酬

B. 委托从事会计核算服务所得的报酬

C. 委托从事文字翻译所得的报酬

D. 将外国小说翻译出版所取得的报酬

81. 薪金所得是指以纳税人任职、受雇的公司、企业、事业单位、机关、团体、部队、学校等单位的所在地作为所得来源的收入。

根据上述定义，下列各项不属于薪金所得的是（ ）。

A. 年终加薪

B. 劳动分红

C. 津贴

D. 稿酬收入

82. 无因管理是指没有法定的或约定的义务，为避免他人的利益受损失而为他人管理事务或提供服务的行为。

根据上述定义，下列构成甲、乙之间无因管理关系的是（ ）。

A. 甲、乙比邻而居，一日狂风大作，乙家阳台上的花盆摇摇欲坠，随时可能落入甲家的庭院之中，甲搭梯子上乙的阳台，将花盆取下，放入自己屋中保管

B. 甲、乙比邻而居，乙出门旅游，委托甲将自己的大门钥匙转交给丁保管

C. 甲、乙比邻而居，乙出门旅游，请甲保管自己的大门钥匙

D. 甲、乙比邻而居，乙出门旅游，付给甲 10 元钱，让甲保管自己的大门钥匙

83. 有价证券是指设定并证明持券人有权取得一定财产权利的书面凭证。

根据上述定义，下列不是有价证券的是（ ）。

- A. 股票
B. 支票
C. 房产证
D. 债券

84. 头脑风暴法是指为了寻求最佳解决方案，所有的小组成员都提出自己的解决方案，集体讨论结束后再决定最佳办法，某大学建筑专业三班就如何争创优秀班集体，开展了一次头脑风暴法。

根据上述定义，下面哪种行为与头脑风暴法相悖？（ ）

- A. 杨颖兰提出：每个同学要交 10 元钱，用来包装班集体
B. 张建功提出他会游说哥哥格外关注自己
C. 刘畅认为班委会应立即调整
D. 曹正认为该项活动根本不值得开展，他的话受到了班主任狠狠批评

85. 第二课堂是指通过社会实践、演讲会、音乐欣赏等各种方式，在学校正式课堂教学之外开设的寓教于乐，用以扩大知识面、提高综合能力的文体活动。

根据上述定义，下面哪类活动不应属于第二课堂？（ ）

- A. 某学校组织学生到北京旅游，大家呆了一周，游玩了长城、故宫等地
B. 某大型国企为塑造企业文化，保持职工稳定，花巨资为子弟学校建了体育馆，学生上体育课有了更好的设施
C. 秦亮的父母生意忙，没时间照顾他，就为他请了钢琴老师，每周老师都上他家教弹四个小时的钢琴
D. 丁军喜欢流行音乐，前不久他和几个好朋友买票去工人体育馆听了张信哲、周杰伦的演唱会

三、逻辑判断。每道题给出一段陈述，这段陈述被假设是正确的，不容置疑的。要求你根据这段陈述，选择一个答案。注意：正确的答案应与所给的陈述相符合，不需要任何附加说明即可以从陈述中直接推出。

请开始答题：

86. 一个新学琴的人每天练琴不少于两小时，故如果一个人每天练琴少于两小时，他就不是新学琴的。

下列哪项和上面的推理形式相同？（ ）

- A. 老人每天晨练，因此，如果一个人晨练，那他可能是老人
B. 科研人员每天做实验，因此，不是科研人员就不需要每天做实验
C. 如果小孩的日睡眠时间少于八小时就会有损健康，因此，小孩必须保证日睡眠八小时
D. 任何人都会生病，因此，不生病的一定不是人

87. 群众对领导的不满，不仅仅产生于领导的作为和业绩不佳，而且很大程度上是由于对领导的期望与实际表现之间的差距，因此，如果竞选一个大企业的领导，竞选者竞选演说中一味许愿，是一种不聪明的做法。

从以上议论可以推出以下哪个结论？（ ）

- I. 群众的期望值足够低，领导即使胡作非为，群众也不会产生不满情绪。
II. 只要领导的作为和业绩出色，群众就不会产生不满情绪。
III. 由于群众的期望值高，尽管领导的工作成绩优秀，群众的不满情绪仍可能存在。

- A. 只有I
B. 只有III
C. 只有I和III
D. 只有II和III

88. 甲：各国的国情和传统不同，但是对于谋杀和其他严重刑事犯罪实施死刑，至少是大多数人可以接受的，公开宣判和执行死刑可以有效地阻止恶性刑事案件的发生，它所带来的正面影响比负面影响肯定大得多，这是社会自我保护的一种必要机制。
- 乙：我不能接受你的见解，因为在我看来，对于十恶不赦的罪犯来说，终身监禁是比死刑更严厉的惩罚，而一般的民众往往以为只有死刑才是最严厉的。
- 以下哪项是对上述对话的最恰当的评价？（ ）
- A. 两个人对什么是最严厉的刑事惩罚有不同的理解
 - B. 两个人对执行死刑的目的有不同的理解
 - C. 两个人对产生恶性案件的原因有不同的理解
 - D. 两人对是否大多数人都接受死刑有不同的理解
89. 加拿大的一位运动医学研究人员报告说，利用放松体操和机能反馈疗法，有助于对头疼进行治疗，研究人员抽选了 95 名慢性牵引性头疼患者和 75 名周期性偏头疼患者。教他们放松头部、颈部和肩部的肌肉，以及用机能反馈疗法对压力和紧张程度加以控制，其结果是，前者中有 3/4，后者中有一半人报告说，他们头疼的次数和剧烈程度有所下降。
- 以下哪项如果为真，最不能削弱上述论证的结论？（ ）
- A. 参加者接受了高度的治疗有效的暗示，同时，对病情改善的希望亦起到推波助澜的作用
 - B. 多数参加者志愿合作，虽然他们的生活状况蒙受着巨大的压力，在研究过程中，他们会感觉到生活压力有所减轻
 - C. 参加实验的人中，慢性牵引性头疼患者和周期性偏头疼患者人数选择不等，实验设计需要进行调整
 - D. 放松体操和机能反馈疗法的锻炼，减少了这些头疼患者的工作时间，使得他们对于自己病情的感觉有所改善
90. 关节尿酸炎是一种罕见的严重关节疾病，一种传统的观点认为，这种疾病曾于 2500 年前在古埃及流行，其根据是在所发现的那个时代的古埃及木乃伊中，有相当高的比例可以发现患有这种疾病的痕迹，但是，最近对于上述木乃伊骨骼的化学分析使科学家们推测，木乃伊所显示的关节损害实际上是对尸体进行防腐处理时使用的化学物质引起的。
- 以下哪个如果为真，最能进一步加强对题干中所提及的传统观点的质疑？（ ）
- A. 在我国西部所发现的木乃伊中，同样可以发现患有关节尿酸炎的痕迹
 - B. 关节尿酸炎是一种遗传性疾病，但在古埃及人的后代中这种病的发病率并不比一般的人要高
 - C. 对尸体进行成功的防腐处理，是古埃及人一项秘不宣人的技术，科学家至今很难确定他们所使用物质的化学性质
 - D. 一些古埃及的木乃伊并没有显示患有关节尿酸炎的痕迹
91. 以下是某报刊登的一则广告：对咽喉患者，有 4/5 的医院都会给开“咽喉康含片”。因此，你若患了咽喉炎，最佳的选择是“咽喉康含片”。
- 以下哪项如果为真，最能对该广告的论点提出质疑？（ ）
- A. 一些其他名牌药品，不但对咽喉炎有较好的疗效，对治疗其他疾病也有益处
 - B. 其他五分之一的医院，也给病人开“咽喉康含片”，只是不像广告说的那样频繁
 - C. 有的药厂以很低的价格向医院推销药品，甚至采取给回扣等办法进行促销
 - D. 对 10 名患者的临床实验的结果表明“咽喉康含片”没有明显的副作用
92. 许多消费者在超级市场挑选食品时，往往喜欢挑选那些用透明材料包装的食品，其理由是透明包装可以直接看到包装内的食物，这样心里有一种安全感。

以下哪项如果为真，最能对上述心理感觉构成质疑？（ ）

A. 光线对食品营养所造成的破坏，引起了科学家和营养专家的高度重视

B. 食品的包装与食品内部的卫生程度并没有直接的关系

C. 美国宾州州立大学的研究结果表明：牛奶暴露在光线之下，无论是何种光线，都会引起风味上的变化

D. 有些透明材料包装的食品，有时候让人看了会倒胃口，特别是不新鲜的蔬菜和水果

93. 鸡油菌这种野生蘑菇生长在宿主树下，如在道氏杉树的底部生长，道氏杉树为它提供了生长所需的糖分，鸡油菌在地下用来吸取糖分的纤维部分为它的宿主提供养料和水。由于它们之间的这种互利关系，过量采摘道氏杉树根部的鸡油菌会对道氏杉树的生长不利。

以下哪项如果为真，将对题干的论述构成质疑？（ ）

A. 鸡油菌不只在道氏杉树底部生长，也在其他树木的底部生长

B. 很多的森林中生长的野生蘑菇在其他地方无法生长

C. 对某些野生蘑菇的采摘会促进其他有利于道氏杉树的蘑菇的生长

D. 如果没有鸡油菌的滋养，道氏杉树的种子不能成活

94. 去年，甲国从第三世界国际基金会得到了 25 亿美金的贷款，它的国民生产总值增长了 5%；今年，该国向第三世界国际基金会提出两倍于去年的贷款要求，它的领导人并因此期待今年的国民生产总值将增加 10%。但专家认为，即使上述贷款要求得到满足，该国领导人的期待也很可能落空。

以下哪项如果是真的，将支持专家们的意见？（ ）

I. 去年该国 5% 的 GNP 增长率主要得益于农业大丰收，而这又是难得的风调雨顺所致

II. 该国的经济还未强大到足够吸收每年 50 亿美金的外来资金

III. 该国不具有足够的重工业基础以支持每年 6% 以上 GNP 增长率

A. 只有 II

B. 只有 I 和 II

C. 只有 II 和 III

D. I、II、III

95. 请明星做电视广告可以增加广告的收视率。但是，这样做也有缺点，观众对此类广告印象深刻的是明星及其表演，很少有人记得清楚广告所要推销的产品的名称。这样，不论明星广告多么吸引人，它们究竟能否起到促销产品的作用是值得怀疑的。

以下哪项是上面的议论所假设的？（ ）

A. 明星广告降低了所推销的产品在收视者心目中的信誉

B. 能够记住广告中的明星的形象，对厂家的产品也会起到一定的促销作用

C. 明星广告的成本要高于一般广告，因此，它在促销效果上也高于一般广告

D. 电视广告的最终目的是让收视者记住产品的名称，而不是其他

96. 发达国家中冠心病的发病率是发展中国家的将近三倍。有人认为，这主要归咎于发达国家中人们的高脂肪、高蛋白、高热量的食物摄入。相对来说，发展中国家较少有人具备条件生这种富贵病。其实，这种看法很难成立，因为，目前发达国家的人均寿命高于 70 岁，而发展中国家的人均寿命还不到 50 岁。

以下哪项如果成立，最能加强上述反驳？（ ）

A. 统计资料显示，冠心病患者相对集中在中老年年龄阶段，即 45 岁以上

B. 目前冠心病患者呈年轻化趋势

C. 发展中国家人们的高脂肪、高蛋白、高热量食物的摄入量，无论是总量还是人均量，都在逐年增长

D. 相对发展中国家来说，发达国家的人们具有较高的防治冠心病的常识和较好的医疗条件

97. 在电视广告节目中，经常可以看到同一个广告反复播放的情况。其实这种做法是不高明的，因为同一个广告反复播放会引起电视观众的厌烦，从而对厂家所要推销的产品产生反感，厂家做电视广告的目的不仅没有达到，反而产生了负效应。
- 以下哪项如果成立，最能削弱上面的论证？（ ）
- A. 电视观众并不在乎一个广告反复播放
 B. 只要广告之后的电视节目精彩。观众不会对一个广告的反复播放产生反感
 C. 只要广告精彩，观众愿意该广告反复播放
 D. 电视广告的目的就是让观众记住厂家所要推销的产品，而不应顾及观众当时的感受
98. 交通部科研所最近研制了一种自动照相机，凭借其对速度的敏锐反应，当且仅当违规超速的汽车经过镜头时，它会自动按下快门。在某条单向行驶的公路上，在一个小时中，这样的一架照相机共摄下了 50 辆超速的汽车的照片。从这架照相机出发，在这种公路前方的 1 千米处，一批交通警察于隐蔽处在进行目测超速汽车能力的测试：在上述同一个小时中，某个警察测定，共有 25 辆汽车超速通过。由于经过自动照相机的汽车一定经过目测处。故可以断定，这个警察的目测超速汽车的准确率不高于 50%。
- 要使题干的推断成立，以下哪项是必须假设的？（ ）
- A. 在该警察测定为超速汽车中，包括在照相机处不超速而到目测处超速的汽车
 B. 在该警察测定为超速汽车中，包括在照相机处超速而到目测处不超速的汽车
 C. 在上述一个小时中，在照相机处不超速的汽车，到目测处不会超速
 D. 在上述一个小时中，在照相机处超速的汽车，到目测处一定超速
99. 屋子里有 4 台电脑，每台电脑开机时都显示一句话：
 第一台电脑显示：“所有电脑都安装了办公软件”；
 第二台电脑显示：“此电脑中安装了游戏软件”；
 第三台电脑显示：“此电脑没有安装图象处理软件”；
 第四台电脑显示：“有些电脑中没有安装办公软件”。
- 如果其中只有一句真话，那么以下哪项为真？（ ）
- A. 所有的电脑都安装了办公软件
 B. 所有的电脑中都没有安装办公软件
 C. 第二台电脑中安装了游戏软件
 D. 第三台电脑中安装了图象处理软件
100. 李力、张红、王明分别被北京大学、清华大学、复旦大学录取。他们各被哪个学校录取的，同学们做了如下的猜测：
 同学甲说：李力被清华大学录取，王明被复旦大学录取；
 同学乙说：李力被复旦大学录取，张红被清华大学录取；
 同学丙说：李力被北京大学录取，王明被清华大学录取。
- 结果同学们的猜测各对了一半。
- 那么，他们的录取情况是（ ）。
- A. 李力、张红、王明分别被复旦大学、清华大学、北京大学录取
 B. 李力、张红、王明分别被清华大学、复旦大学、北京大学录取
 C. 李力、张红、王明分别被北京大学、清华大学、复旦大学录取
 D. 李力、张红、王明分别被清华大学、北京大学、复旦大学录取

