

## 第一部分 常识判断

根据题目要求，在四个选项中选出一个最恰当的答案。

请开始答题：

1. 根据宪法和法律，下列机关中有权制定自治条例的不包括（ ）。  
A. 自治县人民代表大会  
B. 民族乡人民代表大会  
C. 自治州人民代表大会  
D. 自治区人民代表大会
2. 根据《中华人民共和国禁毒法》的规定，下列吸毒成瘾的人适用强制隔离戒毒的是（ ）。  
A. 怀孕的妇女  
B. 年龄超过 60 周岁的  
C. 正在哺乳自己不满 1 周岁婴儿的妇女  
D. 不满 16 周岁的未成年人
3. 《刑法》规定，个人贪污数额在 5000 元以上不满 1 万元，犯罪后有悔改表现、积极退赃的，对犯罪人（ ）。  
A. 可以减轻处罚或免于刑事处罚  
B. 应当从轻或减轻处罚  
C. 应当减轻或免除处罚  
D. 可以从轻或减轻处罚
4. 根据《宪法》规定，下列有关人民代表大会制度的表述，不正确的一项是（ ）。  
A. 人民代表大会制度是我国的政体  
B. 人民代表大会制度是我国的根本政治制度  
C. 人民代表大会制度是共和制政体的一种具体表现形式  
D. 人民代表大会是我国的政权组织形式
5. 根据《民法通则》规定，如果公民在战争期间下落不明，申请宣告其失踪的法定期间应自（ ）起计算。  
A. 失踪人最后离开住所之日  
B. 失踪人最后离开居所之日  
C. 战争结束之日  
D. 公民音讯消失之日
6. 根据《宪法》的相关规定，非法拆阅邮件或窃听公民电话等通讯内容的行为是侵犯公民（ ）的行为。  
A. 通信自由  
B. 隐私权  
C. 通讯秘密  
D. 人格权
7. 下列现象中，违反民法平等原则的是（ ）。  
A. 甲公民（年满 25 周岁）可以结婚，而乙公民（13 周岁）不能结婚  
B. 甲公司（经登记为综合证券公司）可以从事证券业务，而乙公司（登记为房地产公司）则不可以从事证券业务  
C. 国家税务机关可以在征收法律关系中使用强制措施，无视纳税人的意志而依法征税  
D. 某市合同管理干部认为，在本市建筑工程的招投标中，市委领导的亲戚具有优先订立合同的权利
8. 根据《公务员法》相关规定，公务员的处分形式不包括（ ）。  
A. 记大过  
B. 降级  
C. 降职  
D. 撤职
9. 宁某系某公安局刑事警察，在下班回家路上发现有人斗殴，便上前制止。当宁某发现其中一方为有过隙的李某时，便叱喝其住手。李某发现是宁某遂破口大骂。宁某听得怒火顿起，拔枪将李某大腿击伤。根据《国家赔偿法》相关规定，李某能否获得国家赔偿（ ）。  
A. 能，因为宁某系公安人员，且损害是在执行职务的过程中发生  
B. 不能，因为宁某的行为属于与行使职权无关的个人行为  
C. 能，因宁某的行为属于违法使用武器、警械造成公民身体伤害的情形

- D. 不能，因宁某是刑事警察，无治安管理职权，且宁某是在下班时间作出的行为
10. 根据《行政许可法》规定，行政机关实施行政许可，不得向申请人提出（ ）等不正当要求。
- A. 违法行政收费，购买指定商品                      B. 索取财物，提供赞助  
C. 接受有偿服务，超越范围检查                      D. 购买指定商品，接受有偿服务
11. 《行政机关公务员处分条例》第三十二条规定，行政机关公务员挪用公款赌博的，给予（ ）处分。
- A. 撤职或者开除    B. 降级或者撤职  
C. 记过或者降级    D. 警告或者记过
12. 根据《劳动合同法》规定，直接涉及劳动者切身利益的规章制度和重大事项决定实施过程中，工会或者职工认为不适当的，有权（ ）。
- A. 不遵照执行    B. 宣布废止  
C. 向用人单位提出，通过协商予以修改完善                      D. 请求劳动行政部门给予用人单位处罚
13. 根据《民事诉讼法》的有关规定，关于撤回上诉的正确说法是（ ）。
- A. 民事上诉人可以任意撤回其上诉，这是其有处分权的表现  
B. 民事上诉人在上诉被人民法院受理后就不能撤回上诉  
C. 民事上诉人只有在人民法院认定其上诉理由不充分时，方可撤回上诉  
D. 民事上诉人可申请撤回上诉，但是否准许，由二审人民法院审查后作出裁定
14. 根据我国《宪法》规定，下列关于私有财产权的表述不正确的一项是（ ）。
- A. 任何人不得剥夺公民的私有财产  
B. 国家依照法律规定保护公民的私有财产权和继承权  
C. 公民合法的私有财产不受侵犯  
D. 国家为了公共利益的需要，可以依照法律规定对公民的私有财产实行征收或者征用，并给予补偿
15. 公文的语言应当（ ）。
- A. 诙谐幽默    B. 古朴典雅  
C. 庄重规范    D. 华丽流畅
16. 处置突发性公共事件的首要原则是（ ）。
- A. 迅速性原则    B. 安全性原则  
C. 组织性原则    D. 慎重性原则
17. “中国”作为我国国名的简称，开始于（ ）。
- A. 夏朝    B. 清朝  
C. 秦朝    D. 辛亥革命后
18. 奥林匹克的旗帜由五种不同颜色的环圈组成，分别是代表五大洲，其中红色代表的是（ ）。
- A. 欧洲    B. 美洲  
C. 亚洲    D. 非洲
19. 著名的意大利比萨斜塔倾斜的主要原因是（ ）。
- A. 塔底地层下陷的缘故    B. 受到地震的影响  
C. 常年遭受飓风吹袭的结果    D. 钟塔的木料砖石年久破损失修
20. 公务员在涉外活动中，要特别注意国际礼仪。以下不符合国际礼仪的是（ ）。
- A. 一起乘坐电梯及上车时，请女士先行  
B. 闲谈时询问美国客人前一段得了什么病  
C. 接待来访的外国客人时，请客人坐右边的座位

D. 在德国，提前抵达访问地点后等到了约定时间再敲门

## 第二部分 言语理解与表达

本部分包括表达与理解两方面的内容。请根据题目要求，在四个选项中选出一个最恰当的答案。

请开始答题：

21. 中国传统的言说方式是“以言去言”，《老子》首章“道可道，非常道；名可名，非常名”非常清楚地表述了这一点。老子的论述可以从两方面来理解：首先，“道”、“名”是可以道、可以名的；其次，可道、可名的“道”、“名”并非那恒常的“道”、“名”。可见，在老子看来，作为世界本真的“道”、“名”是与作为言说工具的道、名不一样的。真正的“道”、“名”虽然可以被言说，但被言说的并不是真正的“道”、“名”；然而，如果完全不用言说，则根本无法论述“道”、“名”。因此，老子提倡一种“以言去言”的言说方式，即通过使人认识、领悟所言之道，达到“无言”，撤去语言的迷障，直达“道”之本真。

根据这段话，以下说法正确的一项是（ ）。

- A. 老子认为“道”、“名”是不可言说的
  - B. 老子认为被言说的“道”、“名”与作为世界本真的“道”、“名”是同一的
  - C. 老子言说“道”、“名”最终是为了使人认识、领悟“道”的本真
  - D. 老子认为不应用言说的方式论述“道”、“名”
22. “信息”一词在古拉丁语中有“描述、陈述、概要”等意思，在英语中有“通知、报告、消息、报道、情报、知识、资料、数据”等多种含义。在汉语中“信”和“息”合成一个词，最早见于唐代《暮春怀故人》诗中“梦断美人沉信息”句。在日常用语中指“音信、消息”。

这段文字主要说明了（ ）。

- A. “信息”概念的本质属性
  - B. “信息”是事物运动状态的陈述
  - C. “信息”的意思
  - D. “信息”的含义是变化发展的
23. 记忆没有体积，它却既可以让人敞开襟怀去拥抱整个世界，又可以使人的心眼儿狭窄得芥蒂难容。

这段话的意思是（ ）。

- A. 记忆的作用巨大，无所不包
  - B. 记忆可让人宽容，也可让人妒忌
  - C. 记忆的作用无法把握，可大可小
  - D. 记忆提醒人们做事不可太死板
24. 清代有人写了这样一幅对联：“不要百姓半文钱，原非异事；但问一官二千石，所造何功？”此联告诉官吏，不拿百姓半文钱是起码的为官之德，并非什么特殊的事迹，重要的是要问一问享受着国家的俸禄作出了什么政绩。

最能概括上面文字的一项是（ ）。

- A. 为政不在多言，须息息从省身克己而出
  - B. 为官要一心为民，两袖清风，三思而行，四方太平
  - C. 为官既要廉政，还要勤政
  - D. 为官不光要廉政，还要勤政，要有功于民
25. “国学”研究在 20 世纪 90 年代之所以能够形成热潮，原因还在于历史对于 80 年代“文化批判”之矫枉过正倾向的一种修正和制衡。许多中国知识分子清醒地看到，将中国现实中一切丑恶现象都与传统文化挂起钩来，是对传统文化的莫大误解；传统文化中许多有价值的东西不但不可以否定，而且是应当大力弘扬的。

下列关于这段话的理解，错误的一项是（ ）。

- A. 80 年代的“文化批判”存在矫枉过正的倾向

- B. 人们对于文化的认识存在着误解  
 C. “国学”研究热潮始于 80 年代的“文化批判”  
 D. 传统文化中有许多有价值的东西应当大力弘扬
26. 在对美国总统政绩的衡量中，一般在没有战争等非常事件的情况之下，对外关系占的比重是非常小的，对外关系只要不犯什么大的错误，就过得去了，主要看的还是总统对美国本身发展所作出的贡献。  
 这段话的主要意思是（ ）。  
 A. 衡量美国总统的政绩主要看他在对外关系上的表现  
 B. 美国总统在战争中的表现是评价其政绩的主要标准  
 C. 在没有战争等非常事件的情况之下，对外关系不太重要  
 D. 在没有战争等非常事件和对外关系过得去的情况下，对美国总统政绩的评价主要看他对美国发展的贡献
27. 不要过分地依赖语言。不要总是企图在语言上占上风。语言解不开的，事实可以解开。语言解开了而事实没有解开的话，语言会失去价值，甚至于只能添乱。  
 这段话的主要观点是（ ）。  
 A. 事实比语言更有力量  
 B. 平常不要说太多的话以免惹出是非  
 C. 没有事实基础的语言是毫无价值的  
 D. 语言是不重要的，事实才是重要的
28. 相对主义作为一种历史悠久的哲学学说以拒斥确定性为其基本理论特色。表现在本体论上，它否认存在永恒的、超历史的“本体”；表现在认识论上，它否认存在绝对真理和可独立存在的“最终语汇”；表现在价值论上，它否认存在终极的、确定的价值原则。当代相对主义融合了后现代主义的某些因素，对于历史上的相对主义有所发展，但从根本上说，其基本价值立场并无改变，它反对思维上的一元性、封闭性和独断性，否定同一性，强调“差异性”，要求理论思维从一元走向多元，从封闭走向开放，从独断走向宽容，从单调走向杂色。  
 下列关于这段话内容的理解，错误的一项是（ ）。  
 A. 相对主义的基本理论特色是拒斥确定性  
 B. 在本体论意义上，相对主义否认终极的、确定的价值原则  
 C. 当代相对主义与历史上的相对主义的基本价值立场是一致的  
 D. 当代相对主义和历史上的各种相对主义都否定“同一性”，强调“差异性”
29. 我们当下有些报刊的文化品格每况愈下，其主要表现为：一是过于看重时尚，过于追求娱乐化效果以迎合大众的猎奇心理；二是过度炒作公众人物，将平凡的公众形象神秘化和庸俗化。细看近几年一些媒体的热门话题，有许多走时尚的路子，唯独与民众的生活远了。  
 这段话指出了当下有些报刊存在的问题是（ ）。  
 A. 看重时尚，迎合大众的猎奇心理  
 B. 炒作公众人物，将其神秘化和庸俗化  
 C. 过于看重时尚，热衷炒作公众人物  
 D. 走时尚的路子，脱离民众
30. 卢梭是伟大的思想家。他构思 20 年，写作 3 年，完成了教育巨著《爱弥尔》，提出了较为系统的自然教育理论，从根本上否定了封建家教教育，在世界教育史上具有划时代的伟大意义。卢梭很重视体育，在《爱弥尔》中，从婴儿出生到成人各个年龄阶段的教育中都有身体教育的内容。  
 对这段文字含义的正确理解是（ ）。  
 A. 卢梭对教育发展有贡献  
 B. 卢梭的贡献主要在体育  
 C. 卢梭的贡献在教育领域  
 D. 卢梭发展了自然教育理论

31. 不能说你在一个领域干得好，就借此可以进入其他领域。每个学科每个领域都有它的积累、尊严和门槛儿，明星们随便跨越这个门槛儿就是一种特权，是对公平的一种践踏。另外，高校对教授的聘用和职称的评定，有着严格、规范的程序，聘请明星任教授如果不能按照程序进行，对其他教授来说就是不公平，损害了程序的公平和正义。
- 这段话的主要观点是（ ）。
- A. 明星担任教授是对学术尊严的亵渎  
B. 不按照评聘职称的程序聘请明星任教授是对学术公平的一种践踏  
C. 学术界有学术界的尊严  
D. 聘请明星任教授损害了评聘职称程序的公平和正义
32. 与自然科学对传统的超越是对传统的不断证伪不同，人文科学对传统的超越不是对传统的证伪并弃置的过程，而是表现为对传统的不断兼容，因此，尽管在人文科学的发展中的每一次创新都以突破传统为前提，但传统总是具有某种恒定的价值，成为后人进行研究和创新的参照，甚至在某些方面是后人无法企及的典范。
- 上面这段话表明（ ）。
- A. 人文科学的发展是在对传统不断证伪的过程中寻求超越的  
B. 人文科学与自然科学有着不同的发展模式  
C. 人文科学发展中的创新都是以继承传统为前提的  
D. 传统的东西都是后人难以望其项背的
33. 20世纪50年代初，海明威在《老人与海》中宣告：“……一个人并不是生来要给打败的”，“你可以把他消灭掉，可就是打不败他。”这种铮铮作响的语言，充满了对人的同情与崇高的信仰。而几乎就是在同时，当人们被战争的阴云所困扰，福克纳大声宣告：“我不想接受人类末日的说法……人是不朽的”，“作家的特殊的光荣就是振奋人心，提醒人们记住勇气、荣誉、希望、同情、怜悯之心和牺牲精神，这就是人类昔日的荣耀。”人的生存的挫折感是真实的存在。在人遭受苦难陷入迷惘的时刻，看来只有那些具有海明威、福克纳精神力量的作家，会给人们以鼓舞，让人们勇敢地生存下去。
- 下列关于这段话的理解，正确的一项是（ ）。
- A. 海明威、福克纳的作品都集中展现了人们在苦难与挫折面前的迷惘  
B. 海明威、福克纳的作品都表达了乐观主义的主题  
C. 海明威、福克纳都过分夸大了人的精神力量  
D. 海明威、福克纳都强调作家要以自己的作品振奋人心、给人们以鼓舞
34. 一个城市展现的文化常潜藏在语言文字中，因为它像呼吸一样平常，所以极易被忽略，然而它又是不可或缺的。
- 能够最准确地复述上面这段话的一项是（ ）。
- A. 潜藏在语言文字中的城市文化极易被忽略，但不可或缺  
B. 城市文化潜藏在语言文字中，极易被忽略  
C. 潜藏着城市文化的语言文字像呼吸一样容易被忽略，但不可或缺  
D. 一个城市的文化常常通过它的城市文学表现出来
35. 这里是典型的黄土高原沟壑区，水土流失非常严重，土地贫瘠，十年九旱。尽管有国家的支持，使部分群众走上了致富道路，但仍有不少农民挣扎在贫困线上。
- 这段话主要说明了（ ）。
- A. 黄土高原地区经济落后，文化匮乏  
B. 与其等待国家的政策救助，当地政府不如因地制宜，发展地区特色经济

- C. 恶劣的自然环境是当地人民走向富裕的一个主要障碍  
D. 解决部分西北贫困地区人民群众的温饱问题是当务之急
36. 民族主义是一个极为复杂的概念，国内外学术界至今也没有一个可为大多数人所接受的民族主义的界定。现代民族观念和现代民族主义都发源于西方。在西方向东方的政治、经济、文化的扩张中，东方国家整合与弘扬自身的民族传统与民族文化并吸取西方现代民族和民族主义的历史经验和理论观念，将来自西方的思想意识和本土的精神传统结合起来，逐步唤起了民族意识的觉醒，发起了反对西方统治和掠夺的民族主义运动，从而缔造了一个不同于传统东方世界的全新的东方。
- 下列观点不能直接从以上文字中推出的是（ ）。
- A. 东西方的民族主义都有着非常悠久的历史  
B. 东方民族主义在其形成过程中吸取了西方现代民族和民族主义的历史经验和理论观念  
C. 东方民族主义建立在东方民族意识觉醒的基础上  
D. 东方民族主义是反对西方统治和掠夺的民族运动
37. 随着科学技术、经济、社会的发展和人们认识能力的提高，软科学作为独立的学科开始受到普遍重视。在世界范围内，从当前的发展速度看，软科学必将在广泛的领域发挥越来越大的作用。
- 这段话强调了（ ）。
- A. 人们对软科学重要性的认识在不断提高      B. 软科学应当受到重视  
C. 软科学发展的原因及前景                      D. 人们重视软科学的原因
38. 正是对于理性的崇奉，使得人们对人类的力量与社会的前景充满乐观。这一乐观情绪的产生是有根据的，因为理性取代了上帝，为社会灌输了现代化所必需的观念，如知识、科学、自由、民主等等，建立起了现代社会的价值基础，确认了社会的发展目标及其操作手段。我们难以设想，没有理性的启蒙，人类社会是否还会沉浸在宗教神学的黑暗之中。但是，当理性被无限度地抬升时，它可能产生替代原有的上帝变成另一个“上帝”来任意操纵自然与社会的严重后果。
- 下列关于这段话内容的理解，错误的一项是（ ）。
- A. 没有理性的启蒙，人类社会可能还沉浸在宗教神学的黑暗之中  
B. 对理性的崇奉使人们对人类的力量与社会的前景充满了乐观情绪  
C. 对理性的崇奉导致任意操纵自然与社会的严重后果  
D. 对理性的崇奉使人类建立起了现代社会的价值基础，确认了社会的发展目标及其操作手段
39. 不论动机多么伟大，不论出于多么善良的心地，想要改变一个人，哪怕只是改变一个孩子，都是徒然的——如果他并不理解这种改变。
- 这段话的意思是说（ ）。
- A. 人是很难改变的                                      B. 没有善良的动机就不能使人改变  
C. 孩子和成人一样不容易改变                      D. 只有当人自己理解改变时他才会改变
40. 如何理解人和看待人的存在问题？马克思主义的创始人对此有明确的论述。马克思在《1844年经济学哲学手稿》中说：“有意识的生命活动把人同动物的生命活动直接区别开来。正是由于这一点，人才是类存在物。”在《关于费尔巴哈的提纲》中，马克思批评费尔巴哈“没有把人的活动本身理解为客观的活动”，“不是把它们当作感性的人的感性活动，当作实践去理解，不是从主观方面去理解”。同时指出，“人的本质并不是单个人所固有的抽象物在其现实性上。它是一切社会关系的总和”。在《关于费尔巴哈的提纲》中，马克思和恩格斯又把人的存在理

解为人的“现实生活过程”。马克思主义的人学理论为正确理解人和看待人的存在提供了坚实的理论基础。

根据上述材料，下列表述错误的一项是（ ）。

- A. 马克思主义的人学理论有效吸收了费尔巴哈人学理论的主要观点
- B. 马克思主义的人学理论揭示了人作为“类存在物”的主要原因和根据
- C. 马克思主义的人学理论肯定了人作为“社会关系的总和”的“现实性”和作为“现实生活过程”的承担者的客体性质
- D. 马克思主义的人学理论强调了人的实践的主体性质

41. 一个影视作品，要想有高的收视率或票房价值，作品本身的质量和必要的包装宣传缺一不可。电影《暖》上映以来票房价值不佳但实际上质量堪称上乘。因此，看来它缺少必要的广告宣传和媒介炒作。

这段话表明（ ）。

- A. 影视作品的收视率或价值是作品本身的质量决定的
  - B. 一个影视作品的收视率或票房价值不高，可能与它缺少必要的广告宣传和媒介炒作有关
  - C. 影视作品本身的质量不能影响到它的收视率或票房价值
  - D. 只要加强广告宣传和媒介炒作，质量不高的作品也一樣可以有高的收视率或票房价值
42. 全球化成为今天的一个热门话题，并不意味着人们关于它的任何谈论都是合理的或建立在理性分析的基础上。常常出现的情况倒是：一个问题越是成为讨论的焦点，人们关于它的谈论就越模糊、越混乱，问题的实质就越容易被疏忽和遮蔽。仅就字面而言，全球化是一个无主语的模糊概念，包含了“成为全球性的”、“扩展到全球范围”、“上升到全球水平”、“在全球范围内紧密联系在一起”、“在全球范围内组成一个整体”、“着眼于全球范围进行思考”、“在全球范围内采取行动”等多种含义。经合组织的一份报告指出，“全球化”这个术语最早是由 T 莱维于 1985 年提出的，用来形容此前 20 年间国际经济发生的巨大变化，即商品、服务、资本和技术在世界性生产、消费和投资领域中的扩散。

下列表述符合这段文字原意的是（ ）。

- A. 人们熟知某一话题，意味着人们对它的理解都是清楚的
  - B. “全球化”是一个歧义丛生的概念
  - C. “全球化”主要描述了 1985 年以来国际经济发生的巨大变化
  - D. “全球化”已经成为今天人们熟知并明确把握的一个概念
43. 广义的对话的目的是寻求“对于相关主题的真正理解”，即通过不同主体间的平等对话，达到对于具体问题的“视界融合”，它不是对主体间关于相关主题的理解和阐释的简单的抹平与消解，而是在承认差异的基础上寻求某种共识，从而促进不同主体在“求同存异”基础上对于具体问题的深层次理解和阐释。

根据这段话，下列表述正确的一项是（ ）。

- A. 对话是为了消除误解和差异，在具体问题的理解上达到平等协调统一
  - B. 对话是为了更好地彼此沟通，建立友谊
  - C. 对话是对于不同具体问题的不同理解的自由表达
  - D. 对话是为了寻求对于具体问题的深层理解和阐释，但并不否认差异的存在
44. \_\_\_\_\_我们能够根据自己对历史的体悟或自己对某种社会政治观念的信仰而自由地选择某种立场和倾向的史学理论，然后努力向前挖掘，\_\_\_\_\_我们必定会形成一种逻辑上较为一贯的理论“体系”（内在体系），\_\_\_\_\_也就可以在史学领域展开切实的交流和论辩等，推动史学理论走向健康有效的发展状态。





B. 采取各种办法，大力提高和培养工人的现代技术水平，是加快制造业发展的一件迫在眉睫的大事

C. 这家乒乓球馆设施齐全，可为乒乓球爱好者提供不同档次的球台、球拍、球衣、球鞋等乒乓器材

D. 政治体制能不能和日益市场化的经济体制相适应，是当今中国能否实现社会和谐的关键问题

52. 下列各句中，没有语病的一句是（ ）。

A. 生物学和医学的研究已经确定了人类寿命的生物学上的最大值，不过目前尚不能证明人类的最高寿命有多高

B. 为了避免再发生类似的错误，我们一定要从这次事件中吸取教训，并切实加以改正

C. 只有坚持改革开放的方针，我们国家就会富强起来

D. 能否提高学习成绩，很大程度上取决于自己刻苦努力和积极进取

53. 下列各句中，没有歧义的一句是（ ）。

A. 李玲同学生生日那天收到了许多朋友送来的礼物

B. 今天来了三个学校的老师

C. 艰苦的环境能激发有理想的人奋发向上

D. 他知道这件事没什么大不了的

54. 下列各句中括号内的词语使用不恰当的一句是（ ）。

A. 举国上下纷纷捐款捐物，向遭受地震灾难的四川人民伸出援助之手；你却无动于衷，（细大不捐）。真该想一想，这样做，你不感到羞愧吗

B. 一些地方的执法者缺乏反家庭暴力的法律意识，一句“（清官难断家务事）”，就把家庭暴力排斥在“法”的管辖之外，这直接影响法律的制定和执行

C. （一方水土养一方人）。该地人才成长欣欣向荣，这种变化的奥秘就在于他们努力营造人才成长的良好环境

D. 不能否认，工业造成的大气污染已到了一定程度，如果没有纯洁的空气可供呼吸，买气将继买水之后（堂而皇之）地进入我们的生活

55. 下列各句中，没有语病，语意明确的一句是（ ）。

A. 娃哈哈 AD 钙奶，运用高科技手段，解决了维生素 A 易氧化，不稳定，确保维生素被充分吸收，发挥保护视力之功效

B. 这批进口的种子保管没问题，我们的工作绝对是一流的

C. 一些地方产生“电荒”是有原因的，冰冻三尺非一日之寒，除了冬季取暖用电量上升、江河缺水等原因之外，更与地方煤炭、电力行业长期存在的体制弊端有直接关系

D. 我们兄弟手足情深，怎能丢下生病的哥哥和弟弟去看演出呢

古人比较重视步行，无论是走路的速度，还是步行、体态都有较为明确的划定和区别。步行须遵制合礼是古代礼法的一个重要内容。古代以右、前为尊。道路之上，男居右行，女居左行；与父辈外出，小辈随后相从，不得逾前；与兄弟朋友外出，须并行，有如雁阵，不得超速领先。否则为越位，越位即越礼，要受到非议。在古人看来，走路的速度、方式须在不同的场合有所区别。《尔雅》说：“堂上谓之行，堂下谓之步，门外谓之趋，中庭谓之走，大路谓之奔。”东汉人解释，两脚进曰“行”，徐行曰“步”，疾行曰“趋”，疾趋曰“走”，“奔”即后人所说的奔跑，如果不遵此行走，无疑既不合礼，又不合理。汉代还明文规定在帝王面前要“疾趋”。对朝廷有特殊贡献的人或皇上特别亲近的人，可以免去此礼，当然那是独沐皇恩、荣耀无比的事了。在官场之中，则

有“趋礼”之说。对趋礼的要求也非常严格。如若行走迟缓则要遭到斥责，甚至有降职免官的危险。县令拜谒知府若行步迟缓，知府的守门人便可斥责县令。

在丰富多彩的社会生活中，在不背道逾礼的情况下，古人也十分讲究步行美，以此体现人的性格情趣和风度的教养。先秦君子步行鸣佩玉，既喻示着君子言行举止要符合德行的要求，而佩玉之声伴随着步行的节奏，又显示出一种庄重和谐的美。对待步行，儒道两家态度素不相同。儒家容美于善，道家容美于真。因此，庄子曾尖刻地批评了学行于邯郸的寿陵余子和亦步亦趋效仿孔子走路的颜回，借此嘲讽了儒士们拘守礼义、失去故我的荒唐。但同时，寿陵余子和颜回的行为又从侧面反映了一种“时尚”。寿陵余子认为首都邯郸人的步法独特优美，有节有度，有仪有威，是有许多可学之处的。颜回步、趋、走、奔处处要学孔子，除了他遵守纪律外，起码在他的眼里，这些是非学到手不可的特技，是他人无法企及的极美的东西。汉末至魏晋时代，随着儒学的日益衰落和人们思想的逐渐解放，人们对美的崇尚与追求更为显著，因此节度迟缓不迫、举止舒泰优雅的步行，作为衡量一个人的修养、气质和风度重要标准，常为品评者称誉。乐府民歌《陌上桑》载秦罗敷在拒绝使君求婚时，就夸说自己的丈夫：“盈盈公府步，冉冉府中趋”。

古人还把与步行有关的词语用来表情达意。如常见的徘徊、彷徨、踟蹰等，就被演化为举步不定、犹豫不决的意思。“徒跣”一词，原义是脱掉鞋子赤脚走路，后演化为表示发怒、着急、匆忙和痛苦的情感。徒跣又如倒屣，碰到身份特殊的人或情状特殊的事，需急遽迎接或前往以示重视时常用此词。刘邦赦免了萧何，萧何“徒跣入谢”，即是表示急速前往致谢的意思。

步行这个简单的行为所蕴含的文化内涵丰富多彩，我们从中可以看到某些历史文化现象，这对我们是不无裨益的。

56. 不能说明第1段中提到的“步行须遵制合礼”的一项是（ ）。

- A. 在道路上行走，须受男女、长幼、尊卑的严格限制
- B. 走路的速度、方式在不同场合有明显的划定和区别
- C. 汉代规定除个别功臣或宠臣外，臣子在皇帝面前须疾趋
- D. 官场中，下级在上级面前办事须依礼，不得怠慢放肆

古人比较重视步行，无论是走路的速度，还是步行、体态都有较为明确的划定和区别。步行须

57. 对下列词语在文中的意义，理解正确的一项是（ ）。

- A. 徒跣：本义是表达着急、重视、感谢等感情
- B. 鸣佩玉：行走时，要用手摇动佩玉，以显示步行之美
- C. 踟蹰：举步不定，犹豫不决
- D. 趋礼：古代官场中的一种行走的礼仪，要求行走时要保持迟缓不迫舒泰优雅的步行姿态

58. 作者所说的“某些历史文化现象”不包含下列哪一项？（ ）

- A. 语言文字的发展历史
- B. 思想意识的不同表现
- C. 文化素养的品评标准
- D. 礼法制度的某些侧面

59. 对颜回效仿孔子走路原因的理解，下面正确的一项是（ ）。

- A. 颜回崇拜孔子，想要学习孔子的一切
- B. 颜回走路太难看，常受到他人嘲笑
- C. 在颜回眼里，孔子的步法是他人无法企及的极美的东西
- D. 在当时，孔子被确定为君子的典范

60. 综观全文的内容，以下推断合乎作者观点态度的一项是（ ）。

- A. 作者对古人步行要受礼法的严格限制颇不以为然
- B. 作者写作本文主要是为了介绍一些历史文化现象

- C. 汉末之后人们对步行美的崇尚象征着儒学的衰亡
- D. 写儒道两家对步行的不同态度表明作者尊道贬儒

### 第三部分 数量关系

在这部分试题中，每道题呈现一段表述数字关系的文字，要求你迅速、准确地计算出答案。

请开始答题

61. 21648, 2165, 217, 22, ( )  
A. 4  
B. 3  
C. 2  
D. 1
62. 1, 2, 2, 4, 16, ( )  
A. 64  
B. 128  
C. 160  
D. 256
63. 1269, 999, 900, 330, ( )  
A. 190  
B. 299  
C. 270  
D. 1900
64. 5, 7, 11, 13, ( )  
A. 15  
B. 17  
C. 19  
D. 21
65. 827, 635, 443, ( )  
A. 251  
B. 243  
C. 220  
D. 222
66.  $41.2 \times 8.1 + 11 \times 9.25 + 537 \times 0.19 = ( )$ 。  
A. 527.8  
B. 536.3  
C. 537.5  
D. 539.6
67. 一个两位数的中间加上一个0，那么所得的这个数是原数的9倍，原来这个两位数是多少( )。  
A. 15  
B. 25  
C. 35  
D. 45
68. 商店里花布的米数是白布的2倍，如果每天卖30米白布和40米花布，几天后，白布全部卖完，而花布还剩120米，商店里原来有花布多少米？( )  
A. 360  
B. 300  
C. 240  
D. 180
69. 大小猴子共35只，它们一起去采摘水蜜桃。猴王不在的时候，一只大猴子一小时可采15千克，一只小猴子一小时可采摘11千克。猴王在场监督的时候，每只猴子不论大小每小时都可多采摘12千克。有一天，采摘了8小时，其中只有第一小时和最后一小时有猴王在场监督，结果共采摘了4400千克水蜜桃。在这个猴群中，共有小猴子多少只？( )  
A. 18  
B. 20  
C. 22  
D. 24
70. 由1、2、3、4四个数字组成的四位数共有24个，将它们从小到大排列起来，第18个数是以下哪项？( )  
A. 3241  
B. 3421  
C. 3412  
D. 3214

71. 甲班有 42 名学生，乙班有 48 名学生。已知在某次数学考试中按百分制评卷，评卷的结果各班的数学总成绩相同，各班的平均成绩都是整数，并且平均成绩都高于 80 分，那么甲班的平均成绩比乙班高多少分？（ ）
- A. 10  
B. 11  
C. 12  
D. 13
72. 一个小于 200 的数，它除以 11 余 8，除以 13 余 10，那么这个数是多少？（ ）
- A. 118  
B. 140  
C. 153  
D. 162
73. 三个容积相同的瓶子里装满了酒精溶液，酒精与水的比分别是 2:1，3:1，4:1。当把三瓶酒精溶液混合后，酒精与水的比是多少？（ ）
- A. 133:47  
B. 131:49  
C. 33:12  
D. 3:1
74. 大年三十彩灯悬，彩灯齐明光灿灿，三三数时能数尽，五五数时剩一盏，七七数时刚刚好，八八数时还缺三，请你自己算一算，彩灯至少有多少盏？（ ）
- A. 21  
B. 27  
C. 36  
D. 42
75. 下表显示的是某公司职位和每两个职位的月薪和。根据表格，主任的月薪是多少元？（ ）

职位	会计与出纳	出纳与秘书	秘书与主管	主管与主任	主任与会计
月薪和	3000 元	3200 元	4000 元	5200 元	4400 元

- A. 2600  
B. 2800  
C. 2900  
D. 3100
76. 一个长方形，若将短边长度增加 4 厘米，长边长度增加一倍，则面积是原来的 3 倍，若将长边缩短 8 厘米，就成正方形，则原长方形面积是多少平方厘米？（ ）
- A. 180  
B. 128  
C. 84  
D. 48
77. 二十几个小朋友围成一圈，按顺时针方向一圈一圈地从 1 开始连续报数。如果报 2 和报 200 的是同一个人，那么共有多少个小朋友？（ ）
- A. 26  
B. 25  
C. 24  
D. 22
78. 自然数  $N$  是一个两位数，它是一个质数，而且  $N$  的个位数字与十位数字都是质数，这样的自然数有多少个？（ ）
- A. 4  
B. 6  
C. 8  
D. 12
79. 某人有 350 万元遗产，在临终前，他给怀孕的妻子写下这样的一份遗嘱：如果生下来是个男孩，就把遗产的三分之二给儿子，妻子拿三分之一；如果生下来是个女孩，就把遗产的三分之一给女儿，三分之二给妻子。结果他的妻子生了双胞胎（一男一女），按遗嘱的要求，妻子可以得到多少万元？（ ）
- A. 90  
B. 100  
C. 120  
D. 150

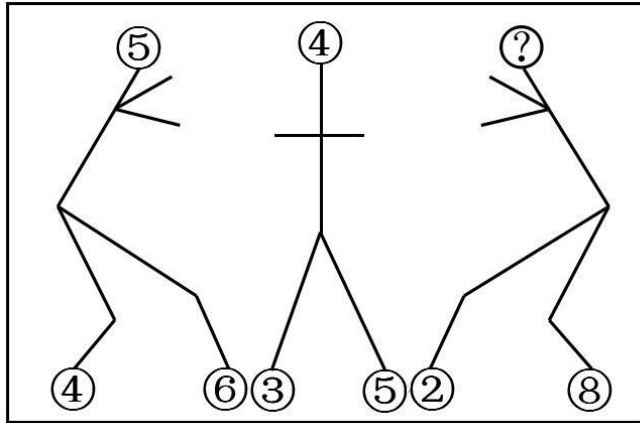


## 第四部分 判断推理

一、图形推理。请按每道题的答题要求作答。

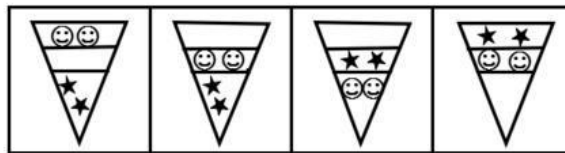
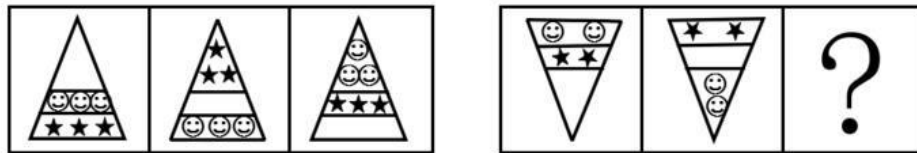
请开始答题：

81. 从所给的四个选项中，选择最合适的一个填入问号处，使之呈现一定的规律性（ ）。



- A. 5  
B. 3  
C. 2  
D. 0

82. 从所给的四个选项中，选择最合适的一个填入问号处，使之呈现一定的规律性（ ）。



A      B      C      D

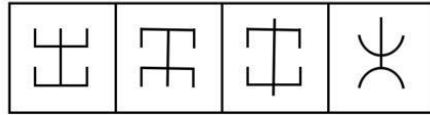
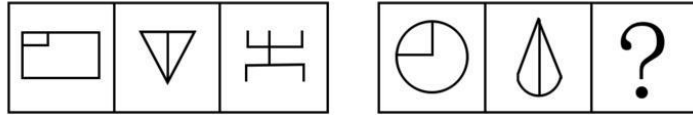
83. 从所给的四个选项中，选择最合适的一个填入问号处，使之呈现一定的规律性（ ）。



A      B      C      D

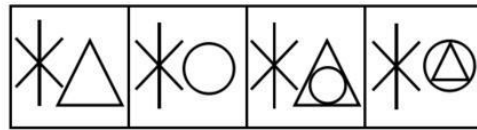
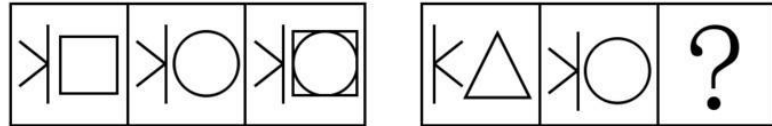
84. 从所给的四个选项中，选择最合适的一个填入问号处，使之呈现一定的规律性（ ）。





A B C D

85. 从所给的四个选项中，选择最合适的一个填入问号处，使之呈现一定的规律性（ ）。



A B C D

二、定义判断。每道题先给出定义，然后列出四种情况，要求你严格依据定义，从中选出一个最符合或最不符合该定义的答案。注意：假设这个定义是正确的，不容置疑的。

请开始答题：

86. 公务员权利是指法律对公务员在履行职责、执行国家公务的过程中可以作出一定行为、要求他人作出某种行为或者抑制一定行为的许可和保障。  
根据以上定义，下列不属于公务员权利的是（ ）。
- A. 公务员全心全意为人民服务
  - B. 公务员获得工资报酬，享受福利、保险待遇
  - C. 公务员获得履行职责应当具有的工作条件
  - D. 公务员对机关工作和领导人员提出批评和建议
87. 公文是指国家机关在处理公务的过程中，形成的具有法定效力和规范体式的文字材料。  
根据以上定义，下列不属于公文的一项是（ ）。
- A. 石家庄市人民政府《关于授予滹沱河生态开发整治工程市长特别奖的决定》
  - B. 文化部《关于同意邀请新加坡歌手林俊到江苏演出的批复》
  - C. 北京政府《关于 2007 年北京地区普通中等专业学校毕业生就业派遣工作安排的通知》
  - D. 东北师范大学教务处《关于 2008 年度工作情况的报告》
88. 产品定位是指企业为了满足目标市场，确定产品（或服务）的功能、质量、价格、包装、销售渠道、服务方式等。  
根据以上定义，下列不属于产品定位的是（ ）。
- A. 我们的产品将为在校学生服务
  - B. 考虑到消费人群的收入状况，我们的产品将定价在 1000 元上下
  - C. 我们的服务主要通过上门维修来实现
  - D. 我们的服务会让你有美的享受

89. 基层群众性自治组织是指依照有关法律规定，以城乡居民（村民）一定的居住地为纽带和范围设立，并由居民（村民）选举产生的成员组成的，实行自我管理、自我教育、自我服务的社会组织。

根据以上定义，下列属于基层群众自治性组织的是（ ）。

- A. 归阳镇人民政府
- B. 南王村村民委员会
- C. 槐底街道办事处
- D. 石家庄阳光物业管理服务公司

90. 国家赔偿是指国家机关及其工作人员违法行使行政、侦察、检查、审判、监狱管理等职权，侵犯公司、法人和其他组织的合法权益并造成损害的，由法律规定的赔偿义务机关对受害人予以赔偿的法律制度。

根据以上定义，下列属于国家赔偿的是（ ）。

- A. 某战士因公殉职，国家追认其为烈士，并发给其家人每年 1 万元的抚恤金
- B. 公务员李某因丢失从邻居处借来的一条金项链，赔了人家 3000 多块钱
- C. 工商机关因错误地吊销某个体户的营业执照，使其蒙受经济损失，因此给予一次性 2 万元

赔偿

- D. 国家财政每年从税收中拿出一部分用于扶贫建设

91. 刻板印象是指人们通过直接或间接经验形成起来的，对社会中某一群体或事物较为固定的看法。

根据以上定义，下列不属于刻板印象的是（ ）。

- A. 商人是唯利是图的
- B. 娱乐圈就是乌七八糟的
- C. 北方人是豪爽的
- D. 静止是相对的

92. 法院调解是指在人民法院审判人员主持下，双方当事人自愿就民事权益争议平等协商，达成协议，从而解决纠纷所进行的活动。

根据以上定义，下列属于法院调解的是（ ）。

A. 某地区林业机关与农业机关因权限交叉产生冲突，告上法庭，后在上级机关的调解下达成协议并撤诉

B. 两家因一件小事发生纠纷，打起了漫长的官司，花费巨大，后都感到不值得，于是私下和解后纷纷撤诉

C. 两夫妻一方提出要离婚，另一方则拿不定主意，后法院审判员在对他们讲明是非的基础上使他们又和好如初

D. 两姐妹合开一家理发馆，后因分红问题发生纠纷，但在她们即将闹上法庭的时候，终于达成谅解

93. 回避条件作用是指当厌恶、刺激或不愉快的情境出现时，个体作出某种反应，从而逃避了厌恶、刺激或不愉快情境，则该反应在以后的类似情境中发生的概率增加。

根据以上定义，下列不属于回避条件作用的一项是（ ）。

- A. 因为贪睡不愿起来吃早餐
- B. 碰到烫的东西，赶紧缩回手来
- C. 感觉屋内人声嘈杂时暂时离去
- D. 看见地上的垃圾后绕开走

94. 委任制是指国家机关在其任免权限范围内，直接确定任用人选，委派其担任一定职务的制度。

根据以上定义，下列属于委任制的一项是（ ）。

- A. 河北省通过公开考试的方式选拔村官
- B. 省委决定任命王远华同志担任×县县委书记
- C. 大明参加上海的公务员考试，被录用在市委工作
- D. 省行政学院任命刘大鹏担任人事处处长

95. 摩擦性失业是劳动者正常流动或生产中不可避免的摩擦造成的短期、局部性失业。根据以上定义，以下属于摩擦性失业的是（ ）。
- A. 由于冬季是旅游淡季，导游小张被公司以节省开支为名炒了鱿鱼
  - B. 李女士在生完孩子后还没有找到新的工作
  - C. 刘三放弃了在石家庄的工作，跑到北京发展，但还没有找到合适的工作
  - D. 小王刚大学毕业，还没有找到自己满意的工作

三、类比推理。每道题先给出一组相关的词，要求你在备选答案中找出一组与之在逻辑关系上最为贴近、相似或匹配的词。

请开始答题：

96. 《李尔王》：莎士比亚
- A. 《奥赛罗》：狄更斯
  - B. 《钦差大臣》：果戈理
  - C. 《海上劳工》：高尔基
  - D. 《阴谋与爱情》：歌德
97. 丝线：刺绣
- A. 中国：国家
  - B. 牙膏：刷牙
  - C. 山脉：山峦
  - D. 课本：读书
98. 洞庭湖：湖南
- A. 洪泽湖：江苏
  - B. 太湖：安徽
  - C. 鄱阳湖：湖北
  - D. 洪湖：江西
99. 希望：渴望
- A. 精确：正确
  - B. 提升：提拔
  - C. 讨厌：厌恶
  - D. 接收：接受
100. 山：山脉
- A. 学生会：学生
  - B. 资本家：工人
  - C. 地主：佃户
  - D. 树木：森林
101. 书写：钢笔
- A. 篮筐：篮球
  - B. 米饭：饭碗
  - C. 性格：坚强
  - D. 投掷：石头
102. 阿胶：山东
- A. 天山雪莲：内蒙古
  - B. 雪梨：四川
  - C. 宣纸：安徽
  - D. 人参：海南
103. 西红柿：番茄
- A. 土豆：玉米
  - B. 蝉：知了
  - C. 棉花：花生
  - D. 冬瓜：南瓜
104. 可口：饭菜
- A. 高兴：开心
  - B. 郑重：答案
  - C. 活跃：气氛
  - D. 团圆：月亮
105. 自由：放纵
- A. 纪律：禁忌
  - B. 民主：科学
  - C. 理智：情感
  - D. 灵魂：肉体

四、逻辑判断。每道题给出一段陈述，这段陈述被假设是正确的，不容置疑的。要求你根据这段陈述，选择一个答案。注意：正确的答案应与所给的陈述相符合，不需要任何附加说明即可以从陈述中直接推出。

请开始答题：

- 106.张三：只有正式党员才可以举手表决。李四：不对吧！孙凤也是正式党员但他并未举手表决。李四的回答是把张三的话错误地理解为以下哪一项？（ ）
- A. 所有举手表决的人都是正式党员                      B. 孙凤要举手表决  
C. 所有正式党员都举手表决了                              D. 没有正式党员举手表决
- 107.一桩投毒谋杀案，作案者要么是甲，要么是乙，二者必有其一；所用毒药或者是毒鼠强，或者是乐果，二者至少其一。
- 如果上述断定为真，则以下哪一项推断一定成立？（ ）
- I该投毒案不是甲投毒鼠强所为。因此，一定是乙投乐果所为。  
II在该案侦破中，发现甲投了毒鼠强。因此，案中的毒药不可能是乐果。  
III该投毒案的作案者不是甲，并且所投的毒药不是毒鼠强。因此，一定是乙投乐果所为。
- A. 只有I    B. 只有II  
C. 只有III     D. 只有I和III
- 108.某足球教练这样教导他的队员：“足球比赛从来是以结果论英雄。在足球比赛中，你不是赢家就是输家；在球迷的眼里，你要么是勇敢者，要么是懦弱者。由于所有的赢家在球迷眼里都是勇敢者，所以每个输家在球迷眼里都是懦弱者。”
- 为使上述足球教练的论证成立，以下哪一项是必须假设的？（ ）
- A. 在球迷看来，球场上勇敢者必胜  
B. 球迷具有区分勇敢和懦弱的准确判断力  
C. 球迷眼中的勇敢者，不一定是真正的勇敢者  
D. 即使在球场上，输赢也不是区别勇敢和懦弱的唯一标准
- 109.哺乳动物是不会灭绝的，华南虎是哺乳动物，所以华南虎是不会灭绝的。
- 对于这个推理，以下哪一项为真？（ ）
- A. 这个推理是错误的，因为它违反了排中律    B. 这个推理是错误的，因为它违反了同一律  
C. 这个推理是正确的，因为它的前提是正确的    D. 不能确定这个推理正确与否
- 110.去年国庆某商场2天时间的销售额为2000万元。今年该商场预计，国庆期间销售额达到7000万元是不成问题的。
- 以下哪一项最能支持上述推理？（ ）
- A. 在前年国庆期间，前5天的销售额就达到5000万元  
B. 国庆期间，逛商场购物成为人们的主要选择  
C. 该商场不仅交通便利，购物环境舒适，而且商品质量上乘，服务热情周到，当地人都喜欢去该商场购物  
D. 在每年国庆期间，该商场发现每天的销售额是差不多的
- 111.厂长：采用新的工艺流程可以大大减少炼铜车间所产生的二氧化硫。这一新流程的要点是用封闭式熔炉替代原来的开放式熔炉。但是，不仅购置和安装新的设备是笔很大的开支，而且运作新流程的成本也高于目前的流程。因此，从总体上说，采用新的工艺流程将大大增加生产成本而使本厂无利可图。总工程师：我有不同意见。事实上，最新的封闭式熔炉的熔炼能力是现有的开放式熔炉无法相比的。
- 在以下哪个问题上，总工程师和厂长最可能有不同意见？（ ）

- A. 采用新的工艺流程是否一定使本厂无利可图  
 B. 运作新流程的成本是否一定高于目前的流程  
 C. 采用新的工艺流程是否确实可以大大减少炼铜车间所产生的二氧化硫  
 D. 最新的封闭式熔炉的熔炼能力是否确实明显优于现有的开放式熔炉
112. 有甲、乙、丙、丁四个朋友，他们分别是音乐家、科学家、天文学家和逻辑学家。在少年时代，他们曾经在一起对未来做过预测，当时，甲预测说：我无论如何也成不了科学家。乙预测说：丙将来要做逻辑学家。丙预测说：丁不会成为音乐家。丁预测说：乙成不了天文学家。事实上，只有逻辑学家一个人预测对了。  
 那么，这四位朋友都是什么“家”呢？（ ）  
 A. 乙是逻辑学家，丁是天文学家，甲是科学家，丙是音乐家  
 B. 甲是逻辑学家，乙是天文学家，丙是科学家，丁是音乐家  
 C. 丙是逻辑学家，甲是天文学家，丁是科学家，乙是音乐家  
 D. 丁是逻辑学家，丙是天文学家，乙是科学家，甲是音乐家
113. 某单位选派出国留学人员，条件是：业务精通，并且英语流利或者法语流利。小洪没有被选派上。  
 以下哪项解释可以从上面得出？（ ）  
 A. 小洪只有英语流利是不够的，还需要法语也比其他候选人流利  
 B. 如果小洪业务精通的话，那么她的英语和法语都不够流利  
 C. 小洪业务精通，但英语不流利  
 D. 小洪业务精通，但法语不流利
114. “萧贺或者是教师，或者是公务员。”  
 上述判断是以下哪种情况？（ ）  
 A. 无所谓真假  
 B. 真的  
 C. 假的  
 D. 或者是真的，或者是假的
115. 我不在犯罪现场。如果我在，那么，我没有犯罪。如果我犯了罪，那么，一定是我神志不清。  
 以下哪项与上述论断最相似？（ ）  
 A. 我只吃鸡或鱼或鸭。如果我没吃鸡，那么，一定吃鱼或鸭。如果我没吃鸭，那么，一定吃鱼  
 B. 我从不说谎。如果我说了谎，那么，一定是被迫的。如果我被迫说了谎，那么，责任不在我  
 C. 我没借你的书。如果我借了，我不会把书弄破。如果我把书弄破了，那是我不小心  
 D. 她每天按时完成作业。如果她没完成作业，那么，她不会睡觉。如果她睡觉了，那一定是她完成了作业

## 第五部分 资料分析

针对下列图、表或文字回答问题。你应根据资料提供的信息进行分析、比较、计算、处理。你可以在题本上运算。

请开始答题：

一、根据以下资料，回答问题。

2008年1~5月份，我国规模以上工业企业（年主营业务收入500万以上的企业，下同）实现利润10944亿元，同比增长20.9%。在规模以上工业企业中，国有及国有控股企业实现利润4246亿元，同比增长1.5%；集体企业实现利润283亿元，增长35.3%；股份合作企业实现利润63亿元，增长16.6%；股份制企业实现利润6010亿元，增长24.1%；外商及港澳台商投资企业实现利润3119亿元，增长22.4%；私营企业实现利润2105亿元，增长51.0%。

在39个工业大类中，石油和天然气开采业利润同比增长54.3%，煤炭行业增长97.8%，钢铁行业增长25.6%，化工行业增长26.0%，有色金属冶炼及压延加工业增长3.9%，建材行业增长50.9%，专用设备制造业增长25.9%，交通运输设备制造业增长46.3%，电子通信设备制造业增长36.5%，电力行业利润下降74.0%，化纤行业利润下降26.8%，石油加工及炼焦业由去年同期盈利352亿元转为净亏损443亿元。

规模以上工业企业税金总额7889亿元，同比增长26.4%。

规模以上工业实现主营业务收入183768亿元，同比增长29.3%。

5月末，规模以上工业应收账款40312亿元，同比增长17.2%。产成品资金20083亿元，同比增长26.1%。

116. 2007年1~5月份，我国规模以上工业企业中，国有及国有控股企业的利润比私营企业的利润多（ ）亿元。

- A. 2141  
B. 2041  
C. 2789.21  
D. 3012.21

117. 以下企业中，2007年1~5月份（ ）实现利润最低。

- A. 国有及国有控股企业  
B. 股份制企业  
C. 外商及港澳台商投资企业  
D. 私营企业

118. 2008年1~5月份，全国规模以上工业企业的税金总额占主营业务收入的（ ）。

- A. 4.29  
B. 4.29%  
C. 4.59  
D. 4.59%

119. 根据以上材料，下列说法正确的是（ ）。

- A. 材料列举的工业大类中，有四个行业的利润同比下降了  
B. 材料列举的工业大类中，利润同比增长最快的是煤炭行业  
C. 材料列举的工业大类中，利润同比增长最慢的是专用设备制造业  
D. 材料列举的工业大类中，利润同比下降最慢的是电力行业

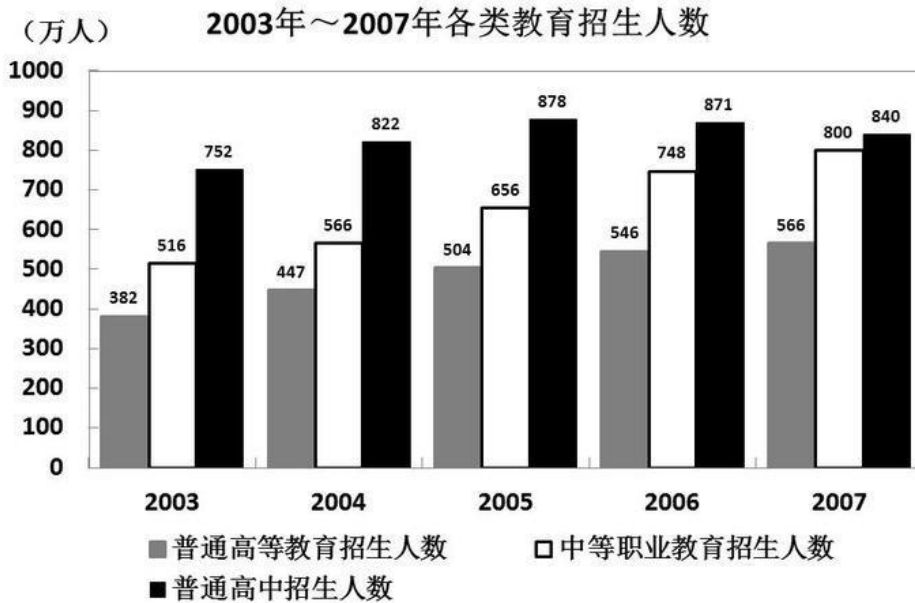
120. 根据材料，下列说法错误的是（ ）。

- A. 在规模以上工业企业中，2008年1~5月份股份制企业实现的利润最高  
B. 在规模以上工业企业中，2008年1~5月份股份制企业实现的利润最低  
C. 在规模以上工业企业中，2008年1~5月份股份制企业的利润比私营企业的利润高3905亿元

D. 在规模以上工业企业中，2008年1~5月份利润同比增长最快的是私营企业

二、根据以下资料，回答问题。





126. 2003~2007年招生人数增长最多的是( )。
- A. 普通高等教育      B. 中等职业教育  
C. 普通高中      D. 普通中学
127. 2003~2007年中等职业教育招生人数增长最多的一年是( )。
- A. 2004年      B. 2005年  
C. 2006年      D. 2007年
128. 2003~2007年中, 普通高等教育招生人数增长最少的那年增长了( )万人。
- A. 42万      B. 42  
C. 20万      D. 20
129. 2003~2007年中, 普通高中招生人数增长最少的那年增长了( )人。
- A. 56万      B. 70万  
C. 7万      D. 31万
130. 根据资料, 下列说法正确的是( )。
- A. 2003~2007年普通高等教育招生的人数最多  
B. 2003~2007年三类教育的招生人数呈上升趋势  
C. 2003~2007年高中毕业后进入大学念书的人逐年增加  
D. 因为考大学相对容易了, 所以2003~2007年普通高中招生的人数越来越多