

第一部分 常识判断

根据题目要求，在四个选项中选出一个最恰当的答案。

请开始答题：

- 公共危机管理的第一原则是（ ）。
A. 科学性原则
B. 效率性原则
C. 时间性原则
D. 协同性原则
- 某一经济主体的经济活动影响到其他的经济主体，而这种影响无法通过市场价格反映出来。这种现象称为（ ）。
A. 滞胀
B. 外部效应
C. 信息不对称
D. 经济危机
- 国际上用来判断一个国家的收入分配是否平等和公平的指标是（ ）。
A. 基尼系数
B. 恩格尔系数
C. CPI
D. 幸福指数
- “科学管理之父”弗雷德里克·温斯格·泰罗认为管理的中心问题是（ ）。
A. 管理的效率性
B. 管理的科学性
C. 管理的系统性
D. 管理的合理性
- 阳光中能引起皮肤癌的是（ ）。
A. 红外线
B. 绿光
C. 蓝光
D. 紫外线
- 全国绿化委员会、国家林业局日前向各地发出“关于禁止大树移植进城的通知”。下列不是国家禁止大树进城原因的是（ ）。
A. 移植大树进城，可以起到快速有效绿化城市的效果
B. 移植大树违背树木生长自然规律，不利于树木生长
C. 移植大树成活率低，对森林资源保护和城市绿化不利
D. 移植大树成本费用高，不符合节约原则
- 下列四句诗句中描写重阳节的是（ ）。
A. 月上柳梢头，人约黄昏后
B. 清明时节雨纷纷，路上行人欲断魂
C. 遥知兄弟登高处，遍插茱萸少一人
D. 海上生明月，天涯共此时
- 5月22日是国际生物多样性日，今年它的主题是外来物种入侵。对待外来物种的正确态度是（ ）。
A. 有目的地大量引进外来物种，以促进本国生物多样化
B. 为保护本国生物多样化，所有外来物种应一概拒之门外
C. 引进外来物种应尽量选择生长快、繁殖快、适应性强的物种
D. 外来物种入侵对本地造成极大生态危害，有效防范外来物种入侵刻不容缓
- 新中国成立60年来，在航天领域取得非凡成就，下列描述符合实际的是（ ）。
A. 首次月球探测工程的成功，标志着我国已经进入世界具有深空探测能力的国家行列
B. 1970年我国成功地研制并发射了第一颗人造地球卫星“东方红一号”，成为世界上第三个独立自主研制和发射人造地球卫星的国家
C. 我国是世界上第五个掌握卫星回收技术的国家
D. 2003年10月发射并回收了“神舟”五号载人飞船，取得首次载人航天飞行的成功，使我国成为了世界上第二个独立开展载人航天活动的国家
- 促进中部地区崛起计划中所指的“中部六省”是（ ）。

- A. 山西省、江西省、河南省、河北省、湖北省、湖南省
B. 山西省、河北省、江西省、河南省、湖南省、四川省
C. 山西省、安徽省、江西省、湖北省、河南省、河北省
D. 山西省、安徽省、江西省、河南省、湖北省、湖南省
11. 加快建立覆盖城乡居民的社会保障体系的重点是（ ）。
- A. 基本养老、基本医疗、最低生活保障制度 B. 基本养老、基本医疗、社会救助
C. 社会保险、社会救助、社会福利 D. 慈善事业、社会福利、最低生活保障制度
12. 关于 GDP，以下说法正确的是（ ）。
- A. 我国企业在境外创造的产品价值可以计入 GDP
B. 家务劳动的价值不可计入 GDP
C. 企业为生产消费品而购入的中间产品的价值可计入 GDP
D. GDP 能够体现一国国民的生活质量
13. 为了应对 2008 年底以来的金融危机，我国政府采取了（ ）。
- A. 积极的财政政策和适度紧缩的货币政策 B. 积极的财政政策和高度紧缩的货币政策
C. 积极的财政政策和适度宽松的货币政策 D. 积极的财政政策和稳健的货币政策
14. 根据我国《立法法》，以下不能制定行政规章的是（ ）。
- A. 国务院 B. 公安部
C. 中国人民银行 D. 审计署
15. 根据《公务员法》，下列说法符合规定的是（ ）。
- A. 公务员陈某因违纪被处以警告处分，四个月后被提拔
B. 公务员张某因工作关系被派往某国有企业挂职锻炼
C. 某事业单位员工小李被调入某行政机关担任科长
D. 小陈在某行政机关从事财务工作，其爱人是该单位的领导
16. 下列案例中不属于我国《行政许可法》调整范围的是（ ）。
- A. 小李租下临街店面一间，向工商局申请营业执照
B. 小王参加了教育局组织的考试，如成绩合格将取得教师资格证
C. 火炬中学拟对原教学楼进行加固和扩建，向市教育局申请拨款
D. 老赵发明了一种具有独特工艺的食品，向有关部门提出专利申请
17. 甲型 H1N1 流感是由变异后的新型 H1N1 流感病毒所引起的急性呼吸道传染病。以下对甲型 H1N1 流感的认识错误的是（ ）。
- A. 无症状的甲型 H1N1 流感病人不具有传染性
B. 甲型 H1N1 流感主要通过飞沫或气溶胶经呼吸道传播
C. 甲型 H1N1 流感潜伏期一般为 1~7 天
D. 甲型 H1N1 流感临床主要表现为流感样症状
18. 1978 年，我党召开具有重大历史意义的十一届三中全会，开启了改革开放的历史新时期。下列关于新时期的描述不正确的是（ ）。
- A. 新时期最鲜明的特点是改革开放 B. 新时期最显著的成就是快速发展
C. 新时期最突出的标志是与时俱进 D. 新时期最重要的目标是建设小康社会
19. 大陆首例对台农业合作的地方性法规于 2009 年 5 月出台，制定和通过该地方性法规的省份是（ ）。
- A. 浙江 B. 广东
C. 福建 D. 山东

20. 我国法律规定行政处罚和刑罚可以折抵，但下列哪种情况不能出现（ ）。
- A. 罚款可以折抵罚金
 - B. 行政拘留可以折抵拘役
 - C. 行政拘留可以折抵有期徒刑
 - D. 没收违法所得可以折抵没收财产

第二部分 言语理解与表达

本部分包括表达与理解两方面的内容。请根据题目要求，在四个选项中选出一个最恰当的答案。

请开始答题：

21. 对于企业管理风险，网络安全只是其中的一个环节，安全性也并不是在任何情况下都是越大越好的。你可以通过一进门就对每一个人进行严格审查的方式来改善一间银行的安全与风险管理，但是如果采取这种做法，会在很大程度上影响到商业利益。因此所有这些企业都在寻找着一个合理的安全的平衡点，这样的局面给另外一些公司和企业开拓了新的市场：为了在执行安全的同时吸引和留住新客户，他们需要根据所处的环境以及他们所从事的行业，来选择特定的计算机安全解决方案。
- 下面阐述符合文意的一项是（ ）。
- A. 网络交易将走向消失
B. 网络安全的保障是相对的
C. 特定情况下，公司应该放弃网络交易
D. 应该尽最大可能保障网络安全
22. 十二生肖像原是在圆明园海晏堂前的扇形水池喷水台 12 石台上的。这些肖像皆兽首人身，头部为铜质，身躯为石质，中空连接喷水管，每隔一个时辰，代表该时辰的生肖像，便从口中喷水；正午时分，十二生肖像口中同时涌射喷泉，蔚为奇观。在第二次鸦片战争中，英法联军掠走了十二个青铜兽首，致使这批国宝流失于海外一百多年。
- 根据这段文字，十二生肖像的实际用途是（ ）。
- A. 调节园林空气湿度
B. 扇形水池中喷水的装置
C. 具有报告时辰的作用
D. 皇家园林的奢侈观赏品
23. 汉学又称朴学，指汉儒的考据训诂之学，极盛于清乾嘉时代；宋学指宋代（也包括元明）程朱和陆王两派的理学，炽张于有宋一代。前者重文辞考据，后者重心性义理，门户之限甚严，彼此消长。
- 在以上话语中作者论述的是（ ）。
- A. 汉学与宋学之分别
B. 程朱学派和陆王学派之分别
C. 文辞考据与心性义理之分别
D. 汉儒与宋儒的门户之争
24. 位于黄石国家公园的大棱镜温泉（又称大虹彩温泉），是美国最大、世界第三大的温泉。大棱镜温泉的美在于湖面的颜色随季节而改变。春季，湖面从绿色变为灿烂的橙红色，这是由于富含矿物质的水体中生活着的藻类和含色素的细菌等微生物，它们体内的叶绿素和类胡萝卜素的比例会随季节变换而改变，于是水体也就呈现出不同的色彩。
- 根据这段文字，大棱镜温泉湖面颜色变化的原因是（ ）。
- A. 藻类和含色素的微生物的变化
B. 水体中叶绿素、类胡萝卜素比例的变化
C. 水中生活着藻类和含色素的细菌等微生物
D. 水体中富含矿物质
25. 藏獒是世界著名的大型猛兽，原产于我国青藏高原，其性格刚毅，力大凶猛，是世界上唯一敢与野兽搏斗的犬，因此被赋予“东方神犬”的美誉，在西藏被称为活佛的坐骑。藏獒虽然凶猛，但对主人却特别忠诚，为藏民护牧、看家、守院。藏獒是由 1000 多万年前前的喜马拉雅巨型古鬃犬演变而来的高原犬种，是犬类世界唯一没有被时间和环境所改变的古老的活化石，它曾是青藏高原横行四方的野兽，6000 年前才被人类驯化，古人称它是“天狗”。
- 根据这段文字，下面关于藏獒的描述不正确的一项是（ ）。
- A. 西藏活佛出行时乘坐的坐骑是被驯化后的藏獒
B. 古藏獒 6000 年前曾是青藏高原横行四方的野兽

- C. 藏獒是犬类中唯一没有被时间和环境所改变的古老的活化石
 D. 藏獒是由 1000 多万年前喜马拉雅巨型古鬃犬演变而来的
26. 一个企业或者行业的有效管理当然离不开依据行业发展规律和客观经济规律的通用管理规则指导的科学化管理，其基础是标准化体系。但这并不意味着，每个行业或者企业都需要遵循完全相同的、均一化的法则，成为文化工业社会流水线上没有个性、无差异的复制品。相反，手机广告行业作为现代文化产业和服务业的一个交叉新兴门类，其自身的发展和模式探寻有着自己的特殊性。这些特殊性要求管理者必须注重联系手机广告行业的客观实际，在标准化的基础上发展差异化。
 这段文字主要是在强调（ ）。
- A. 企业应该进行标准化的科学管理
 B. 企业或者行业应该遵循均一化的法则
 C. 手机广告业应该在标准化的基础上发展差异化
 D. 科学管理会有利于企业实现有效管理
27. 财富的增加与道德的堕落并不必然成正比。但如果财富的增加不能与公正地分配财富并行，如果社会的普遍的道德水平非但不能相应地得到提高，反而持续不断地下降，那就谈不上有实质意义的自由与平等，社会就不可能成为一个更加美好的社会。
 这段文字的主旨在于（ ）。
- A. 财富的增加会带来道德水平的提高
 B. 全社会的公平与幸福应体现为财富的公平分配与道德水准的提高
 C. 道德水准的提高应以公正地分配社会财富为基础
 D. 美好社会得以形成的前提是财富的增加
28. 空间碎片，又称太空垃圾，是人类空间活动的废弃物，是空间环境的主要污染源。随着航天活动的日益频繁，空间碎片与日俱增，对近地空间的航天器构成严重威胁。此外，空间碎片坠入大气层，会对地面的生命财产安全构成严重威胁，特别是以核能为动力的航天器陨落时，对环境产生化学和放射性污染，后果尤其严重。
 这段话谈论的重点是（ ）。
- A. 什么是空间碎片
 B. 空间碎片为何与日俱增
 C. 空间碎片是空间环境的主要污染源
 D. 空间碎片概念及其严重危害
29. 五子棋在日本叫“连珠棋”。据日本史料记载，五子棋先由中国传到朝鲜，再由朝鲜传到日本。最初主要在皇宫和贵族大家庭中流行。经过不断的改变，主要是规则的变化，连珠五子棋逐渐复杂化、规范化，最终成为今天的职业连珠五子棋，同时也成为一种国际比赛项目。
 根据这段文字，五子棋的发展变化主要经过了（ ）。
- A. 由简单到复杂化规范化
 B. 地区和游戏规则的变化
 C. 流行范围的变化
 D. 规则和地位不断的改变
30. 媒体影响着受众的价值选择。从传播学受众理论文化规范来看，大众传播媒介之所以能间接地影响人们的行为，是因为它发出的信息能形成一种道德的文化的规范力量，人们不知不觉地依据媒介逐步提供的“参考架构”来解释社会现象与事实，表明自己的观点和主张，因此传播内容可以促使对象发生改变。
 这段文字主要想表达的是（ ）。
- A. 人们的行为受媒体的影响
 B. 社会现象根源于大众传播媒介
 C. 社会道德文化来源于媒体
 D. 传媒的影响是日积月累的

31. 前来巴塞罗那“朝圣”的年轻学生终年不绝，他们与其说为凭吊中世纪名胜而来，不如说是被安东尼·高迪这位现代主义大师的作品所吸引。毕加索虽说出生于马加尔，但在巴塞罗那的阿吉拉宫，你可以观赏到他从8岁起按年代陈列的琳琅满目的作品。达利早年狂热地迷恋海洋，一生大部分时间在有着白色粉墙的渔村里度过，但他超现实主义的天才之作却珍藏在这个艺术的圣地——他的诞生与安息之地。
这段话主要支持了这样一种观点，即（ ）。
- A. 现代主义的作品吸引了年轻的艺术家
B. 巴塞罗那是一个绘画艺术的圣殿
C. 画家的作品不一定保存在他的出生地
D. 年轻学生“朝圣”巴塞罗那不是为了凭吊中世纪名胜
32. 人们穿行于城市中，不仅是空间的行走，也是时间的穿越。时序的完整就是一座城市的文脉和谱牒，“它”是一座城市的血脉和气质所系。资金和技术可以使城市迅速变得高大，却无法使城市变得悠久。一件用许多金银珠宝堆砌而成的现代工艺品，其价值也许根本无法与一件朴素甚至有些残损的宋代瓷瓶相比，它们之间价值的体现仅仅在于时间。
这段话中的“它”是指（ ）。
- A. 空间
B. 时间
C. 城市的文脉和谱牒
D. 时序的完整
33. 幸福教育是师生发挥主体创造性的教育。在幸福教育中，师生都是教育活动的创造者。师生在教育活动中是主动还是被动，是创造的活动还是机械的活动，直接决定着教育的状态和境界。没有教育者的主观能动性的发挥，亦没有教育者的主体性，没有教育者的创造性，幸福教育就很难体现崇高的理想。
这段文字是针对什么问题阐述观点的？（ ）
- A. 幸福教育是创造性的教育
B. 幸福教育如何体现崇高的理想
C. 幸福教育来源于教育者的创造性
D. 幸福教育应该是机械活动
34. 中国社会中的个体首先是天然地生活在一个他自己不能选择的网络中。他的喜怒哀乐、他的成功与失败总是嵌入在他的社会网络中而难以独享。这就是说，他在没有打算拥有社会网络的时候，别人在道义上就是他的潜在资源，而无论他愿意与否，他本身也是别人的可利用者。
这段文字主要谈的是（ ）。
- A. 社会网络对中国人的重要性
B. 中国人都生活在网络世界
C. 中国的民间潜在资源
D. 中国的社团的发展基础
35. 黄种人倾斜的凤眼可能与亚洲中部地区多风沙有关，因为这种结构可以保护眼睛。就像白种人的头发呈亚麻色，还有点透明，这样容易使头皮吸收太阳光的热量，从而适应高纬度地区的严寒；黑人的头发更黑更卷，则有利于阻隔太阳光带来的热量，保护大脑。
这段文字谈论的是（ ）。
- A. 各色人种的外表特征
B. 各色人种外表特征之间的差异
C. 人类的长相保护着人类自己
D. 人类的外表特征是适应自然环境的产物
36. 心理问题是亚健康的重要内容之一，处理不当会发展为心理障碍和心理疾病，而且心理问题又是诱发亚健康的重要因素。所以说，心理调节对于解决亚健康问题有非常重要、不可替代的作用。
作者接下来有可能要论述的是（ ）。

- A. 心理调节的性质
B. 心理对亚健康的影响
C. 亚健康中的心理问题
D. 如何进行心理调节
37. 画者练就一双画眼，大千世界各种形象随时随地、有光有色地流过眼前，偶有美感，即刻被这双眼捉住，尽情地痴醉其间，这是何等的快乐。这些快感一层层积存心中，闲暇时一片片翻出来看，这又是何等美妙的享受。时而，浩阔深幽的心底，会悠然浮起一幅画来，它不是那些眼见过的画面，这才是一幅真正的画！我不过没有时间将它形之于纸，却常常这样完成了绘画所必需的全部思维过程。
根据这段文字，“这才是一幅真正的画”的含义是（ ）。
A. 绘画所必需的全部思维过程
B. 内心积存的绘画所需的美感
C. 画眼所见大千世界各种形象
D. 痴醉于画眼所见的美妙感受
38. 碘化银在人工降雨中所起的作用在气象学上称作冷云催化。碘化银只要受热后就会在空气中形成极多极细（只有头发直径的百分之一到千分之一）的碘化银粒子。1g 碘化银可以形成几十万亿个微粒。这些微粒会随气流运动进入云中，在冷云中产生几万亿到上百万亿个冰晶。因此，用碘化银催化降雨不需飞机、设备简单、用量很少、费用低廉，可以大面积推广。
根据这段文字，我们可以推测出碘化银催化降雨不需飞机的原因是（ ）。
A. 碘化银微粒会随气流运动进入云中
B. 碘化银只要受热后就会形成碘化银粒子
C. 冷云催化使碘化银可以形成几十万亿个微粒
D. 微粒在冷云中会产生几万亿到上百万亿个冰晶
39. 总会有些人是白手起家，总会有些人崛起于社会的底层，总会有些传奇人物从生命的低谷爬上了事业的高峰。所以有一句长盛不衰的励志口号叫：苦难成就人生。可是，我们不要忘了，泯灭于苦难之中的人何其多，升起的永远是佼佼者。苦难常常只是性格的催化剂，它使强者更强，弱者更弱，智者更智，愚者更愚。
作者对苦难的看法是（ ）。
A. 苦难能够改变命运
B. 苦难能够保持生命的热忱
C. 苦难决定人的性格
D. 苦难并不能成就人生
40. 锆石极耐高温，其熔点达 2750°C，并耐酸腐蚀。世界上有 80% 的锆石直接用于铸造、陶瓷、玻璃工业以及制造耐火材料。少量的锆石用于铁合金、医药、油漆、制革、磨料、化工及核工业。极少量的锆石用于冶炼金属锆。含 ZrO₂ 26%—66% 的锆石英砂因其耐熔性（熔点 2500°C 以上）而直接用作铸造厂铁金属的铸型材料。
这段话的主要目的是告诉我们（ ）。
A. 锆石极耐高温
B. 锆石的工业用途
C. 锆石耐酸腐蚀
D. 锆石性质特殊
41. 电影纪录片的数量正在逐渐下降，能够在影院放映的纪录片已属_____，“幽暗大厅的芳香”越来越被各种各样无色无味的电子雾_____，也越来越成为人们心中的记忆。
依次填入横线处的词语，最恰当的一组是（ ）。
A. 凤毛麟角 吞噬
B. 寥寥无几 吞没
C. 屈指可数 掩盖
D. 寥若星辰 遮蔽
42. 革命无非是为了对_____的权和利进行再分配，与劫富济贫或杀富济贫相比，_____税富济贫更符合现代文明，对整个社会及其各阶级来说，付出的成本都要小得多。
依次填入横线处的词语，最恰当的一组是（ ）。
A. 均衡 显然
B. 均衡 自然

C. 失衡 显然

D. 失衡 自然

43. 事实上不知道也好，因为他们已经是无可挽救的了。他自己的处境是这样的：他眼看着他们向那个深渊走去，却无法_____他们。这是多么痛苦的事！想到这里，他自己也变得忧郁了。他似乎走进了一条窄巷，找不到一个_____。外面的笑声接连地传到他的耳边，好像在讥笑他。

依次填入横线处的词语，最恰当的一组是（ ）。

A. 援救 出路

B. 援助 路口

C. 援助 出口

D. 援救 出口

44. 这场目前只略见_____的革命，其未来的发展前景应该是_____的。

填入横线处的词语，最恰当的一组是（ ）。

A. 希望 光明

B. 光明 璀璨

C. 端倪 辉煌

D. 开端 辉煌

45. 这一系列因素最终可能引发全局性的金融风险。更重大的代价是在未来数十年中，国家的信用等级在国际社会中将大大下降，这方面有墨西哥的_____为证。

填入横线处的词语，最恰当的一组是（ ）。

A. 他山之石

B. 前车之鉴

C. 囊中珍灿

D. 重蹈覆辙

46. 在中国，从来没有一条河被寄托了这么多的感情，黄河在被尊为“母亲”时，也被赋予了太多的历史_____。黄河流经晋陕峡谷到达吉县境内，水面一下子从400多米宽收缩为50余米，《书·禹贡》中只用八个字：“盖河漩涡，如一壶然。”壶口瀑布的_____跃然纸上。

依次填入横线处的词语，最恰当的一组是（ ）。

A. 任务 现象

B. 使命 形象

C. 责任 特点

D. 使命 景象

47. 海伦·凯勒是举世_____的作家和教育家。尽管命运之神夺走了她的视力和听力，这位女子却用勤奋和坚韧不拔的精神紧紧扼住了命运的喉咙。她的名字已经成为坚韧不拔意志的象征，传奇般的一生成为鼓舞人们战胜_____的巨大精神力量。

依次填入横线处的词语，最恰当的一组是（ ）。

A. 崇拜 自我

B. 敬仰 厄运

C. 仰慕 生命

D. 瞩目 困难

48. 特殊的地理位置和地理环境，造就了约旦人特殊的性格和国策。在几乎整个中东穆斯林世界对以色列_____的大背景下，约旦却对整个西部边界都与之接壤的邻国以色列奉行和睦政策。

填入横线处的词语，最恰当的一组是（ ）。

A. 同室操戈

B. 大动干戈

C. 短兵相接

D. 同仇敌忾

49. 《草书千字文》是难得一见的宋徽宗草书长卷，以其用笔、结体的熟稔精妙乃至书写意境而论，与怀素相比，委实_____。这卷笔翰飞舞的墨迹，书于全长三丈余的整幅描金龙笺之上。其底文的精工图案，是由宫中画师就纸面一笔笔描绘而出，与徽宗的墨宝可谓_____，共同成就了这篇空前绝后的旷世杰作！

依次填入横线处的词语，最恰当的一组是（ ）。

A. 高下难分 珠联璧合

B. 伯仲难分 相得益彰

C. 不相上下 交相辉映

D. 莫辨雌雄 同放异彩

50. 武汉沦陷后，许孟雄到重庆中央大学等学校任英语老师，深受当地学子欢迎，_____。1949秋回到北京后，他先后任北京外国语学院（今北京外国语大学）和中国人民大学英语教授，一面教书，一面翻译。许孟雄是国内为数不多真正精通英语的学者之一，他能不假思索地写下流畅纯正的英文，一挥而就，_____，达到_____的地步。

依次填入横线处的词语，最恰当的一组是（ ）。

- A. 声名鹊起 一气呵成 白璧无瑕 B. 显赫一时 一鼓作气 挥洒自如
C. 名噪一时 文不加点 炉火纯青 D. 蜚声中外 一蹴而就 登峰造极

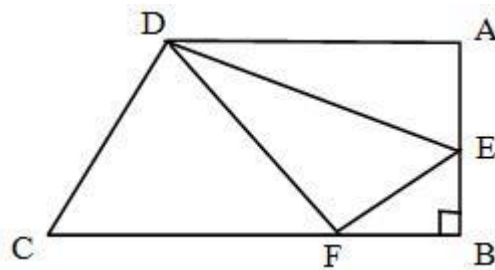
第三部分 数量关系

在这部分试题中，每道题呈现一段表述数字关系的文字，要求你迅速、准确地计算出答案。

请开始答题：

51. 12, 14, 19, 29, 46, ()
A. 62
B. 68
C. 72
D. 76
52. 5, 7, 17, 31, 65, ()
A. 107
B. 115
C. 120
D. 127
53. 1, 32, 81, 64, 25, ()
A. 6
B. 8
C. 9
D. 16
54. 6, 18, 45, 90, 135, ()
A. 67.5
B. 135
C. 202.5
D. 270
55. $3, 6\sqrt{2}, 24, 48\sqrt{2}, ()$
A. 48
B. 96
C. 192
D. 384
56. $\frac{2}{3}, \frac{3}{5}, \frac{5}{8}, \frac{9}{13}, ()$
A. $\frac{2}{3}$
B. $\frac{5}{7}$
C. $\frac{16}{21}$
D. $\frac{17}{22}$
57. 1, 2, 5, 10, 17, ()
A. 23
B. 25
C. 26
D. 28
58. 172, 84, 40, 18, ()
A. 5
B. 7
C. 16
D. 22
59. $1, \frac{3}{8}, \frac{1}{5}, \frac{1}{8}, \frac{3}{35}, ()$
A. $\frac{1}{12}$
B. $\frac{1}{16}$
C. $\frac{1}{18}$
D. $\frac{1}{24}$
60. 3, 4, 13, 53, ()
A. 213
B. 425
C. 690
D. 710
61. $20 \times 20 - 19 \times 19 + 18 \times 18 - 17 \times 17 + \dots + 2 \times 2 - 1 \times 1$ 的值是? ()
A. 210
B. 240
C. 273
D. 284
62. 在一杯清水中放入 10 克盐，然后再加入浓度为 5% 的盐水 200 克，这时配成了浓度为 2.5% 的盐水，问原来杯中有清水多少克? ()
A. 460 克
B. 490 克
C. 570 克
D. 590 克

63. A、B、C、D 四人同时去某单位和总经理洽谈业务，A 谈完要 18 分钟，B 谈完要 12 分钟，C 谈完要 25 分钟，D 谈完要 6 分钟。如果使四人留在这个单位的时间总和最少，那么这个时间是多少分钟？（ ）
- A. 91 分钟
B. 108 分钟
C. 111 分钟
D. 121 分钟
64. 某志愿者小组外出进行志愿服务活动，小组成员排成一列进行报数点名，除小李外，其他志愿者所报数字之和减去小李所报数字，恰好等于 100。问小李是第几位，该志愿者小组共有多少人？（ ）
- A. 10 位，16 人
B. 10 位，15 人
C. 12 位，15 人
D. 12 位，16 人
65. 如右图，在直角梯形中， $AD=12$ 厘米， $AB=8$ 厘米， $BC=15$ 厘米，且 $\triangle ADE$ 、四边形 $DEBF$ 、 $\triangle CDF$ 的面积相等， $\triangle EDF$ 的面积是多少？（ ）



- A. 28 平方厘米
B. 30 平方厘米
C. 32 平方厘米
D. 33 平方厘米
66. 金放在水里称，重量减轻 $\frac{1}{19}$ ；银放在水里称，重量减轻 $\frac{1}{10}$ 。一块金银合金重 770 克，放在水里称，共减轻了 50 克。这块合金含金银各多少克？（ ）
- A. 380, 390
B. 475, 295
C. 530, 240
D. 570, 200
67. 有一种红砖，长 24 厘米、宽 12 厘米、高 5 厘米，问至少用多少块这种砖才能拼成一个实心的正方体？（ ）
- A. 600 块
B. 1200 块
C. 1800 块
D. 2400 块
68. 有 1 元、2 元、5 元的人民币 50 张，面值共计 116 元。已知 1 元的人民币比 2 元的多 2 张，问三种人民币各有多少张？（ ）
- A. 18, 16, 16
B. 20, 18, 12
C. 22, 20, 8
D. 16, 14, 20
69. 将 14 拆成几个自然数的和，再求出这些数的乘积，可以求出的最大乘积是多少？（ ）
- A. 72
B. 96
C. 144
D. 162
70. 妈妈给客人沏茶。洗开水壶需要 1 分钟，烧水需要 15 分钟，洗茶壶需要 1 分钟，洗茶杯需要 1 分钟，拿茶叶需要 2 分钟，依照最合理的安排，要几分钟就能沏好茶？（ ）
- A. 16 分钟
B. 17 分钟
C. 18 分钟
D. 19 分钟
71. 小红去买过冬的蔬菜，她带的钱可以买 10 斤萝卜或 50 斤白菜，如果小红买了 6 斤萝卜后，剩下的钱全用来买白菜，可以买几斤白菜？（ ）
- A. 12 斤
B. 15 斤

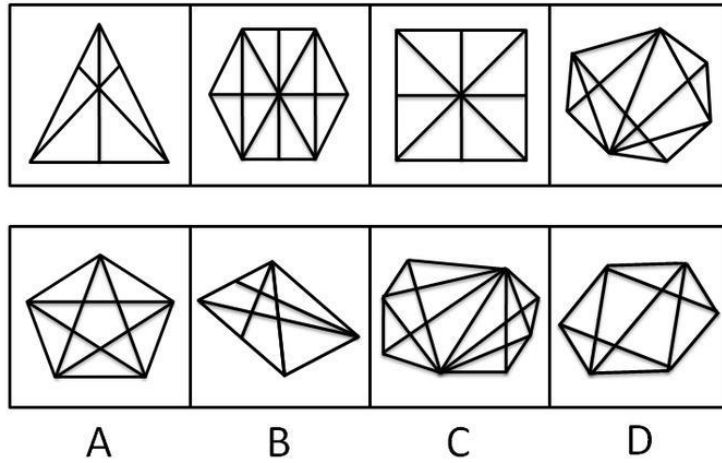
- C. 20斤
D. 24斤
72. 有7个杯口全部向上的杯子，每次将其中4个同时翻转，经过几次翻转，杯口可以全部向下?
()
A. 3次
B. 4次
C. 5次
D. 几次也不能
73. 清晨5点时，时钟的时针和分针的夹角是多少度?()
A. 30度
B. 60度
C. 90度
D. 150度
74. 甲班有42名学生，乙班有48名学生，在某次数学考试中按百分制评卷，评卷结果两个班的数学总成绩相同，平均成绩都是整数，且都高于80分。请问甲班的平均分与乙班相差多少分?
()
A. 12分
B. 14分
C. 16分
D. 18分
75. 甲乙两种食品共100千克，现在甲食品降价20%，乙食品提价20%，调整后甲乙两种食品售价均为每千克9.6元，总值比原来减少140元，请问甲食品有多少千克?()
A. 25千克
B. 45千克
C. 65千克
D. 75千克

第四部分 判断推理

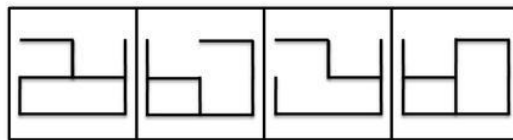
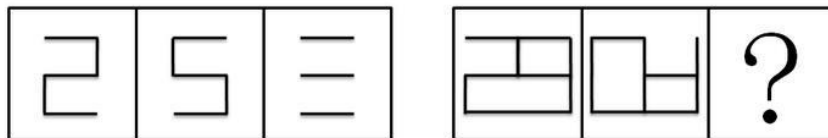
一、图形推理。请按每道题的答题要求作答。

请开始答题：

76. 从 A、B、C、D 四个选项中选出最合适的一个，使得它保持第一行图形所呈现的规律性（ ）。

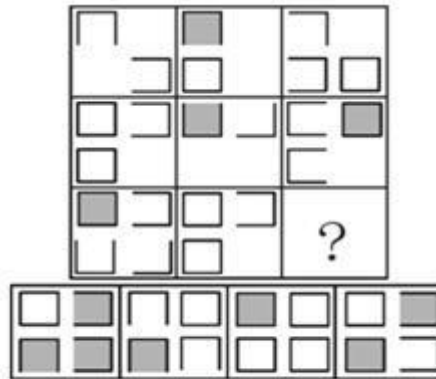


77. 请从所给的四个选项中，选择最合适的一个填在问号处，使之呈现一定的规律性（ ）。



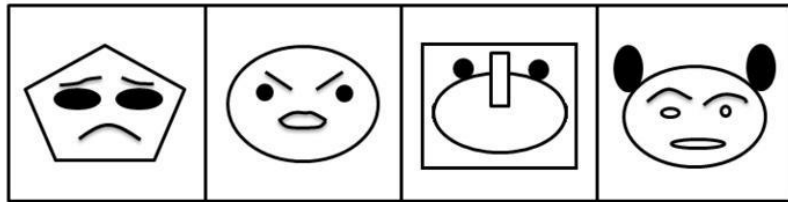
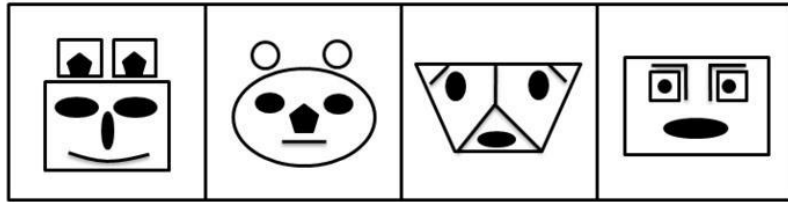
A B C D

78. 请从所给的四个选项中，选择最合适的一个填在问号处，使之呈现一定的规律性（ ）。



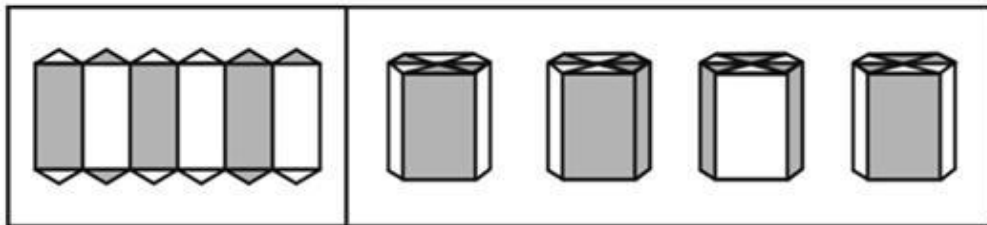
A B C D

79. 从 A、B、C、D 四个选项中选出最合适的一个，使得它保持第一行图形所呈现的规律性（ ）。



A B C D

80. 在右面的四个图形中，只有一个是左面的纸板折叠而成的，正确的一个是（ ）。



A B C D

二、定义判断。每道题先给出定义，然后列出四种情况，要求你严格依据定义，从中选出一个最符合或最不符合该定义的答案。注意：假设这个定义是正确的，不容置疑的。

请开始答题：

81. 机会成本是指人们将某项资源固定于某项用途时，所放弃的用于其他用途所能产生的收益。根据以上定义，下列不属于机会成本的是（ ）。
- A. 王某购买了6万元国债，如买企业债券一年可收入6000元
 - B. 李某将自有闲置住房改建为商店，一年损失房租收入5万元
 - C. 张某年工资3万元，后辞职在家种植花卉出售
 - D. 赵某考察某项目可否投资，花费4万元，后放弃投资
82. 不定时工作制是指因生产特点、工作特点需要或职责范围的关系，无法按标准工作时间衡量或需要机动作业的企业职工所采用的一种工时制度。根据以上定义，下列属于不定时工作制的是（ ）。
- A. 王某任教于某市重点中学，经常加班批改作业
 - B. 李某是某报社的记者，经常报道现场新闻
 - C. 张某在某大型超市担任品牌促销员
 - D. 赵某在某市政府后勤部门做接待工作
83. 侵占罪是指以非法占有为目的，将为他人保管的财物或者其他遗忘物、埋藏物占为己有，数额较大且拒不交还的行为。根据以上定义，下面哪种行为是典型的侵占罪（ ）。
- A. 刘某的朋友张某到他家中做客，酒后张某将内有1.2万元人民币的手包忘在刘某的家中，返回寻找时刘某称未曾看到此包

B. 某企业会计利用其经手公司财务的便利，将公司的一笔 2 万元的款项转借给其好友，但是好友由于生意不好而未归还

C. 一位中年男子由于手头拮据，在一天晚上到其邻居家串门时，顺手拿走一条价值 5000 元的项链

D. 王某几年前向朋友刘某借用 1 万元，多年来一直忘记归还

84. 回归教育是一种认为人的一生应是学习和工作不断交替、相互结合的过程，接受义务教育或基础教育乃至高等教育后就业的成年人，应在需要时又返回学校去学习的理论。

根据以上定义，下列属于回归教育的是（ ）。

A. 九年制义务教育

B. 某厂技术人员为充电，到本单位举办的职工夜校补习英语

C. 幼儿园学前教育

D. 中等职业学校学生二年全日制学习之后参加一年的实习

85. 绝对的公共物品是指被一些人使用时并不排斥和影响另一些人对该物品的使用，且无法将使用者与非使用者区分并向使用者收取费用的物品。

根据以上定义，下列属于绝对公共物品的是（ ）。

A. 公共厕所

B. 公共汽车

C. 有线电视

D. 空气

86. 皮格马利翁效应是指当某人获得他人信任和期望时，便会产生积极向上的动力，更加努力地实现他人对自己的期望。

根据以上定义，下列属于皮格马利翁效应的是（ ）。

A. 王东一心想成为奥运会冠军，在教练的严格训练和自身的努力下终于梦想成真

B. 小明幼年时因口吃而自我封闭，但在他父母的鼓励和帮助下，长大后竟成为了一名优秀的演说家

C. 高考落榜学生周某受周围人的歧视而自暴自弃

D. 民警小刘怀着为人民服务的崇高理想，在工作中努力满足群众提出的各种要求

87. 家用医疗器械是指在家庭中使用的，作用于人体体表或体内的对健康起到预防、诊断、监护和缓解作用的仪器、设备或器具。

根据以上定义，以下不属于家用医疗器械的是（ ）。

A. 体温测量计

B. 有按摩作用的足浴盆

C. 用于吊挂液体的输液架

D. 家用氧气袋

88. 要式法律行为是指行为必须按照法律要求的形式才能成立的行为。

根据以上定义，下列不属于要式法律行为的是（ ）。

A. 甲与乙协议离婚

B. 老王到移动营业厅办理宽带业务

C. 保险公司赠与老李人身保险合同一份

D. 小王向同事借款 1000 元

89. 强制性社会控制是指社会管理系统运用强制性手段建立和维持社会秩序的过程。

根据以上定义，下列不属于强制性社会控制的是（ ）。

A. 某工厂依据厂规对违反纪律的赵某作出处罚

B. 法院依法判处犯罪嫌疑人李某三年有期徒刑

C. 政府大力倡导向见义勇为的孙某学习

D. 学校对考试作弊的学生张某给予警告处分

90. 边际效用递减规律是指消费者连续消费某商品的过程中，随着消费数量提高而逐渐降低对商品评价的现象。

根据以上定义，下列符合边际效用递减规律的是（ ）。

- A. 王某连续购入了3栋房屋，后两栋房屋价格逐渐下降
- B. 张某连续吃了12个包子，吃第13个包子时，不仅不觉得饥饿，反而觉得恶心
- C. 某企业发行了新一批企业债券，使得该企业所有债券的市场收益率出现下降的态势
- D. 微波炉在上个世纪90年代属于昂贵的厨房设备，现在变得便宜而普及

三、类比推理。每道题先给出一组相关的词，要求你在备选答案中找出一组与之在逻辑关系上最为贴近，相似或匹配的词。

请开始答题：

91. 生命：透支
- A. 飞机：起飞
 - B. 材料：涨价
 - C. 梦想：实现
 - D. 情绪：波动
92. 光照：影子
- A. 振动：声音
 - B. 飓风：损失
 - C. 努力：成功
 - D. 酒精：气氛
93. 苏格拉底：柏拉图
- A. 鲁迅：周作人
 - B. 孔子：颜回
 - C. 曹雪芹：吴承恩
 - D. 莎士比亚：萧伯纳
94. 毫升：量杯
- A. 硫酸：酒精灯
 - B. 几何：直角尺
 - C. 安培：物理
 - D. 度：电表
95. 报纸：编辑
- A. 学生：教师
 - B. 机器：操作
 - C. 信件：邮差
 - D. 电影：导演
96. 惊蛰：清明
- A. 春分：雨水
 - B. 立秋：白露
 - C. 秋分：立冬
 - D. 霜降：大雪
97. 山涧：河流：大海
- A. 员工：企业：集团
 - B. 草：草坪：草原
 - C. 城市：国家：地球
 - D. 狂风：闪电：暴雨
98. 权力：监督：腐败
- A. 驾车：饮酒：事故
 - B. 理想：行动：空想
 - C. 舆论：引导：和谐
 - D. 灾难：救援：恢复
99. () 对于 大纲 相当于 讽刺 对于 ()
- A. 简明：漫画
 - B. 论文：小说
 - C. 摘要：漫画
 - D. 撰写：作品
100. 健谈 对于 () 相当于 () 对于 开支
- A. 沉默：收入
 - B. 诽谤：谎言
 - C. 说话：奢侈
 - D. 性格：透支

四、逻辑判断。每道题给出一段陈述，这段陈述被假设是正确的，不容置疑的。要求你根据这段陈述，选择一个答案。注意：正确的答案应与所给的陈述相符合，不需要任何附加说明即可以从陈述中直接推出。

请开始答题：

101. 近期的食物监测表明：炸薯片中含有大量的铝，长期食用会引起神经系统病变，表现为记忆力减退，视觉与运动系统协调失灵。
由此可以推出（ ）。
A. 少吃薯片可以防止神经系统病变
B. 铝在人体中的积累可导致神经系统病变
C. 记忆力减退说明神经系统发生病变
D. 视觉与运动系统协调失灵说明神经系统发生病变
102. 在信息化的背景下，发展中国家和发达国家在经济全球化中的机遇和风险是相对平等的，因此，发达国家和发展中国家的经济发展差距呈现日益缩小的趋势。
以下哪项为真，能对以上结论提出最严重的质疑？（ ）。
A. 经济全球化一方面促进了各国经济快速增长，另一方面却蕴含着前所未有的风险
B. 即使对美国这样的发达国家来说，全球化也给它带来了不利影响：过量移民、廉价商品、跨国犯罪等
C. 据联合国的报告，1990年到2000年间，世界各国中按发达程度排名的前15名和后15名的人均年收入比率从60:1扩大到74:1
D. 经济全球化为世界创造了无数的就业机会，为千百万人创造了新的发展机遇
103. 曾有媒体报道，某大学将五十四名正副教授“正式解聘”，并对这一所谓教授“下课”事件欢欣鼓舞，理由是我国实质上的“终身教授”制度形同大锅饭，一来“导致高校冗员众多”，二来致使教授不思进取，抑制竞争和创新。
以下哪项为真，能有力地对上述措施提出质疑？（ ）。
A. 解聘教授会在大学教师中形成一种不安全感，增加了教师工作的后顾之忧
B. 教授应该是大学的主人，解聘教授不利于大学学术的发展
C. 大学行政领导制定的解聘条件不科学，会打击在职教授的工作积极性
D. 解聘教授并不能解决目前大学存在的一些问题，达不到预期效果
104. 五十年代的西德、六十年代的日本、七十年代的新加坡和台湾、八十年代的泰国、印尼和马来西亚，经济增长率都很高。但是，在这些国家和地区并没有出现通货膨胀。
上述事实能够支持的观点是（ ）。
A. 经济增长率高的国家不会出现通货膨胀
B. 没有通货膨胀的国家一般经济增长率都较高
C. 通货膨胀在一定程度上会造成对经济的损害
D. 经济增长率高的国家不一定会同时出现通货膨胀
105. 某个国家在2008年的控制非法药物进入的计划失败了。尽管对非法药物的需求呈下降趋势，但是，如果这个计划没有失败，多数非法药物在2008年的批发价格不会急剧下降。
以上结论依赖于哪个假设？（ ）。
A. 2008年，非法药物的供给大幅下降
B. 该国本国非法药物产量，比非法进入该国的非法药物增加更多
C. 2008年非法药物需求的下降不是其批发价格下降的唯一原因
D. 2008年少数几种非法药物的批发价格大幅上升了
106. 据统计，被指控抢劫的定罪率要高于被指控贪污的定罪率。其重要原因是贪污案的被告能聘请到收费最贵的律师，而抢劫案的被告主要是由法庭指定的律师辩护。
以下哪项为真，最能支持题干的叙述？（ ）。

- A. 被指控抢劫的被告事实上犯罪的比例，不高于被指控贪污的被告相应的比例
- B. 被告聘请的律师与法庭指定的律师一样，既忠实于法律，又努力维护委托人的合法权益
- C. 司法腐败导致对有权势的罪犯的庇护，而贪污等职务犯罪的构成要件是当事人有职权
- D. 被指控抢劫的被告，远多于被指控贪污的被告
107. 北京东方艾格农业咨询公司董事长表示，猪流感疫情可能导致家禽畜需求下滑，饲料和玉米、豆粕等谷物需求也可能随之下滑。“这可能导致人们对猪肉的消费需求进一步降低，给当前低迷的养殖业市场带来较大的冲击，这种冲击增加了市场对饲料消费下降的心理预期，豆粕价格后市可能会进一步走弱。”
- 由此可以推出（ ）。
- A. 当猪流感疫情消除时，养殖业才能复苏
- B. 如果猪流感疫情消除，养殖业就能复苏
- C. 谷物需求下滑说明禽畜需求下滑
- D. 猪流感疫情的影响会从养殖业蔓延到粮食市场
108. 市长任职的三年里经常被控对女性有性别歧视的态度。然而，他已经在他的管理层的 19 个高层职位中任用了 5 名妇女，她们中的所有人都仍在服务，这表明市长并不是一名性别歧视者。以下哪项为真，最能反驳上面得出的结论？（ ）
- A. 市长任命的一名高层职位的女性正准备辞职
- B. 市长所在的政党的政纲要求他在高层职位里至少任命 5 名女性
- C. 三年前在市长选举中，47% 的女性投票支持这位市长
- D. 相邻市的市长最近在高层职位任命了 7 名女性
109. 中华连线心理健康研究中心专家认为：“看冗长的韩剧包括国内一些情感剧，观众通常不需要动脑思考，沿着缓慢的节奏向前进展，人的思维方式也会沿袭电视剧的剧情发展，可能养成遇事不喜欢动脑的习惯。”
- 由此可以推出（ ）。
- A. 应该限制电视剧的长度
- B. 看快节奏的影视节目会激发大脑活动
- C. 韩剧的节奏都很缓慢
- D. 观看影视节目对人的思维方式很有影响
110. 在国内 1425 个电子图书网站中，原创网站仅占 4.49%。严重的盗版问题，导致国内电子图书市场迟迟不能进入迅速发展阶段，其销售收入也远不能同传统纸质图书市场相比。
- 由此可以推出（ ）。
- A. 解决了盗版问题，国内电子图书市场就可以迅速发展
- B. 原创网站也存在盗版问题
- C. 必须减少电子图书网站的数量才能促使电子图书市场的发展
- D. 国内电子图书市场远未发育成熟

第五部分 资料分析

针对下列图、表或文字回答问题。你应根据资料提供的信息进行分析、比较、计算、处理。你可以在题本上运算。

请开始答题：

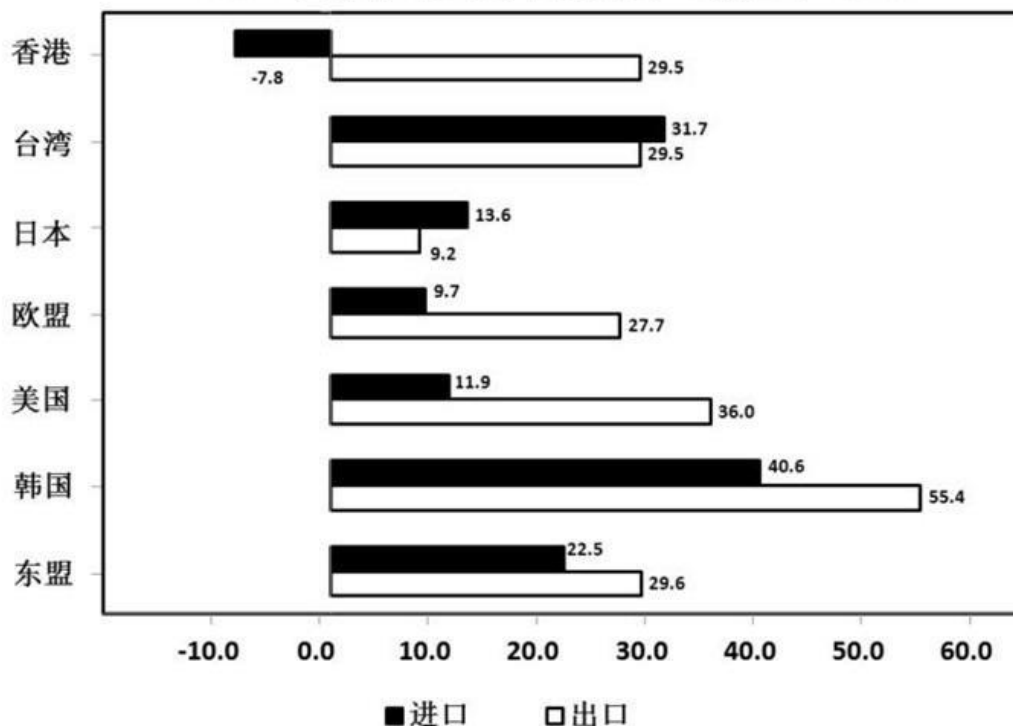
一、根据以下资料，回答问题。

2006年某省全年进出口总额为1391.5亿美元，比上年增长29.6%，其中进口382.5亿美元，增长25.1%，出口1009亿美元，增长31.4%。对主要市场的出口均保持较快增长，韩国和台湾成为2006年该省进口增长较快的国家和地区。

2006年全省新批外商直接投资项目3583个，比上年增加187个，合同外资和实际到位外资分别为191亿元和88.9亿美元，分别增长18.5%和15.1%。第三产业利用外资继续保持良好势头，合同外资47.9亿美元，实际外资19.6亿美元，分别增长25.9%和33.6%，分别占外资总额的25.1%和22.1%，比重分别提高1.5和3.1个百分点。

2006年全年对外承包工程、对外劳务合作、对外设计咨询完成营业额20.3亿美元，比上年增长15.8%。批准境外投资项目425个，总投资3.9亿美元，其中中方投资3.0亿美元，总投资和中方投资分别增长99.6%和79.1%。

2006年某省对主要市场进出口增长率（%）



111. 2005年该省全年进出口总额约为（ ）。
- A. 1073.7亿美元 B. 1103.4亿美元
C. 1233.7亿美元 D. 1266.9亿美元
112. 2006年该省对主要市场进口增长率最低与最高的国家和地区相差的百分点为（ ）。
- A. 32.8 B. 35.2
C. 46.2 D. 48.4
113. 2005年第三产业合同外资与实际外资占外资总额的比重分别为（ ）。
- A. 23.6%与25.2% B. 26.6%与19.0%

- C. 23.6%与 19.0% D. 25.9%与 33.6%

114. 2006年该省对下列国家和地区的出口增长率与进口增长率的差值最大的是（ ）。

- A. 台湾 B. 日本
C. 欧盟 D. 东盟

115. 下列说法都错误的是（ ）。

- ①2006年该省全年出口总额为 382.5 亿美元
②韩国和台湾成为 2006年该省进口增长较快的国家和地区
③2006年全年对外承包工程、对外劳务合作、对外设计咨询完成营业额 23.0 亿美元

- A. ①② B. ②③
C. ①③ D. ①②③

二、根据以下资料，回答问题。

2009年 1—3月，全国完成房地产开发投资 4880 亿元，同比增长 4.1%。其中，商品住宅完成投资 3422 亿元，同比增长 3.2%，比 1—2月提高 2.4 个百分点，比去年同期回落 31.5 个百分点。

1—3月，全国房地产开发企业房屋施工面积 17.87 亿平方米，同比增长 12.7%；房屋新开工面积 2.01 亿平方米，同比下降 16.2%，降幅比 1—2月扩大 1.4 个百分点；房屋竣工面积 9922 万平方米，同比增长 26.3%，增幅比 1—2月回落 2.7 个百分点。其中，住宅竣工面积 8117 万平方米，增长 26.9%，比 1—2月回落 1.6 个百分点。

2009年 1—4月，全国完成房地产开发投资 7290 亿元，同比增长 4.9%。其中，商品住宅完成投资 5114 亿元，同比增长 3.4%，比 1—3月提高 0.2 个百分点，比去年同期回落 31.8 个百分点。

1—4月，全国房地产开发企业房屋施工面积 20.1 亿平方米，同比增长 12.4%；房屋新开工面积 2.78 亿平方米，同比下降 15.6%，降幅比 1—3月缩小 0.6 个百分点；房屋竣工面积 1.32 亿平方米，同比增长 27.1%，增幅比 1—3月提高 0.8 个百分点。其中，住宅竣工面积 1.09 亿平方米，增长 28.5%，比 1-3月提高 1.6 个百分点。

116. 2008年 4月，全国完成房地产开发投资额为（ ）。

- A. 2262 亿元 B. 2410 亿元
C. 3122 亿元 D. 3307 亿元

117. 2009年 1—4月，商品住宅完成投资占房地产开发的比重比前三月（ ）。

- A. 高 2.01 个百分点 B. 高 1.01 个百分点
C. 高 0.12 个百分点 D. 高 0.03 个百分点

118. 2009年 1—4月，全国完成房地产开发投资额的增幅比 1-3月（ ）。

- A. 提高 3.1 个百分点 B. 提高 2.4 个百分点
C. 提高 0.8 个百分点 D. 提高 0.2 个百分点

119. 2007年 1—4月，全国商品住宅完成投资额为（ ）。

- A. 3658 亿元 B. 3863 亿元
C. 3909 亿元 D. 4019 亿元

根据以下资料，回答问题。

120. 2009年 4月，全国房屋新开工面积为（ ）。

- A. 2.78 亿平方米 B. 2.01 亿平方米
C. 1.09 亿平方米 D. 0.77 亿平方米

三、根据以下资料，回答问题。

2009年以来，在灾后恢复重建和扩大内需的各项政策措施的作用下，四川交通运输业投资呈现出快速增长的发展势头。1—4月，全省交通运输业投资255.74亿元，同比增长131.3%，增速较同期全社会投资快52.4个百分点，迎来了高速发展时期。

进入2009年后，全省交通运输业投资就一直保持高速增长，2月完成投资73.25亿，增长87.54%；一季度完成投资169.2亿元，增长130.93%；到4月投资达255.74亿元，同比增长131.3%，较2008年全年高出78.1个百分点。随着总量的提升和增长速度的不断加快，全省交通运输业投资占全社会投资的比重也不断上升，1—4月份占全社会投资比重达到8%，创造了新高。

121. 2008年1—4月，四川省交通运输业投资额为（ ）。
 A. 110.57亿
 B. 128.5亿元
 C. 133.68亿元
 D. 169.2亿元
122. 2008年1—4月，四川全省社会投资额为（ ）。
 A. 1128.95亿元
 B. 1438.39亿元
 C. 1654.65亿元
 D. 1786.35亿元
123. 2009年一季度，四川全省交通运输业投资比去年同期增长了（ ）。
 A. 73.27亿元
 B. 82.76亿元
 C. 95.93亿元
 D. 98.63亿元
124. 2008年4月，四川全省交通运输业投资额为（ ）。
 A. 37.30亿元
 B. 46.62亿元
 C. 51.52亿元
 D. 73.25亿元
125. 2009年4月，四川全省交通运输业投资为（ ）。
 A. 73.25亿元
 B. 86.54亿元
 C. 95.95亿元
 D. 95.96亿元

四、根据以下资料，回答问题。

2004—2006年500家最大外商投资企业总体经营情况表（单位：亿元）

年份	类别	企业数目	总资产	主营收入	增加值	出口额	利润额	所得税和 增值税	就业人数 (万人)
2006	500家	500	21435.5	37064.6	7743.2	17490.7	1825.7	873.2	214.7
	非500家	60016	55053.2	61418.9	17346.1	24469.0	3425.6	1975.5	1881.9
2005	500家	500	18982.8	30541.8	7041.6	13632.9	1662.6	747.6	190.9
	非500家	55799	45167.7	48013.6	13410.8	19671.4	2478.2	1478.5	1719.9
2004	500家	500	15915.5	25840.3			1771.3	662.4	157.4
	非500家	56636	39512.6	39302.3			2107.3	1172.8	1598.0

126. 2006年，我国境内500家最大外商投资企业主营业务收入占全部在华外商投资企业主营业务收入的比重为（ ）。
 A. 60.3%
 B. 56.4%
 C. 43.2%
 D. 37.6%
127. 2006年，我国境内500家最大外商投资企业就业人数比上年（ ）。
 A. 减少了283.9万人
 B. 减少了162万人
 C. 增加了33.5万人
 D. 增加了23.8万人
128. 2005年，我国境内500家最大外商投资企业的利润额与其他外商投资企业利润额的比例为（ ）。

A. 77.5:100

B. 71.8:100

C. 67.1:100

D. 60.9:100

129. 2004—2006年，我国境内500家最大外商投资企业总资产规模分别比上年增长（ ）。

A. 17.1%，9.5%

B. 6.7%，12.9%

C. 19.3%，12.9%

D. 60.3%，60.3%

130. 从表中数据可看出，2004—2006年，我国境内500家最大外商投资企业（ ）。

A. 总资产规模逐年上升

B. 就业人数增长率逐年上升

C. 主营业务收入逐年下降

D. 利润额逐年上升