

第一部分 常识判断

根据题目要求，在四个选项中选出一个最恰当的答案。

请开始答题：

1. 相传我国古代大诗人白居易每次做完诗后，都会读给一位目不识丁的老太太听。白居易这样做的目的是（ ）。
A. 检查作品的韵律是否朗朗上口
B. 检查作品的内容是否通俗易懂
C. 检查作品的主题是否符合大众兴趣
D. 在普通大众中推广自己的作品
2. 人每天都会眨眼无数次，有时是有意识的动作，有时则是“自动”进行的。这些“自动”进行的眨眼动作的主要目的是（ ）。
A. 阻挡灰尘等异物进入眼睛
B. 防止眼部肌肉僵直、疲劳
C. 习惯性动作，没有什么目的
D. 使眼泪均匀覆盖眼球，保持眼球湿润
3. 法国国旗由蓝、白、红三条纵向的色带组成。实际测量发现，三条色带中蓝色带最宽，白色带最窄，红色带宽度居中。出现这种现象的原因是（ ）。
A. 国旗上的三色代表法国的三大区域，色带宽度和区域面积相对应
B. 三种颜色给人造成的主观体验不同，为了让三条色带看上去等宽，所以实际宽度不能相同
C. 国旗来源于当地某古老部族的旗帜，为什么设计成这样，已经无法考证
D. 国旗上三色代表建国时三大党派，色带宽度和当时的党派力量对比有关
4. 罚款、没收违法所得或者没收非法财物拍卖所得的款项，应（ ）。
A. 必须全部上缴国库
B. 交处罚决定机关作办公经费
C. 交本级政府财政部门，列为本级政府财政收入
D. 扣除行政处罚决定机关为此支付的费用后，剩余部分上缴国库
5. 对于情况复杂，不能在规定的期限内作出行政复议决定的复议案件，经行政机关负责人批准，可以适当延长。对于这类案件，自复议机关受理申请之日起必须作出行政复议决定的最长时间是（ ）。
A. 30日
B. 15日
C. 60日
D. 90日
6. 下列各项中，属于行政处罚的是（ ）。
A. 罚金
B. 拘役
C. 责令停产停业
D. 管制
7. 在行政复议中可作为复议依据，在行政诉讼中则只能作为审判参照的是（ ）。
A. 行政规章
B. 地方性法规
C. 行政法规
D. 单行条例、自治条例
8. 国家机关及其工作人员作出下列何种行为造成损害的，受害人有权取得国家赔偿？（ ）
A. 违反国家规定征收财物
B. 行政裁决不当
C. 制定的法规、规章错误
D. 行政机关建房侵占他人用地
9. 居住在甲市甲区的公民，因走私被位于乙市乙区的海关扣留，该公民不服，应向下列哪个单位提起行政诉讼？（ ）
A. 甲市或乙市中级人民法院
B. 甲区或乙区人民法院
C. 甲区人民法院
D. 乙区人民法院
10. 有关人权，下列表述错误的是（ ）。
A. 人权是一个社会历史的范畴，不同社会、不同阶级有不同的人权观

- B. 人权的本质特征是自由和平等，其实质内容和目标是人的生存与发展
 C. 享有人权的主体是所有的人，不仅包括单个的人，也包括人的结合
 D. 人权就是“人的权利”，是天赋的，和公民权是一回事
11. 下列不属于县市级以上行政机关政务公开内容的是（ ）。
- A. 主要领导成员的履历、分工
 B. 政府以监管为目的对监管对象的调查信息
 C. 在制定发展战略、规划、政策过程中形成的记录、报告、咨询意见等
 D. 政务公开服务机构的名称、办公地址、办公时间及联系方式
12. 提出联合国安理会扩大决议草案的“四国联盟”包括（ ）。
- A. 日本、法国、巴西、印度 B. 日本、德国、巴西、印度
 C. 日本、法国、德国、巴西 D. 日本、法国、德国、印度
13. 有关海啸，下列说法错误的是（ ）。
- A. 海啸来临时，海水可能会突然先退下去几十米甚至几百米
 B. 只有水下地震这种大地活动可能引起海啸
 C. 海啸发生时掀起的海浪高度可达几米至几十米不等，形成“水墙”
 D. 海啸发生时，从海底到海面整个水体在波动，所含的能量惊人
14. 工人孙某休假回村，一日主动携带邻居 6 岁小孩进入村旁林深路险、豺狼出没的山林中狩猎玩。走入山林约 5 公里的时候，两人失散。孙某继续独自狩猎，之后既不寻找小孩，也没返村告知小孩家人，便径直回县城工作单位。4 日后，林中他发现被野兽咬伤致死的小孩尸体。孙某的行为属于（ ）。
- A. 故意杀人 B. 意外事件
 C. 过失杀人 D. 不构成犯罪
15. 拖拉机厂电工张某，自恃技术熟练，在检修电路时不按规定操作，造成电路着火，部分设备被烧毁，损失十多万元，张某的行为构成（ ）。
- A. 失火罪 B. 玩忽职守罪
 C. 破坏集体生产罪 D. 重大责任事故罪
16. 某地区高新技术产业开发区办公室主任王某，急于引进外资，对于前来投资的“外商”甲某等人盲目轻信，未认真审查其主体资格、资信状况，就签订引资合作协议，由高新技术产业开发区先期打入对方账户 400 万元，结果，先期打入的资金被悉数骗走，给国家造成了严重损失，王某的行为已经构成了（ ）。
- A. 玩忽职守罪 B. 滥用职权罪
 C. 国家工作人员签订、履行合同失职罪 D. 尚未构成犯罪
17. 当劳动争议发生时，当事人的下列做法中不正确的是（ ）。
- A. 当事人直接向人民法院起诉
 B. 当事人向本单位劳动争议调解委员会申请调解
 C. 当事人直接向劳动争议仲裁委员会申请仲裁
 D. 当事人所在单位劳动争议调解委员会调解不成的，当事人可向劳动争议仲裁委员会申请仲裁
18. 现行宪法规定，自治区的自治条例和单行条例的审批权属于（ ）。
- A. 全国人民代表大会 B. 全国人大常委会
 C. 国务院 D. 本级人民代表大会
19. 作品被收集、出版、发行的 9 岁小画家是（ ）。

- C. 甲应返还银行多付的 1 万元，同时还应返还 1 个月的利息
- D. 甲应返还银行多付的 1 万元，同时还应返还 1 个月的利息及 3000 元利润
29. 有限责任公司与股份有限公司最主要的区别是（ ）。
- A. 后者必须以股东大会为权力机构，前者则不然
- B. 前者以其全部资产对公司债务承担责任，后者则不然
- C. 后者的全部资本分为等额股份并采取股票的形式，前者则不然
- D. 前者的股东有最高人数限制即 2 人以上 50 人以下，后者则不然
30. 在以死亡为给付条件的人身保险中，被保险人死亡以后，如果受益人也先于被保险人死亡，又没有其他受益人的，保险人应当向谁履行给付保险金的义务？（ ）
- A. 投保人指定的人
- B. 被保险人的继承人
- C. 受益人的继承人
- D. 国家

第二部分 言语理解与表达

本部分包括表达与理解两方面的内容。请根据题目要求，在四个选项中选出一个最恰当的答案。

请开始答题：

31. 幽默使人如沐春风，也能解除尴尬。一个懂得幽默的人，会知道如何化解眼前的障碍。我们有时无意中让紧张代替了轻松，让严肃代替了平易，一不小心就变成了无趣的人。对这段话，理解不准确的是（ ）。
- A. 紧张的生活需要幽默调剂
B. 许多人在生活中不擅长使用幽默
C. 生活中，幽默可以化解许多难堪
D. 有情趣的生活，是因为有了幽默
32. 有时候律师的辩护很可能开脱了凶手，有损公共道德，但他们“完美”的法律服务没错。因为法治之法是中性的，它超越道德；而“平等对抗”的诉讼程序，须保证被告人享有他所购买的一切法律服务。即使被告人真是凶手，律师帮他胜诉获释，正义受挫，从法制或“程序之治”的长远利益来看，这也还是值得的，失败了的正义可以在本案之外。对这段话的正确理解是（ ）。
- A. 法制与道德是相互对立的
B. 在一个单一的案件中找不到正义
C. 维护法制程序的意义大于一时的伸张正义
D. 为了保证法制程序的实施，律师常常不得已而为之
33. 时代的场景变化太大了，要让年轻一代真正记住历史，不能停留在概念式的说教上。真正完整有效的历史教育，是应当融会在生活之中的。它不应当仅仅是在纪念馆里才能看到，只是在书本中才能读到，它还应当以丰富、适当的形式渗透到我们居住的街区和生活的种种场景之中，这样才能在耳濡目染中化为整个民族的“集体记忆”。对这段话的准确概括是（ ）。
- A. 历史教育的重要意义
B. 历史教育的形式应当生活化
C. 历史教育随时随地都可以获得
D. 历史存在于民族的集体记忆中
34. 现代社会似乎热衷谈论“大师”，越没有“大师”的时代越热衷于谈论“大师”，这也符合物以稀为贵的市场原则。但“大师”，尤其是人文类的“大师”，一定是通人，而不仅仅是“专家”。但人为的学科分割，根本不可能产生“大师”，只能产生各科“专家”。学术文化真正的全面继承与发展，靠的是“大师”而不是“专家”。“专家”只是掌握专门知识之人，而“大师”才是继往开来之人。缺乏“大师”，是学术危机的基本征象。这段话支持的观点是（ ）。
- A. 没有“大师”，社会就不可能进步
B. 社会关注错位，并不存在所谓的“大师”
C. 人为的学科分割导致了社会缺乏“专家”和“大师”
D. “专家”不一定是“大师”，而“大师”必须是一个“专家”
35. 人文教育从表面上看，好像只是传授文史哲方面的知识，尤其是在现在的学科体制下，一切教育似乎都可以量化为客观知识和能力，如英语的等级考试。实际上人文教育是通过文史哲的学习，通过对人类千百年积累下来的成果的吸纳和认同，使学生有独立的人格意志，有丰富的想象力和创造性，有健全的判断能力和价值取向，有高尚的趣味和情操，有良好的修养和同情心，对个人、家庭、国家、天下有一种责任感，对人类的命运有一种担待。这段话表达的主要观点是（ ）。

- A. 英语的等级考试是为大众所熟悉的一种人文教育
 B. 人文教育的主要内容是传授文史哲方面的知识
 C. 在目前的学科体制下，人文教育可以量化为客观知识和能力
 D. 人文教育的目的包括人性境界提升、人格塑造以及个人与社会价值实现
36. 在公路发展的早期，它们的走势还能顺从地貌，即沿河流或森林的边缘发展。可如今，公路已无所不在，狼、熊等原本可以自由游荡的动物种群被分割得七零八落。与大型动物的种群相比，较小动物的种群在数量上具有更大的波动性，更容易发生杂居现象。
这段话主要讲述的是（ ）。
- A. 公路发展的趋势
 B. 公路对动物的影响
 C. 动物生存状态的变
 D. 不同动物的不同命运
37. 如何寻找兴趣和激情呢，首先你要把兴趣和才华分开。做自己有才华的事，容易出成果，但不要因为自己做得好，就认为那是你的兴趣所在。
这段话的主要意思是（ ）。
- A. 只有喜欢才能干好
 B. 干得好不一定就喜欢
 C. 不要做自己不喜欢的事
 D. 成果越多越能激发兴趣
38. 任何目标都必须是实际的、可衡量的，不能只是停留在口号或空话上。制定目标的目的是为了进步，不去衡量，你就无法知道自己是否取得了进步。所以你必须把抽象的、无法实施的、不可衡量的大目标简化成为实际的、可衡量的小目标。
这段话的核心意思是（ ）。
- A. 制定目标后必须付诸实施
 B. 没有小目标就没有大目标
 C. 小目标才有实际意义
 D. 目标要能衡量、可实施
39. 在单独的一次博弈中存在较大的机会主义，也就是只要有可能，每个人都倾向于利用自身的优势为自己谋求最大化的利益，这就可能给对方带来损失，而对方也是同样的人，只要有机会也会这么做，于是双方都要采取措施来防范对方，白白增加了很多“交易成本”。
这段话的核心意思是（ ）。
- A. 怎样避免“交易成本”
 B. 单次博弈中存在“交易成本”
 C. 在博弈活动中必须抢先抓住机会
 D. 博弈双方都不可能达到利益最大化
40. 某些疾病其实就是自然的一种表现，因此不必非得除之而后快。但这是需要勇气的，因为这样做表面上是低估了科学，但事实上是尊重科学，客观科学地看待科学。科学不是万能的，人的探索也是有限的。只有这样才不会在科学无法治疗疾病的时候迁怒于科学，并转而投向迷信的怀抱。
这段话的主题是（ ）。
- A. 科学的作用
 B. 科学的有限性
 C. 相信科学，反对迷信
 D. 看待科学的正确态度
41. 我们都是求索之人，求知欲牵着我们的神魂，就让我们从一个点到另一个点地移动我们的神灯吧。随着一小片一小片的面目被认识清楚，人们最终也许能将整体画面的某个局部拼制出来。
这段话强调的主要意思是（ ）。
- A. 探索是无穷的
 B. 人类的认识非常缓慢
 C. 有求知欲人类才有进步
 D. 人类最终能认识整个世界

42. 对待春运铁路涨价方案，选择回家的外地人不外乎两种态度——要么是烂熟于胸、精打细算，要么是一种习以为常的无所谓。但方案所产生的结果却只有一种，那就是，很少人会因为 15% 或 20% 的涨价而停止归乡的步伐。
通过这段话，可以得知（ ）。
- A. 通过涨价来调节运力的初衷，难以变成现实
B. 对外地人来说，回不回家是个两难的选择
C. 回家过年的人不在乎车票涨价
D. 车票涨价不会产生任何影响
43. 经济增长率，代表的发展速度是相对数，不等于经济发展，不同地方 GDP 增长 1%，基数小的比基数大的要省力得多，经济状况差的比经济状况好的要费力得多。
对这段话，理解不正确的是（ ）。
- A. 不能过于相信增长率
B. 增长率高并不代表经济状况好
C. GDP 总数越大经济增长率越高
D. 经济发展比经济增长率的内涵大
44. 作为整体，中国在上举举足轻重；但作为个人，不少中国人还觉得自己一无所有。国家之强和个人之弱使一些人心理失衡，觉得自己活得还是像半殖民地时代受人家欺负的受害者。正因如此，我们更需要对自己生存的状态有理性的认识，克服狭隘的“受害者情结”。否则，崛起的中国将难以担当与自己的国际地位相称的责任。
这段话谈论的核心意思是（ ）。
- A. 中国急需提高国民的个人地位
B. 中国人需要调整自己的心理状态
C. 中国人为什么有“受害者情结”
D. 崛起的中国要承担相应的国际地位
45. 经济优势往往造就文化强势，文化强势则借助经济优势向经济相对落后的地区辐射，这是文化传播的一个规律。在这一过程中，会存在泥沙俱下的问题，把一些不好的东西也学了过来。
根据这段话，可以知道（ ）。
- A. 经济状况影响文化传播的方向
B. 经济上有优势文化也就先进
C. 经济落后的地区会择善而从
D. 经济基础决定上层建筑
46. 环保总局叫停环保违规项目，正是公共服务型政府的职能归位。相比建设钢铁厂、发电站和汽车生产线，政府更应当干的事情是保护环境、投资教育和建立健全社会保障体制等。众所周知，前者正面临着过度投资后的全面过剩，而后者却有数以万亿计的财政窟窿等待填补。
对这段话，概括准确的是（ ）。
- A. 环保总局转变了政府职能
B. 环保总局叫停环保违规项目
C. 政府应该向公共服务型政府方向转变
D. 当前急需投资的是环境、教育和社会保障领域
47. 假如现有房地产“业态”处在坚持交易公平、利润率合理、制造富翁的速度和数量合理的水平和状态，想必其“经济性”应当最佳。最理想的一种趋势或结果应该是：合作建房这种新“业态”仅仅充当了一块“敲门砖”或一种“催化剂”，其萌生和存在的意义，仅仅是打破现有房地产业的暴利和不公的现状。
这段话的核心意思是（ ）。
- A. 希望合作建房在规范房地产方面发挥作用
B. 希望合作建房能成为房地产业的新形式
C. 房地产业应该交易公平、利润率合理
D. 房地产业未来的发展趋势和方向

48. 运动损伤后，经过一段时间的治疗和休息，肿胀、疼痛症状逐渐消失，许多人以为完全康复了，其实不然。在损伤恢复的后期，仍要在不加重疼痛的前提下，加强受伤部位的功能性锻炼，防止受伤部位因长期代谢障碍而引起组织变形或功能改变，只有这样才能彻底康复。根据这段话，理解正确的是（ ）。
- A. 运动损伤后要经过长时间的治疗和休息
B. 功能性锻炼是运动损伤的辅助治疗手段
C. 损伤恢复后期是进行功能性锻炼的最佳阶段
D. 根据疼痛症状是否消失足以确定病人是否康复
49. 最近科学考查结果表明，北冰洋历史上曾经是一个很温暖的地方，物种非常丰富。此外，根据对海底沉积岩层的取样分析认为，北冰洋海底也许是一个巨大的石油储藏地。根据科学家的研究，围绕北冰洋周边，从美国阿拉斯加州的北端到欧洲北部的大陆架，都可能有丰富的石油储藏。对这段话，理解不准确的是（ ）。
- A. 北冰洋是否有石油储藏目前还没有确定
B. 科学家对北冰洋的历史状况进行了深入分析
C. 研究表明，欧洲北部大陆架有丰富的石油储藏
D. 北冰洋可能会成为其周边国家关注能源的一个热点地区
50. 高尔夫球运动刚刚兴起时，有个奇怪现象：几乎所有的高尔夫球手都喜欢用旧球，特别是有划痕的球。原来，有划痕的球比光滑的新球有着更优秀的飞行能力。于是，根据空气动力学原理，科学家设计出了表面有凹点的高尔夫球。这些凹点，让高尔夫球的平稳性和距离性比光滑的球更有优势。从此，_____。填入横线最恰当的是（ ）。
- A. 高尔夫球手不再喜欢使用旧球
B. 高尔夫球运动迈入了一个新的阶段
C. 有凹点的高尔夫球成为比赛的统一用球
D. 越来越多的厂家生产出带凹点的高尔夫球
51. 一次，去新疆旅游，晚上住在一户牧民家。牧民家养了一头骆驼，骆驼前放着一大堆干草。我问牧民，为什么骆驼不吃鲜润的青草而吃苦涩的干草？牧民说，骆驼是种忧患心理很强的动物，它害怕主人第二天就让它穿越沙漠，而胃中的干草要比青草耐饥，一头成年骆驼一晚可以慢慢吃掉几十斤干草。对这段话，理解正确的是（ ）。
- A. 牧民没有青草只好喂干草
B. 骆驼不喜欢吃新鲜的青草
C. 骆驼主要是在晚上进食
D. 骆驼对主人有防备心理
52. 我们无论做任何事情，或做出任何的决定，必须考虑到在不同方面求取平衡。当然，不同的人的平衡技巧和“功力”各不相同，但关键在于做任何事情时，千万别让自己陷入盲目的追逐潮，以至于迷失自己，错过人生美好的事物。对这段话，理解不准确的是（ ）。
- A. 做任何事情都会面临成功和失败
B. 人们的平衡技巧存在着个性差异
C. 追逐潮流是每个人应有的权利
D. 无论做任何事情都不要追逐潮流
53. 过去，我们把人体内的病毒都视为致病病毒，其实，这是一种片面的看法。实际上，在人体内的所有病毒中，致病病毒只占少数，绝大多数病毒能够与人类和平共处、相安无事。对这段话，理解不准确的是（ ）。
- A. 病毒有很多种，只有少部分对人体有害
B. 普通老百姓对病毒的认识和了解存在片面性

- C. 对于体内的非致病病毒人们完全可以置之不理
D. 身体的健康与否与体内病毒的多少没有多大关系
54. 通过社会的认可获得对自身价值的实现，这原本无可厚非。但在一个浮躁的时代里，过多的一夜成名被认为最快捷的成功方式，现实的浮躁在某种程度上也纵容了一些年轻人的冒险心理。对于还没有来得及面对生离死别的年轻人来说，还很难真正理解生命的责任。但一个生命的产生和消失，对于一个家庭的意义却十分深远，所以说_____。
填入划线部分最恰当的一项是（ ）。
- A. 年轻人不能无所顾忌地外出冒险 B. 没有家庭的团圆就没有社会的安定
C. 珍惜生命是对社会应尽的责任和义务 D. 没有人可以随意将生命置之无谓的牺牲
55. 无论懒惰者还是勤勉者，养金鱼都不成问题。勤勉者可以每天换一次水，懒惰者尽可以一月一换。只是如果突然改变换水的习惯，变一天为一月，或变一月为一天，金鱼都可能莫名其妙地暴亡。勤勉者据此得出结论：金鱼必须一天一换水；懒惰者得出完全相反的结论：金鱼只能一月一换水。
本文作者通过这段话最想传达给读者的观念是（ ）。
- A. 无论做什么都需要更新观念
B. 勤勉者和懒惰者的做法都是错误的
C. 要想养好金鱼，必须了解和熟悉金鱼的习性
D. 生活必须流变和传承，固守与撕裂同样是危险的

第三部分 数量关系

在这部分试题中，每道题呈现一段表述数字关系的文字，要求你迅速、准确地计算出答案。

请开始答题：

56. 102, 96, 108, 84, 132, ()。
- A. 36
B. 64
C. 70
D. 72
57. 1, 32, 81, 64, 25, (), 1。
- A. 5
B. 6
C. 10
D. 12
58. -2, -8, 0, 64, ()。
- A. -64
B. 128
C. 156
D. 250
59. 2, 3, 13, 175, ()。
- A. 30625
B. 30651
C. 30759
D. 30952
60. 3, 7, 16, 107, ()。
- A. 1707
B. 1704
C. 1086
D. 1072
61. 人工生产某种装饰用珠链，每条珠链需要珠子 25 颗，丝线 3 条，搭扣 1 对，以及 10 分钟的个人工劳动。现有珠子 4880 颗，丝线 586 条，搭扣 200 对，4 个工人。则 8 小时最多可以生产珠链 ()。
- A. 200 条
B. 195 条
C. 193 条
D. 192 条
62. 某市出租汽车的车费计算方式如下：路程在 3 公里以内（含 3 公里）为 8.00 元；达到 3 公里后，每增加 1 公里收 1.40 元；达到 8 公里以后，每增加 1 公里收 2.10 元，增加不足 1 公里按四舍五入计算。某乘客乘坐该种出租车交了 44.4 元车费，则此乘客乘该出租车行驶的路程为 ()。
- A. 22 公里
B. 24 公里
C. 26 公里
D. 29 公里
63. 如果 4 个矿泉水空瓶可以换一瓶矿泉水，现有 15 个矿泉水空瓶，不交钱最多可以喝矿泉水 ()。
- A. 3 瓶
B. 4 瓶
C. 5 瓶
D. 6 瓶
64. 一个三位数除以 9 余 7，除以 5 余 2，除以 4 余 3，这样的三位数共有 ()。
- A. 5 个
B. 6 个
C. 7 个
D. 8 个
65. 有粗细不同的两支蜡烛，细蜡烛的长度是粗蜡烛长度的 2 倍，点完细蜡烛需要 1 小时，点完粗蜡烛需要 2 小时。有一次停电，将这样两支蜡烛同时点燃，来电时，发现两支蜡烛所剩长度一样，则此次停电共停了 ()。
- A. 10 分钟
B. 20 分钟

- C. 40 分钟
D. 60 分钟
66. 为了把 2008 年北京奥运办成绿色奥运，全国各地都在加强环保，植树造林。某单位计划在通往两个比赛场馆的两条路的（不相交）两旁栽上树，现运回一批树苗，已知一条路的长度是另一条路长度的两倍还多 6000 米，若每隔 4 米栽一棵，则少 2754 棵；若每隔 5 米栽一棵，则多 396 棵，则共有树苗（ ）。
- A. 8500 棵
B. 12500 棵
C. 12596 棵
D. 13000 棵
67. 在一条公路上每隔 100 公里有一个仓库，共有 5 个仓库，一号仓库存有 10 吨货物，二号仓库存有 20 吨货物，五号仓库存有 40 吨货物，其余两个仓库是空的。现在要把所有的货物集中存放在一个仓库里，如果每吨货物运输 1 公里需要 0.5 元运输费，则最少需要运费（ ）。
- A. 4500 元
B. 5000 元
C. 5500 元
D. 6000 元
68. 电视台要播放一部 30 集电视连续剧，如果要求每天安排播出的集数互不相等，该电视剧最多可以播（ ）。
- A. 7 天
B. 8 天
C. 9 天
D. 10 天
69. 四人进行篮球传接球练习，要求每人接球后再传给别人。开始由甲发球，并作为第一次传球，若第五次传球后，球又回到甲手中，则共有传球方式（ ）。
- A. 60 种
B. 65 种
C. 70 种
D. 75 种
70. 有甲、乙两个项目组。乙组任务临时加重时，从甲组抽调了四分之一的组员。此后甲组任务也有所加重，于是又从乙组调回了重组后乙组人数的十分之一。此时甲组与乙组人数相等。由此可以得出结论（ ）。
- A. 甲组原有 16 人，乙组原有 11 人
B. 甲、乙两组原组员人数之比为 16: 11
C. 甲组原有 11 人，乙组原有 16 人
D. 甲、乙两组原组员人数比为 11: 16
71. 100 名男女运动员参加乒乓球单打淘汰赛，要产生男、女冠军各一名，则要安排单打赛（ ）。
- A. 90 场
B. 95 场
C. 98 场
D. 99 场
72. 某服装厂有甲、乙、丙、丁四个生产组，甲组每天能缝制 8 件上衣或 10 条裤子；乙组每天能缝制 9 件上衣或 12 条裤子；丙组每天能缝制 7 件上衣或 11 条裤子；丁组每天能缝制 6 件上衣或 7 条裤子。现在上衣和裤子要配套缝制（每套为一件上衣和一条裤子），则 7 天内这四个组最多可以缝制衣服（ ）。
- A. 110 套
B. 115 套
C. 120 套
D. 125 套
73. 某工作组有 12 名外国人，其中 6 人会英语，5 人会说法语，5 人会西班牙语；有 3 人既会说英语又会说法语，有 2 人既会说法语又会说西班牙语，有 2 人既会说西班牙语又会说英语；有 1 人这三种语言都会说。则只会说一种语言的人比一种语言都不会说的人多（ ）。
- A. 1 人
B. 2 人
C. 3 人
D. 5 人
74. 5 人的体重之和是 423 斤，他们的体重都是整数，并且各不相同，则体重最轻的人，最重可能重（ ）。
- A. 80 斤
B. 82 斤

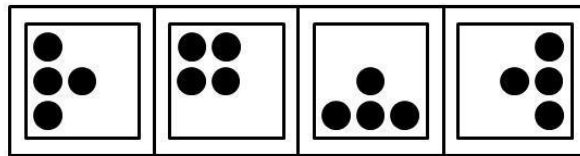

- C. 84斤
D. 86斤
75. 从 12 时到 13 时，钟的时针与分针可成直角的机会会有（ ）。
A. 1 次
B. 2 次
C. 3 次
D. 4 次

第四部分 判断推理

一、图形推理。请按每道题的答题要求作答。


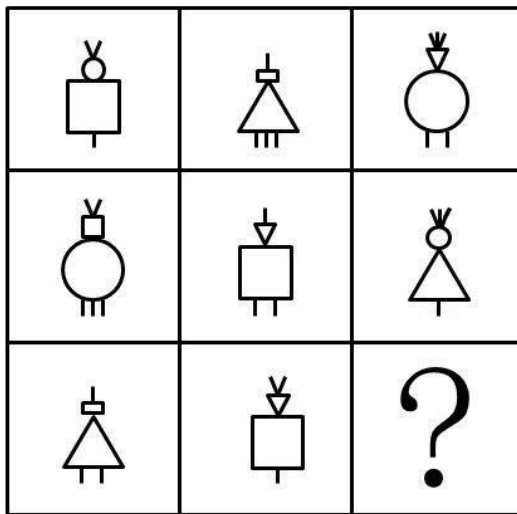
请开始答题：

76. 从所给的四个选项中，选择最适合的一项填入问号处，使之呈现一定的规律性（ ）。



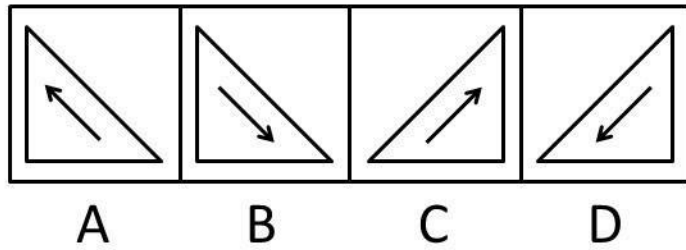
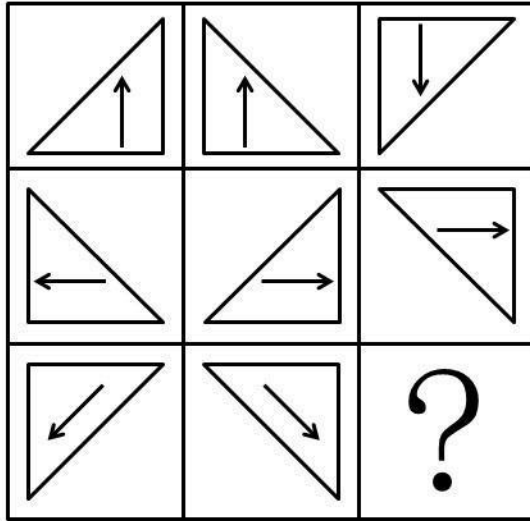
A B C D

77. 从所给的四个选项中，选择最适合的一项填入问号处，使之呈现一定的规律性（ ）。

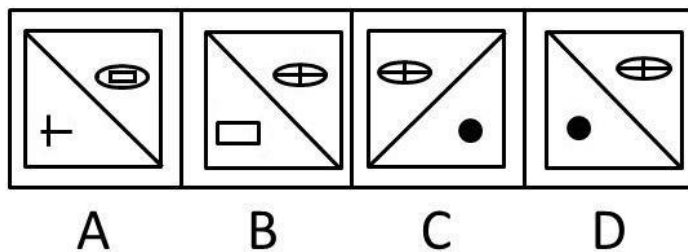
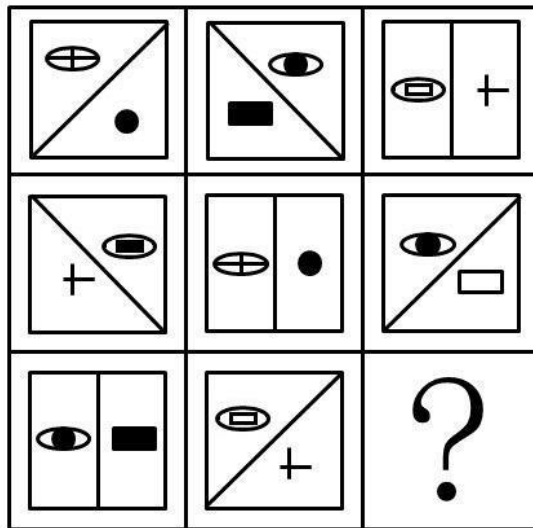


A B C D

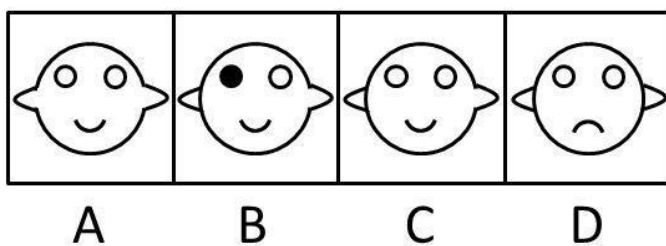

78. 从所给的四个选项中，选择最适合的一项填入问号处，使之呈现一定的规律性（ ）。



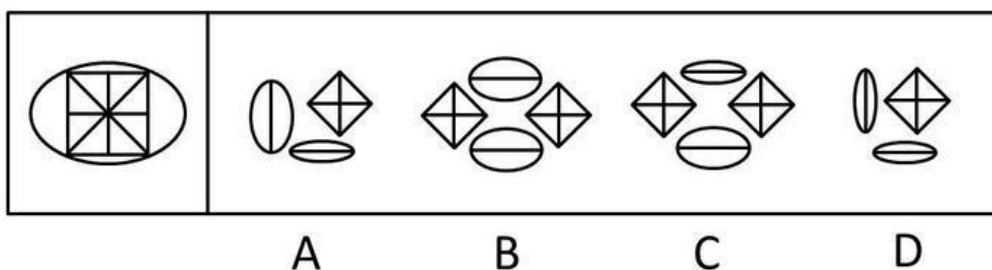
79. 从所给的四个选项中，选择最适合的一项填入问号处，使之呈现一定的规律性（ ）。



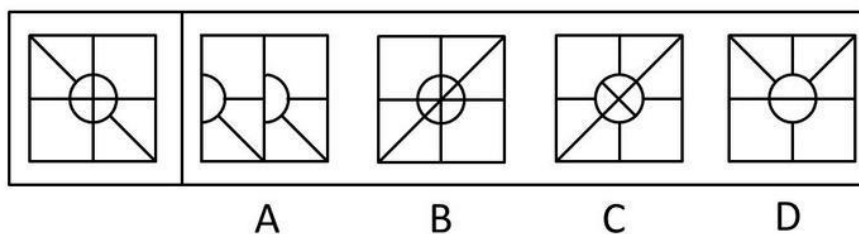
80. 从所给的四个选项中，选择最适合的一项填入问号处，使之呈现一定的规律性（ ）。



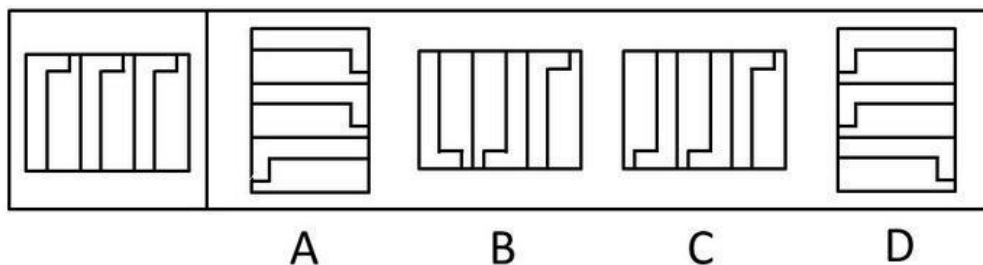
81. 以下各项图形，可由左侧图形中各组成部分经过平面变化得到的是（ ）。



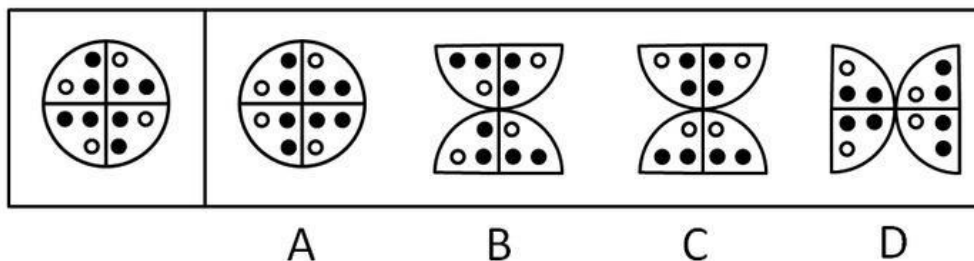
82. 以下各项图形，可由左侧图形中各组成部分经过平面变化得到的是（ ）。



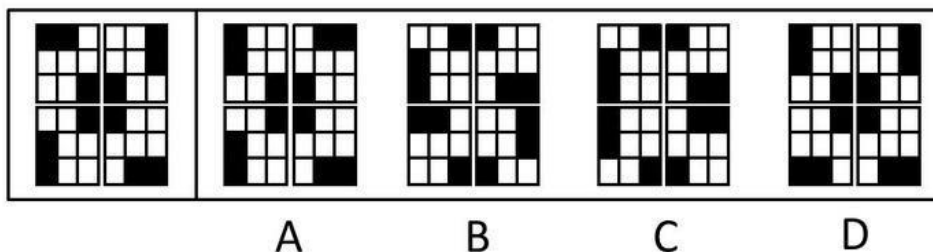
83. 以下各项图形，可由左侧图形中各组成部分经过平面变化得到的是（ ）。



84. 以下各项图形，可由左侧图形中各组成部分经过平面变化得到的是（ ）。



85. 以下各项图形，可由左侧图形中各组成部分经过平面变化得到的是（ ）。



二、定义判断。每道题先给出定义，然后列出四种情况，要求你严格依据定义，从中选出一个最符合或最不符合该定义的答案。注意：假设这个定义是正确的，不容置疑的。

请开始答题：

86. 第三者责任险负责赔偿保险车辆因意外事故，致使第三者遭受人身伤亡或财产的直接损失。

所谓第三者是指被保险人及其财产和保险车辆上所有人员与财产以外的他人、他物。所谓“所有人员”指车上的驾驶员和所有乘坐人员。但这些人下车后除驾驶员外，均可视为第三者。

根据以上定义，下列属于第三者责任险赔偿范围的是（ ）。

A. 甲驾驶自己的私人车辆出行，途中车辆发生故障。甲下车修理，车辆突然向后滑行，甲被车辆轧断脚掌，本次事故中甲的医疗费用共计 5000 元

B. 甲驾驶卡车向某市运送货物，由于雪天路滑，在避让行人时，发生了翻车事故。经检查，本次事故中车辆损毁及货物损毁费用共计 19000 元

C. 甲为某长途汽车司机。在车辆的行驶过程中，车厢内突然起火。乘客乙被烧伤，财物被烧光。乙要求甲赔偿医疗费用及财物损毁费用共计 10000 元

D. 甲驾驶大巴车送一批游客去参观名胜古迹。到达旅游地点，甲倒车时将在车后绕行的乘客乙撞伤，后乙向甲索赔 20000 元

87. 物证是指能够证明案件真实情况的物质痕迹和物品。物证的特征是它的外形、质量、特性和所在的位置等，反映了某些案件事实，人们可以此来证明案件的事实真相。

根据以上定义，下列属于物证的是（ ）。

A. 高速公路上发生一起交通事故，交通警察勘测现场时拍摄的现场照片

B. 在审理一起恶性的杀人案件中，因目击证人担心遭到报复，不愿出庭作证，而提供的记录证言的录音带

C. 某地警方在打击盗窃机动车的行动中追缴回来的被盗车辆

D. 根据警方在盗窃现场提取的指纹，鉴定人员所作的指纹鉴定报告

88. 器官移植分为：

①自体移植，指移植物取自受者自身；

②同系移植，指移植物取自遗传基因与受者完全相同或基本相似的供者；

③同种移植，指移植物取自同种但遗传基因有差异的另一个体；

④异种移植，指移植物取自异种动物。

根据以上定义，同卵双生姐妹之间的肾移植属于（ ）。

- A. 自体移植
- B. 同系移植
- C. 同种移植
- D. 异种移植

89. 价格歧视是指企业以不同价格把同样的物品卖给不同顾客，尽管对每个顾客的生产成本是相同的。

根据以上定义，下面不属于价格歧视的是（ ）。

- A. 厂家在报刊上赠送折扣券
- B. 买两个同样的商品打八折
- C. 电影票对儿童和老人优惠
- D. 厂家低价销售次品

90. 现场笔录是法定的行政诉讼证据形式之一，是指行政机关工作人员在执行公务的过程中对行政违法行为当场进行调查、给予处罚或者处理而制作的文字记载资料。包括行政机关对违反行政法规的当事人进行讯问所作的笔录。现场笔录适用的情形包括：

- ①在证据难以保全的情况下；
- ②在事后难以取证的情况下；
- ③不可能取得其他证据或者其他证据难以证明案件的真实时。

根据以上定义，以下不适用现场笔录的是（ ）。

- A. 交警对骑自行车闯红灯的人进行处罚
- B. 卫生部门进行检查，发现餐馆有不洁的餐具
- C. 工商部门检查小卖部，发现有变质的饮料
- D. 税务部门发现某公司在一宗大型交易中偷税

91. 泛化是指某种特定刺激的条件反应形成后，另外一些类似的刺激，也会诱发同样的条件反应。

新刺激越近似于原刺激，条件反应被诱发的可能性就越大。

根据以上定义，以下可以称为泛化现象的是（ ）。

- A. 杯弓蛇影
- B. 草木皆兵
- C. 四面楚歌
- D. 一朝被蛇咬，十年怕井绳

92. 预备犯罪是指为了实行犯罪事先准备工具、制造条件的行为。表现形式主要有两种：

- ①准备工具。任何工具只要同犯罪行为联系在一起，就成为犯罪工具；
- ②制造条件。如谋划行动方案、勾结共同犯罪人等等。

根据以上定义，下列描述未构成预备犯罪的是（ ）。

- A. 刘军因为私人问题与老板积怨。一天，他遇老板外出，正巧天降暴雨，毁坏交通。刘军准备制造车祸假象，想致老板意外死亡
- B. 丁某欠王老板 20 余万元，王老板多次索要，丁某总是躲避或拒绝。一天，有人告诉丁某，王老板正在训练“打手”，准备对付丁某。后来，丁某查证，所谓的“打手”，是王老板新招的保安
- C. 梁某觊觎邻居家新买的摩托车，意欲据为己有，并悄悄准备好了一把万能钥匙，想趁邻居不在家时入室偷窃
- D. 张胜扬言要杀吴天，并买了一把三棱刮刀，准备伺机行动

93. 持续犯又称继续犯，是指犯罪行为在一定时间内处于持续不间断状态的犯罪。持续犯的犯罪行为同不法状态同时继续，而不只是不法状态的继续，如果只是犯罪行为所造成的不法状态处于继续之中，而犯罪行为已经结束，并不处于持续状态，那就不是持续犯。

根据以上定义，下列行为未构成持续犯的是（ ）。

- A. 田某依靠网络，将青少年诱骗至其家中，并先后杀害 5 名少年
- B. 谢某虽然有妻子，却仍然同意与王某结婚，婚后一直与王某生活在一起

- C. 张某私自购买了若干枪支弹药，并将其藏在自家地窖里
 D. 某村支书因为村民韩某没有按照村里规定完成务工，便私自将韩某拘禁
94. 无因管理是指当事人无法律上的根据，也未受到他人的委托而管理他人事物。无因管理行为是一种自发性的行为，无因管理人负有义务进行适当管理，对于无因管理行为人的合法权益，应及时给予保护。
 根据以上定义，下列描述符合无因管理规定的是（ ）。
 A. 王某经常引诱一些宠物至自家饲养，并向主人索取饲养费
 B. 韩某因公出国半年，临行前将自己价值 5000 元的宠物委托邻居保管饲养
 C. 小金拾到一只别人的小狗，久等不见主人。后将其带回家饲养，事后将狗返还其主人，并向主人索取饲养费
 D. 张某将自行车放在路边锁上就办事去了。附近看车的王某怕影响交通就把车推到自己存车处，结果车子被盗，王某可以不进行赔偿
95. 行政合同是指行政主体为了行使行政职能、实现特定的行政管理目标，而与公民、法人或其他组织，经过协商一致所达成的协议。
 根据以上定义，下列合同中不属于行政合同的是（ ）。
 A. 计划生育合同
 B. 全民所有制工业企业承包合同
 C. 国有土地使用权出让合同
 D. 税务局委托法院拍卖其留置船舶的委托合同

三、类比推理。每道题先给出一组相关的词，要求你在备选答案中找出一组与之在逻辑关系上最为贴近，相似或匹配的词。

请开始答题：

96. 费解：理解
 A. 难看：漂亮
 B. 组合：合并
 C. 坚固：塌陷
 D. 疏忽：忽略
97. 白衣天使：护士
 A. 雷锋：助人为乐
 B. 橄榄枝：和平
 C. 钢铁长城：军人
 D. 母亲：祖国
98. 二氧化碳：温室效应
 A. 石油：煤炭
 B. 公路：汽车
 C. 洪水：水灾
 D. 投资：风险
99. 比喻：拟人
 A. 报纸：课本
 B. 冰箱：洗衣机
 C. 金丝猴：香蕉
 D. 月球：月亮
100. 模仿：摩擦
 A. 鹦鹉：问好
 B. 音乐会：侵权
 C. 复制：官司
 D. 复印：卡纸
101. 淹没：水
 A. 监禁：牢房
 B. 埋葬：泥土
 C. 结冰：冰箱
 D. 围攻：部队
102. 自恋：爱
 A. 敌意：批评
 B. 沉思：思想

- C. 内疚：谴责
D. 贪婪：欲望
103. 七巧板：拼图
A. 夹子：手镯
B. 瓷砖：镶嵌
C. 暗示：对话
D. 秘密：神秘
104. 侵蚀：削弱
A. 压缩：服从
B. 联合：净化
C. 增加：扩大
D. 坚持：改进
105. 学习：掌握
A. 弥漫：包围
B. 收集：赢得
C. 寻找：发现
D. 积累：提高

四、逻辑判断。每道题给出一段陈述，这段陈述被假设是正确的，不容置疑的。要求你根据这段陈述，选择一个答案。注意：正确的答案应与所给的陈述相符合，不需要任何附加说明即可以从陈述中直接推出。

请开始答题：

106. 有文章指出，婴儿对音乐或歌声的反应要比话语更强烈。对于6个月大的婴儿，母亲的歌声是最容易让其入眠的。同时，音乐旋律能够反映人体自身的韵律，比如，心跳和呼吸的节律。根据这段话，以下做法合理的是（ ）。
- A. 用音乐为婴儿治疗生理性疾病
B. 用音乐进行胎教，锻炼胎儿的四肢
C. 用音乐调节婴儿的情绪和反应
D. 用儿童喜欢的音乐旋律推测其身体状况
107. 自然界的水因与大气、土壤、岩石等接触，所以含有多种“杂质”，如钙、镁、钾、钠、铁、氟等。现代人趋向于饮用越来越纯净的水，如蒸馏水、纯水、太空水等。殊不知，长期饮用这种超纯净的水，会不利于健康。下列选项最能支持上述论断的是（ ）。
- A. 人们对饮食卫生越注重，人体的健康就会越脆弱
B. 只有未经处理的自然界的水，才符合人体健康的需要
C. 超纯净水之所以大受欢迎，是因为它更加卫生、口感更好
D. 自然界水中的所谓“杂质”，可能是人体必需微量元素的重要来源
108. 未来深海水下线缆的外皮将由玻璃制成，而不是特殊的钢材或铝合金。因为金属具有颗粒状的微观结构，在深海压力之下，粒子交界处的金属外皮容易断裂。而玻璃看起来虽然是固体，但在压力之下可以流动，因此可以视为液体。由此可以推出（ ）。
- A. 玻璃没有颗粒状的微观结构
B. 一切固体几乎都可以被视为缓慢流动的液体
C. 玻璃比起钢材或铝合金，更适合做建筑材料
D. 与钢材相比，玻璃的颗粒状的微观结构流动性更好
109. 遇到高温时，房屋建筑材料会发出独特的声音。声音感应报警器将会探测这些声音，提供一个房屋起火的早期警报，使居住者能在被烟雾熏晕前逃离。由于烟熏是房屋火灾人员伤亡最通常的致使因素，所以安装报警器将会有效地降低房屋火灾的人员伤亡。下列哪一个假设如果正确，最能反驳上面的论述？（ ）
- A. 声音感应报警器广泛使用的话，其高昂成本将下降
B. 在完全燃烧时，许多房屋建筑材料发出的声音在几百米外也可听见
C. 许多火灾开始于室内的沙发座垫或床垫，产生大量烟雾却不发出声音

- D. 在一些较大的房屋中，需要多个声音感应报警器以达到足够的保护
110. 一般来说，科学家在进行科学研究时，容易被与其目标一致的其他科学家所接受，作为他们的同事。而当某位科学家作为向大众解释科学的人获得声誉时，大多数其他科学家会认为他不能再被视为一位真正的同事了。以上论断所基于的假设是（ ）。
- A. 严肃的科学研究不是一项个人的活动，而是要依赖一群同事的积极协作
 B. 从事研究的科学家们不把他们所嫉妒的有名的科学家们视为同事
 C. 一位科学家可以在没有完成任何重要研究的情况下成为一位知名人士
 D. 从事研究的科学家们认为那些科学名人没有动力去从事重要的新研究
111. 对那些很少刷牙的人来说，罹患口腔癌的危险性更高。为了能在早期发现这些人的口腔癌，某市卫生部门向该市居民散发了小册子，上面描述了如何进行每周口腔的自我检查以发现口腔内的肿瘤。
- 下面哪个选项如果正确，最能质疑上述做法的效果？（ ）
- A. 口腔癌在成年人中比在儿童中更为普遍
 B. 这份小册子被散发到该市的所有居民
 C. 很少刷牙的人不大可能每周对他们的口腔进行检查
 D. 许多牙病症状是不能在每周自我检查中被发现的
112. 三位男生张强、赵林、王刚和三位女生李华、秦珊、刘玉暑假外出旅游，可能去上海、杭州、青岛和大连。条件是：
- ①每人只能去一个地方；
 ②凡是男生去的地方就必须有女生去；
 ③凡是有女生去的地方就必须有男生去；
 ④李华去上海或者杭州，赵林去大连。
- 如果上述断定都为真，则去杭州的人中不可能同时包含（ ）。
- A. 张强和王刚
 B. 王刚和刘玉
 C. 秦珊和刘玉
 D. 张强和秦珊
113. 在一种插花艺术中，对色彩有如下要求：
- ①或者使用橙黄或者使用墨绿；
 ②如果使用橙黄，则不能使用天蓝；
 ③只有使用天蓝，才使用铁青；
 ④墨绿和铁青只使用一种。
- 由此可见在该种插花艺术中（ ）。
- A. 不使用墨绿，使用天蓝
 B. 不使用橙黄，使用铁青
 C. 不使用铁青，使用墨绿
 D. 不使用天蓝，使用橙黄
114. 如果生产下降或浪费严重，那么将造成物资匮乏。如果物资匮乏，那么或者物价暴涨，或者人民生活贫困。如果人民生活贫困，政府将失去民心。事实上物价没有暴涨，而且政府赢得了民心。
- 由此可见（ ）。
- A. 生产下降但是没有浪费严重
 B. 生产没有下降但是浪费严重
 C. 生产下降并且浪费严重
 D. 生产没有下降并且没有浪费严重
115. 航天局认为优秀宇航员应具备三个条件：第一，丰富的知识；第二，熟练的技术；第三，坚强的意志。现有至少符合条件之一的甲、乙、丙、丁四位优秀飞行员报名参选，已知：
- ①甲、乙意志坚强程度相同；

②乙、丙知识水平相当；

③丙、丁并非都是知识丰富；

④四人中三人知识丰富、两人意志坚强、一人技术熟练航天局经过考查；
发现其中只有一人完全符合优秀宇航员的全部条件。

他是（ ）。

A. 甲

B. 乙

C. 丙

D. 丁

第五部分 资料分析

针对下列图、表或文字回答问题。你应根据资料提供的信息进行分析、比较、计算、处理。你可以在题本上运算。

请开始答题：

一、根据以下资料，回答问题。

2003年国家财政科技拨款额达975.5亿元，比上年增加159.3亿元，增长19.5%，占国家财政支出的比重为4.0%。在国家财政科技拨款中，中央财政科技拨款为639.9亿元，比上年增长25.2%，占中央财政支出的比重为8.6%；地方财政科技拨款为335.6亿元，比上年增长10%，占地方财政支出的比重为1.9%。分执行部门看，各类企业科技活动经费支出为960.2亿元，比上年增长21.9%；国有独立核算的科研院所科技活动经费支出399.0亿元，比上年增长13.6%；高等学校科技活动经费支出162.3亿元，比上年增长24.4%，高等学校科技活动经费支出占全国总科技活动经费支出的比重为10.5%。各类企业科技活动经费支出占全国总科技活动经费支出的比重比上年提高了1.2个百分点。

116. 2003年国家财政支出总额为（ ）。

- A. 24387.5亿元
- B. 5002.6亿元
- C. 3979.6亿元
- D. 816.3亿元

117. 2003年中央财政支出与地方财政支出之比约为（ ）。

- A. 1: 6.87
- B. 6.87: 1
- C. 1: 2.37
- D. 2.37: 1

118. 与2002年相比，2003年科技活动经费支出绝对增长量最大的执行部门是（ ）。

- A. 各类企业
- B. 国有独立核算的科研院所
- C. 高等学校
- D. 无法得知

119. 2003年国家财政科技拨款额约占全国总科技活动经费支出的（ ）。

- A. 43.1%
- B. 63.1%
- C. 77.1%
- D. 83.1%

120. 根据文中画线部分内容，可以求出的选项为（ ）。[1] 2002年各类企业科技活动经费支出
[2] 2003年全国总科技活动经费支出 [3] 2002年全国总科技活动经费支出

- A. [1]
- B. [1]与[2]
- C. [2]与[3]
- D. [1]、[2]与[3]

二、根据以下资料，回答问题。

